



ក្រសួងអប់រំ យុវជន និងកីឡា

សៀវភៅណែនាំសម្រាប់គ្រូបង្រៀន

**ផែនការងារ**

**ថ្នាក់ទី ៧**



**ព្រះរាជាណាចក្រកម្ពុជា**  
**ជាតិ សាសនា ព្រះមហាក្សត្រ**

**ក្រសួងអប់រំ យុវជន និងកីឡា**

**លេខ: ៤៩៣ អយក.បប**

រាជធានីភ្នំពេញ ថ្ងៃទី ០១ ខែកុម្ភៈ ឆ្នាំ២០១៦

**ជម្រាបជូន**

**លោក លោកស្រីប្រធានមន្ទីរអប់រំ យុវជន និងកីឡារាជធានី ខេត្ត**

**កម្មវត្ថុ:** ការអនុញ្ញាតឱ្យប្រើប្រាស់សៀវភៅណែនាំសម្រាប់គ្រូបង្រៀនមុខវិជ្ជាគណិតវិទ្យា និងវិទ្យាសាស្ត្រ។

សេចក្តីដូចមានចែងក្នុងកម្មវត្ថុខាងលើ ខ្ញុំសូមជម្រាបលោក លោកស្រីថា ក្រសួងអនុញ្ញាតឱ្យប្រើប្រាស់សៀវភៅណែនាំសម្រាប់គ្រូបង្រៀនមុខវិជ្ជាគណិតវិទ្យា និងវិទ្យាសាស្ត្រថ្នាក់ទី៧ ទី៨ និងទី៩ ដើម្បីលើកកម្ពស់គុណភាព និងប្រសិទ្ធភាពនៃការបង្រៀននិងរៀននៅកម្រិតមធ្យមសិក្សាបឋមភូមិ។

ដើម្បីអនុវត្តខ្លឹមសារនេះប្រកបដោយប្រសិទ្ធភាព លោក លោកស្រីត្រូវយកចិត្តទុកដាក់ប្រើប្រាស់ឯកសារនេះក្នុងគោលបំណង៖

- ១- បណ្តុះបណ្តាលគុណសិស្សនៅតាមមជ្ឈមណ្ឌលគរុកោសល្យភូមិភាគ
- ២- បង្រៀនសិស្សានុសិស្សនៅតាមសាលាមធ្យមសិក្សាបឋមភូមិ
- ៣- ធ្វើវិក្រឹតការគ្រូមធ្យមសិក្សាបឋមភូមិដើម្បីមានសមត្ថភាពក្នុងការបង្រៀន។

ក្រសួងសង្ឃឹមថា លោក លោកស្រីនឹងខិតខំយកចិត្តទុកដាក់ និងប្រើប្រាស់ឯកសារនេះឱ្យអស់លទ្ធភាព ដើម្បីពង្រឹងគុណភាពនៃការបង្រៀន និងរៀន សំដៅប្រែក្លាយគ្រូបង្រៀន និង សិស្សានុសិស្សឱ្យក្លាយជាអ្នកបង្រៀនល្អ និងរៀនល្អ។

**រដ្ឋមន្ត្រីក្រសួងអប់រំ យុវជន និងកីឡា**




**ចម្លងជូន**

- សាលារាជធានី ខេត្ត "ដើម្បីសូមជ្រាបជាព័ត៌មាន "
- អង្គភាពពាក់ព័ន្ធក្រោមឱវាទក្រសួងអប់រំ យុវជន និងកីឡា " ដើម្បីជាព័ត៌មាន "
- មជ្ឈមណ្ឌលគរុកោសល្យភូមិភាគរាជធានី ខេត្ត " ដើម្បីអនុវត្ត "
- កាលប្បវត្តិ
- ឯកសារ: នាយកដ្ឋានបណ្តុះបណ្តាល និង វិក្រឹតការ

**បណ្ឌិត ហង់ ជួន ណារ៉ុន**

# មាតិកា

ល.រ	អត្ថបទ	ទំព័រ
1	សេចក្តីណែនាំ .....	i
2	មាតិកា .....	ii
3	គណៈកម្មការ .....	iii
4	ទ្រឹស្តីផ្លាកតិចតួនិច .....	1-11
5	បំណាច់ស្រុតនិងពំនើងផ្ទុត់.....	12-21
6	ភ្នំភ្លើង .....	22-32
7	រញ្ជួយដី .....	33-43
8	រ៉ែ និងផូស៊ីលឥន្ធនៈ: .....	44-54
9	សំណល់រឹង .....	55-64
10	ការបំពុលអាកាស .....	65-74
11	ការកើនកម្ដៅនៅលើផែនដី.....	75-87
12	ការខ្វះទឹកសាបទៅអនាគត.....	88-99

**គណៈកម្មការសម្របសម្រួល**

ឯកឧត្តមបណ្ឌិត ណាត ប៊ុនរៀន	រដ្ឋលេខាធិការ ក្រសួងអប់រំ យុវជន និងកីឡា
ឯកឧត្តម ពុត សាមិត្ត	អគ្គនាយកនៃអគ្គនាយកដ្ឋានអប់រំ
ឯកឧត្តម លីម សុផា	អគ្គនាយកនៃអគ្គនាយកដ្ឋានគោលនយោបាយ និងផែនការ
ឯកឧត្តមបណ្ឌិត សៀង សុវណ្ណា	នាយកវិទ្យាស្ថានជាតិអប់រំ
ឯកឧត្តម លាង សេងហាក់	ទីប្រឹក្សាក្រសួងអប់រំ យុវជន និងកីឡា
លោក លី សុទ្ធី	អគ្គនាយករងនៃអគ្គនាយកដ្ឋានរដ្ឋបាល និងហិរញ្ញវត្ថុ
លោក ង៉ោ ប៉េងឡុង	ប្រធាននាយកដ្ឋានបណ្តុះបណ្តាល និងវិក្រឹតការ
លោក អ៊ឹង ង៉ោហុក	ប្រធាននាយកដ្ឋានមធ្យមសិក្សាចំណេះទូទៅ
លោក អោ សៀម	ប្រធាននាយកដ្ឋានអភិវឌ្ឍកម្មវិធីសិក្សា

**គណៈកម្មការនិពន្ធ និងត្រួតពិនិត្យ**

លោក សុក វុទ្ធី	មន្ត្រីជំនាញនាយកដ្ឋានអភិវឌ្ឍកម្មវិធីសិក្សា
លោក ប៉េង ប៊ុនចន	មន្ត្រីជំនាញនាយកដ្ឋានបណ្តុះបណ្តាល និងវិក្រឹតការ
លោកស្រី ប៉េង ទិត្យសុទ្ធី	សាស្ត្រាចារ្យវិទ្យាស្ថានជាតិអប់រំ
សាស្ត្រាចារ្យ យ៉ា ស៊ីស៊ី សាកាគីបារ៉ា	អ្នកជំនាញការជំរុញនៃគម្រោង STEPSAM3

# មេរៀនទី 1

# ទ្រឹស្តីផ្លាកតិចតួនិច

## វត្ថុបំណង

បន្ទាប់ពីសិក្សាមេរៀននេះចប់ សិស្សនឹង ៖

- ប្រាប់បានពីនិយមន័យផ្លាកតិចតួនិច
- ពណ៌នាបានពីចលនាផ្លាកតិចតួនិច
- បង្ហាញពីប្រភេទទាំងបីនៃព្រំដែនផ្លាកតិចតួនិច។

## ផែនការមេរៀន

មេរៀននេះត្រូវបានបែងចែកសម្រាប់បង្រៀន និងរៀនរយៈពេល 4 ម៉ោង ដូចបង្ហាញក្នុងតារាង 1 ខាងក្រោម។

តារាង 1 បំណែងចែកម៉ោងបង្រៀន

ចំនួនម៉ោងសិក្សា	ចំណងជើងរងមេរៀន	ទំព័រក្នុងសៀវភៅសិក្សាគោល
1ម៉ោង	1. ទ្រឹស្តីថ្នាំបរសាត់	276
1ម៉ោង	2. ទ្រឹស្តីគម្លាតបាតមហាសមុទ្រ	277
1ម៉ោង	3. ទ្រឹស្តីផ្លាកតិចតួនិច 3.1. ផ្លាកលីតូស្ទីប្រែមណូលថ្ម 3.2. ចលនារបស់ផ្លាកតិចតួនិច	277-279
1ម៉ោង	3.3. ព្រំដែននៃផ្លាកតិចតួនិច 3.4. ការតាមដានចលនាផ្លាកតិចតួនិច មេរៀនសង្ខេប សំណួរ	279-281

## ការណែនាំការមេរៀន

តារាង 2 បង្ហាញពីផែនការបង្រៀន និងលទ្ធផលរងាយតម្លៃក្នុងម៉ោងសិក្សានីមួយៗ។ គ្រូគប្បីដឹកនាំសកម្មភាពទាំងអស់ និងវាយតម្លៃសិស្សដោយផ្អែកលើលក្ខណៈវិនិច្ឆ័យនៅក្នុងតារាង 2។ ដូចសកម្មភាពនៅក្នុងតារាង 2 សិស្សនឹងធ្វើសកម្មភាពផ្សេងៗអំពី ទ្រឹស្តីថ្នាំបរសាត់ ទ្រឹស្តីគម្លាតបាតមហាសមុទ្រ និងទ្រឹស្តីផ្លាកតិចតួនិច ដែលសកម្មភាពទាំងនេះនឹងជួយសិស្សអភិវឌ្ឍការយល់របស់ពួកគេអំពី ទ្រឹស្តីផ្លាកតិចតួនិច។ ទោះជាយ៉ាងណា គ្រូគប្បីប្រើទេពកោសល្យ ភាពទន់ភ្លន់ និងភាពបត់បែនរបស់ខ្លួន ដើម្បីច្នៃប្រឌិតទៅតាមកម្រិតយល់ដឹងរបស់សិស្ស និងស្ថានភាពជាក់ស្តែងរបស់ថ្នាក់រៀន ដើម្បីសម្របសម្រួលទៅតាមសកម្មភាពបង្រៀននិងរៀនដូចមាននៅក្នុងការណែនាំការបង្រៀននេះ។

តារាង 2 ផែនការបង្រៀន និងលទ្ធផលរងាយតម្លៃ

ម៉ោងសិក្សា	វត្ថុបំណង	សកម្មភាព	លទ្ធផលរងាយតម្លៃ
ទី 1	ពន្យល់ពីរបាយផ្លាក ចលនាផ្លាក និងរបៀបដែលចលនាផ្លាកបង្កើតឋានលេខវិទ្យាបាតមហាសមុទ្រ។	សិស្សក្រុមតូចពិភាក្សាសំណួរគន្លឹះរបស់គ្រូ តាមរយៈការប្រើប្រាស់ផែនទីរបាយភ្នំភ្លើង និងរញ្ជួយដីនៅលើពិភពលោក។	សិស្សអាចពន្យល់បានពី ៖ (1)របាយផ្លាកចលនាផ្លាក និង(2)របៀបដែលចលនាផ្លាកបង្កើតឋានលេខវិទ្យាបាតមហាសមុទ្រ។

ទី ២	ពន្យល់ពីរបៀបរកភស្តុតាងពាក់ព័ន្ធគ្នាចាត់សមុទ្រ និងរបៀបបែងចែកជ្រលងទ្រនុង និងកំពូលទ្រនុង។	សិស្សក្រុមតូចពិភាក្សាសំណួរគន្លឹះរបស់គ្រូតាមរយៈការប្រើប្រាស់រូបទី១អំពី ស្រទាប់ម៉ាញ៉េទិចនៅក្នុងសិលាសមុទ្របញ្ជាក់ពីទិសនៃដែនម៉ាញ៉េទិចពេលដែលសិលាករវឹង និងរកភាពខុសគ្នារវាង “ជ្រលងទ្រនុង” និង “កំពូលទ្រនុង”។	សិស្សអាចពន្យល់បានពី ៖ (1)របាយផ្លាក និង (2)ចលនាផ្លាក (3)របៀបដែលចលនាផ្លាកបង្កើតឋានលេខវិទ្យាបាតមហាសមុទ្រ។
ទី ៣	ពន្យល់ពីផ្លាកលីតូស៊ី ឬផ្លាកមណ្ឌលថ្ម និងចលនារបស់ផ្លាកតិចតួនិច។	សិស្សក្រុមតូចពិភាក្សាសំណួរគន្លឹះរបស់គ្រូតាមរយៈការប្រើប្រាស់រូបទី២ ៖ ផែនទីផ្លាកតិចតួនិចនិងការប្រៀបធៀបផ្លាកមណ្ឌលថ្មទៅនឹងរូបផ្តុំផ្លែឪឡឹក។	សិស្សអាចពន្យល់បានពី ៖ (1)ផ្លាកមណ្ឌលថ្ម និង(2) ចលនារបស់ផ្លាកមណ្ឌលថ្ម។
ទី ៤	ពន្យល់ពីប្រភេទព្រំដែនផ្លាកតិចតួនិច និងការតាមដានចលនាផ្លាកតិចតួនិច។	សិស្សក្រុមតូចពិភាក្សាសំណួរគន្លឹះរបស់គ្រូតាមរយៈការប្រើប្រាស់រូបទី៣ ៖ ចលនាផ្លាកតិចតួនិចរូបទី៤ ៖ ព្រំដែនផ្លាកតិចតួនិច និងរូបទី ៥ ៖ ព្រំដែនបែកចេញនិងព្រំដែនជ្រួស និងការធ្វើពិសោធន៍ផ្លាករាងកាយ និងតាមដានចលនារបស់ផ្លាករាងកាយ។	សិស្សអាចពន្យល់បានពី ៖ (1)ប្រភេទព្រំដែនផ្លាក និង (2)ការតាមដានចលនាផ្លាកតិចតួនិច។

**ចំណុចនៃការបង្រៀន**

ចំណុចនៃការបង្រៀនមេរៀននេះគឺដើម្បីឱ្យសិស្សអាចបង្ហាញ និងពន្យល់បានពីគោលការណ៍ និងបញ្ញត្តិមួយចំនួន ដូចជា ភស្តុតាងជាច្រើនបានបង្ហាញថាផែនដីគឺជាប្រព័ន្ធធរណីឌីណាមិកមួយដែលសំបករបស់វាធ្វើចលនាស្ទើរតែជានិច្ច។ ទ្រឹស្តីផ្លាកតិចតួនិចគឺជាឧទាហរណ៍ដ៏ប្រសើររបស់ផុតមួយនៃរបៀបគិតរបស់យើងអំពី ការប្រែប្រួលផែនដី ដូចជា ការបង្កើតឡើងនូវបកគំហើញថ្មីៗជាច្រើន។ ទ្រឹស្តីមុនៗដែលបង្កើតឡើងមិនអាចពន្យល់បានអំពីទ្វីបរសាត់ ភាពសមលំនឹង និងគម្លាតបាតមហាសមុទ្របានឡើយ ប៉ុន្តែទ្រឹស្តីផ្លាកតិចតួនិចមានសមត្ថភាពអាចពន្យល់បានពីការសង្កេតនានាដែលមិនអាចពន្យល់បានដោយទ្រឹស្តីមុនៗបាន។ ផ្នែកលើទ្រឹស្តីផ្លាកតិចតួនិច សំបកផែនដី ឬផ្លាកមណ្ឌលថ្មផ្សេងៗពីផ្លាកផ្សេងៗដែលស្ថិតនៅលើមណ្ឌលខាង ដែលអិលនិងធ្វើចលនាបុកគ្នា បែកចេញពីគ្នាឬអិលប៉ះគ្នាជាមួយនឹងផ្លាកមួយទៀត បង្កើតបានជាព្រំដែនរួមឬព្រំដែនជំនួបគ្នា ព្រំដែនបែកចេញឬព្រំដែនសំណង់ និងព្រំដែនជ្រួសគ្នា។ កម្ដៅនៅក្នុងផែនដីបានបញ្ចេញមកក្រៅក្នុងទម្រង់ជាចរន្តរង្វល់នៅក្នុងស្រទាប់ម៉ង់តូដែលធ្វើឱ្យផ្ទៃលើរបស់ផ្លាកមណ្ឌលថ្មមានភាពខុសគ្នា។ ព្រំដែនផ្លាក ជាកន្លែងដែលរញ្ជួយដីភ្នំភ្លើង និងជួរភ្នំភ្លើង ច្រើនកើតឡើង។ ផ្ទៃលើផែនដីមានច្រើនលក្ខណៈ ដូចជា កំពូលទ្រនុង ជ្រលងទ្រនុង ស្នាមភ្លោះ តំបន់ជំនួបគ្នា ធ្នូកោះ ជួរភ្នំពំនើងផ្នត់ ជួរភ្នំបំណាក់ស្រុត ជួរភ្នំភ្លើង ជួរកោះភ្នំភ្លើង គំរូម៉ាញ៉េទិច និងអាយុនៅក្នុងផ្ទៃលើសិលាមេ ដែលជាលទ្ធផលនៃកម្លាំង ចលនានិងអន្តរអំពើរវាងផ្លាកមណ្ឌលថ្ម។ ត្រង់ចំណុចទាំងអស់នេះគ្រូត្រូវនាំសិស្សធ្វើសកម្មភាពពិសោធន៍ និងគូរដ្យាក្រាមរបាយតំបន់ដែលមានរញ្ជួយដី និងបន្ទុះភ្នំភ្លើង កើតឡើង។

**ចំណេះដឹងមូលដ្ឋានសម្រាប់មេរៀននេះ**

មុនពេលចាប់ផ្តើមបង្រៀនខ្លឹមសារមេរៀនថ្មីក្នុងម៉ោងសិក្សានីមួយៗ គ្រូត្រូវសួរសិស្សដើម្បីពិនិត្យ និងរកមើលចំណេះដឹងមានស្រាប់ និងចំណេះដឹងមូលដ្ឋានរបស់សិស្ស ដូចជា ៖ (1)ភាពខុសគ្នារវាងឋានលេខវិទ្យាបាតសមុទ្រ ឋានលេខវិទ្យាដី និងព្រំដែនផ្លាកមណ្ឌលថ្មដែលបានសន្មត់ជាឋានលេខវិទ្យា ដូចជា ស្នាមភ្លោះ និងកំពូលទ្រនុង ក្នុងបាតសមុទ្រ ជាដើម (2)កំណើតភ្នំភ្លើង និងរញ្ជួយដីតាមបណ្តោយព្រំដែនផ្លាក (3)ការបង្កើតរបាយបាតមហាសមុទ្រដែលបានពន្យល់ដោយផ្លាកតិចតួនិច (4)កម្រាស់ផ្លាកមណ្ឌលថ្មដែលបានពន្យល់ពីចន្លោះល្បឿនធ្វើដំណើរនៃរលករញ្ជួយដី (5)ផ្ទៃលើរបស់ផែនដីដែលបានគ្របដណ្តប់ដោយផ្លាកមណ្ឌលថ្មជាច្រើន ដែលមានកម្រាស់ប្រហែល 100km ហើយផ្លាកទាំងនេះអិលពីលើមណ្ឌលខាង (6)កំណើតបាតភូតផែនដីវិទ្យានានា ដូចជា រញ្ជួយដី ភ្នំភ្លើង ជួរភ្នំ នៅជុំវិញព្រំដែនផ្លាកតិចតួនិច និងគំនិតផ្លាកតិចតួនិច និង(7)ព្រំដែនទាំងបីនៃផ្លាកតិចតួនិច ដូចជា ព្រំដែនបែកចេញពីគ្នា (ព្រំដែនសំណង់) ព្រំដែនរួម ឬ ព្រំដែនជំនួបគ្នា (ព្រំដែនបំផ្លាញ) ព្រំដែនជ្រួសគ្នា (ព្រំដែនបំផ្លាញ) ដែលបានចាត់ថ្នាក់ដោយផ្អែកលើចលនារបស់ផ្លាកតិចតួនិច។

បើមិនដូច្នោះទេសិស្សនឹងពិបាកសម្រេចបានវត្ថុបំណងមេរៀននេះ។



**វត្ថុបំណង**

សិស្សនឹងពន្យល់ពីរបាយផ្លាក ចលនាផ្លាក និងរបៀបដែល ចលនាផ្លាកបង្កើតមានលេខវិទ្យាបាតមហាសមុទ្រ។



**សកម្មភាព**

**សំណួរគន្លឹះ:** “តើជួរភ្នំធំៗ ដូចជាជួរភ្នំអាស់ ឬជួរភ្នំហិមាល័យ បានកើតឡើងរបៀបណា? តើអ្វីជាមូលហេតុ នៃរញ្ជួយដីនិងភ្នំភ្លើង?”

**សម្ភារៈ** ផែនទីរបាយផ្លាកភ្លើង និងរញ្ជួយដីនៅលើពិភពលោក ដំណើរការ

1. គ្រូចែកសិស្សជាក្រុមៗ
2. គ្រូចែករូប និងសម្ភារ ដើម្បីពិភាក្សាសំណួរគន្លឹះរបស់គ្រូ។
3. គ្រូក៏តប្បីលើកទឹកចិត្តសិស្សឱ្យគិត ពិភាក្សា សរសេរការ ពណ៌នាសង្ខេប និងបង្ហាញលទ្ធផលពិភាក្សារបស់ពួកគេ អំពី កំណើតជួរភ្នំធំៗនៅលើពិភពលោក ដូចជា ជួរភ្នំអាស់ និងជួរភ្នំហិមាល័យជាដើម និងមូលហេតុនៃរញ្ជួយដី និង ភ្នំភ្លើងដើម្បីពន្យល់។

**មេរៀន**

**1**

**ទ្រឹស្តីផ្លាកតិចតួនិច**

**ចប់មេរៀននេះ សិស្សអាច**

- ប្រាប់បានពីនិយមន័យផ្លាកតិចតួនិច
- ពណ៌នាបានពីចលនាផ្លាកតិចតួនិច
- បង្ហាញពីប្រភេទទាំងបីនៃព្រំដែនផ្លាកតិចតួនិច ។

នៅទសវត្សរ៍ឆ្នាំ 1700 ធរណីវិទូគិតថាទ្វីបទាំងឡាយគ្មានចលនា ហើយស្ថិតនៅចំទីតាំងដដែល ។ ប៉ុន្តែនៅដើមទសវត្សរ៍ឆ្នាំ 1900 អ្នកវិទ្យាសាស្ត្រម្នាក់បានគិតថាពិភពលោកទ្វីបទាំងអស់ស្ថិតនៅជាប់គ្នា ជាផ្ទាំងដីដ៏ធំមួយ ។

**1. ទ្រឹស្តីផ្លាកតិចតួនិច**

នៅឆ្នាំ 1910 អ្នកវិទ្យាសាស្ត្រជនជាតិអាឡឺម៉ង់ម្នាក់ឈ្មោះ អាស់ត្រីដវេសេនី (Alfred Wegener) បានចាប់អារម្មណ៍ចង់ដឹងអំពីទំនាក់ទំនងរវាងទ្វីបទាំងឡាយ ។ គាត់បានបង្កើតសម្មតិកម្មថាទ្វីបធ្វើ ចលនា ។ ទ្វីបទាំងអស់ស្ថិតនៅរួមគ្នាជាផ្ទាំងដីដ៏ធំមួយហៅថា ប៉ង់សៀ (Pangaea) ។ ប៉ង់សៀកើតឡើង ប្រហែល 300 លានឆ្នាំមុន ពេលនោះហើយគឺជាពេលដំបូងដែលលូន និងសត្វល្អិតមនុស្សបានកើត ឡើង ។ ក្រោយមកផ្ទាំងដីនេះក៏រំលាយខ្លួនចេញពីគ្នាបន្តិចបន្តួចៗរហូតក្លាយជាទ្វីបផ្សេងៗដូចច្រូប្រុន នេះ ។ គំនិតអំពីការរំលាយខ្លួននេះត្រូវបានគេស្គាល់ថាជាទ្រឹស្តីផ្លាកតិចតួនិច ។

លោក អាស់ត្រីដ វេសេនីបានប្រមូលភស្តុតាងមកពីតំបន់ និងកន្លែងផ្សេងៗគ្នាជាច្រើនដើម្បី គាំទ្រសម្មតិកម្មប៉ង់សៀដែលថាទ្វីបរំលាយខ្លួននោះ ។ គាត់បានសិក្សាពីសេសទៅលើលក្ខណៈដីស្មុស្មុល និងភស្តុតាងនៃការរំលាយខ្លួននោះ ។



**ចំណេះដឹងបន្ថែម ៖ ទ្រឹស្តីផ្លាកតិចតួនិច**

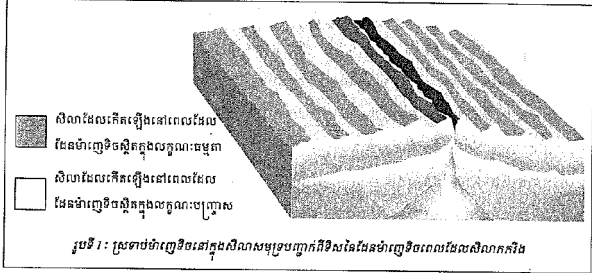
អ្នកវិទ្យាសាស្ត្រជនជាតិអាឡឺម៉ង់ម្នាក់ឈ្មោះ អាស់ត្រីដវេសេនី បានបង្ហាញអត្ថបទមួយដែលបានសរសេរថា មានទ្វីបដ៏ធំសម្បើម មួយឈ្មោះ “ប៉ង់សៀ” កាលពី 300លានឆ្នាំមុននៅលើផែនដី ហើយរបាយផ្លាកតិចតួនិចបានលេចរូបរាងឡើងបន្ទាប់ពីទ្វីបដ៏ធំសម្បើមនោះ បានបែកខ្ញែក ហើយផ្នែករបស់វាបានផ្លាស់ទី។ ប៉ុន្តែគ្មាននរណាម្នាក់បានគាំទ្រទ្រឹស្តីរបស់គាត់ឡើយ ពីព្រោះគាត់មិនបានពន្យល់ថាម្នាក់ ធ្វើឱ្យទ្វីបរំលាយខ្លួន។

ទ្រឹស្តីរបស់លោកអាស់ត្រីដវេសេនីត្រូវបានត្រួតពិនិត្យតាមដានឡើងវិញនៅពាសពេញពិភពលោកយ៉ាងឆាប់រហ័សក្នុងឆ្នាំ1960។ លទ្ធផលនៃការស្រាវជ្រាវអំពីម៉ាញ៉េទិចបុរាណបានគាំទ្រទ្រឹស្តីរបស់គាត់។ ទឹកកកស្រាវជ្រាវនោះបានប្រើប្រាស់លក្ខណៈដែលសិលានៅ លើផែនដីមានផ្ទុកម៉ាញ៉េទិចដោយសារមានដែនម៉ាញ៉េទិចមេដេកនៅត្រង់កន្លែងដែលវាកើតឡើង។

តាមរយៈការប្រៀបធៀបជាមួយនឹងផ្នត់ចលនាម៉ាញ៉េទិចដែលបានសន្មតថាមានប្រភពចេញពីសំណល់ម៉ាញ៉េទិចនៃសិលានៅក្នុង ទ្វីបអាមេរិចខាងជើងនិងទ្វីបអឺរ៉ុប ជាលទ្ធផលគេបានរកឃើញថាផ្នត់ពីរនៃទ្វីបទាំងពីរមានភាពត្រូវគ្នា នៅពេលដែលពួកវាស្ថិតនៅជិតគ្នា។ ដូច្នេះរូបកម្រិតហើញនេះបានបញ្ជាក់ថាផ្នត់មានវត្តមាននៃទ្វីបដ៏ធំសម្បើមមួយឈ្មោះប៉ង់សៀ។

2. ទ្រីស្ត្រីក្លាតូនីយ៉ាតសមុទ្រ

វេនេស៊ីយ៉ា ជំពូកទី ២ មេរៀនទី ១



លោក ហារី ហេស(Harry Hess) ជាអ្នកចរាចរវិទូជនជាតិអាមេរិកនៅឆ្នាំ 1960 បានសិក្សាពីទ្រនុងកណ្តាលមហាសមុទ្រ។ គាត់បានសិក្សាយ៉ាងយកចិត្តទុកដាក់លើប្រព័ន្ធទ្រនុងដែលដឹកណ្តាលមហាសមុទ្រនិងបញ្ជាទ្វីបរសាត់។ ទីបំផុត គាត់បានសន្និដ្ឋានទ្រីស្ត្រីប្រសាត់របស់លោក អាស់ប្រិក វ៉េសេនី ពិតជាត្រឹមត្រូវ។ គម្លាតបាតសមុទ្រចាប់ផ្តើមលើទ្រនុងកណ្តាលមហាសមុទ្រ មានស្ថានភាពដូចគ្នាដល់ប្រភេទចំរុះចុះនៅសមុទ្រ។ នៅតាមបណ្តោយទ្រនុងកណ្តាលមហាសមុទ្រនេះរូបភាពនៃស្រទាប់ព្រំទ្រ ៣ ទៅ ៤ គឺឡើយត្រូវបានប្រកាសផ្ទៃផែនដីដុះឡើងបានរុញច្រានសិលាចាស់ៗឱ្យមានចលនាចេញចេញពេលនោះសិលាថ្មីកើតឡើងជាបន្តបន្ទាប់មកចំពេញស្ថានភាពដូចគ្នានៅតាមទ្រនុងបណ្តោយបាតសមុទ្រ។

3. ទ្រីស្ត្រីក្លាតូនីយ៉ាតតូនីយ៉ា

ដោយយោងទៅលើទ្រីស្ត្រីប្រសាត់និងគម្លាតបាតសមុទ្រដែលបញ្ជាក់ថាទ្វីបធ្វើចលនា ដូច្នេះទើបមានទ្រីស្ត្រីមួយទៀតក្រវបានបង្កើតឡើង ដើម្បីពន្យល់ទាំងទ្វីបរសាត់ និងគម្លាតបាតមហាសមុទ្រនោះគឺ ទ្រីស្ត្រីក្លាតូនីយ៉ាត។

ទ្រីស្ត្រីក្លាតូនីយ៉ាត គឺជាទ្រីស្ត្រីដែលពន្យល់ថាមណ្ឌលផ្ទះរបស់កំពុងផែនដីបានប្រេះបែកជាផ្នែកតូចតូចយ៉ាងច្រើននិងធ្វើចលនាពីលើមណ្ឌលខាង។

**វត្តបំណង**  
សិស្សនឹងពន្យល់ពីរបៀបរកភស្តុតាងបញ្ជាក់ពីគម្លាតបាតសមុទ្រ និងរបៀបបែងចែកជ្រលងទ្រនុង និងកំពូលទ្រនុង។

**សកម្មភាព**  
**សំណួរគន្លឹះ:** “ចូររកភស្តុតាងបញ្ជាក់ថាទ្វីបកំពុងធ្វើចលនា។”  
“តើគេអាចរកឃើញថាទ្វីបបានធ្វើចលនាបានដោយរបៀបណា?”

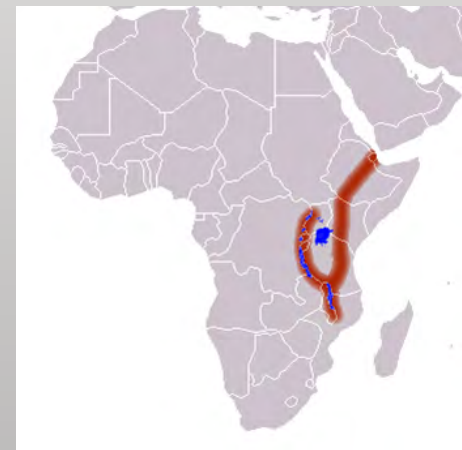
**សម្ភារ** រូបទី 1 (សៀវភៅសិក្សាគោលទំព័រទី 277)


**ដំណើរការ**

1. គ្រូចែកសិស្សជាក្រុមៗ
2. គ្រូចែករូប និងសម្ភារ ដើម្បីពិភាក្សាសំណួរគន្លឹះរបស់គ្រូ។
3. គ្រូក៏គប្បីលើកទឹកចិត្តសិស្សឱ្យគិត ពិភាក្សា សរសេរការព័ណ៌នាសង្ខេប និងបង្ហាញលទ្ធផលពិភាក្សារបស់ពួកគេអំពីភស្តុតាងនានាដែលបញ្ជាក់ថាទ្វីបកំពុងធ្វើចលនា និងរបៀបស្រាវជ្រាវរកឱ្យឃើញថាទ្វីបបានធ្វើចលនា ដើម្បីបង្ហាញ និងពន្យល់ទៅកាន់ថ្នាក់រៀនទាំងមូល។


**ចំណេះដឹងបន្ថែម ៖ ជ្រលងទ្រនុង (Rift Valley) និង កំពូលទ្រនុង (Ridge)**

ក្នុងមណ្ឌលខាង សិលាមានសភាពទន់ហើយក្តៅធ្វើចលនាចេញពីផ្នែកខាងក្រោមមណ្ឌលខាងឆ្ពោះមកផ្នែកខាងលើមណ្ឌលខាងដល់ចន្លោះមួយដែលធ្លាក់បែកចេញពីគ្នា។ បាតសមុទ្រថ្មីបានបង្កើតឡើង និងបានរីកចំរើននៅក្នុងចន្លោះដែលធ្លាក់មួយផ្លាស់ទីចេញទៅម្ខាងទៀត។ បាតសមុទ្រថ្មីមានសីតុណ្ហភាពខ្ពស់ (ក្តៅ) និងដង់ស៊ីតេទាប (រាវ) ដូចមណ្ឌលខាងដែរ។ ដូច្នេះ ការងើបឡើងមួយនៅក្នុងផ្នែកនៃដីបានកើតឡើង ដែលគេហៅផ្នែកនោះថា “កំពូលទ្រនុង”។ គេហៅព្រំដែនធ្លាក់បែកចេញពីគ្នាក្នុងសមុទ្រថា “កំពូលទ្រនុង” ហើយព្រំដែនធ្លាក់បែកចេញពីគ្នាលើទ្វីបថា “ជ្រលងទ្រនុង”។ នៅពេលកំពូលទ្រនុងលេចរូបរាងឡើងនៅលើផ្ទៃដី គេហៅថា “ជ្រលងទ្រនុង” វិញ។ គេឃើញមានជ្រលងទ្រនុងនានាបានលេចរូបរាងឡើងនៅក្នុងផ្នែកខាងកើតនៃទ្វីបអាហ្វ្រិច ដែលនឹងអាចបែកចេញជាទ្វីបអាហ្វ្រិចខាងកើតនិងទ្វីបអាហ្វ្រិចខាងលិច។ ធ្លាក់ថ្មីស្ទើរបានបង្កើតឡើងជាកំពូលទ្រនុងមួយនៅក្នុងជ្រលងទ្រនុង ហើយភ្នំភ្លើងបានស្ថិតនៅរាយប៉ាយនៅតាមបណ្តោយកណ្តាលជ្រលងទ្រនុង។



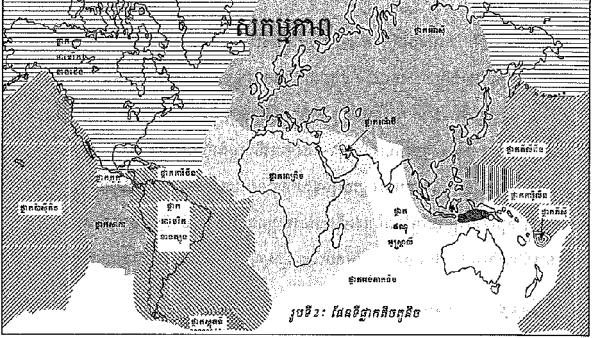


**វត្ថុបំណង**  
សិស្សនឹងពន្យល់ពីផ្នែកលើតួស្វ៊ែប្លូឡាមណូលថ្ម និងចលនារបស់ផ្នែកតិចតួនិច។




**សកម្មភាព**  
គ្រូ ៖ តើផ្នែកតិចតួនិចមានចំនួនប៉ុន្មាន?  
សិស្ស ៖ ឆ្លើយចម្លើយរៀងៗខ្លួន។  
សំណួរគន្លឹះ ៖ “យើងនាំគ្នាសិក្សាអំពីផ្នែកតិចតួនិច!”  
សម្ភារ រូបទី 2 ផែនទីផ្នែកតិចតួនិច  
ដំណើរការ  
1. គ្រូចែកសិស្សជាក្រុមៗ  
2. គ្រូចែករូប និងសម្ភារ ដើម្បីពិភាក្សាសំណួរគន្លឹះរបស់គ្រូ។  
3. គ្រូក៏គប្បីលើកទឹកចិត្តសិស្សឱ្យគិត ពិភាក្សា និងសរសេរការពណ៌នាសង្ខេប និងបង្ហាញលទ្ធផលពិភាក្សារបស់ពួកគេអំពី ផ្នែកតិចតួនិច ដោយផ្ដោតលើ ឈ្មោះផ្នែកតិចតួនិច ទីតាំងផ្នែកតិចតួនិច ចំនួនផ្នែកតិចតួនិច និងលក្ខណៈផ្នែកតិចតួនិច។

**3.1. ផ្នែកលើតួស្វ៊ែប្លូឡាមណូលថ្ម**  
ផែនដីយើងមានផ្នែកដែលរឹងជាងគេស្ថិតនៅខាងលើបំផុតគេឱ្យឈ្មោះថា មណូលថ្ម។ មណូលថ្មនេះកើតឡើងពីផ្នែកមួយចំនួនដែលមានស្រទាប់លើសនៃសំបកផែនដីស្ថិតនៅលើស្រទាប់ក្រាស់នៃសិលាគ្រាប់កំដៅ និង ជាទូទៅផ្នែកមានសំបកទ្វីបនិងមហាសមុទ្រ។  
ផ្នែកលើតួស្វ៊ែប្លូឡាមណូលថ្មសំខាន់ៗមាន 7 ត្រូវបានគេដាក់ឈ្មោះទៅតាមលក្ខណៈពិសេសនៃផ្ទៃរបស់វាផងដែរ។ ផ្នែកទាំងនោះរួមមាន ផ្នែកប៉ាស៊ីហ្វិកដែលមានផ្ទៃដីជាង 1/5 នៃផ្ទៃផែនដី ផ្នែកអាមេរិកខាងជើង អាមេរិកខាងត្បូង អឺរ៉ាស៊ី អាហ្វ្រិច ឥណ្ឌា អូស្ត្រាលី និងផ្នែកអង់តាក់ទិច។ ក្រៅពីនេះគេឃើញមានផ្នែកតូចជាច្រើនទៀតដូចជា ផ្នែកកាប៊ីប៊ីន តូតូ សាកា ស្តុតទី អារ៉ាប៊ី ភីលីពីន កាន់តូ និងភីស៊ី ... ។


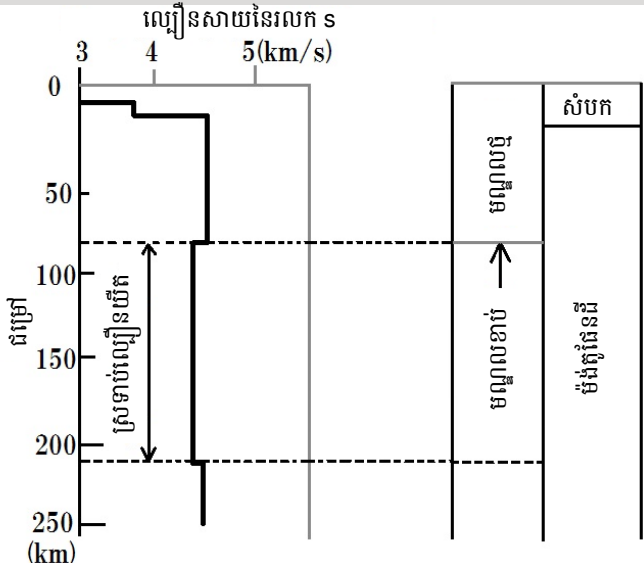


**3.2. ចលនារបស់ផ្នែកតិចតួនិច**  
រយៈកាលជាយូរមកហើយអ្នកវិទ្យាសាស្ត្របានស្រាវជ្រាវស្វែងយល់ពីប្រភពកម្លាំងទាំងឡាយដែលអាចធ្វើឱ្យផ្នែកចលនាបាន។ ពេលនេះពួកគេគិតថា មានចរន្តរង្វល់ដ៏ធំមួយនៅខាងក្នុងផែនដីដែលរុញផ្នែកឱ្យមានចលនា។  
ចរន្តរង្វល់ជាចលនារូបធាតុមណូលមកពីភាពខុសគ្នានៃសីតុណ្ហភាព។ រូបធាតុម៉ង់តូនីតិកស្នូលផែនដីមានកម្ដៅខ្លាំង។ ឯម៉ង់តូដែលនៅក្បែរមណូលថ្មកាន់តែចុះត្រជាក់ ធ្លាក់ចុះក្រោមទៅរក

278



**ចំណេះដឹងបន្ថែម ៖ តើយើងប្រៀបធៀបផែនដីជាមួយផ្លែឪឡឹកបាននៅពេលណា ?**  
ផ្នែកដែលបានហៅថាសំបកផ្លែឪឡឹកត្រូវបានចាត់ទុកថាជាសំបកពិតដែលមានពណ៌បៃតងជាមួយនឹងផ្នែករឹងពណ៌សនៃសាច់ផ្លែ។ ប្រសិនបើផ្លែឪឡឹកជាផែនដី នោះផ្នែករឹងពណ៌សនៃសាច់ផ្លែគឺជាម៉ង់តូខាងលើបំផុត ហើយសំបកពណ៌បៃតងគឺជាសំបកផែនដីដែលមានសីតុណ្ហភាពទាប។ នៅពេលនេះផ្នែកមណូលថ្មឬផ្នែកលើតួស្វ៊ែប្លូឡាមណូលថ្មនឹងសំបកនៃផ្លែឪឡឹកដែរ ដែលមានសំបកផែនដី និងម៉ង់តូខាងលើបំផុត។ ជាទូទៅ ល្បឿនកំពុងសាយនៃរលករញ្ជួយដីនៅក្នុងសិលាវិងធ្វើដំណើរលឿនជាងល្បឿនកំពុងសាយនៃរលករញ្ជួយដីនៅក្នុងសិលាទន់។ ល្បឿនកំពុងសាយនៃរលករញ្ជួយដីកាន់តែយឺតនៅក្នុងជម្រៅចន្លោះចាប់ពីប្រហែល 100 km រហូតដល់ប្រហែល 200km នៅពេលដែលយើងពិនិត្យទៅលើល្បឿននៃម៉ង់តូផ្នែកខាងលើក្រោមបាតសមុទ្រ។ ស្រទាប់នេះគឺជាស្រទាប់មណូលខាងលើ ហើយផ្នែករឹងស្ថិតនៅលើវាជាផ្នែកមណូលថ្ម។

ល្បឿនសាយនៃរលក s (km/s)

ជម្រៅ (km)

សំបក

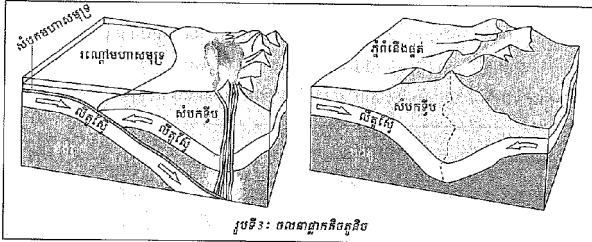
មណូលថ្ម

មណូលខាងលើ

ម៉ង់តូផែនដី

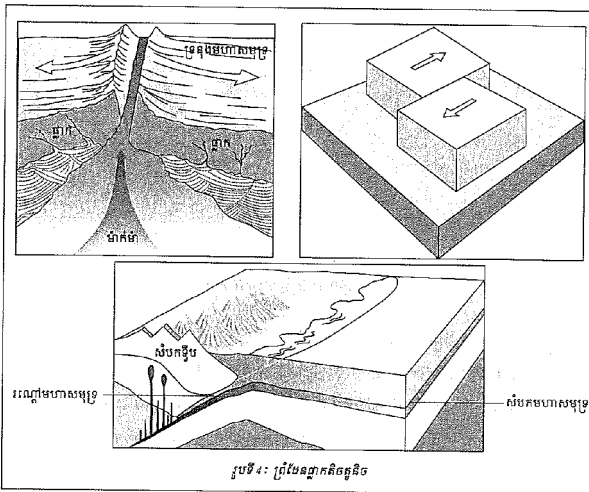
ស្រទាប់ល្បឿនយឺត

ស្នូលផែនដី ចំណែកម៉ុងតូដែលក្តៅដុះឡើងមកជំនួសម៉ុងតូគ្រប់ដាក់នោះវិញ។ ម៉ុងតូដែលគ្រប់ដាក់ធ្លាក់ចុះក្រោមដីត្រូវបានដុះឡើងវិញ ហើយអណ្តែតឡើងលើជាថ្មីម្តងទៀត។ រដ្ឋនៃការឡើងចុះរបស់ម៉ុងតូប្រព្រឹត្តទៅដល់យប់យប់។ ដោយសារចលនានេះបាននាំឱ្យផ្ទៃដីមូលដ្ឋានទៅជាមួយ ដើមឡើយឈ្មោះជាចលនារបស់ផ្ទៃដីតូតូច។



រូបទី១៖ ចលនាផ្ទៃដីតូតូច

១.១. ព្រំដែននៃផ្ទៃដីតូតូច



រូបទី២៖ ព្រំដែនផ្ទៃដីតូតូច

279



វត្ថុបំណង

សិស្សនឹងពន្យល់ពីប្រភេទព្រំដែនផ្ទៃដីតូតូច និងការតាមដានចលនាផ្ទៃដីតូតូច។



សកម្មភាព

គ្រូ ៖ បាតុភូតផែនដីវិទ្យា ដូចជា រញ្ជួយដីឬភ្នំភ្លើងបានបង្កឡើងនៅក្នុងផ្នែកព្រំដែនត្រង់កន្លែងដែលផ្ទៃដីភាគច្រើនអវិលប់៖ បូកកិតគ្នា។

សំណួរគន្លឹះ៖ “យើងនាំគ្នារកឱ្យឃើញពីរបៀបរញ្ជួយដី និងភ្នំភ្លើងកើតឡើង!”

សម្ភារ អេប៉ុងរាងការ៉េពីរជុំ

ដំណើរការ

1. គ្រូចែកសិស្សជាក្រុម និងចែកសម្ភារ ដើម្បីពិសោធនិងពិភាក្សាសំណួរគន្លឹះរបស់គ្រូ។
2. គ្រូនាំសិស្សព្យាយាមភ្ជាប់អេប៉ុងទាំងពីរ។
3. គ្រូនាំសិស្សស្វែងរកគំរូរបៀបធ្វើចលនារបស់អេប៉ុងទាំងពីរ។
4. គ្រូនាំសិស្សទស្សនាវិទ្យុយនីពីរបៀបធ្វើចលនារបស់ផ្ទៃដីតូតូចចេញពីលទ្ធផលដែលទទួលបាន។
5. បន្ទាប់ពីក្រុមនីមួយៗបានសរសេរការរកឱ្យឃើញពីរបៀបរញ្ជួយដី និងភ្នំភ្លើងកើតឡើង។
6. គ្រូលើកទឹកចិត្ត និងនាំសិស្សពន្យល់អំពីរបៀបរញ្ជួយដី និងភ្នំភ្លើងកើតឡើង ទៅកាន់ថ្នាក់រៀនទាំងមូល។



ចំណេះដឹងបន្ថែម ៖ ប្រភេទព្រំដែនផ្ទៃដី

ព្រំដែនផ្ទៃដីតូតូចត្រូវបានចាត់ថ្នាក់ជាបីប្រភេទដោយផ្អែកលើប្រភេទចលនារបស់ផ្ទៃដីទាំងពីរ។

1. ព្រំដែនបែកចេញពីគ្នាឬព្រំដែនសំណង់

ជ្រលងទ្រនុងនៅលើដី និងកំពូលទ្រនុងមហាសមុទ្រគឺជាព្រំដែនផ្ទៃដីដែលបែកចេញពីគ្នា។ ដោយសារសកម្មភាពភ្នំភ្លើងខ្លាំងនិងអាយុរបស់បាតសមុទ្រប្រហាក់ប្រហែលនឹងកំពូលទ្រនុងមហាសមុទ្រដែរ គេបានចាត់ទុកពួកវាថាជាកន្លែងដែលផ្ទៃដីចាប់កំណើតដែលនោះគឺជាកំពូលទ្រនុង។ ផ្ទៃដីកើតឡើងនៅក្នុងកំពូលទ្រនុងកណ្តាលមហាសមុទ្រអាត្លង់ទិច ហើយលាតសន្ធឹងរហូតដល់ខាងកើតនិងខាងលិចមហាសមុទ្រអាត្លង់ទិច។ យើងអាចសង្កេតព្រំដែនមួយបានដោយលាតសន្ធឹងចេញពីតំបន់ឆ្ងាយពីមាត់សមុទ្រនៅក្នុងតំបន់អាយលែនដែលជាកោះមួយស្ថិតនៅលើកំពូលទ្រនុងកណ្តាលមហាសមុទ្រអាត្លង់ទិច។

2. ព្រំដែនរួមឬព្រំដែនជំនួបគ្នា

ផ្នែកស្នាមភ្លោះមហាសមុទ្រនៃមហាសមុទ្រប៉ាស៊ីហ្វិកគឺជាព្រំដែន និងជាកន្លែងផ្ទៃដីតូតូចជួបគ្នា។ ផ្ទៃដីមួយអវិលធ្លាក់ចុះក្រោមផ្ទៃដីមួយទៀត។ រញ្ជួយដីបានកើតឡើងនៅតាមបណ្តោយផ្ទៃដីកំពុងអវិលធ្លាក់។ ភ្នំភ្លើងមួយមានសកម្មភាពនៅត្រង់តំបន់ភ្នំភ្លើងស្របគ្នានៅក្នុងស្នាមភ្លោះ។ ការបុកទង្គិចគ្នានៃផ្ទៃដីតូតូចបានបង្កើតឱ្យមានជួរភ្នំភ្លើងនៅក្នុងតំបន់ចាប់ពីជួរភ្នំហិម៉ាល័យកាត់តាមមជ្ឈិមបូព៌ារហូតដល់ជួរភ្នំអាណ៍។

3. ព្រំដែនជ្រួសគ្នា

វាកើតឡើងនៅពេលព្រំដែនផ្ទៃដីមួយអវិលប់បូកកិតផ្ទៃដីមួយទៀតតាមផ្ទៃដីដេក។ ករណីនេះហៅថា បំណាក់ស្រុតជ្រួសគ្នា។ បំណាក់ស្រុតសាំងអង់ដ្រេអាននៃឆ្នេរខាងលិចទ្វីបអាមេរិចខាងជើងត្រូវបានចាត់ទុកថាជាបំណាក់ស្រុតជ្រួសគ្នាដ៏ធំមួយ។



**សកម្មភាព**

គ្រូ ៖ ផ្ទៃផែនដីបានគ្របដណ្តប់ដោយបំណែកផ្លាក បួនប្រាំដែលមិនជ្រួសគ្នា។ ផ្លាកទាំងនេះធ្វើ ចលនាតាមផ្ទៃដីក ។

**សំណួរគន្លឹះ** ៖ “យើងនាំគ្នាស្ទង់ផ្លាករាងកាយ !”

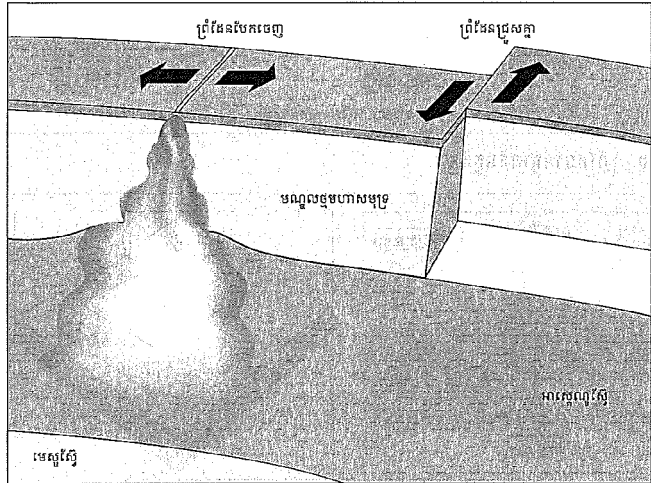
**សម្ភារ** ស្បែកខ្នងប្រអប់ដៃរបស់សិស្ស

**ដំណើរការ**

សូមលើកស្បែកខ្នងប្រអប់ដៃរបស់អ្នក ហើយរុញ វាឱ្យឈមគ្នាដើម្បីឱ្យមានស្នាមជ្រួញជាចន្លោះចង្កូរ មួយ ហើយធ្វើពិសោធចលនារបស់ស្នាមជ្រួញ (ផ្លាក)នោះ។ ប្រសិនបើភាពជ្រួញប៉ោងឡើងច្រើន នោះមានន័យថាវាបានកើតឡើង។ ប្រសិនបើភាព ជ្រួញផុតតចុះ នោះមានន័យថាស្នាមភ្លោះ ឬ ជ្រលងទ្រនុងបានកើតឡើង។

ផ្លាកតិចតួនិចទាំងអស់សុទ្ធតែមានព្រំដែនផ្សេងៗគ្នា ។ គេបានធ្វើការបែងចែកព្រំដែនជាបី ដោយផ្អែកលើរបៀបដែលផ្លាកធ្វើចលនា ។ បច្ចុប្បន្ន គេបានរកឃើញផ្លាកមានចំនួន 30 ។ ផ្លាកតិច តួនិចអាចបែកគ្នា ឃ្លាតចេញពីគ្នា ឬរអិលថ្មគ្នា ។ ចលនាឥតឈប់ឈររបស់ផ្លាកឱ្យមានភាពខុសគ្នានៃផ្ទៃ ដែនដីជាច្រើនដូចជា ជួរភ្នំ ស្នាមភ្លោះក្នុងមហាសមុទ្រ បំណាក់ស្រុត រញ្ជួយដី និងបន្ទុះភ្នំភ្លើង ។

- ព្រំដែនរុមរុមឬព្រំដែនជ័ន្តបត្តា ៖ នៅពេលផ្លាកតិចតួនិចពីរប្រកបទុក្ខិតគ្នាព្រំដែនដែលផ្លាកទាំងពីរ ជួបគ្នាហៅថា ព្រំដែនរុមរុម ឬព្រំដែនជ័ន្តបត្តា ។ អ្វីដែលកើតឡើងនៅព្រំដែនជ័ន្តបត្តា គឺផ្នែកទៅលើ សំបកដែនដីដែលផ្លាកតិចតួនិចនីមួយៗមាន សំបកទ្វីប ឬមហាសមុទ្រ ។ ព្រំដែនជ័ន្តបត្តាមានបី ប្រភេទគឺ ទ្វីបនិងទ្វីប ទ្វីបនិងមហាសមុទ្រ និងមហាសមុទ្រនិងមហាសមុទ្រ ។



រូបទី ៥ ៖ ព្រំដែនបែកចេញនិងព្រំដែនជ្រួសគ្នា

- ព្រំដែនបែកចេញពីគ្នា ឬព្រំដែនសំណង់  
នៅពេលផ្លាកតិចតួនិចពីរធ្វើចលនាចេញពីគ្នានោះព្រំដែនរវាងផ្លាកទាំងពីរហៅថា ព្រំដែន បែកចេញ ឬព្រំដែនសំណង់ ។ ព្រំដែនបែកចេញគឺជាកន្លែងដែលមណ្ឌលធុ មហាសមុទ្រថ្មីកើតឡើង ។ ទ្រនុងកណ្តាលមហាសមុទ្រគឺជាកន្លែងដែលព្រំដែនបែកចេញកើតឡើង ។ គេប្រទះឃើញព្រំដែន បែកចេញនៅលើទ្វីបផងដែរ ។



• ព្រំដែនជ្រួសគ្នា

នៅពេលផ្លាកតិចតួនិចពីររអិលចំនុះគ្នាតាមផ្ទៃដេកនោះ ព្រំដែនរវាងផ្លាកទាំងពីរនេះហៅថា ព្រំដែនជ្រួសគ្នា ។ បំណក់ស្រុត សាំងអង់ដ្រេអង់(San Andreas)នៅកាលីផ័រនី គឺជាឧទាហរណ៍មួយនៃ ព្រំដែនជ្រួសគ្នា ។ បំណក់ស្រុតនេះ គឺជាកន្លែងដែលផ្លាកប៉ាស៊ីហ្វិកនិងផ្លាកអាមេរិកខាងជើងរអិល ចំនុះគ្នា ។

៣.៤. ការតាមដានលទ្ធផលផ្លាកតិចតួនិច

ផ្លាកតិចតួនិចមានលទ្ធផលលឿនឬយឺតអាស្រ័យទៅលើកត្តាជាច្រើនដូចជា ប្រភេទផ្លាក រូបរាង និងអន្តរកម្មជាមួយផ្លាកតិចតួនិចផ្សេងទៀតដែលនៅជុំវិញវា ។ ជាទូទៅ ចលនាផ្លាកយីកណាស់ធ្វើឱ្យ យើងមិនអាចមើលឃើញ ឬមានអារម្មណ៍ថាផ្លាកធ្វើចលនាទេ ហើយល្បឿនរបស់វាក៏ត្រូវបានគេគិតជា សង់ទីម៉ែត្រក្នុងមួយឆ្នាំ ។

មេរៀនសង្ខេប

អ្នកវិទ្យាសាស្ត្រជនជាតិអាឡឺម៉ង់ម្នាក់ឈ្មោះ អាឡេហ្វវែដវេនឌឺរិ (Alfred Wegener) បាន ចាប់អារម្មណ៍ចង់ដឹងអំពីទំនាក់ទំនងរវាងទ្វីបទាំងឡាយ ។ នៅឆ្នាំ១៩១០ គាត់បានបង្កើតសម្មតិកម្ម ថា ទ្វីបធ្វើចលនា ។ ទ្វីបទាំងអស់ស្ថិតនៅរួមគ្នាជាប្លង់ដីដ៏ធំមួយហៅថា បង់សៀ (Pangea) ។ ក្រោយមកប្លង់ដីនេះ ក៏រាត់រាល់ចេញពីគ្នាបន្តិចម្តងៗរហូតក្លាយជាទ្វីបផ្សេងៗដូចបច្ចុប្បន្ន នេះ ។ គំនិតពីការរាត់រាល់ទ្វីបនេះនៅលើមណ្ឌលខាងលើនេះ ត្រូវបានគេស្គាល់យ៉ាងច្រើនថា ទ្រឹស្តី ទ្វីបរាត់រាល់ ។

យោងទៅលើទ្រឹស្តីទ្វីបរាត់រាល់និងគម្រោងទ្រឹស្តីប្រយោជន៍ ទ្វីបធ្វើចលនា ដូច្នេះ ហើយទើបមានទ្រឹស្តីមួយទៀតត្រូវបានបង្កើតឡើង ដើម្បីពន្យល់ទាំងទ្វីបរាត់រាល់និងគម្រោងទ្រឹស្តី មហាសមុទ្រនោះគឺ ទ្រឹស្តីផ្លាកតិចតួនិច ។ ទ្រឹស្តីផ្លាកតិចតួនិច គឺជាទ្រឹស្តីដែលពន្យល់ថាមណ្ឌល ច្របរបស់ពិភពលោកនេះប្រែប្រួលជាផ្លាកតិចតួនិចយ៉ាងច្រើននិងធ្វើចលនាពីលើមណ្ឌលខាងលើ ។

សំណួរ

1. តើអ្នកណាជាអ្នកបង្កើតទ្រឹស្តីទ្វីបរាត់រាល់ ?
2. ដូចម្តេចហៅថា បង់សៀ ?
3. តើអ្នកណាជាអ្នកបង្កើតទ្រឹស្តីគម្រោងទ្រឹស្តីមហាសមុទ្រ ?
4. ចុះឱ្យនិយមន័យផ្លាកតិចតួនិច ។
5. តើព្រំដែនផ្លាកតិចតួនិចមានប៉ុន្មានប្រភេទ ? អ្វីខ្លះ ?
6. តើផ្លាកតិចតួនិចធ្វើចលនាលឿន ឬយឺតអាស្រ័យដោយកត្តាអ្វីខ្លះ ?



ចម្លើយសំណួរ

1. អ្នកបង្កើតទ្រឹស្តីទ្វីបរាត់រាល់គឺ លោក អាឡេហ្វវែដវេនឌឺរិ ។
2. បង់សៀ គឺជាទ្វីបពីអតីតកាលដែលបច្ចុប្បន្ននេះត្រូវ បានចែកចេញជាទ្វីបប្រាំពីរ ។
3. អ្នកបង្កើតទ្រឹស្តីគម្រោងទ្រឹស្តីមហាសមុទ្រគឺ លោក ហារីហេស (Harry Hess) ។
4. ផ្លាកតិចតួនិច គឺជាផ្នែកដែលរឹងជាងគេស្ថិតនៅខាង លើបំផុត ធ្វើឡើងពីស្រទាប់ស្តើងនៃសំបកផែនដីស្ថិត នៅលើស្រទាប់ក្រាស់នៃសិលាត្រជាក់ រឹង និងធ្វើ ចលនានៅលើចរន្តរង្វល់នៃម៉ង់តូផែនដី ។
5. ព្រំដែនផ្លាកតិចតួនិចមាន ៣ ប្រភេទគឺ ៖ ព្រំដែនរួមគ្នា ឬព្រំដែនជ្រួសគ្នា ព្រំដែនបែកចេញពីគ្នា ឬព្រំដែន សំណង់ និងព្រំដែនជ្រួសគ្នា ។
6. ផ្លាកតិចតួនិចធ្វើចលនាលឿនឬយឺតអាស្រ័យលើ ៖ ប្រភេទផ្លាក ទ្រង់ទ្រាយផ្លាក អន្តរអំពើរវាងផ្លាក និង ទីតាំងរបស់ផ្លាក ។



ចំណេះដឹងបន្ថែម ៖ ទ្វីបបង់សៀ



## ចំណេះដឹងបន្ថែម


### ចំណេះដឹងបន្ថែម ៖ សកម្មភាពរបស់នាវាកូម៉ា ឆាលែនជឺ (The Glomar Challenger Ship)

ទ្រឹស្តីផ្លាកតិចតូនិចបានបង្ហាញឡើងដោយសកម្មភាពរបស់នាវាកូម៉ា ឆាលែនជឺ។ នាវាកូម៉ា ឆាលែនជឺគឺជានាវាសង្កេតការមួយដែលបានធ្វើសកម្មភាពស្រាវជ្រាវចាប់ពីទសវត្សរ៍ឆ្នាំ 1960 រហូតដល់ទសវត្សរ៍ឆ្នាំ 1980 ប៉ុន្តែវាជានាវារបស់ជនជាតិអង់គ្លេសដែលបានប្រើប្រាស់ដើម្បីសិក្សាអំពីមហាសមុទ្រជាលើកដំបូងបំផុតនៅក្នុងសតវត្សរ៍ទី 19។ នាវាកូម៉ា ឆាលែនជឺបានធ្វើដំណើរតាមសមុទ្រអស់រយៈពេលបីឆ្នាំកន្លះ។ អ្នកស្រាវជ្រាវបានបញ្ជាក់ច្បាស់ថាស្ថានភាពពិតនៃនាវាមិនត្រូវបានគេដឹងទាល់តែសោះ។ លទ្ធផលដែលបានពីការស្រាវជ្រាវបានចូលរួមចំណែកយ៉ាងច្រើនក្នុងការអភិវឌ្ឍន៍ផ្នែកសាគរវិទ្យាទំនើប។

ប្រតិបត្តិការនាវាបានដឹកនាំឡើងចាប់ពីឆ្នាំ 1872 រហូតដល់ឆ្នាំ 1876។ វាគឺជាយុគមាសឈានមុខផ្នែកបរទេសនៅក្នុងចក្រភពអង់គ្លេស និងជារដ្ឋកាលគ្រប់គ្រងដោយព្រះមហាក្សត្រី វិកតូរីយ៉ា។ នៅក្នុងពេលនោះ ការស្រាវជ្រាវអំពីមហាសមុទ្របានអភិវឌ្ឍឡើងដោយចក្រភពអង់គ្លេស។

ការសង្កេតការបានដឹកនាំឡើងសម្រាប់ការស្រាវជ្រាវមហាសមុទ្រ និងលទ្ធផលស្រាវជ្រាវបានសរុបឡើងជា "របាយការណ៍នាវាកូម៉ា ឆាលែនជឺ" ដែលបានចំណាយពេលអស់ 19 ឆ្នាំដើម្បីបោះពុម្ពផ្សព្វផ្សាយ។ លទ្ធផលនៃការស្រាវជ្រាវបានបង្ហាញផ្នែកទាក់ទងនានាដូចជា រូបវិទ្យា គីមីវិទ្យា កម្ទេចកំណសមុទ្រជ្រៅ រុក្ខជាតិ សត្វ ដែលសរុបទាំងអស់មាន 50 ភាគ មានកម្រាស់ 29 492 ទំព័រ មានរូបភាព 3046 សន្លឹក និងមានផែនទី 236 ផ្ទាំងសន្លឹក។ វាគឺជាលទ្ធផលត្រឹមត្រូវដ៏អស្ចារ្យដែលបានឆ្លើយតបនឹងចំណុចចាប់ផ្តើមនៃផ្នែកសាគរវិទ្យាទំនើប។

ទ្រឹស្តីផ្លាកតិចតូនិចបានអភិវឌ្ឍយ៉ាងសម្បើមដោយការសិក្សាពីសមុទ្រ។



នាវាកូម៉ា ឆាលែនជឺ

ប្រភព ៖ Integrated Ocean Drilling Program, Texas A&M University





## មេរៀនទី 2

## បំណាក់ស្រុតនិងពំនើងផ្គត់

### វត្ថុបំណង

បន្ទាប់ពីសិក្សាមេរៀននេះចប់ សិស្សនឹង ៖

- ប្រាប់បានពីកម្លាំងទាំងបីដែលមានឥទ្ធិពលទៅលើបំណាក់ស្រុត និងពំនើងផ្គត់
- បង្ហាញពីប្រភេទធំៗនៃបំណាក់ស្រុត និងពំនើងផ្គត់
- កំណត់បានទីតាំងធំៗនៃបំណាក់ស្រុត និងពំនើងផ្គត់។

### ផែនការមេរៀន

មេរៀននេះត្រូវបានបែងចែកសម្រាប់បង្រៀន និងរៀនរយៈពេល 3 ម៉ោង ដូចបង្ហាញក្នុងតារាង 1 ខាងក្រោម។

តារាង 1 បំណងចែកម៉ោងបង្រៀន

ចំនួនម៉ោងសិក្សា	ចំណងជើងរងមេរៀន	ទំព័រក្នុងសៀវភៅសិក្សាគោល
1ម៉ោង	1. កម្លាំង 2. បំណាក់ស្រុត	282 – 283
1ម៉ោង	3. ពំនើងផ្គត់	283 – 284
1ម៉ោង	3.1 ប្រភេទពំនើងផ្គត់ មេរៀនសង្ខេប សំណួរ	284 – 285

### ការណែនាំការមេរៀន

តារាង 2 បង្ហាញពីផែនការបង្រៀន និងលទ្ធផលរង្វាយតម្លៃក្នុងម៉ោងសិក្សានីមួយៗ។ គ្រូគប្បីដឹកនាំសកម្មភាពទាំងអស់ និងវាយតម្លៃសិស្សដោយផ្អែកលើលក្ខណៈវិនិច្ឆ័យនៅក្នុងតារាង 2។ ដូចសកម្មភាពនៅក្នុងតារាង 2 សិស្សនឹងធ្វើសកម្មភាពផ្សេងៗអំពី ការប្រមូល និងបកស្រាយព័ត៌មានអំពី បំណាក់ស្រុត និងពំនើងផ្គត់ ដែលសកម្មភាពទាំងនេះនឹងជួយសិស្សអភិវឌ្ឍការយល់របស់ពួកគេអំពី ទម្រង់នៃបំណាក់ស្រុត និងពំនើងផ្គត់។ ទោះជាយ៉ាងណា គ្រូគប្បីប្រើទេពកោសល្យ ភាពទន់ភ្លន់ និងភាពបត់បែនរបស់ខ្លួន ដើម្បីច្នៃប្រឌិតទៅតាមកម្រិតយល់ដឹងរបស់សិស្ស និងស្ថានភាពជាក់ស្តែងរបស់ថ្នាក់រៀន ដើម្បីសម្របសម្រួលទៅតាមសកម្មភាពបង្រៀននិងរៀនដូចមាននៅក្នុងការណែនាំការបង្រៀននេះ។

តារាង 2 ផែនការបង្រៀន និងលទ្ធផលរង្វាយតម្លៃ

ម៉ោងសិក្សា	វត្ថុបំណង	សកម្មភាព	លទ្ធផលរង្វាយតម្លៃ
ទី 1	ពណ៌នាពីកម្លាំងនិងបំណាក់ស្រុត។	សិស្សរៀបរាប់ពីរបៀបកម្លាំងធ្វើសកម្មភាពលើស្រទាប់សិលា និងគូរទម្រង់នៃបំណាក់ស្រុត។	សិស្សអាចពន្យល់ពីកម្លាំងមកលើស្រទាប់សិលា និងកំណត់ទម្រង់បំណាក់ស្រុត។
ទី 2	ពណ៌នាពីពំនើងផ្គត់។	សិស្សបង្កើតសម្មតិកម្មអំពីទំនាក់ទំនងរវាងបំណាក់ស្រុត និងពំនើងផ្គត់ និងកម្លាំង និងធ្វើពិសោធដោយប្រើប្រាស់គំរូបំណាក់ស្រុត និងពំនើងផ្គត់ដែលផ្សំឡើងពីចម្លី៖ឫស្សីលាបពណ៌។	សិស្សអាចភ្ជាប់ពិសោធន៍ជាមួយនឹងបាតុភូតនៃបំណាក់ស្រុត និងពំនើងផ្គត់។
ទី 3	ពន្យល់ពីប្រភេទពំនើងផ្គត់។	សិស្សពន្យល់ពីរបាយនៃភ្នំល្បីល្បាញនានា ដែលបានកើតឡើងដោយសារពំនើងផ្គត់នៅលើពិភពលោក។	សិស្សអាចពន្យល់ថាភ្នំបានកើតឡើងដោយសារពំនើងផ្គត់នៅលើពិភពលោក។

**ចំណុចនៃការបង្រៀន**

ចំណុចនៃការបង្រៀនមេរៀននេះគឺដើម្បីឱ្យសិស្សអាចធ្វើពិសោធន៍រូបិយប័ណ្ណស្រុកនិងពំនើងផ្គត់។ ដូច្នោះគ្រូត្រូវបង្ហាញឱ្យសិស្សរកឱ្យឃើញថាកំណត់ណែនាំបំណាច់ស្រុក និងពំនើងផ្គត់ បានកើតឡើងដោយសារកំហុចទ្រង់ទ្រាយ ការប៉ោង ការផតចុះ និងការកាត់ផ្តាច់នៃស្រទាប់ (សិលាមេ)។

**ចំណេះដឹងមូលដ្ឋានសម្រាប់មេរៀននេះ**

មុនពេលចាប់ផ្តើមបង្រៀនខ្លឹមសារមេរៀនថ្មីក្នុងម៉ោងសិក្សានីមួយៗ គ្រូត្រូវសួរសិស្សដើម្បីពិនិត្យចំណេះដឹងមានស្រាប់របស់ពួកគេ ដើម្បីរកមើលចំណេះដឹងមូលដ្ឋានរបស់សិស្ស ដូចជា ដីបានរីកធំឡើងដោយការបង្កើតស្រទាប់ដែលផ្សំឡើងពីសិលាក្តាំង ភក់ ខ្សាច់ ផេះភ្នំភ្លើង និងសិលា និងដីបានខូចទ្រង់ទ្រាយដោយសារបន្ទុះភ្នំភ្លើងនិងរញ្ជួយដី។ បើមិនដូច្នោះទេសិស្សនឹងពិបាកសម្រេចបានវត្ថុបំណងមេរៀននេះ។



### វត្ថុបំណង

សិស្សនឹងពណ៌នាពីកម្លាំង និងបំណាក់ស្រុត។



### សកម្មភាព

គ្រូ៖ តើប្អូនធ្លាប់គរសៀវភៅដែរឬទេ?

សិស្ស៖ សិស្សឆ្លើយចម្លើយផ្សេងៗ។

គ្រូ៖ តើប្អូនបានសង្កេតឃើញអ្វីពីគំនរសៀវភៅនោះ?

សិស្ស៖ សៀវភៅគរជាស្រទាប់ៗលើគ្នា មានចាស់ មានថ្មី។

គ្រូ៖ តើស្រទាប់សិលាកើតឡើងយ៉ាងដូចម្តេច?

សិស្ស៖ ស្រទាប់សិលាកើតឡើងដោយសារកម្លាំង ដូចជា ថ្មក្តាំង ភក់ ខ្សាច់ ជាដើម...ដែលគរនៅបាតបឹង ឬ សមុទ្រ។ ភាគច្រើននៃស្រទាប់សិលាបានគរលើគ្នាជា ស្រទាប់ផ្នែកនៃសំបកផែនដី។

**សំណួរគន្លឹះ:** “ហេតុអ្វីបានជាសំបកផែនដីបានប្រែប្រួលទៅជា ខូចទ្រង់ទ្រាយ ដូចជា ជ្រួញ លយចេញ ឬទង្គិច គ្នាដោយសារបំណាក់ស្រុតនៅក្នុងផ្នែករង ឥទ្ធិពល?”

**សម្ភារ** រូបទី 1 (ទំព័រទី 282) និងរូបថតបំណាក់ស្រុត (សៀវភៅណែនាំគ្រូ)

#### ដំណើរការ

1. គ្រូចែកសិស្សជាក្រុមតូច និងចែកសម្ភារឱ្យក្រុមសិស្ស
2. គ្រូគប្បីលើកទឹកចិត្តសិស្សឱ្យសង្កេត និង ៖
  - រៀបរាប់ពីរបៀបកម្លាំងធ្វើសកម្មភាពលើស្រទាប់សិលា
  - គួរទម្រង់នៃបំណាក់ស្រុតរបស់ពួកគេដាក់ក្នុងសៀវភៅកំណត់ត្រា។
3. គ្រូក៏គប្បីលើកទឹកចិត្តសិស្សឱ្យប្រាប់ និងពន្យល់ពីអ្វីដែលពួកគេបានធ្វើនៅក្នុងដំណើរការទី 2។

### មេរៀន

## 2

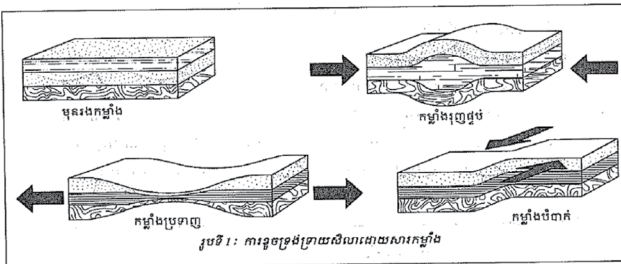
### បំណាក់ស្រុតនិងពំនើងផ្នត់

#### ចប់មេរៀននេះ សិស្សអាច

- ប្រាប់បានពីកម្លាំងទាំងបីដែលមានឥទ្ធិពលទៅលើបំណាក់ស្រុត និងពំនើងផ្នត់
- បង្ហាញពីប្រភេទទំនាក់ទំនងនៃបំណាក់ស្រុត និងពំនើងផ្នត់
- កំណត់បានពីទីតាំងទំនាក់ទំនងនៃបំណាក់ស្រុត និងពំនើងផ្នត់។

តាមការសិក្សាពីរបៀបនេះ យើងបានដឹងថា សណ្ឋានដីទទួលបាននូវកម្លាំងជាច្រើនប្រភេទដែលទាំងឡាយមានជា កម្លាំងរុញផ្ទុះ និងរុញច្រាន។ តាមការសង្កេតលើសិលាដែលជាសំបកផែនដី ផែនដីមានរាង ទំហំ ទិស និង រយៈកម្ពស់ខុសៗគ្នា។

#### 1. កម្លាំង



សិលាសំបកផែនដីអាចខូចទ្រង់ទ្រាយដោយសារកម្លាំង។ អ្នកវិទ្យាសាស្ត្របានទទួលស្គាល់ថា មានកម្លាំងបីប្រភេទផ្សេងគ្នាដែលធ្វើឱ្យសិលាខូចទ្រង់ទ្រាយគឺ កម្លាំងរុញផ្ទុះ កម្លាំងប្រទាញ និងកម្លាំងចំបាក់។

282



#### សេចក្តីពន្យល់ ៖ កម្លាំងនិងបំណាក់ស្រុត

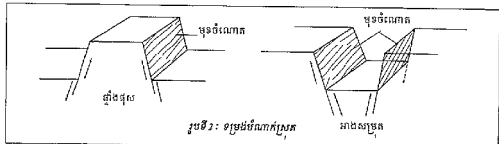
ប្រសិនបើសិលាមេរងកម្លាំងរុញផ្ទុះ (សម្ពាធ) វានឹងប៉ោងឡើង។ សម្ពាធកាន់តែធំរហូតដល់ចំណុចកំណត់មួយវានឹងធ្វើឱ្យសិលាមេរងការបំផ្លាញ។ នៅពេលនោះថាមពលបានសាយភាយបណ្តាលឱ្យមានរញ្ជួយដី។ កន្លែងដែលសិលាមេបាក់ ហៅថា បំណាក់ស្រុត (fault)។ ជាញឹកញាប់ រញ្ជួយដីកើតឡើងនៅព្រំដែនផ្លាកមណ្ឌលថ្ម ដោយសារការប៉ោងឡើងនៅកណ្តាលផ្លាក។ ដូច្នេះ រញ្ជួយដីកើតឡើងកាន់តែធំ ធ្វើឱ្យគម្លាតបំណាក់ស្រុតក៏កាន់តែធំផងដែរ។



បំណាក់ស្រុតនៅខេត្តណាកាណុ ប្រទេសជប៉ុន (រូបថត : Y. Takeshita)

ស្រទាប់សិលាអាចសង្កត់បញ្ជូនគ្នាបានដោយសារកម្លាំងរុញជ្រុល។ នៅពេលដែលសិលាទទួលបានកម្លាំងរុញជ្រុល វានឹងបែកបាក់ ឬដកចុះ។ ស្រទាប់សិលាខ្លះទៀតក៏បានទទួលរងនូវកម្លាំងប្រឡាញចេញពីគ្នាដែរ។ ពេលនោះ ស្រទាប់សិលាអាចមានរាងស្រទាប់ស្រទាប់ និងរីកសងខាង។ រីឯកម្លាំងបំបាក់វិញបានធ្វើឱ្យស្រទាប់សិលាប្រែក្លាយជាដី ដោយផ្អែកទៅតាមទិសបណ្តោយផ្សេងពីគ្នា។ កម្លាំងទាំងនេះធ្វើឱ្យស្រទាប់សិលាប្តូរទ្រង់ទ្រាយ និងមាតិកា។ ទាំងនេះ វាជាមូលហេតុធ្វើឱ្យសិលាប្រែស្រមៃ ឬបាក់បែកចេញពីគ្នា។

**2. បំណាក់ស្រុត**

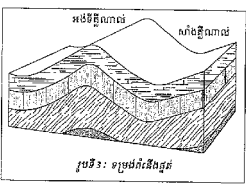


ការពឹងលើទ្រទ្រង់អាចធ្វើឱ្យវារឹង ឬផ្តុំបានទេ ប៉ុន្តែនៅពេលទទួលបានកម្លាំងប្រឡាញ ឬកម្លាំងរុញជ្រុល ពេលនោះវាបែកបាក់ចេញពីគ្នាជាផ្នែកៗទទួលបានដោយបំណាក់ស្រុត។ បំណាក់ស្រុត គឺជាបំណាក់ដែលបែកបាក់ទៅតាមទិសដាច់គ្នា។ នៅសងខាងបំណាក់នេះ ជាដីដែលនៅដាច់គ្នាពីមុនស្រាប់តែមានមុនឡើង ម្ខាងស្រុតចុះច្រោម បណ្តាលឱ្យកើតកម្លាំងរុញជ្រុលនៅលើសណ្ឋានដីដែលគេហៅថា មុខចំណែក។ បំណាក់ស្រុតធ្វើឱ្យមានទ្រង់ទ្រាយស្រុត។ ជាទូទៅ បំណាក់ស្រុតបង្កើតឱ្យមានសណ្ឋានដីរាងក្រវាញ ឬជាជ្រុង ហើយមានកម្លាំងរុញជ្រុលទៅក្នុងមួយទៅក្នុងមួយទៀត។

ឧទាហរណ៍ : សណ្ឋានដីនៅតំបន់ជួរភ្នំខ្ពស់នៃភ្នំប្រទេសកម្ពុជាយើងកើតឡើងពីបំណាក់ស្រុតនៃបឹងទន្លេសាប។

**3. ព័រនីចន្ត**

ពេលខ្លះកម្លាំងអាចធ្វើឱ្យឆ្នាំងសិលាដែលជាសំបកផែនដីរាងចំនុះអាចបាក់បែកបាន ឡើយឆ្នាំងនោះឱ្យឈ្លោះហៅថា ព័រនីចន្ត។ ព័រនីចន្តមានពីរផ្នែកគឺ អង្គីភ្នំណាស់ និងសិប្បីណាស់។



**វត្ថុបំណង**  
សិស្សនឹងពណ៌នាពីពំនើងផ្នត់។

**សកម្មភាពពិសោធ**

- គ្រូ : តើស្រទាប់សិលាគេលើគ្នាបានដោយរបៀបណា?  
សិស្ស : ស្រទាប់សិលាអាចគេលើគ្នាជាស្រទាប់ផ្តុំគ្នា។
- គ្រូ : (គ្រូបង្ហាញរូបថតពំនើងផ្នត់) ចូរអ្នកធ្លាស់ប្តូរយោបល់គ្នាអំពីអ្វីដែលអ្នកបានរកឃើញពីរូបថតនេះជាមួយការរកឃើញនៃមិត្តរបស់អ្នក។
- សិស្ស : ស្រទាប់សិលាកំពុងបត់។
- គ្រូ : ហេតុអ្វីបានជាស្រទាប់សិលាបត់? ចូរយើងនាំគ្នាធ្វើពិសោធន៍ទាំងអស់គ្នា!
- សំណួរគន្លឹះ:** “តើបំណាក់ស្រុត ពំនើងផ្នត់និងកម្លាំងទំនាក់ទំនងគ្នាដូចម្តេចខ្លះ?”
- សម្ភារ** ចង្កឹះឬស្រ្តីលាបពណ៌បាតខាងគល់ 100ដើម ឬច្រើនជាងដំណើរការ
1. គ្រូចែកសិស្សជាក្រុមតូច និងចែកសម្ភារឱ្យសិស្សតាមក្រុម។
  2. គ្រូគប្បីលើកទឹកចិត្តសិស្សឱ្យ :
    - បង្កើតសម្មតិកម្មអំពីទំនាក់ទំនងរវាងបំណាក់ស្រុត ពំនើងផ្នត់ និងកម្លាំង។
    - ពិសោធដោយប្រើប្រាស់គំរូបំណាក់ស្រុត និងពំនើងផ្នត់ដែលផ្សំឡើងពីចង្កឹះឬស្រ្តីលាបពណ៌ ដើម្បីពន្យល់ពីទំនាក់ទំនងរវាងបំណាក់ស្រុត ពំនើងផ្នត់ និងកម្លាំង ។
  3. គ្រូគប្បីលើកទឹកចិត្តសិស្សឱ្យប្រាប់ពីអ្វីដែលក្រុមនីមួយៗបានបង្កើតសម្មតិកម្ម និងពិសោធពន្យល់ពីទំនាក់ទំនងរវាងបំណាក់ស្រុត ពំនើងផ្នត់ និងកម្លាំង។



**សេចក្តីពន្យល់ : ពំនើងផ្នត់**

ផែនដីបានចាប់កំណើតប្រមាណ 4 600លានឆ្នាំមកហើយ ហើយវាបានផ្លាស់ប្តូររាងរៅបន្តិចម្តងៗ។ តើគេអាចបញ្ជាក់ឱ្យច្បាស់លាស់ពីប្រវត្តិផែនដីបានដោយរបៀបណា? វាគឺជាការស្វែងរកដាននានាដែលបានបន្ទុយទុកនៅក្នុងសិលា និងស្រទាប់សិលា ដើម្បីដឹងពីព្រឹត្តិការណ៍នានាបានកើតឡើងនៅអតីតកាលដោយគ្មានការកត់ត្រាជាលាយលក្ខណ៍អក្សរ។ វត្តមាននៃសិលាម៉ាកម៉ាបានបង្ហាញពីសកម្មភាពនៃម៉ាកម៉ាអតីតកាល ហើយពំនើងផ្នត់នៃស្រទាប់សិលាគឺជាកស្តុតាងនៃកម្លាំងដ៏ធំអស្ចារ្យដែលមានអំពើមកលើសំបកផែនដី។



រូបភាពផ្តល់ដោយ : Susami commerce  
ខេត្តវ៉ាយ៉ាម៉ា ប្រទេស ជប៉ុន

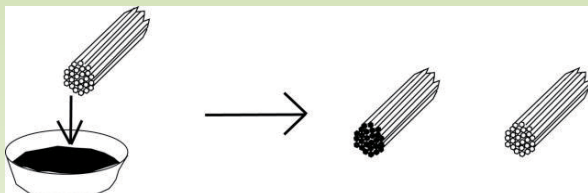
**វត្ថុបំណង**  
សិស្សនឹងពន្យល់ពីប្រភេទពំនើងផ្គត់។

**សកម្មភាពពិសោធន៍**

**ការរៀបចំ**  
ចង្កឹះឬស្សី ទឹកថ្នាំពណ៌ ក្តារបន្ទះ ប្រអប់ប្លាស្ទិចថ្លាវាងជ្រុង

**ដំណើរការ**

1. ជ្រលក់ពណ៌បាតគល់ចង្កឹះ 300ដើមទៅក្នុងទឹកថ្នាំពណ៌ ហើយហាលពួកវាអោយស្ងួត។



2. គរចង្កឹះជ្រលក់ពណ៌ និងចង្កឹះធម្មតាស្លាស់គ្នារៀងរាល់ 5-6 ស្រទាប់ដាក់ក្នុងប្រអប់ប្លាស្ទិចថ្លាវាងជ្រុងបង្ហាញក្នុងរូបខាងក្រោម (កម្រាស់ស្រទាប់ចង្កឹះគឺប្រហែល 5-10mm)។

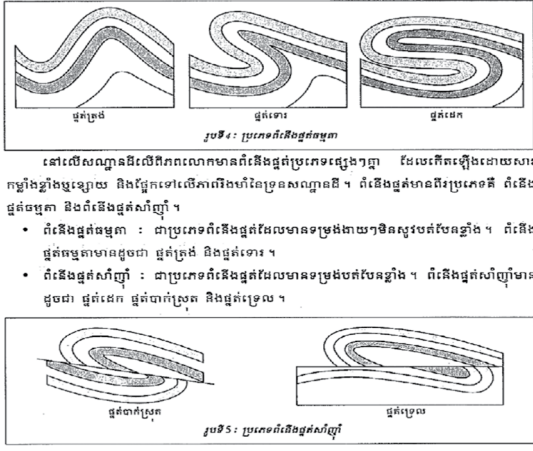


3. រុញក្តារបន្ទះផ្ទប់ពីម្ខាងនឹងស្រទាប់ចង្កឹះក្នុងល្បឿនថេរ ល្បឿនលឿនជាងមុន និងបន្ថយល្បឿនរុញផ្ទប់។ ចូរអ្នកសង្កេតស្រទាប់ចង្កឹះកំពុងប្រែប្រួលទម្រង់។
4. ចូរគិតពីមូលហេតុនាំឱ្យពំនើងផ្គត់កើតឡើង។

**ចំណាំ** ៖ ក្រៅពីចង្កឹះឬស្សី អ្នកអាចបង្កើតស្រទាប់សិលាផ្សំពីកាកាវ និងម្សៅអង្ករបាន (ដូចបង្ហាញក្នុងរូបខាងក្រោម)។

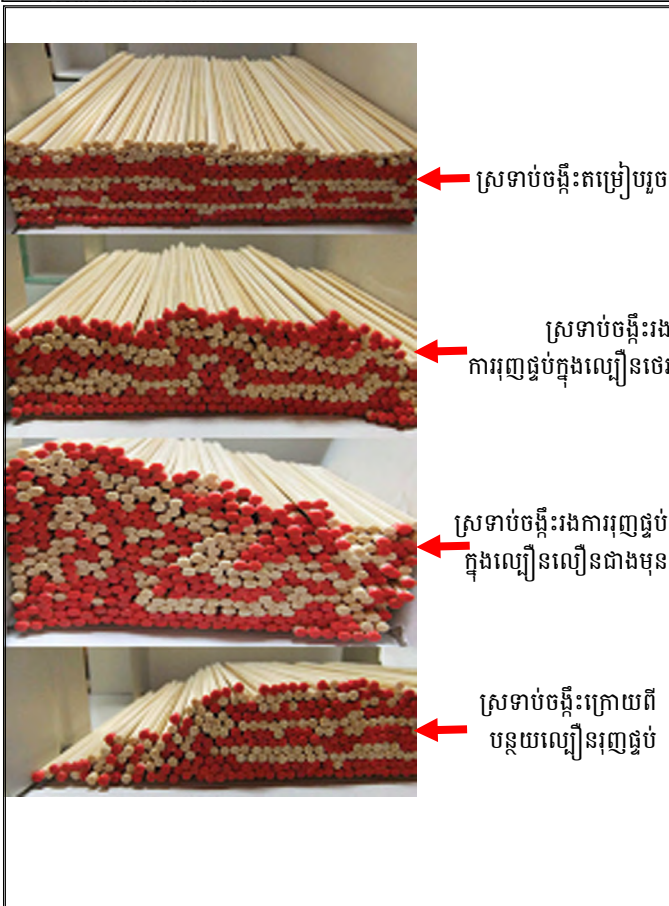
- អង់ឌីក្លីណាម : គឺជាផ្នែកដែលដោងឡើងលើពំនើងផ្គត់។ អង់ឌីក្លីណាមបង្កើតបានជាដុំ ជួរដុំ និងខ្នងរាបជាច្រើននៅលើពិភពលោក។
- សាងក្លីណាម : គឺជាផ្នែកដែលផ្តល់នូវពំនើងផ្គត់។ ភាគច្រើននៃសាងក្លីណាមបង្កើតបានជា ច្រោះ ចិប និងជ្រលង។

**៣.១. ប្រភេទពំនើងផ្គត់**



នៅលើសណ្ឋានដីលើពិភពលោកមានពំនើងផ្គត់ប្រភេទផ្សេងៗគ្នា ដែលកើតឡើងដោយសារកម្លាំងខ្លាំងឬឡាយ និងផ្នែកទៅលើភាពរឹងបរិយាក្សនៃសណ្ឋានដី។ ពំនើងផ្គត់មានពីរប្រភេទគឺ ពំនើងផ្គត់ធម្មតា និងពំនើងផ្គត់សិប្បី។

- ពំនើងផ្គត់ធម្មតា : ជាប្រភេទពំនើងផ្គត់ដែលមានទម្រង់ងាយៗទទួលបានស្រទាប់បង្កើត។ ពំនើងផ្គត់ធម្មតាមានដូចជា ជួរត្រង់ និងជួរទោរ។
- ពំនើងផ្គត់សិប្បី : ជាប្រភេទពំនើងផ្គត់ដែលមានទម្រង់បត់បែកខ្លាំង។ ពំនើងផ្គត់សិប្បីមានដូចជា ជួរដេក ជួរចាក់ស្រុត និងជួរច្របល។



ផែនទីខ្សែ ជំពូកទី ២ មេរៀនទី ២  
គេឃើញមានជួរភ្នំជាច្រើនដែលកើតឡើងពីពំនើងផ្នត់មុតជាជួរភ្នំអាល់នៅប្រទេសបារាំង ជួរភ្នំអង់ដេរេននៅក្នុងខាងត្បូង និងជួរភ្នំហិមាល័យនៅប្រទេសឥណ្ឌា។ ចំណែកនៅក្នុងប្រទេសកម្ពុជាយើងក៏មានជួរភ្នំក្រវាញដែលកើតឡើងពីពំនើងផ្នត់អាល់ស៊ីញ៉ាងនៅក្នុងស័កទី ២ ដែរ។



**មេរៀនលម្អិត**  
សិលាសំបកដែលមានខ្លួនទ្រង់ទ្រាយដោយសារកម្លាំង។ អ្នកវិទ្យាសាស្ត្របានទទួលស្គាល់ថាមានកម្លាំងបីប្រភេទផ្សេងៗគ្នាដែលធ្វើឱ្យសិលាខូចទ្រង់ទ្រាយ គឺកម្លាំងរុញផ្ទុប កម្លាំងប្រទាញ និងកម្លាំងបំបាក់។ កម្លាំងទាំងបីអាចធ្វើឱ្យស្រទាប់សិលាខូចទ្រង់ទ្រាយនិងមាឌ។ ទាំងនេះអាចមូលហេតុធ្វើឱ្យសិលាប្រេះស្រាំ ឬបាក់បែកចេញពីគ្នា។ ភាពរឹងនៃខ្លឹមសារអាចឱ្យវាពឹង ឬបត់ជាផ្នត់បានទេ ប៉ុន្តែនៅពេលខ្លួនទ្រង់ទ្រាយប្រទាញឬកម្លាំងរុញផ្ទុប ពេលនោះ វាបែរជាបង្កើតឱ្យមានបំណាក់ស្រុតនិងពំនើងផ្នត់ជាដើម។

- សំណួរ**
1. តើសិលាខូចទ្រង់ទ្រាយដោយសារអ្វី? មានប៉ុន្មានប្រភេទ?
  2. ចូររៀបរាប់អំពីបំណាក់ស្រុត និងពំនើងផ្នត់?
  3. ចូររាប់ជួរភ្នំដែលកើតឡើងពីពំនើងផ្នត់នៅលើពិភពលោក?

285

- ចម្លើយសំណួរ**
1. សិលាខូចទ្រង់ទ្រាយដោយសារកម្លាំង ៖ កម្លាំងរុញផ្ទុប កម្លាំងប្រទាញ និងកម្លាំងបំបាក់។
  2. បំណាក់ស្រុត គឺជាបំណាក់នៃសំបកផែនដី។ ពំនើងផ្នត់ គឺជាផ្ទាំងសំបកផែនដីរងកម្លាំងធ្វើឱ្យកោងតែមិនអាចបាក់បែកបាន។
  3. ជួរភ្នំដែលកើតឡើងពីពំនើងផ្នត់នៅលើពិភពលោក៖ ជួរភ្នំអាល់ (ប្រទេសបារាំង) ជួរភ្នំអង់ (ទ្វីបអាមេរិចខាងត្បូង) ជួរភ្នំហិមាល័យ (ប្រទេសឥណ្ឌា) ជួរភ្នំក្រវាញ (ប្រទេសកម្ពុជា)។

**ខ្លឹមសារសំខាន់របស់មេរៀននេះ ៖**

ស្រទាប់ផែនដីក្រៅបំផុត និងសិលាទាំងអស់នៅលើផ្ទៃផែនដីជាផ្នែកនៃសំបកផែនដី។ ការរុញផ្ទុប ឬប្រទាញ ហៅថា **កម្លាំង** ដែលធ្វើឱ្យស្រទាប់សិលាផ្ទៃលើ ឬក្រោមផ្ទៃផែនដីប្តូរទ្រង់ទ្រាយ។ ការបាក់បែក ការផ្ទៀង ការបត់នៃស្រទាប់សិលាហៅថា **កំហុចទ្រង់ទ្រាយ**។ ស្រទាប់សិលាសំបកផែនដីអាចសង្កត់ចូលគ្នាឱ្យប៉ោងឡើង ឬផុតចុះដោយសារកម្លាំងរុញផ្ទុប។ ស្រទាប់សិលាខ្លះទៀតអាចទាញយីតចេញពីគ្នាឱ្យមានរាងស្តួចកណ្តាល និងរីកសងខាងដោយសារកម្លាំងប្រទាញ។ ស្រទាប់សិលាខ្លះទៀតអាចព្រែកដាច់ចេញពីគ្នាទៅតាមទិសបណ្តោយផ្សេងគ្នាដោយសារកម្លាំងបំបាក់។ កម្លាំងទាំងបីអាចធ្វើឱ្យស្រទាប់សិលាប្តូរទ្រង់ទ្រាយនិងមាឌ ដែលជាមូលហេតុធ្វើឱ្យសិលាប្រេះស្រាំឬបាក់បែកចេញពីគ្នា។ នៅសងខាងតំបន់បំណាក់ស្រុតមានផ្ទៃដីដែលពីមុននៅជាប់គ្នាស្រាប់ ប៉ុន្តែម្ខាងផុសឡើង ហៅថា **ផ្ទាំងផុស** ឯម្ខាងទៀតស្រុតចុះក្រោម ហៅថា **អង្កាសប្រុត**។ ភ្នំជាច្រើនកើតឡើងពីស្រទាប់សិលាផុសឡើងដោយសារបំណាក់ស្រុតធម្មតាដែលគេហៅថា **ភ្នំបំណាក់ស្រុត**។ ជ្រលងកើតឡើងនៅពេលដែលផ្ទាំងដីចន្លោះបំណាក់ស្រុតធម្មតាទាំងពីររអិលចុះក្រោម បង្កើតបានជា **ជ្រលងទ្រុឌ**។ នៅពេលស្រទាប់សិលាបត់ បង្កើតបានជា **សិលាពំនើងផ្នត់**។ ប្រសិនបើស្រទាប់សិលារងកម្លោះខ្ពស់ខ្លាំងអំឡុងពេលរងកម្លាំងរុញផ្ទុប វាធ្វើឱ្យស្រទាប់សិលាកាន់តែបត់ជាផ្នត់ ប៉ុន្តែមិនបាក់ទេ។ នៅពេលកម្លាំងមានអំពើលើស្រទាប់សិលាវាធ្វើឱ្យស្រទាប់សិលាបាក់ក្លាម បង្កើតបានជា **បំណាក់ស្រុត**។

**ចំណេះដឹងបន្ថែម ៖ លក្ខណៈនៃរបាយពំនើងផ្នត់នៅលើពិភពលោក**  
រូបទី ៦ បង្ហាញពីពំនើងផ្នត់មាននៅលើពិភពលោក។ ពំនើងផ្នត់កើតឡើងនៅកន្លែងណាដែលស្រទាប់សិលាបានប៉ោងឡើងតាមបណ្តោយគែមធ្លាក់មណ្ឌលថ្ម។ ពំនើងផ្នត់មិនបានបែងចែកស្មើគ្នាទេ។  
ជួរភ្នំអាប៉ាឡាស់ ជួរភ្នំអូរ៉ាល់ ជួរភ្នំស្តង់ឌីណារ ស្ថិតនៅលើតំបន់បុកទង្គិចចាស់។ លើសពីនេះ តំបន់ពំនើងផ្នត់មួយបានប្រទាញនៅលើភាគខាងកើតនៃទ្វីបអាហ្វ្រិចនៅក្នុងរូបទី ៦ ប៉ុន្តែវាគួរតែបានដកចេញពីតំបន់ពំនើងផ្នត់ ពីព្រោះវាជាតំបន់ផុសឡើង។

# សកម្មភាពបន្ថែម

## សកម្មភាពទី 1

### ការប្តូរទ្រង់ទ្រាយផ្ទៃលើរបស់ផែនដី

**សំណួរគន្លឹះ** ៖ តើផ្ទៃលើរបស់ផែនដីបានប្តូរទ្រង់ទ្រាយនៅកន្លែងណាខ្លះនៅលើពិភពលោក? តើព្រឹត្តិការណ៍រញ្ជួយដី ទឹកជំនន់ បន្ទុះភ្នំភ្លើង បានធ្វើឱ្យផ្ទៃលើរបស់ផែនដីប្តូរទ្រង់ទ្រាយដូចម្តេចខ្លះ?

### សម្ភារៈ

- ព័ត៌មានស្រង់ចេញពីសារពត៌មាន ទស្សនាវដ្តី អ៊ិនធឺណិត អំពីរញ្ជួយដី ទឹកជំនន់ បន្ទុះភ្នំភ្លើង និងព្រឹត្តិការណ៍នាំឱ្យប្តូរទ្រង់ទ្រាយផ្ទៃលើរបស់ផែនដីផ្សេងទៀត។
- ផែនទីពិភពលោក
- ខ្មៅដៃពណ៌

### ដំណើរការ

1. អំឡុងពេលពីរខែក្រោយ ចូរអ្នកប្រមូលព័ត៌មានស្រង់ចេញពីសារពត៌មាន ទស្សនាវដ្តី អ៊ិនធឺណិត អំពីរញ្ជួយដី ទឹកជំនន់ បន្ទុះភ្នំភ្លើង និងព្រឹត្តិការណ៍នាំឱ្យប្តូរទ្រង់ទ្រាយផ្ទៃលើរបស់ផែនដីផ្សេងទៀត។
2. នៅលើផែនទីពិភពលោក ចូរអ្នកបង្ហាញឬគូរដោតំបន់នៃព្រឹត្តិការណ៍នីមួយៗ ដោយប្រើប្រាស់ខ្មៅដៃពណ៌ផ្សេងគ្នាដើម្បីចាត់ថ្នាក់ព្រឹត្តិការណ៍នីមួយៗ។
3. ចូរអ្នកគិតពីសំណួរទាំងនេះ ៖  
តើផ្ទៃលើរបស់ផែនដីបានប្តូរទ្រង់ទ្រាយនៅកន្លែងណាខ្លះនៅលើពិភពលោក?  
តើព្រឹត្តិការណ៍រញ្ជួយដី ទឹកជំនន់ បន្ទុះភ្នំភ្លើង បានធ្វើឱ្យផ្ទៃលើរបស់ផែនដីប្តូរទ្រង់ទ្រាយដូចម្តេចខ្លះ?

## សកម្មភាពទី 2

### អង់ទីគ្លីណាល់ និងសាំងគ្លីណាល់

**សំណួរគន្លឹះ** ៖ នៅក្នុងផែនដី តើកម្លាំងអ្វីខ្លះអាចធ្វើឱ្យស្រទាប់សិលាប៉ោង?

### សម្ភារៈ

- ដីឥដ្ឋគំរូពណ៌បីផ្សេងៗគ្នា
- ក្រដាសរ៉ាមទំហំ A4

### ដំណើរការ

1. ចូរអ្នកសួរដីឥដ្ឋគំរូជាស្រទាប់បីពណ៌ផ្សេងគ្នា កម្រាស់ស្មើគ្នាគរពីលើគ្នាជាពងចតុកោណកែង និងដាក់នៅលើក្រដាសរ៉ាមទំហំ A4។
2. ចូរអ្នកដាក់ស្រទាប់ដីឥដ្ឋគំរូពីលើស្រទាប់ដីឥដ្ឋគំរូផ្សេងទៀត។
3. ចូរអ្នកដាក់ប្រអប់ដៃទាំងពីររបស់អ្នកនៅចុងសងខាងស្រទាប់ដីឥដ្ឋគំរូរាងចតុកោណកែង ហើយរុញផ្ទប់យឺតៗពីចុងសងខាងព្រមគ្នា។ សម្ភារៈនេះអាចបង្កើតផ្នត់នៅក្នុងស្រទាប់ដីឥដ្ឋ ដែលស្រដៀងគ្នានឹងអង់ទីគ្លីណាល់ និងសាំងគ្លីណាល់ដែលបានបង្កើតឡើងនៅក្នុងស្រទាប់សិលា។
4. ចូរអ្នកគិតពីសំណួរទាំងនេះ ៖  
> នៅក្នុងផែនដី តើកម្លាំងអ្វីខ្លះអាចធ្វើឱ្យស្រទាប់សិលាប៉ោង?


## តេស្តខ្លឹមសម្រាប់មេរៀនទី 2 “បំណាក់ស្រុត និងពំនើងផ្គត់”

**ចំណាំ:** គ្រូគប្បីប្រើប្រាស់សំណួរ និង លំហាត់ខាងក្រោមនេះទាំងអស់ ឬមួយចំនួននៅក្នុងវិញ្ញាសាប្រឡងប្រចាំខែ ឬប្រឡងឆមាស ដើម្បីធ្វើការវាយតម្លៃការយល់ដឹងរបស់សិស្សស្តីពី “បំណាក់ស្រុត និងពំនើងផ្គត់”។

**រយៈពេល: 40 នាទី                      ពិន្ទុសរុប: 50 ពិន្ទុ**

ចូរជ្រើសរើសចម្លើយខាងក្រោមឱ្យបានត្រឹមត្រូវ និងគូសរង្វង់ជុំវិញចម្លើយត្រឹមត្រូវនោះ ៖

1. មានកម្លាំងបីប្រភេទបានធ្វើឱ្យស្រទាប់សិលាខូចទ្រង់ទ្រាយក្នុងទម្រង់ផ្សេងៗគ្នា។ រូបខាងក្រោមបង្ហាញពីកំហុចទ្រង់ទ្រាយដោយសារកម្លាំងទាំងបីប្រភេទ។ ចូរជ្រើសរើសបណ្តុំកម្លាំងត្រឹមត្រូវបំផុតចេញពី (ក) រហូតដល់ (ច)។ (10 ពិន្ទុ)



	ប្រភេទទី 1	ប្រភេទទី 2	ប្រភេទទី 3
(ក)	កម្លាំងបំបាក់	កម្លាំងរុញផ្ទុប	កម្លាំងប្រទាញ
(ខ)	កម្លាំងបំបាក់	កម្លាំងប្រទាញ	កម្លាំងរុញផ្ទុប
(គ)	កម្លាំងរុញផ្ទុប	កម្លាំងប្រទាញ	កម្លាំងបំបាក់
(ឃ)	កម្លាំងរុញផ្ទុប	កម្លាំងបំបាក់	កម្លាំងប្រទាញ
(ង)	កម្លាំងប្រទាញ	កម្លាំងរុញផ្ទុប	កម្លាំងបំបាក់
(ច)	កម្លាំងប្រទាញ	កម្លាំងបំបាក់	កម្លាំងរុញផ្ទុប

2. រូប A រហូតដល់ C ខាងក្រោមបង្ហាញពីកំហុចទ្រង់ទ្រាយនៃស្រទាប់សិលា។ ចូរជ្រើសរើសចម្លើយត្រឹមត្រូវចេញពី (ក) រហូតដល់ (គ)។ (15 ពិន្ទុ)



- (1) រូប A បង្ហាញពី (ក) បំណាក់ស្រុតធម្មតា (ខ) បំណាក់ស្រុតបញ្ជោស (គ) បំណាក់ស្រុតជ្រួស ។  
 (2) រូប B បង្ហាញពី (ក) បំណាក់ស្រុតធម្មតា (ខ) បំណាក់ស្រុតបញ្ជោស (គ) បំណាក់ស្រុតជ្រួស ។  
 (3) រូប C បង្ហាញពី (ក) បំណាក់ស្រុត (ខ) ពំនើងផ្គត់ ។

- (4) រូប A បង្ហាញពីកំហុចទ្រង់ទ្រាយនៃស្រទាប់សិលាដោយសារ (ក) កម្លាំងប្រទាញ (ខ) កម្លាំងរុញផ្ទុប (គ) កម្លាំងបំបាក់ ។  
 (5) រូប B បង្ហាញពីកំហុចទ្រង់ទ្រាយនៃស្រទាប់សិលាដោយសារ (ក) កម្លាំងប្រទាញ (ខ) កម្លាំងរុញផ្ទុប (គ) កម្លាំងបំបាក់ ។  
 (6) រូប C បង្ហាញពីកំហុចទ្រង់ទ្រាយនៃស្រទាប់សិលាដោយសារ (ក) កម្លាំងប្រទាញ (ខ) កម្លាំងរុញផ្ទុប (គ) កម្លាំងបំបាក់ ។

3. រូប C1 រហូតដល់ C5 ខាងក្រោមបង្ហាញពីប្រភេទផ្គត់ផ្គង់ផ្សេងៗគ្នា។ តើរូប C1 រហូតដល់ C5 បង្ហាញពីផ្គត់ប្រភេទអ្វីខ្លះ? ចូរជ្រើសរើសចម្លើយត្រឹមត្រូវចេញពី (ក) រហូតដល់ (ង)។ (25 ពិន្ទុ)



- (1) រូប C1 បង្ហាញពី (ក) ផ្គត់បាក់ស្រុត (ខ) ផ្គត់ត្រង់ (គ) ផ្គត់ទ្រេល (ឃ) ផ្គត់ដេក (ង) ផ្គត់ទោរ ។  
 (2) រូប C2 បង្ហាញពី (ក) ផ្គត់បាក់ស្រុត (ខ) ផ្គត់ត្រង់ (គ) ផ្គត់ទ្រេល (ឃ) ផ្គត់ដេក (ង) ផ្គត់ទោរ ។  
 (3) រូប C3 បង្ហាញពី (ក) ផ្គត់បាក់ស្រុត (ខ) ផ្គត់ត្រង់ (គ) ផ្គត់ទ្រេល (ឃ) ផ្គត់ដេក (ង) ផ្គត់ទោរ ។  
 (4) រូប C4 បង្ហាញពី (ក) ផ្គត់បាក់ស្រុត (ខ) ផ្គត់ត្រង់ (គ) ផ្គត់ទ្រេល (ឃ) ផ្គត់ដេក (ង) ផ្គត់ទោរ ។  
 (5) រូប C5 បង្ហាញពី (ក) ផ្គត់បាក់ស្រុត (ខ) ផ្គត់ត្រង់ (គ) ផ្គត់ទ្រេល (ឃ) ផ្គត់ដេក (ង) ផ្គត់ទោរ ។

**បង្ហាញ ការដាក់ពិន្ទុ និងការវិនិច្ឆ័យ**

**បង្ហាញ និងការដាក់ពិន្ទុ (ពិន្ទុសរុប 50 ពិន្ទុ)**

1. គ. កម្លាំងរុញផ្ទុះ កម្លាំងប្រទាញ កម្លាំងបំបាក់(10 ពិន្ទុ)

**ការដាក់ពិន្ទុ:** 10 ពិន្ទុ = ជ្រើសរើសចម្លើយ គ.  
0 ពិន្ទុ = ជ្រើសរើសចម្លើយ ក. ខ. ឃ. ង. ច.

2. (1) ក. បំណាក់ស្រុតធម្មតា (2.5 ពិន្ទុ)

**ការដាក់ពិន្ទុ:** 2.5 ពិន្ទុ = ជ្រើសរើសចម្លើយ ក.  
0 ពិន្ទុ = ជ្រើសរើសចម្លើយ ខ. គ.

(2) ខ. បំណាក់ស្រុតបញ្ជាស (2.5 ពិន្ទុ)

**ការដាក់ពិន្ទុ:** 2.5 ពិន្ទុ = ជ្រើសរើសចម្លើយ ខ.  
0 ពិន្ទុ = ជ្រើសរើសចម្លើយ ក. គ.

(3) ខ. ពំនើងផ្នត់ (2.5 ពិន្ទុ)

**ការដាក់ពិន្ទុ:** 2.5 ពិន្ទុ = ជ្រើសរើសចម្លើយ ខ.  
0 ពិន្ទុ = ជ្រើសរើសចម្លើយ ក.

(4) ក. កម្លាំងប្រទាញ (2.5 ពិន្ទុ)

**ការដាក់ពិន្ទុ:** 2.5 ពិន្ទុ = ជ្រើសរើសចម្លើយ ក.  
0 ពិន្ទុ = ជ្រើសរើសចម្លើយ ខ. គ.

(5) ខ. កម្លាំងរុញផ្ទុះ (2.5 ពិន្ទុ)

**ការដាក់ពិន្ទុ:** 2.5 ពិន្ទុ = ជ្រើសរើសចម្លើយ ខ.  
0 ពិន្ទុ = ជ្រើសរើសចម្លើយ ក. គ.

(6) ខ. កម្លាំងរុញផ្ទុះ (2.5 ពិន្ទុ)

**ការដាក់ពិន្ទុ:** 2.5 ពិន្ទុ = ជ្រើសរើសចម្លើយ ខ.  
0 ពិន្ទុ = ជ្រើសរើសចម្លើយ ក. គ.

3. (1) ខ. ផ្នត់ត្រង់ (5 ពិន្ទុ)

**ការដាក់ពិន្ទុ:** 5 ពិន្ទុ = ជ្រើសរើសចម្លើយ ខ.  
0 ពិន្ទុ = ជ្រើសរើសចម្លើយ ក. គ. ឃ. ង.

(2) ង. ផ្នត់ទោរ (5 ពិន្ទុ)

**ការដាក់ពិន្ទុ:** 5 ពិន្ទុ = ជ្រើសរើសចម្លើយ ង.  
0 ពិន្ទុ = ជ្រើសរើសចម្លើយ ក. ខ. គ. ឃ.

(3) ឃ. ផ្នត់ដេក (5 ពិន្ទុ)

**ការដាក់ពិន្ទុ:** 5 ពិន្ទុ = ជ្រើសរើសចម្លើយ ឃ.  
0 ពិន្ទុ = ជ្រើសរើសចម្លើយ ក. ខ. គ. ង.

(4) ក. ផ្នត់បាក់ស្រុត (5 ពិន្ទុ)

**ការដាក់ពិន្ទុ:** 5 ពិន្ទុ = ជ្រើសរើសចម្លើយ ខ.  
0 ពិន្ទុ = ជ្រើសរើសចម្លើយ ខ. គ ឃ. ង.

(5) គ. ផ្នត់ទ្រុល (5 ពិន្ទុ)

**ការដាក់ពិន្ទុ:** 5 ពិន្ទុ = ជ្រើសរើសចម្លើយ គ.  
0 ពិន្ទុ = ជ្រើសរើសចម្លើយ ក. ខ. ឃ. ង.

**ការវិនិច្ឆ័យ**

ពិន្ទុ	ការវិនិច្ឆ័យ និងសំណូមពរសម្រាប់ការបង្រៀន
0 – 20	សិស្សដែលទទួលបានពិន្ទុនៅចន្លោះនេះ មានន័យថាពួកគេមិនទាន់អាចចងចាំ និងយល់បានពីកំហុចទ្រង់ទ្រាយនៃស្រទាប់សិលា ប្រភេទបំណាក់ស្រុតនិងពំនើងផ្នត់ ភាពខុសគ្នានៃទិសដៅកម្លាំងរវាងបំណាក់ស្រុតធម្មតា និងបំណាក់ស្រុតបញ្ញាស បានច្បាស់លាស់។ ដូច្នេះ គ្រូគប្បីនាំសិស្សចងចាំ និងយល់ពីទម្រង់ស្រទាប់សិលាដែលកើតឡើងដោយផ្នែកៗ។ គ្រូក៏គួរនាំសិស្សរំលឹកមេរៀននេះម្តងទៀតដោយផ្ដោតលើភាពខុសគ្នារវាងបំណាក់ស្រុត និងពំនើងផ្នត់។
21 – 30	សិស្សដែលទទួលបានពិន្ទុនៅចន្លោះនេះ មានន័យថាពួកគេអាចចងចាំ និងយល់បានពីកំហុចទ្រង់ទ្រាយនៃស្រទាប់សិលា ប្រភេទបំណាក់ស្រុតនិងពំនើងផ្នត់ ភាពខុសគ្នានៃទិសដៅកម្លាំងរវាងបំណាក់ស្រុតធម្មតា និងបំណាក់ស្រុតបញ្ញាស បានច្បាស់លាស់។ ប៉ុន្តែ ពួកគេនៅចងចាំមេរៀនបានពាក់កណ្តាលនៅឡើយ។ ដូច្នេះ គ្រូគប្បីនាំសិស្សឱ្យយល់បានច្បាស់លាស់អំពីដំណើរការនាំឱ្យមានបំណាក់ស្រុត និងពំនើងផ្នត់។ ម៉្យាងវិញទៀត សំណួរសួរអំពីឈ្មោះនៃស្រទាប់សិលាតែងតែមាននៅក្នុងការប្រឡង។
31 – 40	សិស្សដែលទទួលបានពិន្ទុនៅចន្លោះនេះ មានន័យថាពួកគេយល់មេរៀននេះបានល្អ។ ប៉ុន្តែសិស្សអាចមានកំហុសឬភ័ន្តច្រឡំទៅលើរូបភាពបង្ហាញពីកម្លាំងដែលមានអំពើលើស្រទាប់សិលា។ ដូច្នេះអ្វីដែលគ្រូគប្បីណែនាំសិស្សឱ្យយកចិត្តទុកដាក់ទៅលើរូបភាពស្រទាប់សិលាលើ ឬក្រោម និងការតម្រៀបនៃស្រទាប់សិលាពីលើចុះក្រោម ឬពីក្រោមឡើងលើដោយសារមាតិកាទាំងអស់នេះ ជាញឹកញាប់ ត្រូវបានគេបញ្ចូលទៅក្នុងការប្រឡង។
41 – 50	សិស្សដែលទទួលបានពិន្ទុនៅចន្លោះនេះ មានន័យថាពួកគេយល់មេរៀននេះបានល្អណាស់។ សិស្សកាន់តែចាប់អារម្មណ៍ចម្រើនក្នុងការសិក្សាអំពីបំណាក់ស្រុត និងពំនើងផ្នត់ ប្រសិនបើគ្រូបង្ហាញពីព័ត៌មានបន្ថែម។ បើមិនដូច្នោះទេ គ្រូអាចផ្តល់កិច្ចការផ្ទះឱ្យសិស្សបន្ថែមទៀតដើម្បីឱ្យពួកគេជម្រុញស្វ័យសិក្សារបស់ពួកគេបន្ថែមទៀត។

# មេរៀនទី 3

# ភ្នំភ្លើង

## វត្ថុបំណង

- បន្ទាប់ពីសិក្សាមេរៀននេះចប់ សិស្សនឹង៖
  - ❑ ពន្យល់ពីមូលហេតុដែលបណ្តាលឱ្យកើតភ្នំភ្លើង
  - ❑ បង្ហាញពីប្រភេទនៃភ្នំភ្លើង
  - ❑ អត្តាធិប្បាយពីបំណែកសិលាភ្នំភ្លើង
  - ❑ បង្ហាញពីទីកន្លែងដែលភ្នំភ្លើងច្រើនកកើត។

## ផែនការមេរៀន

មេរៀននេះត្រូវបានបែងចែកសម្រាប់បង្រៀន និងរៀនរយៈពេល 3 ម៉ោង ដូចបង្ហាញក្នុងតារាង 1 ខាងក្រោម។

តារាង 1 បំណែងចែកម៉ោងបង្រៀន

ចំនួនម៉ោងសិក្សា	ចំណងជើងរងមេរៀន	ទំព័រក្នុងសៀវភៅសិក្សាគោល
1ម៉ោង	1. ភ្នំភ្លើង 2. បន្ទុះភ្នំភ្លើង 2.1. បន្ទុះស្ងប់ 2.2 បន្ទុះខ្លាំង	286 – 287
1ម៉ោង	2.3. បំណែកសិលាភ្នំភ្លើង 3. ប្រភេទភ្នំភ្លើង	287 – 288
1ម៉ោង	4. ភូមិភាគភ្នំភ្លើង មេរៀនសង្ខេប សំណួរ	289

## ការណែនាំការមេរៀន

តារាង 2 បង្ហាញពីផែនការបង្រៀន និងលទ្ធផលរង្វាយតម្លៃក្នុងម៉ោងសិក្សានីមួយៗ។ គ្រូគប្បីដឹកនាំសកម្មភាពទាំងអស់ និងវាយតម្លៃសិស្សដោយផ្អែកលើលក្ខណៈវិនិច្ឆ័យនៅក្នុងតារាង 2 ។ ដូចសកម្មភាពនៅក្នុងតារាង 2 សិស្សនឹងធ្វើសកម្មភាពផ្សេងៗអំពី ការប្រមូល និងបកស្រាយព័ត៌មានអំពីភ្នំភ្លើង ដែលសកម្មភាពទាំងនេះនឹងជួយសិស្សអភិវឌ្ឍការយល់របស់ពួកគេអំពីភ្នំភ្លើង ប្រភេទកំអែភ្នំភ្លើង ប្រភេទបន្ទុះភ្នំភ្លើង ប្រភេទភ្នំភ្លើង និងតំបន់ភ្នំភ្លើង។ ទោះជាយ៉ាងណា គ្រូគប្បីប្រើទេពកោសល្យ ភាពទន់ភ្លន់ និងភាពបត់បែនរបស់ខ្លួន ដើម្បីច្នៃប្រឌិតទៅតាមកម្រិតយល់ដឹងរបស់សិស្ស និងស្ថានភាពជាក់ស្តែងរបស់ថ្នាក់រៀន ដើម្បីសម្របសម្រួលទៅតាមសកម្មភាពបង្រៀននិងរៀនដូចមាននៅក្នុងការណែនាំការបង្រៀននេះ។

តារាង 2 ផែនការបង្រៀន និងលទ្ធផលរង្វាយតម្លៃ

ម៉ោងសិក្សា	វត្ថុបំណង	សកម្មភាព	លទ្ធផលរង្វាយតម្លៃ
ទី 1	ពណ៌នាពីមូលហេតុនៃភ្នំភ្លើង និងបង្ហាញថាកំអែភ្នំភ្លើងមានច្រើនប្រភេទដោយសារបន្ទុះភ្នំភ្លើង។	សិស្សនាំគ្នាពណ៌នាមូលហេតុនៃភ្នំភ្លើង និងប្រភេទនៃកំអែភ្នំភ្លើង និងសរសេរការយល់ឃើញរបស់ពួកគេអំពីរូបភ្នំភ្លើង។	សិស្សអាចពន្យល់ពី ៖ (1)មូលហេតុនៃភ្នំភ្លើង (2)ប្រភេទកំអែភ្នំភ្លើង និង (3)ចាត់ថ្នាក់ប្រភេទភ្នំភ្លើងដោយសារបន្ទុះភ្នំភ្លើង។
ទី 2	ពណ៌នាពីបំណែកនៃសិលាភ្នំភ្លើង និងប្រភេទភ្នំភ្លើង។	សិស្សស្តាប់ការពន្យល់របស់គ្រូអំពីបំណែកសិលាភ្នំភ្លើង និងប្រភេទភ្នំភ្លើង។	សិស្សអាចពន្យល់ពីបំណែកនៃសិលាភ្នំភ្លើង និងប្រភេទភ្នំភ្លើង។
ទី 3	បង្ហាញពីទីតាំងភ្នំភ្លើងភាគច្រើនកើតឡើងនៅលើពិភពលោក។	សិស្សដៅទីតាំងរបស់ភ្នំភ្លើងមួយចំនួនដោយប្រើប្រាស់ទិន្នន័យទីតាំងរបស់ភ្នំភ្លើងនៅលើពិភពលោក។	សិស្សអាចកំណត់ទីតាំងដែលភ្នំភ្លើងភាគច្រើនកើតឡើងនៅលើពិភពលោក។

**ចំណុចនៃការបង្រៀន**

ចំណុចនៃការបង្រៀនមេរៀននេះគឺដើម្បីឱ្យសិស្ស ៖ (1)កំណត់តំបន់ដែលសកម្មភាពនៃភ្នំភ្លើងធ្វើឱ្យដី និងតំបន់ជុំវិញពួកវាផ្លាស់ប្តូរយ៉ាងខ្លាំង ដោយសារតែរំហូរនៃកំអែភ្នំភ្លើង និងឆេះភ្នំភ្លើងដែលផ្ទុះចេញមកក្រៅផ្ទៃផែនដី (2)គិតអំពីកំហុចទ្រង់ទ្រាយនៃដីនាពេលអនាគតដោយការពិនិត្យមើលរូបភាពនៅក្នុងសៀវភៅសិក្សាគោលប្បវេណីដែលរៀបចំដោយគ្រូ ដែលបានបង្ហាញពីកំហុចទ្រង់ទ្រាយបណ្តាលមកពីគ្រោះមហន្តរាយធម្មជាតិ ដោយសកម្មភាពភ្នំភ្លើងក្នុងអតីតកាល និង (3)សង្ខេបទីតាំងដែលយើងអាចមើលភ្នំភ្លើងឬឆេះភ្នំភ្លើងបានយ៉ាងច្បាស់ដោយប្រើប្រាស់សៀវភៅសិក្សាគោលប្បវេណីដែលរៀបចំដោយគ្រូ។

**ចំណេះដឹងមូលដ្ឋានសម្រាប់មេរៀននេះ**

មុនពេលចាប់ផ្តើមបង្រៀនខ្លឹមសារមេរៀនថ្មីក្នុងម៉ោងសិក្សានីមួយៗ គ្រូគប្បីសួរសិស្សដើម្បីពិនិត្យចំណេះដឹងមានស្រាប់របស់ពួកគេ និងដើម្បីរកមើលចំណេះដឹងមូលដ្ឋានរបស់សិស្ស ដូចជា ៖ (1)ដីបានផ្លាស់ប្តូរដោយសារសកម្មភាពភ្នំភ្លើង និង(2)តំបន់ដែលសកម្មភាពរបស់ភ្នំភ្លើងផ្លាស់ប្តូរដី និងតំបន់ជុំវិញភ្នំភ្លើងយ៉ាងខ្លាំង ដោយសាររំហូរកំអែភ្នំភ្លើង និងឆេះភ្នំភ្លើងដែលផ្ទុះចេញមកក្រៅផ្ទៃផែនដី។ បើមិនដូច្នោះទេសិស្សនឹងពិបាកសម្រេចបានវត្ថុបំណងមេរៀននេះ។

**រក្ខត្រង**  
សិស្សនឹងពណ៌នាពីមូលហេតុនៃភ្នំភ្លើង និងបង្ហាញថាកំអែភ្នំភ្លើង  
មានច្រើនប្រភេទដោយសារបន្ទុះភ្នំភ្លើង។

**សកម្មភាព**

គ្រូ៖ តើភ្នំភ្លើងគឺជាអ្វី?  
សិស្ស៖ ភ្នំភ្លើង គឺជាកន្លែងដែលកំអែភ្នំភ្លើងចេញមកលើផ្ទៃលើ  
ផែនដី។

គ្រូ៖ តើភ្នំភ្លើងកើតឡើងយ៉ាងដូចម្តេច?  
សិស្ស៖ ភ្នំភ្លើងកើតឡើងដោយសារកំអែភ្នំភ្លើងចេញមកលើផ្ទៃ  
លើផែនដីដោយកម្លាំងរុញពីខាងក្នុងផែនដី។

**សំណួរគន្លឹះ**: “ថាមពលបានបញ្ចេញនៅខាងក្នុងផែនដីបានបង្ក  
ឱ្យមានសកម្មភាពភ្នំភ្លើង។ ហេតុអ្វីបានជាយើង  
អាចរកឃើញអ្វីមួយនៅខាងក្នុងភ្នំភ្លើងបានដោយ  
សកម្មភាពស្រាវជ្រាវ?”

**ដំណើរការ**

1. គ្រូចែកសិស្សជាក្រុមតូច និងចែកសម្ភារឱ្យក្រុមសិស្ស
2. គ្រូតប្រើលើកទឹកចិត្តសិស្សឱ្យពិភាក្សាអំពីសំណួរគន្លឹះខាងលើ  
របស់ពួកគេដាក់ក្នុងសៀវភៅកំណត់ត្រា។
3. គ្រូក៏តប្រើលើកទឹកចិត្តសិស្សឱ្យប្រាប់ពីអ្វីដែលពួកគេបាន  
សង្កេត។

**មេរៀន**

**3 ភ្នំភ្លើង**

- ចប់មេរៀននេះ សិស្សអាច**
- ពន្យល់ពីមូលហេតុដែលបណ្តាលឱ្យកើតភ្នំភ្លើង
  - បង្ហាញពីប្រភេទនៃភ្នំភ្លើង
  - អត្ថាធិប្បាយពីបំណែកសិលាភ្នំភ្លើង
  - បង្ហាញពីទីកន្លែងដែលភ្នំភ្លើងច្រើនកើត។

យើងដឹងហើយថា ស្នូលនិងមង្គលផែនដីជាស្រទាប់ដែលមានរូបធាតុក្តៅហើយរលាយ និងធ្វើ  
ចលនា។ ចលនានេះគឺបណ្តាលមកពីសម្ពាធ និងកម្ដៅនៅក្នុងស្រទាប់ទាំងពីរនេះ។ សម្ពាធ និងកម្ដៅ  
បានធ្វើឱ្យសិលាវារចេញមកក្រៅហៅថា ម៉ាក់ម៉ា។ ម៉ាក់ម៉ាចេញមកលើផ្ទៃផែនដីហៅថា កម្ដៅ។  
ហើយវាក៏ក្លាយជាសិលាវិង។

- 1. ភ្នំភ្លើង**
- ភ្នំភ្លើង គឺជាភ្នំដែលកើតឡើងនៅពេលដែលម៉ាក់ម៉ាហូរចេញមកក្រៅលើផ្ទៃផែនដី។ ម៉ាក់ម៉ា គឺ  
ជាសិលាវារផ្សំឡើងពីសិលា ឧស្ម័ន និងទឹក។ គេឃើញភ្នំភ្លើងជាច្រើនបានបង្កើតរូបសណ្ឋានដ៏ផ្សេងៗ  
គ្នាដូចជា ជួរភ្នំ ភ្នំ និងខ្ពង់រាប ប៉ុន្តែរូបសណ្ឋានដ៏ខ្លះកើតពីទីបរសាត់និងពំនើងផ្គុំផងដែរ។ តាម  
ការវិភាគរបស់អ្នកធរណីវិទូ បានបញ្ជាក់ថាសមាសភាពកម្ដៅភ្នំភ្លើងបានមកពីសមាសភាពគីមីរបស់  
ម៉ាក់ម៉ា។ ជាទូទៅ កម្ដៅភ្នំភ្លើងមាន 4 ប្រភេទដូចជា :
- ប្រភេទទី 1 មានពណ៌ខ្មៅស្រអាប់ដែលសម្បូរធាតុដែកនិងម៉ាញ៉េស្យូម។
  - ប្រភេទទី 2 មានពណ៌ភ្លឺថ្លាដែលសម្បូរធាតុដែកនិងម៉ាញ៉េស្យូមដែរ ប៉ុន្តែវាមានសមាសធាតុ  
ស៊ីលីកាតដែលជាហេតុនាំឱ្យកម្ដៅភ្នំភ្លើងមានពណ៌ភ្លឺថ្លា។
  - ប្រភេទទី 3 មានសមាសភាពគីមីប្រហាក់ប្រហែលទៅនឹងប្រភេទទាំងពីរខាងលើដែរ។
  - ប្រភេទទី 4 មានបន្ទុកបរិមាណឧស្ម័នដ៏ច្រើន ដូចជាចំហាយទឹកនិងឧស្ម័នកាបូនិច។

**ចំណេះដឹងបន្ថែម ៖ ម៉ាក់ម៉ា**

បន្ទុះនៃសិលាវាយគឺជាសកម្មភាពមួយគួរឱ្យទស្សនាជាទីបំផុតដែលកើតឡើងព្រមគ្នាជាមួយនឹងចលនានៃផ្លាកមណ្ឌលថ្ម។  
តើសិលាវាយចេញមកក្រៅផែនដីនៅត្រង់កន្លែងណា? តើសិលាវាយធ្វើចលនានៅក្នុងផែនដីដោយរបៀបណា? ចម្លើយគឺមិនសាមញ្ញទេ  
ដោយសារដំណើរការទាំងនេះបានកើតឡើងនៅក្នុងជម្រៅខាងក្រោមផ្ទៃផែនដី ដែលការសង្កេតផ្ទាល់មិនអាចធ្វើបាន។ បើទោះជាដូច្នោះ  
ក៏ដោយព្រឹត្តិការណ៍ទាំងនេះមួយចំនួនត្រូវបានគេស្គាល់។

សិលាវាយនៅខាងក្រោមក្នុងផ្ទៃផែនដី ហៅថា **ម៉ាក់ម៉ា**។ វាកើតឡើងនៅពេលណាដែលសីតុណ្ហភាពនិងសម្ពាធឡើងខ្ពស់ល្មម  
អាចឱ្យសិលាវាយបាន។ តំបន់មួយដែលអាចធ្វើឱ្យសិលាវាយបានគឺ **មណ្ឌលខាប់**។ នៅក្នុងមណ្ឌលខាប់ វិញ្ញាណធាតុបានរលាយក្លាយ  
ជាម៉ាក់ម៉ា។ ព្រំដែនផ្លាកមណ្ឌលថ្មក៏ជាតំបន់ដែលសិលាវាយបានដែរ។ ចលនា និងកម្លាំងនៅទីនោះបង្កើតកម្ដៅគ្រប់គ្រាន់ដើម្បីកើត  
ម៉ាក់ម៉ា។

នៅពេលសិលាវាយ សិលាវិកមាឌធំ និងមានដងស៊ីតេទាបជាងសិលាមិនទាន់រលាយនៅជុំវិញវា។ បន្ទាប់មកសិលាវាយផ្លាស់  
ទីឡើងលើ តាមស្ថាប្រេ ឬសំបកផែនដីកំពុងរលាយ។ ប្រសិនបើម៉ាក់ម៉ាផ្លាស់ទីឡើងមកដល់ផ្ទៃលើផែនដី វាក៏ផ្ទុះចេញតាមបំពង់បើកមួយ  
ហៅថា មាត់ភ្នំភ្លើង។

អត្រាម៉ាក់ម៉ាផ្លាស់ទីត្រូវបានកំណត់ជាដំបូងដោយធាតុផ្សំស៊ីលីកាតរបស់វា។ ស៊ីលីកាត (SiO<sub>2</sub>) គឺជាធាតុផ្សំសំខាន់មួយនៅក្នុងម៉ាក់  
ម៉ា។ ម៉ាក់ម៉ាដែលមានបរិមាណធាតុផ្សំស៊ីលីកាតច្រើន មានកម្រាស់ក្រាស់ កំហាប់ខ្ពស់ រឹង ពណ៌ភ្លឺ ហើយហូរយឺត។ ម៉ាក់ម៉ាក្នុងលក្ខណៈ  
បែបនេះ ហៅថា **ម៉ាក់ម៉ាហ្សែលស៊ុច**។ ផ្ទុយទៅវិញ ប្រសិនបើម៉ាក់ម៉ាមានធាតុផ្សំស៊ីលីកាតតិច ម៉ាក់ម៉ានោះមានកម្រាស់ស្តើង កំហាប់ទាប រាវ  
ពណ៌ក្រមៅ និងហូរលឿន ដែលម៉ាក់ម៉ាបែបនេះហៅថា **ម៉ាក់ម៉ាម៉ាហ្ស៊ុច**។

**2. បន្ទុះភ្លើង**

វេទនាសិទ្ធិ ជំពូកទី ២ មេរៀនទី ៣

តើមានអ្វីត្រូវប្រុងប្រយ័ត្នបំផុតនៅពេលដែលយើងប្រើប្រាស់ប្រព័ន្ធបណ្តាញស្រូវ ?

ការផ្ទុះភ្លើងភ្នំភ្លើងអាចបណ្តាលឱ្យមានការបាត់បង់ជីវិតមនុស្សបានយ៉ាងងាយស្រួល។ ការផ្ទុះភ្លើងភ្នំភ្លើងអាចបណ្តាលឱ្យមានការបាត់បង់ជីវិតមនុស្សបានយ៉ាងងាយស្រួល។ ការផ្ទុះភ្លើងភ្នំភ្លើងអាចបណ្តាលឱ្យមានការបាត់បង់ជីវិតមនុស្សបានយ៉ាងងាយស្រួល។ ការផ្ទុះភ្លើងភ្នំភ្លើងអាចបណ្តាលឱ្យមានការបាត់បង់ជីវិតមនុស្សបានយ៉ាងងាយស្រួល។

**2.1. បន្ទុះស្ងប់**

បន្ទុះស្ងប់ដែលបង្កឱ្យមានការបាត់បង់ជីវិតមនុស្សបានយ៉ាងងាយស្រួល។ បន្ទុះស្ងប់ដែលបង្កឱ្យមានការបាត់បង់ជីវិតមនុស្សបានយ៉ាងងាយស្រួល។ បន្ទុះស្ងប់ដែលបង្កឱ្យមានការបាត់បង់ជីវិតមនុស្សបានយ៉ាងងាយស្រួល។



រូបទី ១ : បន្ទុះស្ងប់ (ភ្នំភ្លើងភ្នំម្លូម្លូនៅហៃវ៉ា)

**2.2. បន្ទុះខ្លាំង**

បន្ទុះខ្លាំងបង្កឱ្យមានការបាត់បង់ជីវិតមនុស្សបានយ៉ាងងាយស្រួល។ បន្ទុះខ្លាំងបង្កឱ្យមានការបាត់បង់ជីវិតមនុស្សបានយ៉ាងងាយស្រួល។ បន្ទុះខ្លាំងបង្កឱ្យមានការបាត់បង់ជីវិតមនុស្សបានយ៉ាងងាយស្រួល។



រូបទី ២ : បន្ទុះខ្លាំង (ភ្នំភ្លើងភ្នំម្លូម្លូនៅហៃវ៉ា)

**2.3. បំណែកសិលាភ្នំភ្លើង**

បំណែកសិលាភ្នំភ្លើងកើតឡើងនៅពេលដែលមានការផ្ទុះភ្លើងភ្នំភ្លើង។ បំណែកសិលាភ្នំភ្លើងកើតឡើងនៅពេលដែលមានការផ្ទុះភ្លើងភ្នំភ្លើង។ បំណែកសិលាភ្នំភ្លើងកើតឡើងនៅពេលដែលមានការផ្ទុះភ្លើងភ្នំភ្លើង។

**វត្ថុបំណង**  
សិស្សនឹងពណ៌នាពីបំណែកនៃសិលាភ្នំភ្លើងនិងប្រភេទភ្នំភ្លើង។

**សកម្មភាព**

**សំណួរគន្លឹះ:** “តើបន្ទុះភ្នំភ្លើងមានលក្ខណៈដូចម្តេច?”

**សម្ភារៈ** សីរ៉ាំងជ័រចំណុះ 50ml លីត្រពណ៌ក្រហម ដីតដួសូនជាតិ កូនភ្នំ បន្ទះក្តារ ម្សៅឆា ទឹក

**ដំណើរការ**

1. ត្រូវចែកសិស្សជាក្រុមតូច និងចែកសម្ភារៈឱ្យក្រុមសិស្ស
2. ត្រួតប្រញឹកលើកទឹកចិត្តសិស្សឱ្យពិភាក្សាអំពីបន្ទុះភ្នំភ្លើងរបស់ពួកគេដាក់ក្នុងសៀវភៅកំណត់ត្រា។
3. ត្រូវត្រួតប្រញឹកលើកទឹកចិត្តសិស្សឱ្យប្រាប់ពីអ្វីដែលពួកគេបានសង្កេតឃើញអំពីបន្ទុះភ្នំភ្លើង។



**សេចក្តីពន្យល់**

បន្ទុះភ្នំភ្លើង គឺគ្រាន់តែជាការស្តុកស្តុកមួយនៃសកម្មភាពភ្នំភ្លើង។ ភ្នំសាក្វារ៉ាជីម៉ា (Mt. Sakurajima) ស្ថិតនៅក្នុងកោះយូស៊ូនៃប្រទេសជប៉ុនបានផ្ទុះនៅឆ្នាំ 2014។



បន្ទុះនៃភ្នំភ្លើងសាក្វារ៉ាជីម៉ានៃប្រទេសជប៉ុន (រូបនេះចិតដោយលោក Y. Takeshita)



**ចំណេះដឹងបន្ថែម ៖ ចំណាត់ថ្នាក់រូបធាតុភ្នំភ្លើង**

រូបធាតុភ្នំភ្លើងត្រូវបានធ្វើចំណាត់ថ្នាក់ដោយផ្អែកលើ ៖

- 1) ទំហំ
  - មានរូបធាតុពីរ្យ៉ាស្ទិច 3 ប្រភេទគឺ ៖
    - ក. ដុំសិលាភ្នំភ្លើង (volcanic block) ទំហំធំជាង 64 mm
    - ខ. ធ្នូលីភ្នំភ្លើង (lapilli) ទំហំចាប់ពី 2 – 64 mm
    - គ. ផេះភ្នំភ្លើង (volcanic ash) ទំហំតូចជាង 2 mm។
- 2) រូបរាង
  - មានរូបធាតុពីរ្យ៉ាស្ទិចមួយចំនួនដែលមានរាងដូច ៖
    - ក. គ្រាប់បែក (គ្រាប់បែកភ្នំភ្លើង គ្រាប់បែកសំបកនំប៉័ង គ្រាប់បែករ៉ែ)
    - ខ. ដុំសន្លាក់ឆ្អឹង
    - គ. សាជី។



ក. គ្រាប់បែករ៉ែ ខ. គ្រាប់បែកសំបកនំប៉័ង គ្រាប់បែកភ្នំភ្លើងនៅជុំវិញកោះ Miyake នៃប្រទេសជប៉ុន (រូបភាពនេះចិតដោយ Y. Takeshita)



**សកម្មភាព**

គ្រូ៖ តើគេអាចចាត់ថ្នាក់ភ្នំភ្លើងដោយរបៀបណា?  
សិស្ស៖ គេអាចចាត់ថ្នាក់ភ្នំភ្លើងដោយផ្អែកលើ ៖ រូបរាង និងបាតភ្នំភ្លើង។

**សំណួរគន្លឹះ**៖ “យើងនាំគ្នាសរសេរពីលក្ខណៈនៃប្រភេទភ្នំភ្លើង!”

**សម្ភារ** រូបភាពភ្នំភ្លើងផ្សេងៗ (ស្រង់ចេញពីវេបសាយ)

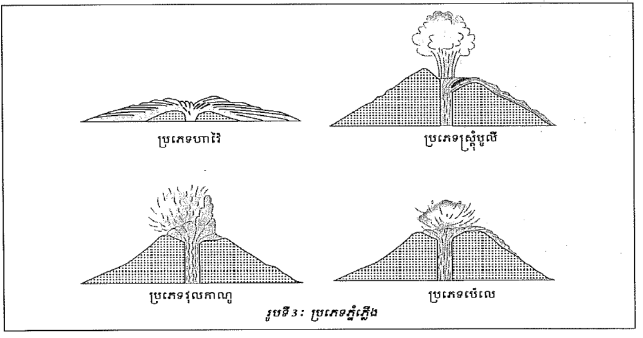
**ដំណើរការ**

1. គ្រូចែកសិស្សជាក្រុមតូច និងចែកសម្ភារឱ្យសិស្សតាមក្រុម។
2. បន្ទាប់ពីក្រុមនីមួយៗបានពិភាក្សា និងវិភាគរូបភាពភ្នំភ្លើង ដូច្នេះចូរគ្រូនាំសិស្សបង្ហាញការរកឃើញរបស់ខ្លួន។

**3. ប្រភេទភ្នំភ្លើង**

ប្រភេទផ្សេងៗនៃបន្ទះភ្នំភ្លើងបង្កើតឱ្យមានប្រភេទភ្នំភ្លើងខុសប្លែកគ្នា។ ភ្នំភ្លើងខ្លះ កើតឡើងពីលំហូរដីស្ងួតស្ងួតនៃកម្រិតភ្នំភ្លើងយ៉ាងស្តើងហូរជាប់ជាដុំធំ ហើយរីករាលដាលទៅលើតំបន់ដីទូលាយ។ ខ្លះកើតឡើងពីបន្ទុះដ៏ខ្លាំងក្លា ហើយខ្លះទៀតកើតឡើងពីការរួមផ្សំរវាងកម្រិតភ្នំភ្លើងដែលហូរយឺតៗយ៉ាងស្ងៀមស្ងួតនិងបន្ទុះដ៏ខ្លាំងក្លាចូលគ្នា។ ភ្នំភ្លើងមាន 4 ប្រភេទ ៖

- ប្រភេទហាវី ៖ គេជួបប្រទះនៅលើកោះហាវី ដូចជាភ្នំភ្លើងផ្សារម៉ា មានកម្ពស់រហូតដល់ 9000 ម៉ែត្រ។ ភ្នំភ្លើងនេះកើតឡើងពីលំហូរយ៉ាងឆ្ងាយនិងត្រួតពីលើគ្នាជាច្រើនដង។
- ប្រភេទស្ត្រូបូលី ៖ ភ្នំភ្លើងស្ត្រូបូលីគេប្រទះឃើញនៅលើកោះលីប៊ី លក្ខណៈសម្គាល់ពិសេសរបស់វាដោយសារបន្ទុះវាព្រួសផ្ទាំងកម្រិតច្រើនជាងគ្រាមវិញជាគ្រាប់បែក។ ភ្នំភ្លើងនេះមានរាងដូចជាត្របែងចេកដែលមានកម្ពស់ខ្ពស់ៗ។
- ប្រភេទវុលកាណូ ៖ ជាប្រភេទភ្នំភ្លើងម្យ៉ាងដែលលក្ខណៈបែបសំខាន់បំផុតដែលរកកល់ធ្វើឱ្យស្ទុះជិតបំផុតនៃកម្រិតភ្នំភ្លើងនោះឡើយ។ ភ្នំភ្លើងវុលកាណូនេះគេឃើញមាននៅលើកោះលីប៊ីដែរ។
- ប្រភេទប៉េលេ ៖ ភ្នំភ្លើងប៉េលេមានលក្ខណៈសម្គាល់ប្រហាក់ប្រហែលទៅនឹងប្រភេទវុលកាណូដែរ ថ្មដែលមានកម្រិតខ្លាំងណាស់ ហើយអាចមិនមានបំផុតរបស់វាជិតទៀតផង។ ភ្នំភ្លើងប្រភេទនេះបង្កើតបានជាកំពូលស្រួចៗ។



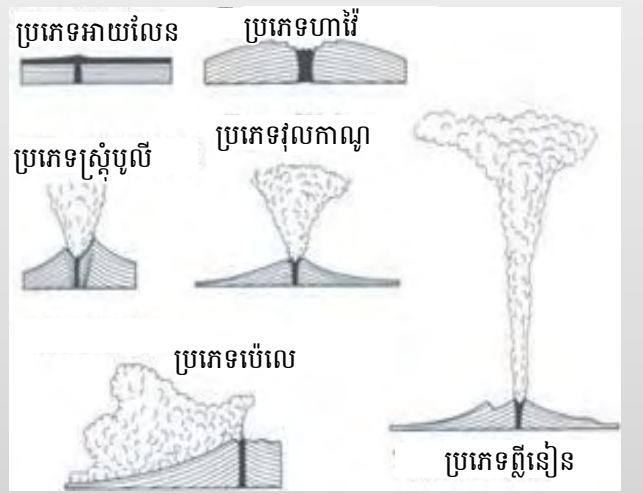
288



**ចំណេះដឹងបន្ថែម ៖ ការចាត់ថ្នាក់នៃបន្ទះភ្នំភ្លើង**

បន្ទះភ្នំភ្លើងមានច្រើនប្រភេទផ្សេងគ្នា។ ជាញឹកញាប់លក្ខណៈនៃបន្ទះភ្នំភ្លើងត្រូវបានចាត់ថ្នាក់ដោយដាក់ឈ្មោះតាមឈ្មោះរបស់ភូគព្ភវិទូដែលបានរកឃើញប្រភេទបន្ទះភ្នំភ្លើងនោះ។ ទោះបីពួកវាជាភ្នំភ្លើងដូចគ្នាក៏ដោយ ប៉ុន្តែពួកវាផ្ទុះខុសគ្នា។

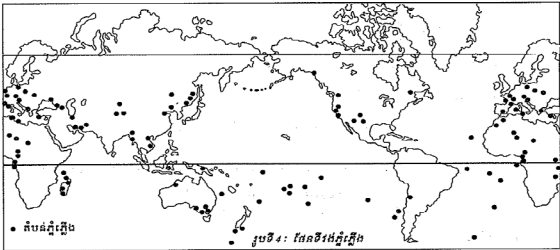
1. **បន្ទះប្រភេទញីរៀន** ៖ ជាប្រភេទបន្ទះដែលមានបរិមាណពុយម៉ែ និងធ្លុះភ្នំភ្លើងជាច្រើនត្រូវបានព្រួសចេញពីមាត់ភ្នំភ្លើងមកលើយ៉ាងខ្ពស់ទៅក្នុងមេឃ ហើយធ្លាក់ចុះមកក្រោមវិញលើចំហៀងភ្នំភ្លើងជាប្រធាតុពីរីក្លាស្ទិចទំហំធំ។
2. **បន្ទះប្រភេទវុលកាណូ** ៖ ជាប្រភេទបន្ទះដែលបើកចំហដោយសម្ពាធខ្ពស់ៗ។ ខ្ពស់នេះត្រូវបានខ្ទប់នៅមាត់ភ្នំភ្លើងដោយសារកំអែខាងស្ថិតរកកល់ធ្វើឱ្យជិតស្ទុះនៅពេលវាផ្តាច់ចេញពីម៉ាក់ម៉ា។ នៅពេលមានបន្ទះប្រភេទនេះកើតឡើងគេឃើញមានគ្រាប់បែកភ្នំភ្លើង ដុំសំលាភ្នំភ្លើង និងធ្លុះភ្នំភ្លើងត្រូវបានព្រួសចេញមកក្រៅយ៉ាងខ្លាំង។
3. **បន្ទះប្រភេទស្ត្រូបូលី** ៖ ជាប្រភេទបន្ទះដែលបំណែក ឬគ្រាប់បែកភ្នំភ្លើងរបស់ម៉ាក់ម៉ាត្រូវបានព្រួសចេញតាមមាត់ភ្នំភ្លើងតាមចន្លោះពេលវេលាខ្លីទៀងទាត់។
4. **បន្ទះប្រភេទហាវី** ៖ ជាប្រភេទបន្ទះដែលមិនខ្លាំងដោយសារកំអែដែលព្រួសចេញមានលក្ខណៈដូចសិលាបាសាល់ខាងស្ថិត។
5. **បន្ទះប្រភេទប៉េលេ** ៖ ជាប្រភេទបន្ទះដែលមានផ្ទុកពណកកម្តៅ (ប្រភេទរូបរាងប្រធាតុពីរីក្លាស្ទិច)។ បន្ទះភ្នំភ្លើងប៉េលេកើតឡើងនៅឆ្នាំ 1902 ជាពិសេសនៅចន្លោះឆ្នាំ 1929 - 1932។
6. **បន្ទះប្រភេទអាយរ៉ែល** ៖ ជាប្រភេទបន្ទះដែលមានប្រតិកម្មទៅវិញទៅមករវាងកំអែភ្នំភ្លើង និងទឹកកកនៅក្នុងផ្ទាំងទឹកកកដែលនៅគ្របពីលើភ្នំភ្លើង។



4. គូម៉ាតាភ្នំភ្លើង

ផែនទីរូប ២ មេរៀនទី ៣

ភ្នំភ្លើងស្ថិតនៅតាមខ្សែប៉ូលែរចែកសំបកផែនដី។ តំបន់ភ្នំភ្លើងស្ថិតនៅស៊ីតាភ្នំភ្លើងតំបន់ព័រស៊ីង ផ្នត់ថ្មី។ តំបន់សមុទ្រជ្រៅ ឬតំបន់បំណាក់ទ្រន។



មេរៀនសង្ខេប

សម្ពាធ និងកម្ដៅបានធ្វើឱ្យសិលាវារចេញមកក្រៅហៅថា ម៉ាក់ម៉ា។ ម៉ាក់ម៉ាចេញមកលើ ផ្ទៃផែនដីហៅថា ភ្នំភ្លើង។

បន្ទុកភ្នំភ្លើងបង្កើតឱ្យមានប្រភេទភ្នំភ្លើងខុសប្លែកគ្នា។ ភ្នំភ្លើងខ្លះ កើតឡើងពីលំហូរដ៏ ស្ងួតស្ងៀមនៃកម្ដៅភ្នំភ្លើងយ៉ាងខ្លាំងដាច់ជាតិខ្លះ ហើយវិភាយជាលំហូរដ៏ស្ងួតស្ងៀម។ ខ្លះ កើតឡើងពីបន្ទុកខ្លាំងខ្លាំងគ្នា ហើយខ្លះទៀតកើតឡើងពីការរួមផ្សំរវាងកម្ដៅដែលហូរឆ្លើយយ៉ាង ស្ងៀមស្ងួតនិងបន្ទុកខ្លាំងគ្នា។ ភ្នំភ្លើងមាន៤ ប្រភេទដូចជា ប្រភេទហាវ៉ៃ ប្រភេទស្រ្តូបូលី ប្រភេទរុលកាណូ និងប្រភេទប៉េលេ។

សំណួរ

1. ចូរពន្យល់ពីបន្ទុកភ្នំភ្លើង ?
2. តើកម្ដៅភ្នំភ្លើងមានប៉ុន្មានប្រភេទ ? ឱ្យខ្លះ ?
3. ចូររៀបរាប់ពីបន្ទុកស្ងួតស្ងៀមនិងបន្ទុកខ្លាំង ?
4. តើប៉ូលែរភ្នំភ្លើងមានឱ្យខ្លះ ?
5. តើភ្នំភ្លើងមានប៉ុន្មានប្រភេទ ? ឱ្យខ្លះ ?

289

វត្ថុបំណង  
សិស្សនឹងបង្ហាញពីទីតាំងភ្នំភ្លើងភាគច្រើនកើតឡើង។

សកម្មភាព

សំណួរគន្លឹះ: “យើងនាំគ្នាកកកន្លែងរបាយភ្នំភ្លើងភាគច្រើននៅលើ ពិភពលោក!”

សម្ភារ រូបទី 4 ៖ ផែនទីរូបភ្នំភ្លើង  
ដំណើរការ

1. គ្រូចែកសិស្សជាបីក្រុមតូច និងចែកផ្នែកសំណួរឱ្យសិស្ស។
2. បន្ទាប់ពីក្រុមនីមួយៗបានសរសេរចម្លើយវិភាគរូបភាព។  
គ្រូតប្រើលើកទឹកចិត្ត និងនាំសិស្សពិភាក្សា បង្ហាញលទ្ធផល កិច្ចការរបស់ខ្លួន។

សេចក្ដីសន្និដ្ឋានដែលសិស្សអាចរកឃើញ  
ភ្នំភ្លើងភាគច្រើនស្ថិតនៅតាមបណ្តោយខ្សែប៉ូលែរចែកផ្នែក មណ្ឌលល្ង ឬសំបកផែនដី។ តំបន់ភ្នំភ្លើងភាគច្រើនស្ថិតនៅ ត្រួតស៊ីតាភ្នំភ្លើងតំបន់ព័រស៊ីងផ្នត់ថ្មី។ តំបន់សមុទ្រជ្រៅ និងតំបន់ បំណាក់ទ្រន។

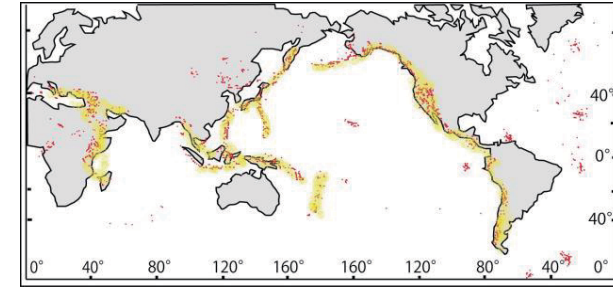
ចម្លើយសំណួរ

1. បន្ទុកភ្នំភ្លើង គឺជាបាតុភូតធរណីដែលម៉ាក់ម៉ា និងធ្លុះភ្នំភ្លើងត្រូវ បានព្រួសចេញមកលើផ្ទៃផែនដីតាមម៉ាក់ម៉ាភ្នំភ្លើង។
2. កំអែភ្នំភ្លើងមាន 4 ប្រភេទ។ ប្រភេទទី១ មានពណ៌ខ្មៅស្រអាប់ ដោយសារសម្បូរធាតុដែក និងម៉ាញ៉េស្យូម កម្ដៅប្រភេទទី២ មានពណ៌ក្លឺថ្លាដោយសារសម្បូរធាតុស៊ីលីកាតច្រើនផ្សំនឹងធាតុដែក និងម៉ាញ៉េស្យូម កម្ដៅប្រភេទទី៣ មានសមាសភាពគីមីប្រហាក់ ប្រហែលទៅនឹងកម្ដៅប្រភេទទី១ និងទី២ ដែរ និងកម្ដៅប្រភេទទី៤ មានផ្ទុកបរិមាណខ្ពស់នៃបាយទឹក និងកាបូនិចដ៏ច្រើន។
3. បន្ទុកស្ងួតស្ងៀមឱ្យឃើញជាទន្លេកំអែភ្នំភ្លើងក្តៅពណ៌ក្រហមដែល ចេញមកក្រៅស្ងួតស្ងៀមបញ្ចេញនូវបរិមាណសិលាវាយជាច្រើន។ រីឯបន្ទុកខ្លាំងបង្ហាញឱ្យឃើញជាពន្លឺកន្លែង និងខ្ពស់នៃក្តៅពណ៌ សព្វសព្វចេញពីភ្នំភ្លើងក្នុងល្បឿនលឿនជាសម្លេង។
4. បំណែកសិលាភ្នំភ្លើងរួមមាន ដុំសិលាភ្នំភ្លើង គ្រាប់បែកភ្នំភ្លើង ធ្នូលីភ្នំភ្លើង និងធ្លុះភ្នំភ្លើង។
5. ភ្នំភ្លើងមាន 4 ប្រភេទគឺ ៖ ប្រភេទហាវ៉ៃ ប្រភេទស្រ្តូបូលី ប្រភេទរុលកាណូ និងប្រភេទប៉េលេ។

ខ្លឹមសារសំខាន់នៃមេរៀននេះ:

- សិលាវារក្តៅនៅក្នុងផែនដី ហៅថា ម៉ាក់ម៉ា។ ម៉ាក់ម៉ាចេញមក លើផ្ទៃផែនដី ហៅថា កំអែភ្នំភ្លើង។ កន្លែងដែលកំអែភ្នំភ្លើងផ្ទុះ និងហូរចេញមកលើផ្ទៃផែនដី ហៅថា បំពង់ភ្នំភ្លើង។
- រូបធាតុផ្សំរបស់កំអែភ្នំភ្លើងបានផ្តល់ជាគន្លឹះដ៏សំខាន់មួយឱ្យ យើងដឹងពីសមាសធាតុគីមីរបស់ម៉ាក់ម៉ានៅខាងក្នុងផែនដី។
- បំណែកសិលាភ្នំភ្លើងប្រូបធាតុពីរ៉ូក្លាស្ទិចជាច្រើនមានទំហំ ខុសគ្នាត្រូវបានព្រួសចេញមកលើផ្ទៃផែនដីនៅក្នុងអាកាស នៅអំឡុងពេលបន្ទុកភ្នំភ្លើង។ បំណែកទាំងនោះរួមមាន ធ្នូលីភ្នំភ្លើង ធ្លុះភ្នំភ្លើង និងគ្រាប់បែកភ្នំភ្លើង...។
- ប្រភេទផ្សេងៗនៃបន្ទុកភ្នំភ្លើងបង្កើតឱ្យមានប្រភេទភ្នំភ្លើងខុស ប្លែកគ្នា ដូចជា ប្រភេទហាវ៉ៃ ប្រភេទស្រ្តូបូលី ប្រភេទរុលកាណូ និងប្រភេទប៉េលេ ជាដើម។
- បន្ទុកភ្នំភ្លើងភាគច្រើនកើតឡើងនៅក្នុងផ្នែកសំបកផែនដី នៃពិភពលោកដែលមានចលនា និងសកម្មភាពខ្លាំង ដូចជា តំបន់ព័រស៊ីងផ្នត់ថ្មី។ តំបន់សមុទ្រជ្រៅ និងតំបន់បំណាក់ទ្រន។

ចំណេះដឹងបន្ថែម ៖ របាយតំបន់ភ្នំភ្លើង  
ចំពោះចម្លើយសំណួរទី 5 ខាងលើ វាអាចជាចម្លើយដែល មិនអាចធ្វើបានពីព្រោះថាមិនមានការយល់ស្របជាទូទៅណាមួយ អំពីប្រភេទបន្ទុកភ្នំភ្លើងនៅឡើយ។ នៅខាងស្តាំនេះ គឺជាផែនទីភ្នំ ភ្លើងដែលមានសកម្មភាពក្នុងរយៈពេល 10 000 ឆ្នាំនេះ។



**សកម្មភាព និងចំណេះដឹងបន្ថែម**

**សកម្មភាព**

**ការដៅទីតាំងភ្នំភ្លើង**

**វត្ថុបំណង ៖** ដៅទីតាំងនៃភ្នំភ្លើងមួយចំនួននៅលើផែនទីពិភពលោក។

**សម្ភារៈ ៖** ផែនទីពិភពលោក ក្រដាសពណ៌ស ខ្មៅដែលពណ៌

**ដំណើរការ ៖**

1. តារាងនៅខាងស្តាំបង្ហាញពីទីតាំងភ្នំភ្លើងទាំង 17 កន្លែងដែលបានកើតឡើងជាទ្រង់ទ្រាយដោយគិតជាជីក្រៃនៃរយៈទទឹង និងរយៈបណ្តោយ។
2. ចូរអ្នកប្រើប្រាស់ខ្មៅដែលពណ៌ដើម្បីដៅទីតាំងភ្នំភ្លើងនីមួយៗនៅលើផែនទីពិភពលោក។  
 ឧទាហរណ៍ ៖ ចូរអ្នកដៅទីតាំងភ្នំភ្លើងលេខរៀងទី 13 ដោយដៅកាត់តាមខ្សែរយៈទទឹងទី 5°N (5°ខាងជើង) ឱ្យទៅដល់កន្លែងដែលវាកាត់តាមខ្សែរយៈបណ្តោយទី 105°E (105°ខាងកើត)។ បន្ទាប់មក ចូរអ្នកសរសេរលេខ 13 នៅត្រង់ចំណុចប្រសព្វគ្នានេះ។  
 ចំណុចនេះគួរតែស្ថិតនៅចំកោះស៊ូម៉ាត្រានៃប្រទេសឥណ្ឌូនេស៊ី។ ចូរអ្នកបន្តដៅទីតាំងភ្នំភ្លើងដែលនៅសល់។ ភ្នំភ្លើងទាំងអស់នេះ គឺគ្រាន់តែជាភ្នំភ្លើងមួយចំនួនតូចក្នុងចំណោមភ្នំភ្លើងជាច្រើនទៀតដែលបានរកឃើញនៅក្នុងតំបន់នេះ។
3. បន្ទាប់ពីអ្នកបានបញ្ចប់ការដៅទីតាំងភ្នំភ្លើងទាំងអស់រួចហើយ ចូរអ្នកព្យាយាមឆ្លើយសំណួរខាងក្រោមនេះ ៖
  - A. តើមហាសមុទ្រមួយណាមានភ្នំភ្លើងដែលលាតសន្ធឹងរហូតដល់ភាគខាងជើង និងភាគខាងត្បូង ក្បែរចំណុចកណ្តាលរបស់វា?
  - B. តើមហាសមុទ្រមួយណាមានរង់ភ្នំភ្លើងស្ថិតនៅលើដីដែលពុំទ្រុឌទ្រោម?
  - C. តើមានគំរូទូទៅមួយនៅក្នុងទីតាំងភ្នំភ្លើងដៃឬទេ?

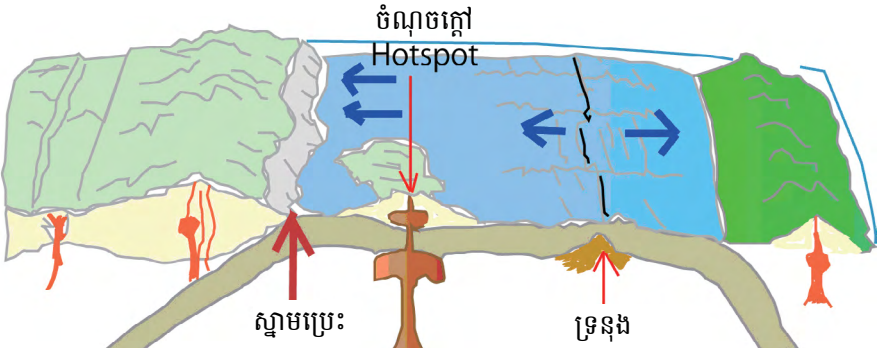
ភ្នំភ្លើង	រយៈទទឹង	រយៈបណ្តោយ
1	65°N	15°W
2	60°N	150°W
3	55°N	160°E
4	45°N	120°W
5	45°N	15°E
6	40°N	30°W
7	40°N	145°E
8	30°N	60°E
9	20°N	105°W
10	17°N	25°W
11	0°N	75°W
12	5°S	155°E
13	5°N	105°E
14	10°S	120°E
15	15°S	60°E
16	30°S	70°W
17	55°S	25°W

**សេចក្តីសន្និដ្ឋាន ៖**

ជាទូទៅ តើភ្នំភ្លើងភាគច្រើនស្ថិតនៅកន្លែងណានៃផែនដី?

**ចំណេះដឹងបន្ថែម**

បន្ទះភ្នំភ្លើង គឺជាបាតុភូតព្រលឹងចេញមកពីក្នុងផែនដីចេញមកលើផ្ទៃផែនដី។ បន្ទះភ្នំភ្លើងមិនសុទ្ធតែកើតឡើងនៅគ្រប់ទីកន្លែងនៅលើផែនដីនោះឡើយ។ របាយភ្នំភ្លើងបានតម្រៀបជូរគ្នានៅតាមបណ្តោយក្រវាត់ភ្នំភ្លើងឬព្រំដែនធ្លាក់មណ្ឌលថ្ម។ ផ្ទៃលើផែនដីបានគ្របដណ្តប់ដោយបំណែកធ្លាក់មណ្ឌលថ្មជាច្រើន។ ភ្នំភ្លើងជាច្រើនកើតឡើងនៅតាមព្រំដែនធ្លាក់មណ្ឌលថ្មឬព្រំដែនធ្លាក់តិចតួនិចដែលអិលចុះក្រោមគ្នា បង្កើតបានជា **ស្នាមប្រេះ (trench)** និងនៅតាមព្រំដែនធ្លាក់មណ្ឌលថ្មដែលរំកិលចេញពីគ្នា លាតសន្ធឹងខាងក្រោមទឹក បង្កើតបានជា **ទ្រនុង (ridge)** កណ្តាលមហាសមុទ្រ។ ក្រៅពីនេះ មានភ្នំភ្លើងមួយចំនួនទៀតស្ថិតនៅខាងក្នុងធ្លាក់នៅចំកណ្តាលធ្លាក់មណ្ឌលថ្ម នៅឆ្ងាយពីព្រំដែនធ្លាក់ និងនៅឆ្ងាយពីលើចំណុចក្តៅ (**hotspot**) នៅពេលម៉ាក់ម៉ាដ្លុះចេញតាមសំបកផែនដីមកកាន់ផ្ទៃផែនដីខាងក្រោមទឹក ដូចជា ភ្នំភ្លើងនៅហាវ៉ៃ ជាដើម។



សន្លឹកកិច្ចការ : រក្សាសិទ្ធិដោយ © 1999 2007, United Nations





## ចម្លើយ ការដាក់ពិន្ទុ និងការវិនិច្ឆ័យ

### ចម្លើយ និងការដាក់ពិន្ទុ (ពិន្ទុសរុប 50 ពិន្ទុ)

1. ក. សីតុណ្ហភាព និងសម្ពាធ (5 ពិន្ទុ)

<b>ការដាក់ពិន្ទុ:</b>	5 ពិន្ទុ = ជ្រើសរើសចម្លើយ ក.
	0 ពិន្ទុ = ជ្រើសរើសចម្លើយ ខ. គ. ឃ.

2. ខ. កំអែ (10 ពិន្ទុ)

<b>ការដាក់ពិន្ទុ:</b>	5 ពិន្ទុ = ជ្រើសរើសចម្លើយ ខ.
	0 ពិន្ទុ = ជ្រើសរើសចម្លើយ ក. គ. ឃ.

3. (ក) បន្ទះស្ងប់ (5 ពិន្ទុ)

<b>ការដាក់ពិន្ទុ:</b>	5 ពិន្ទុ = ជ្រើសរើសចម្លើយ បន្ទះស្ងប់
	0 ពិន្ទុ = ជ្រើសរើសចម្លើយក្រៅពីនេះ

(ខ) បន្ទះស្ងប់ (5 ពិន្ទុ)

<b>ការដាក់ពិន្ទុ:</b>	5 ពិន្ទុ = ជ្រើសរើសចម្លើយ បន្ទះស្ងប់
	0 ពិន្ទុ = ជ្រើសរើសចម្លើយក្រៅពីនេះ

(គ) បន្ទះខ្លាំង (10 ពិន្ទុ)

<b>ការដាក់ពិន្ទុ:</b>	5 ពិន្ទុ = ជ្រើសរើសចម្លើយ បន្ទះខ្លាំង
	0 ពិន្ទុ = ជ្រើសរើសចម្លើយក្រៅពីនេះ

(ឃ) បន្ទះខ្លាំង (5 ពិន្ទុ)

<b>ការដាក់ពិន្ទុ:</b>	5 ពិន្ទុ = ជ្រើសរើសចម្លើយ បន្ទះខ្លាំង
	0 ពិន្ទុ = ជ្រើសរើសចម្លើយក្រៅពីនេះ

(ង) បន្ទះខ្លាំង (5 ពិន្ទុ)

<b>ការដាក់ពិន្ទុ:</b>	5 ពិន្ទុ = ជ្រើសរើសចម្លើយ បន្ទះខ្លាំង
	0 ពិន្ទុ = ជ្រើសរើសចម្លើយក្រៅពីនេះ

(ច) បន្ទះខ្លាំង (5 ពិន្ទុ)

<b>ការដាក់ពិន្ទុ:</b>	5 ពិន្ទុ = ជ្រើសរើសចម្លើយ បន្ទះខ្លាំង
	0 ពិន្ទុ = ជ្រើសរើសចម្លើយក្រៅពីនេះ

4. (5 ពិន្ទុ)

(ក)  $> 64 \text{ mm}$        $2 \text{ mm} - 64 \text{ mm}$        $< 2 \text{ mm}$

<b>ការដាក់ពិន្ទុ:</b>	5 ពិន្ទុ = ជ្រើសរើសចម្លើយ (ក)
	0 ពិន្ទុ = ជ្រើសរើសចម្លើយ (ខ) (គ) (ឃ) (ង) (ច)

5. (ច) ប្រភេទភ្លឺរៀន (5 ពិន្ទុ)

<b>ការដាក់ពិន្ទុ:</b>	5 ពិន្ទុ = ជ្រើសរើសចម្លើយ (ច)
	0 ពិន្ទុ = ជ្រើសរើសចម្លើយ (ក) (ខ) (គ) (ឃ) (ង)

**ការវិនិច្ឆ័យ**

ពិន្ទុ	ការវិនិច្ឆ័យ និងសំណូមពរសម្រាប់ការបង្រៀន
0 – 20	សិស្សដែលទទួលបានពិន្ទុនៅចន្លោះនេះ មានន័យថាពួកគេមិនទាន់អាចចងចាំអំពី លក្ខណៈនៃម៉ង់តូ (សំណួរទី 1) និងមន័យអំពីកំអែភ្នំភ្លើង (សំណួរទី 2) លក្ខណៈនៃបន្ទុះស្ងប់និងបន្ទុះខ្លាំងរបស់ភ្នំភ្លើង (សំណួរទី 3) ការចាត់ថ្នាក់រូបធាតុពីរ្យក្លាស្ទិច (សំណួរទី 4) និងប្រភេទភ្នំភ្លើង (សំណួរទី 5) បានច្បាស់លាស់។ ដូច្នេះ គ្រូគប្បីនាំសិស្សចងចាំអំពី លក្ខណៈម៉ង់តូ និងមន័យកំអែភ្នំភ្លើង លក្ខណៈនៃបន្ទុះស្ងប់និងបន្ទុះខ្លាំងរបស់ភ្នំភ្លើង ការចាត់ថ្នាក់រូបធាតុពីរ្យក្លាស្ទិច និងប្រភេទភ្នំភ្លើង។ គ្រូចាំបាច់ត្រូវបញ្ជាក់ពីរូបធាតុមូលដ្ឋានឱ្យសិស្សផងដែរ។ ប៉ុន្តែវាសំខាន់ណាស់ដែលគ្រូគួរយកចិត្តទុកដាក់បង្រៀនសិស្សអំពី កំអែភ្នំភ្លើង បន្ទុះភ្នំភ្លើង និងការចាត់ថ្នាក់ប្រភេទភ្នំភ្លើង។
21 – 30	សិស្សដែលទទួលបានពិន្ទុនៅចន្លោះនេះ មានន័យថាពួកគេអាចចងចាំ និងយល់បានអំពី លក្ខណៈម៉ង់តូ និងមន័យកំអែភ្នំភ្លើងលក្ខណៈនៃបន្ទុះស្ងប់ និងបន្ទុះខ្លាំងរបស់ភ្នំភ្លើង ការចាត់ថ្នាក់រូបធាតុពីរ្យក្លាស្ទិច និងប្រភេទភ្នំភ្លើង បានច្បាស់លាស់។ ប៉ុន្តែ ពួកគេនៅមិនទាន់អាចយល់ពីទំនាក់ទំនងរវាងសីតុណ្ហភាព និងសម្ពាធ (ទំនាក់ទំនងរវាងម៉ង់តូ និងម៉ាក់ម៉ា) បានច្បាស់លាស់នៅឡើយ។ ដូច្នេះ គ្រូគប្បីពន្យល់ឱ្យបានច្បាស់លាស់ត្រង់ចំណុចដែលថា “សិលាម៉ង់តូក្តៅផ្លាស់ទីឡើង មកលើ ចុះត្រជាក់ កករឹង និងមានសម្ពាធខ្ពស់ ប៉ុន្តែបន្ទាប់មកសិលានេះបានផ្លាស់ប្តូរពីរឹងមកវិញ នៅពេលដែលវាផ្លាស់ទីរលំចុះក្រោម ឡើងក្តៅ និងមានសម្ពាធទាប។ សិលាដែលមានលក្ខណៈរាវបែបនេះគឺជា ម៉ាក់ម៉ា។”
31 – 40	សិស្សដែលទទួលបានពិន្ទុនៅចន្លោះនេះ មានន័យថាពួកគេយល់មេរៀននេះបានល្អ និងយល់ច្បាស់ពីកត្តាត្រូវការសម្រាប់ការចាត់ថ្នាក់កំអែភ្នំភ្លើង និងប្រភេទភ្នំភ្លើង។ ប៉ុន្តែពេលខ្លះ សិស្សបង្កើតកំហុសអំពីបន្ទុំពាក្យដោយសារមិនយល់។ ដូច្នេះ អ្វីដែលគ្រូគប្បីណែនាំសិស្សឱ្យកាន់តែយល់បន្ថែមទៀត ដោយសរសេរវិធីសាស្ត្រចាត់ថ្នាក់កំអែភ្នំភ្លើង និងប្រភេទភ្នំភ្លើងនៅលើក្តារខៀន។
41 – 50	សិស្សដែលទទួលបានពិន្ទុនៅចន្លោះនេះ មានន័យថាពួកគេយល់មេរៀននេះបានល្អណាស់។ សិស្សកាន់តែចាប់អារម្មណ៍ ថែមទៀតក្នុងការសិក្សាអំពីភ្នំភ្លើង ប្រសិនបើគ្រូបង្ហាញពីព័ត៌មានបន្ថែម។ បើមិនដូច្នោះទេ គ្រូអាចទាញសិស្សឱ្យប្រុងប្រយ័ត្នទៅលើចំណុចស្មុគស្មាញនៃកត្តាផ្សេងៗសម្រាប់ការចាត់ថ្នាក់កំអែភ្នំភ្លើង និងប្រភេទភ្នំភ្លើង។

# មេរៀនទី 4

# រញ្ជួយដី

## វត្ថុបំណង

បន្ទាប់ពីសិក្សាមេរៀននេះចប់ សិស្សនឹង ៖

- ប្រាប់ពីកន្លែង និងមូលហេតុនាំឱ្យមានការរញ្ជួយដី
- បង្ហាញពីប្រភេទរលករញ្ជួយដី និងរង្វាស់រញ្ជួយដី
- កំណត់បានពីកម្រិតរញ្ជួយដីដែលបណ្តាលឱ្យមានគ្រោះមហន្តរាយ។

## ផែនការមេរៀន

មេរៀននេះត្រូវបានបែងចែកសម្រាប់បង្រៀន និងរៀនរយៈពេល 3 ម៉ោង ដូចបង្ហាញក្នុងតារាង 1 ខាងក្រោម។

**តារាង 1 បំណងចែកម៉ោងបង្រៀន**

ចំនួនម៉ោងសិក្សា	ចំណងជើងរងមេរៀន	ទំព័រក្នុងសៀវភៅសិក្សាគោល
1ម៉ោង	1. រញ្ជួយដី 2. មូលហេតុនៃការរញ្ជួយដី	290
1ម៉ោង	3. ប្រភេទរលករញ្ជួយដី	291
1ម៉ោង	4. រង្វាស់នៃការរញ្ជួយដី 5. គ្រោះមហន្តរាយនៃការរញ្ជួយដី មេរៀនសង្ខេប សំណួរ	292 – 293

## ការណែនាំការមេរៀន

តារាង 2 បង្ហាញពីផែនការបង្រៀន និងលទ្ធផលរង្វាយតម្លៃក្នុងម៉ោងសិក្សានីមួយៗ។ គ្រូគប្បីដឹកនាំសកម្មភាពទាំងអស់ និងវាយតម្លៃសិស្សដោយផ្អែកលើលក្ខណៈវិនិច្ឆ័យនៅក្នុងតារាង 2។ ដូចសកម្មភាពនៅក្នុងតារាង 2 សិស្សនឹងធ្វើសកម្មភាពផ្សេងៗអំពី រញ្ជួយដី មូលហេតុនៃការរញ្ជួយដី ប្រភេទរលករញ្ជួយដី រង្វាស់នៃការរញ្ជួយដី និងគ្រោះមហន្តរាយនៃការរញ្ជួយដី ដែលសកម្មភាពទាំងនេះនឹងជួយសិស្សអភិវឌ្ឍការយល់របស់ពួកគេអំពី រញ្ជួយដី។ ទោះជាយ៉ាងណា គ្រូគប្បីប្រើទេពកោសល្យ ភាពទន់ភ្លន់ និងភាពបត់បែនរបស់ខ្លួន ដើម្បីច្នៃប្រឌិតទៅតាមកម្រិតយល់ដឹងរបស់សិស្ស និងស្ថានភាពជាក់ស្តែងរបស់ថ្នាក់រៀន ដើម្បីសម្របសម្រួលទៅតាមសកម្មភាពបង្រៀននិងរៀនដូចមាននៅក្នុងការណែនាំការបង្រៀននេះ។

**តារាង 2 ផែនការបង្រៀន និងរង្វាយតម្លៃ**

ម៉ោងសិក្សា	វត្ថុបំណង	សកម្មភាព	លទ្ធផលរង្វាយតម្លៃ
ទី 1	កំណត់ពីទំហំនៃរញ្ជួយដីដែលបណ្តាលឱ្យមានគ្រោះមហន្តរាយនៃការរញ្ជួយដី។	សិស្សគិត និងវិភាគថាតើមានអ្វីកើតឡើងប្រសិនបើរញ្ជួយដីកើតឡើងនៅក្នុងតំបន់របស់នៅរបស់ពួកគេ។	សិស្សអាចរាយឈ្មោះគ្រោះមហន្តរាយដូចគ្នា និងពន្យល់ពីគ្រោះមហន្តរាយទាំងនោះ។
ទី 2	បង្ហាញពីប្រភេទរលករញ្ជួយដី។	សិស្សបង្កើតរលកទី 1 ប្រលក P និងរលកទី 2 ប្រលក S។	សិស្សអាចពន្យល់ភាពខុសគ្នារវាងរលក P និងរលក S។
ទី 3	ប្រាប់ពីរង្វាស់នៃការរញ្ជួយដី និងទីតាំងនៃរញ្ជួយដី។	សិស្សស្វែងយល់ពីទីតាំងសំឡេងនៅពេលពួកគេបិទភ្នែក។	សិស្សអាចពន្យល់ពីរបៀបកំណត់ចំណុចកំណុំរបស់រញ្ជួយដី។

**ចំណុចនៃការបង្រៀន**

ចំណុចនៃការបង្រៀនមេរៀននេះគឺគ្រូគប្បីបង្ហាញរូបភាព (ឬវីដេអូ) រញ្ជួយដីដែលកើតឡើងពិត និងជាក់ស្តែងឱ្យសិស្សមើល។  
ឧទាហរណ៍៖ រញ្ជួយដីដ៏ធំមួយដែលធ្លាប់បានកើតឡើងនៅក្នុងខេត្តកូបេ ប្រទេសជប៉ុន ក្នុងឆ្នាំ 1995។ ការបង្ហាញបែបនេះអាចធ្វើឱ្យសិស្ស  
សម្គាល់ថារញ្ជួយដី គឺជាគ្រោះមហន្តរាយធម្មជាតិដ៏គួរឱ្យភ័យខ្លាចមួយ។

**ចំណេះដឹងមូលដ្ឋានសម្រាប់មេរៀននេះ**

មុនពេលចាប់ផ្តើមបង្រៀនខ្លឹមសារមេរៀនថ្មីក្នុងម៉ោងសិក្សានីមួយៗ គ្រូគប្បីសួរសិស្សដើម្បីពិនិត្យចំណេះដឹងមានស្រាប់របស់ពួកគេ  
ដើម្បីរកមើលចំណេះដឹងមូលដ្ឋានរបស់សិស្ស ដូចជា៖ (1) វិធីគណនាល្បឿនរញ្ជួយដី (2) រញ្ជួយដីគឺជាគ្រោះមហន្តរាយធម្មជាតិ និង  
(3) រលកស៊ុណាមី។ បើមិនដូច្នោះទេសិស្សនឹងពិបាកសម្រេចបានវត្ថុបំណងមេរៀននេះ។



### រក្សាបំណង

សិស្សនឹងកំណត់ទំហំនៃរញ្ជួយដីដែលបណ្តាលឱ្យមានគ្រោះមហន្តរាយនៃការរញ្ជួយដី។



### សកម្មភាព

គ្រូ ៖ តើប្អូនចង់ធ្លាប់ឮអំពីរញ្ជួយដីដែរឬទេ?

សិស្ស ៖ ខ្ញុំធ្លាប់ឮ។ រញ្ជួយដីធ្វើឱ្យដីដែលយើងកំពុងឈរពីលើញ័រ។

គ្រូ ៖ ដូច្នោះ ប្រសិនបើរញ្ជួយដីកើតឡើង តើវានឹងមានអ្វីកើតឡើង?

សំណួរគន្លឹះ: “យើងនាំគ្នាគិត និងវិភាគថាតើមានអ្វីកើតឡើងប្រសិនបើរញ្ជួយដីកើតឡើងនៅក្នុងតំបន់រស់នៅរបស់យើង។”

#### ដំណើរការ

1. គ្រូចែកសិស្សជាក្រុមៗដើម្បីគិត និងវិភាគ
2. គ្រូក៏តប្បីលើកទឹកចិត្តសិស្សឱ្យសរសេរការគិត វិភាគ និងរកឃើញរបស់ពួកគេ ដើម្បីពន្យល់នៅក្នុងថ្នាក់រៀន។

### មេរៀន

# 4

## រញ្ជួយដី

### ចប់មេរៀននេះ សិស្សអាច

- ប្រាប់បានពីកន្លែងនិងមូលហេតុនាំឱ្យមានការរញ្ជួយដី
- បង្ហាញពីប្រភេទរលករញ្ជួយដីនិងរង្វាស់រញ្ជួយដី
- កំណត់បានពីកម្រិតរញ្ជួយដីដែលបណ្តាលឱ្យមានគ្រោះមហន្តរាយ។

តាមការសិក្សាយើងដឹងថា សំបកផែនដីកើតឡើងពីសិលា។ នៅពេលដែលសិលាខាងក្រោមរលាយផ្ទៃដីធ្វើចលនាអាចអង្រួន និងញ័រផ្ទៃដីលើហោរា រញ្ជួយដី។

#### 1. រញ្ជួយដី

រញ្ជួយដី គឺជាវិញ្ញាណកម្មដែលកើតឡើងពីចលនារបស់សិលាក្រោមផ្ទៃផែនដី។ រញ្ជួយដីកើតឡើងភាគច្រើននៅតំបន់ទើបកកវិញឡើងនៃសំបកផែនដីដូចជា តំបន់ជួរភ្នំក្នុង តំបន់បំណាក់ស្រុកធំៗ។ តំបន់ទាំងនេះ ជាព្រំដែននៃផ្នែកតិចតួនិច។ ផ្នែកតិចតួនិច ធ្វើចលនានៅក្នុងទិសដៅនិងល្បឿនផ្សេងៗគ្នា។ ចលនានេះហើយដែលបណ្តាលឱ្យផ្នែកពីររុញផ្ទុះគ្នា ទាញចេញពីគ្នា ឬរាត់ទាញគ្នាក្នុងទិសដៅផ្ទុយគ្នាដែលទទួលបានលទ្ធផលជាបំណាក់ស្រុក និងពំនើងផ្គុំជាច្រើននៅលើសំបកផែនដី។ រញ្ជួយដីកើតឡើងញឹកញាប់នៅតំបន់ជុំវិញមហាសមុទ្រប៉ាស៊ីហ្វិក សមុទ្រមេឌីទែរ៉ានេ តំបន់ភ្នំអាល់តឺស៍ភ្នំកូកាស ហិម៉ាល័យ និងតំបន់ប្រជុំកោះអង់ទី។ ជាពិសេសនៅតាមជួរភ្នំអង់ទីនិងប្រជុំកោះជប៉ុននៅមានរញ្ជួយដីជាអចិន្ត្រៃយ៍។

#### 2. មូលហេតុនៃការរញ្ជួយដី

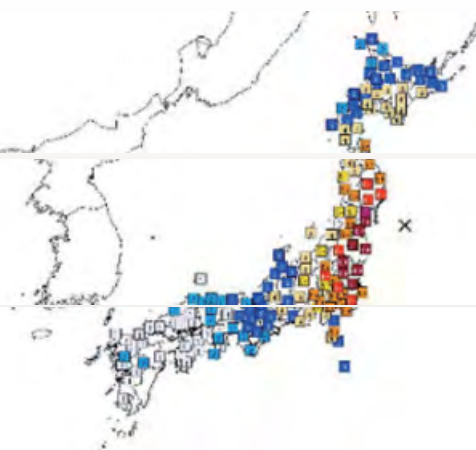
នៅតាមបណ្តាយស្នាមប្រេះជិតតែមតិចតួនិច មានកម្លាំងកើតឡើងធ្វើឱ្យផ្នែកតិចតួនិចមានចលនាដូចជា រុញ ទាញ និងកកិតគ្នាបណ្តាលឱ្យនៅក្នុងផ្នែកខ្លះទ្រង់ទ្រាយក្នុងការទប់ទល់នឹងកម្លាំង។ នៅពេលមានបំណាក់ស្រុក សំបកផែនដីត្រូវបានរុលទល់ឡើង ឬប្រានដាច់ចេញពីគ្នា។ សិលាប្រេះបែកហើយរលាយគ្នាទៅវិញទៅមក។ ទន្ទឹមពេលផ្នែកតិចតួនិចធ្វើចលនាបង្កឱ្យសិលានៅក្បែរៗនោះក៏មានថាមពលដែរ។ សិលាបញ្ចេញថាមពលបណ្តាលឱ្យមានរញ្ជួយដីនៅពេលវាវលាស់។

290



### ចំណេះដឹងបន្ថែម ~ រញ្ជួយដីដែលកើតឡើងនៅឆ្នាំ 2011 នៅឆ្នេរ Tohoku នៅប្រទេសជប៉ុននៃជាយន្តរមហាសមុទ្រប៉ាស៊ីហ្វិក ~

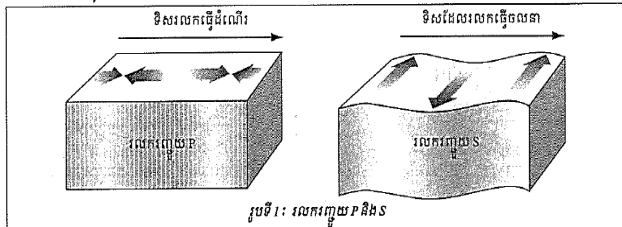
ការរញ្ជួយដីដ៏ធំ និងល្បឿនលឿនមួយបានកើតឡើងនៅតំបន់ភាគឦសាននៃប្រទេសជប៉ុននៅវេលាម៉ោង 14:46 រសៀល ថ្ងៃទី 11 ខែមីនា ឆ្នាំ 2011។ វាជាការរញ្ជួយដីដ៏ខ្លាំងបំផុតនៅក្នុងប្រទេសជប៉ុនចាប់តាំងពីពេលដែលកំណត់ត្រាការរញ្ជួយដីបានចាប់ផ្តើម។ ការរញ្ជួយដីធ្វើឱ្យមានបំណាក់ស្រុក និងបំផ្លាញផ្ទះសំបែងមួយរំពេច និងភ្លាមៗ។ ការរញ្ជួយដីដ៏ធំមួយនោះបានកើតឡើងនៅបាតសមុទ្រ ហើយបានបង្កើតរលកស៊ូណាមិ (Tsunami) និងបានធ្វើឱ្យរាងរបស់បាតសមុទ្រផ្លាស់ប្តូរ។ នៅពេលរលកនេះកើតឡើង វាបានធ្វើឱ្យជញ្ជាំងរំបាំងសមុទ្រកម្ពស់ 10m និងប្រវែង 580m ដែលសាងសង់ឡើងសម្រាប់ការពាររលកស៊ូណាមិត្រូវបានបំផ្លាញ ដោយសាររលកស៊ូណាមិនោះមានកម្ពស់ខ្ពស់ជាងជញ្ជាំងរំបាំងសមុទ្រ។ រលកស៊ូណាមិខ្ពស់ជាងគេបំផុតបានឈានដល់ 40m ។ រលកនេះមានល្បឿន 6m/s (= 20km/h)។ រលកយក្សស៊ូណាមិបានលុកលុយដីឆ្នេរក្នុងចម្ងាយពី 4 km រហូតដល់ 6km ពីឆ្នេរសមុទ្របន្ថែមទៀត។ ការរញ្ជួយដីនោះមិនត្រឹមតែជារញ្ជួយដីដ៏ធំតែប៉ុណ្ណោះទេ គឺវាថែមទាំងបណ្តាលឱ្យមានរលកស៊ូណាមិទៀតផង។ រលកស៊ូណាមិនោះបានធ្វើឱ្យរោងចក្រថាមពលអគ្គិសនីដើរដោយថាមពលនុយក្លេអ៊ែរខូចខាត និងលិចធ្លាយសារធាតុវិទ្យុសកម្មយ៉ាងធ្ងន់ធ្ងរ និងបានរំខានដល់ការផ្គត់ផ្គង់ថាមពលអគ្គិសនីថែមទៀតផង។ ចំនួនសរុបនៃអ្នកស្លាប់ និងបាត់ខ្លួនគឺ 18 483 នាក់។



### ៣. ប្រភេទរលករញ្ជួយដី

នៅពេលដែលសិលាបញ្ចេញថាមពលដោយរលករញ្ជួយដី ធ្វើឱ្យមានចលនាក្នុង ទម្រង់ជារលករញ្ជួយដី។ រលករញ្ជួយដី ជារលកនៃថាមពលដែលធ្វើចលនាឆ្លងកាត់ផែនដី។ រលក រញ្ជួយដីមានពីរប្រភេទគឺ រលកក្នុងនិងរលកផ្ទៃលើ។

#### ៣.១. រលកក្នុង



គឺជារលករញ្ជួយដីដែលធ្វើចលនាឆ្លងកាត់ផ្នែកខាងក្នុងនៃផែនដី។ រលកក្នុងមានពីរប្រភេទគឺ រលកទី ១ ឬរលក P និងរលកទី ២ ឬរលក S ។

- រលកទី ១ ឬរលក P : រលក P គឺជារលករញ្ជួយដីលឿនបំផុតដែលធ្វើចលនាឆ្លងកាត់រូបធាតុរឹង រាវ និងឧស្ម័ន។ ដោយសារល្បឿនលឿននេះហើយទើបវាអាចធ្វើចលនាឆ្លងកាត់ផ្នែកទាំងអស់ នៃផែនដីបាន។ រលក P តែងតែធ្វើចលនាទៅដល់មុនរលកផ្សេងទៀត។
- រលកទី ២ ឬរលក S : រលក S ជារលករញ្ជួយដីដែលធ្វើចលនាឆ្លងកាត់ផែនដីយឺតជាងរលក P រលក S មិនធ្វើដំណើរឆ្លងកាត់រាវឡើយ។ រលក S បង្កើតល្បឿននៅពេលដែលវាធ្វើដំណើរ ឆ្លងកាត់រាវ។ ផ្នែកខាងក្នុងនៃផែនដី គឺជារូបធាតុរាវក្តៅ។ ដោយសារតែរលក S មិនអាចធ្វើ ដំណើរឆ្លងកាត់រូបធាតុរាវ ដូចនេះហើយទើបរលក S ធ្វើដំណើរឆ្លងកាត់ផែនដីដោយល្បឿនយឺត។

#### ៣.២. រលកផ្ទៃលើ ឬរលក L

គឺជារលករញ្ជួយដីដែលយឺតជាងគេ ហើយធ្វើឱ្យផ្ទៃដីលើ ផ្ទៃសមុទ្រឡើងដាច់ដាច់នៅពេលដែលវាធ្វើចលនាតាមផ្ទៃដីលើ។ គេអាចដឹងថាមានរលកផ្ទៃលើបានដោយមនុស្សជាច្រើនបានដឹងពី អារម្មណ៍របស់ពួកគេហាក់ដូចជាស្លឹកនៅលើថ្មភ្លើងដែលរលកមិន ឡើងនៅលើផ្ទៃដីក្នុងស្ថានភាពស្ងួត។ រលករញ្ជួយផ្ទៃលើមានការ បំផ្លាញខ្លាំងជាងរលករញ្ជួយផ្សេងទៀត ព្រោះរលករញ្ជួយនេះអង្រួនផ្ទៃដីតាមទិសបញ្ឈរ។



## រតុបំណង

សិស្សនឹងបង្ហាញបានត្រឹមត្រូវពីប្រភេទរលករញ្ជួយដី។

### សកម្មភាព

**សំណួរគន្លឹះ:** “យើងនាំគ្នាបង្កើតរលកទី 1 ឬរលក P និងរលកទី 2 ឬរលក S ដោយប្រើប្រាស់វីស៊ីវសរសៃរាវ។”

**សម្ភារ វីស៊ីវសរសៃរាវមួយ**

**កំណត់ចំណាំ :** ដំណោះស្រាយភាពលំបាករបស់សិស្សអំពី ប្រភេទរលករញ្ជួយដី

សូមប្រាប់សិស្សថា “P” មានន័យថារលក P ហើយ “S” មានន័យថារលក S ដែលពាក្យនីមួយៗជាអក្សរកាត់។ អក្សរ កាត់ដែលប្រើសម្រាប់ប្រាប់ពីប្រភេទរលកដែលមានឥទ្ធិពលមក លើសិលា។

- អក្សរ P តំណាងឱ្យសង្កត់ (Pressure) និងរលកទី 1 (Primary Wave)
- អក្សរ S តំណាងឱ្យកាត់ (Shear) និងរលកទី 2 (Secondary Wave)។

ការពណ៌នាពីអក្សរកាត់ទាំងពីរនេះពណ៌នាពីពេលវេលាដែល រលករញ្ជួយដីប្រភេទនីមួយៗមកដល់។ រលក P តែងតែមកដល់ មុន ហើយរលក S ក៏តែងតែមកដល់បន្ទាប់។

### សកម្មភាព : យើងនាំគ្នាបង្កើតរលក P និងរលក S

រលករញ្ជួយដីមាន 2 ប្រភេទ។ រលករញ្ជួយដីប្រភេទទីមួយហៅថា រលក P និងប្រភេទមួយទៀតហៅថា រលក S ។ រលក P (primary) គឺជារលកផ្ទៃលើ រីឯរលក S (secondary) គឺជារលកកាត់។ យើងអាចបង្កើតគំរូដូចគ្នាដោយប្រើវីស៊ីវដូចខាងក្រោម។

រលក P (រលកផ្ទៃលើ)

រុញពីចុងម្ខាងនៃវីស៊ីវ

រលក S (រលកកាត់)

ចាប់ចុងម្ខាងរបស់វីស៊ីវហើយ រលាស់ឡើងលើចុះក្រោម

**រត្តបំណង**  
សិស្សនឹងប្រាប់ពីរង្វាស់នៃការញ្ជុយដី ទីតាំងនៃរញ្ជុយដី និងគ្រោះមហន្តរាយនៃការញ្ជុយដី។

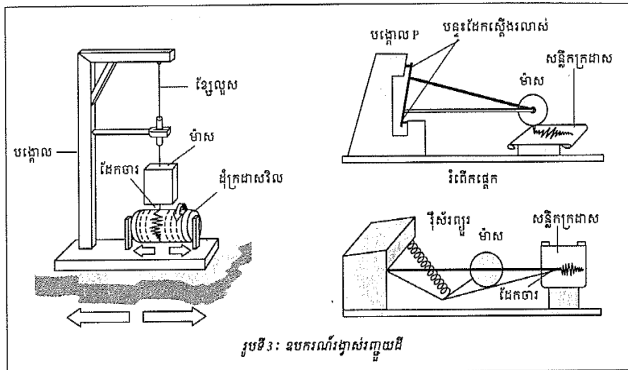
**សកម្មភាព**

**សំណួរគន្លឹះ:** “យើងនាំគ្នាស្វែងយល់ពីទីតាំងសំឡេងនៅពេលពួកគេបិទភ្នែក។”

**ដំណើរការ**

1. ត្រូវនាំសិស្សបិទភ្នែក។ ត្រួតប្រើប្រាស់សិស្សថា “ខ្ញុំនឹងផ្លាស់ទីទៅកាន់ផ្នែកមួយនៃបន្ទប់រៀននេះហើយខ្ញុំនឹងទះដៃ។ នៅពេលបន្ទប់រៀនទះដៃរបស់ខ្ញុំ សូមបន្ទប់រៀនផ្តល់ទៅកាន់កន្លែងដែលបន្ទប់រៀនគិតថាខ្ញុំបានឈរទះដៃ។” ត្រូវត្រូវប្រាកដថាសិស្សទាំងអស់បានបិទភ្នែកជិតនៅពេលត្រូវត្រឡប់មកកាន់ផ្នែកខាងមុខគ្នារៀននៃបន្ទប់រៀនវិញ។ បន្ទាប់មក ត្រូវត្រួតប្រើសិស្សឱ្យកំណត់ទីតាំងដែលត្រូវបានឈរទះដៃអម្បាញ់មិញ។ ត្រូវត្រួតប្រើសិស្សពីវិធីដែលពួកគេប្រើដើម្បីកំណត់បញ្ជាក់ទីតាំងសំឡេងទះដៃ។
2. ត្រូវពន្យល់សិស្សថានៅពេលការញ្ជុយដីកើតឡើង វាត្រូវបានកត់សម្គាល់ឃើញនៅឯស្ថានីយ៍រញ្ជុយដីនានានៅជុំវិញពិភពលោក។ អ្នកវិទ្យាសាស្ត្រផែនដីបានប្រៀបធៀបពេលវេលា និងរយៈពេលដ៏ញ័រទៅដល់ស្ថានីយ៍នីមួយៗធ្វើឱ្យគេអាចដៅចំណុចរញ្ជុយដី និងបង្ហាញពីប្រភពនៃការញ្ជុយដីបាន។

**4. រង្វាស់នៃការញ្ជុយដី**



រូបទី 3: ឧបករណ៍រង្វាស់រញ្ជុយដី

រញ្ជុយដីជាដំណើរមួយដែលមានភាពស្មុគស្មាញ ប៉ុន្តែរញ្ជុយដីវិទូបានព្យាយាមកំណត់ពេលវេលានិងទីកន្លែងដែលវាបានកើតឡើង។ ពួកគេបានបង្កើតឧបករណ៍រង្វាស់រញ្ជុយដីដើម្បីកត់ត្រានិងវាស់រលករញ្ជុយដីនេះ។ រង្វាស់នេះ បង្ហាញពីចម្ងាយរលករញ្ជុយដី និងការធ្វើចលនារបស់ផ្ទៃដី។ ពួកគេបានប្រើប្រាស់ព័ត៌មានទាំងនេះ ដើម្បីបង្ហាញកន្លែងជាក់លាក់ដែលរញ្ជុយដីចាប់ផ្តើមនិងកម្លាំងរញ្ជុយដី។

រង្វាស់រញ្ជុយដីមានមាត្រដ្ឋានម្យ៉ាងឈ្មោះថា រិចត្រ (Richter) សម្រាប់វាស់ទំហំថាមពល ឬកម្លាំងនៃការញ្ជុយដីដោយបានកំណត់ចំនួនលេខពី 1 រហូតដល់ 10 ។ ចំនួនលេខអង្គុលបង្ហាញពីកម្រិតកម្លាំងខ្លាំងជាងគ្នារហូតដល់ទៅ 31.7 ដង។ តួលេខរលករញ្ជុយលើសពី 6 រិចត្របញ្ជាក់ថាកម្រិតនៃការបំផ្លិចបំផ្លាញមានគ្រោះមហន្តរាយខ្លាំងក្លាបំផុត។

**5. គ្រោះមហន្តរាយនៃការញ្ជុយដី**

ការញ្ជុយដីចាប់ពី 6 ទៅ 8 រិចត្រឡើងទៅ បណ្តាលឱ្យមានគ្រោះមហន្តរាយយ៉ាងធ្ងន់ធ្ងរ។ កត្តាដែលនាំឱ្យមានការបំផ្លាញទាំងនោះរួមមាន ការអង្រួនផ្ទៃដី ភក់រាវ រំញ័រ និងរលកស៊ូណាមី។ កាលពីឆ្នាំ 1923 មានការញ្ជុយដីដ៏ធំមួយនៅកាន់តូក្យូក្រុងកូកូ និងកាលាកាវ៉ា ធ្វើឱ្យមនុស្សស្លាប់ជាង 10 000 នាក់ របួសនិងបាក់ខ្នង 43 000 នាក់ និងមានមនុស្សដែលបាក់ដៃជម្រក 3 400 000 នាក់ ហើយបានបំផ្លាញគេហដ្ឋានអស់ចំនួន 700 000 ខ្នង។ ចំណែកនៅថ្ងៃ 26 ខែ ធ្នូ ឆ្នាំ 2004 មានរលកស៊ូណាមី 292

**ចំណេះដឹងបន្ថែម ៖**

លោក ឆាល រិចត្រ (Charles Richter) មានអាយុ 27 ឆ្នាំ គាត់គឺជាសិស្សដែលទើបតែបញ្ចប់ការសិក្សា។ នាពេលនោះរូបគាត់បានកំពុងសរសេរ និងរៀបចំ “កតាឡុកការញ្ជុយដី” នៅរដ្ឋកាលីផ័រនីញ៉ាខាងត្បូង។ នាពេលនោះ គាត់ចង់រកវិធីប្រៀបធៀបការញ្ជុយដី។ ប៉ុន្តែមកដល់ពេលនោះ ភូគព្ភវិទូទាំងអស់បានប្រើមាត្រដ្ឋានមែរកាលី (Mercalli scale) ដើម្បីចាត់ថ្នាក់អត្រាបំផ្លាញដោយសារញ្ជុយដីរួចទៅហើយ។ លោក Giuseppe Mercalli បានអភិវឌ្ឍមាត្រដ្ឋានមែរកាលីនោះនៅឆ្នាំ 1902 ដើម្បីប្រាប់ពីអាំងតង់ស៊ីតេនៃការញ្ជុយដី។ មាត្រដ្ឋានមែរកាលីបានផ្អែកលើការសង្កេតនានារបស់មនុស្សតាមរយៈការមើលឃើញផ្ទាល់ភ្នែកពីការញ្ជុយដីមួយ និងពីការខូចខាតដែលបណ្តាលមកពីការញ្ជុយដី។ លោករិចត្រចង់បង្កើតឧបករណ៍មួយថែមទៀតដើម្បីវាស់បរិមាណនៃកម្លាំងរញ្ជុយដី។ ចំណង់របស់គាត់នេះបាននាំគាត់ឱ្យអភិវឌ្ឍមាត្រដ្ឋានរិចត្រ (Richter Scale) នៅឆ្នាំ 1935 ដែលមាត្រដ្ឋាននេះបានផ្អែកលើការវាស់វែងដែលបានគូរនៅលើក្រាបរញ្ជុយដី (seismographs)។

បំណកស្រាយនៃមាត្រដ្ឋានរិចត្រ		បំណកស្រាយនៃមាត្រដ្ឋានមែរកាលី	
កម្លាំង	ឥទ្ធិពលប៉ាន់ស្មានមុនពេលរញ្ជុយដី	កម្លាំង	ការបំផ្លាញក្រោយពេលរញ្ជុយដី
2.0	អាចកត់ត្រាបានដោយឧបករណ៍វាស់រញ្ជុយដីប៉ុណ្ណោះ	I-III	មនុស្សដឹងថាមានរំញ័រដូចរលកស្រពកាត់ ហើយធ្វើឱ្យវត្ថុធំៗមានមាត់បាក់បែក
3.0	អាចញ្ជើរនៅលើផ្ទៃដី	IV-VI	មានការបំផ្លាញតិចតួច ហើយមនុស្សរត់ចេញក្រៅអគារ
4.0	ញ័រនៅកន្លែងជាច្រើននៅក្នុងតំបន់	VII-IX	មានការបំផ្លាញកម្រិតមធ្យម ធ្វើឱ្យកញ្ជក់គ្រឹះអគារបំផ្លាញអគារ
5.0	បណ្តាលឱ្យខូចខាតនៅផ្ទៃដី	X-XII	មានការបំផ្លាញខ្លាំង ធ្វើឱ្យមានស្នាមប្រេះក្នុងដីនិងរលកនៅលើផ្ទៃដី
6.0	បណ្តាលឱ្យខូចខាតខ្លាំង		
7.0	បណ្តាលឱ្យវិនាសកម្មខ្លាំង		

ដែលនឹងទាញយកដំបូងពីចលនាបង្ហាញផ្ទៃផែនដី។ មូលហេតុនៃការ

ដែលឆ្លើយចេញពីផ្ទៃដីនៃរូបសញ្ញាដីកាត់ផ្ទៃមហាសមុទ្រ។ កម្ពស់រលកទាបៗនៅកណ្តាលមហាសមុទ្រដំបូង ប៉ុន្តែពេលធ្វើដំណើរមកដល់កន្លែងរាក់រលកមានកម្ពស់រហូតដល់ 30 ម៉ែត្រ ដែលកើតឡើងពីរញ្ជួយដីក្រោមទឹកដែលមានចាប់ពី ១.1 ទៅ ១.3 វិនាទី។ ហើយមានផ្នែកនៅក្បែរឆ្នេរនៃកោះស៊ូម៉ាត្រាក្នុងប្រទេសឥណ្ឌូនេស៊ី។ រលកនេះ បានធ្វើឱ្យមនុស្សស្លាប់ជាង 225 000 នាក់ដែលរស់នៅក្នុងប្រទេសឥណ្ឌូនេស៊ី 11 ។ ប៉ុន្តែប្រទេសដែលរងគ្រោះខ្លាំងជាងគេមានប្រទេសឥណ្ឌូនេស៊ី ស៊ីរីលង្កា ឥណ្ឌា និងថៃ ។

**មេរៀនសង្ខេប**

រញ្ជួយដីគឺជាលំញើរដែលកើតឡើងពីចលនាបង្ហាញផ្ទៃផែនដី។ មូលហេតុនៃការរញ្ជួយដី គឺនៅតាមបណ្តោយស្នាមប្រេះជិតតែមជ្ឈកតិចតួនិច កម្លាំងកើតឡើងធ្វើឱ្យជាកតិចតួនិចមានចលនាដូចជា រុញ ទាញ និងកកិតគ្នាបណ្តាលឱ្យនៅក្នុងជាកខូចទ្រង់ទ្រាយក្នុងការទប់ទល់កម្លាំង។ រញ្ជួយដីមានពីរប្រភេទគឺ រលកក្នុងដីនិងរលកផ្ទៃលើ។ រង្វាស់រញ្ជួយដីមានមាត្រដ្ឋានម្យ៉ាងឈ្មោះថា រីចត្រេ (Richtre) សម្រាប់វាស់ទំហំថាមពល ឬកម្លាំងនៃការរញ្ជួយដីដោយបានកំណត់ចំនួនលេខពី 1 រហូតទៅដល់ 10 ។ គ្រោះមហន្តរាយនៃការរញ្ជួយដី ចាប់ពី 6 ទៅ 8 វិនាទីឡើងទៅបណ្តាលឱ្យមានគ្រោះមហន្តរាយយ៉ាងធ្ងន់ធ្ងរ។ កត្តាដែលនាំឱ្យ មានការបំផ្លាញទាំងគ្រោះមហន្តរាយផ្សេងៗទៀត ភក់រាវ លំញើរ និងរលកស៊ូណាមី ។

**សំណួរ**

1. តើរញ្ជួយដីច្រើនកើតនៅតំបន់ណាខ្លះ ?
2. តើមូលហេតុអ្វីខ្លះដែលនាំឱ្យកើតមានរញ្ជួយដី ?
3. ចូររៀបរាប់ពីប្រភេទរលករញ្ជួយដី ។
4. ចូររៀបរាប់ពីមាត្រដ្ឋាននៃរលករញ្ជួយដី ។
5. ចូរលើកឧទាហរណ៍រលកស៊ូណាមីមកបញ្ជាក់ពីគ្រោះមហន្តរាយដោយរញ្ជួយដី ។

293



**ចំណេះដឹងបន្ថែម :**

មួយម៉ោងក្រោយពីការរញ្ជួយដីដ៏ធំមួយនៅថ្ងៃទី 11 ខែមីនា ឆ្នាំ 2011 នៅប្រទេសជប៉ុន រោងចក្រថាមពលនុយក្លេអ៊ែរមួយបានទទួលការវាយប្រហារដោយរលកស៊ូណាមីរហូតដល់បញ្ឈប់ការផ្តល់អគ្គិសនី។ វាបណ្តាលឱ្យ "រលាយ" មានន័យវាមិនអាចធ្វើឱ្យអាក់ទីរុយក្លេអ៊ែរចុះត្រជាក់ ដែលនាំឱ្យសាយភាយសារធាតុនុយក្លេអ៊ែរ (វិទ្យុសកម្ម) ច្រើន។ កម្រិតគ្រោះថ្នាក់នេះដូចគ្នានឹងករណី Chernobyl ដែរ។ តំបន់ដែលនៅជិតស្ថានីយ៍ថាមពលនុយក្លេអ៊ែរនោះមិនត្រូវបានអនុញ្ញាតឱ្យមនុស្សរស់នៅឡើយ ដែលពួកគេត្រូវតែជម្លៀសទៅរស់នៅតំបន់ផ្សេងទៀតក្នុងរយៈពេលដ៏យូរ។ ទន្ទឹមពេលនឹងរោងចក្រថាមពលនុយក្លេអ៊ែរបានទទួលគ្រោះថ្នាក់ដ៏ធ្ងន់ធ្ងរនេះ រោងចក្រអគ្គិសនីមួយចំនួនទៀតក៏មានបញ្ហាក្នុងការបញ្ឈប់អគ្គិសនីផងដែរ។ ព្រឹត្តិការណ៍នោះបាននាំឱ្យខ្វះខាតការផ្គត់ផ្គង់ថាមពលយ៉ាងធ្ងន់ធ្ងរដែលបង្ខំឱ្យប្រជាជនជប៉ុនចង់បញ្ឈប់គម្រោងដែលគ្រោងទុកកាលពី 65 ឆ្នាំមុន។ ដោយសារតែការខ្វះខាតថាមពល រដ្ឋាភិបាលជប៉ុនចង់ចាប់ផ្តើមបង្កើតរោងចក្រថាមពលនុយក្លេអ៊ែរ ប៉ុន្តែមានការជជែកគ្នាដ៏ចម្រូងចម្រាស់មួយរវាងយល់ព្រមនិងមិនយល់ព្រម។ អ្នកខ្លះចង់បានការផ្គត់ផ្គង់ថាមពលនិរន្តរភាព អ្នកខ្លះទៀតចង់បានសុវត្ថិភាពដោយមិនប្រើនុយក្លេអ៊ែរ។



**ចម្លើយសំណួរ**

1. រញ្ជួយដីច្រើនកើតឡើងនៅតំបន់ទើបកករឹងថ្មីៗនៃសំបកផែនដី ដូចជា តំបន់ជួរភ្នំភ្នំ និងតំបន់បំណាក់ស្រុតធំៗដែលតំបន់ទាំងនោះជាព្រំដែនផ្លាកតិចតួនិច។
2. មូលហេតុដែលនាំឱ្យកើតមានរញ្ជួយដីគឺចលនាបង្ហាញផ្ទៃផែនដីកតិចតួនិច។
3. រលករញ្ជួយដីមាន 2 ប្រភេទគឺ រលកក្នុងដី និងរលកផ្ទៃលើ។ រលកក្នុងដីមាន 2 ប្រភេទគឺ រលក P និងរលក S ។
4. មាត្រដ្ឋាននៃរលករញ្ជួយដីត្រូវបានគិតជា រីចត្រេ។
5. ឧទាហរណ៍បញ្ជាក់ថាគ្រោះមហន្តរាយរញ្ជួយដីបណ្តាលឱ្យមានរលកស៊ូណាមី ៖ នៅវេលាម៉ោង 14:46 រសៀល ថ្ងៃទី 11 ខែមីនា ឆ្នាំ 2011 ។ វាជាការរញ្ជួយដីដ៏ខ្លាំងបំផុតនៅក្នុងប្រទេសជប៉ុនចាប់តាំងពីពេលដែលកំណត់ត្រាការរញ្ជួយដីបានចាប់ផ្តើម។ ការរញ្ជួយដីធ្វើឱ្យមានបំណាក់ស្រុត និងបំផ្លាញផ្ទះសំបែងមួយរំពេចនិងភ្លាមៗ។ ការរញ្ជួយដីដ៏ធំមួយនោះបានកើតឡើងនៅបាតសមុទ្រហើយបានបង្កើតរលកស៊ូណាមី (Tsunami) និងបានធ្វើឱ្យរាងរបស់បាតសមុទ្រផ្លាស់ប្តូរ ។ នៅពេលរលកនេះកើតឡើងវាបានធ្វើឱ្យជញ្ជាំងរំហូងសមុទ្រកម្ពស់ 10m និងប្រវែង 580m ដែលសាងសង់ឡើងសម្រាប់ការពាររលកស៊ូណាមីត្រូវបានបំផ្លាញ ដោយសាររលកស៊ូណាមីនោះមានកម្ពស់ខ្ពស់ជាងជញ្ជាំងរំហូងសមុទ្រ។ រលកស៊ូណាមីខ្ពស់ជាងគេបំផុតបានឈានដល់ 40m។ រលកនេះមានល្បឿន 6m/s (= 20km/h)។ រលកយក្សស៊ូណាមីបានលុកលុយដីឆ្នេរក្នុងចម្ងាយពី 4 km រហូតដល់ 6km ពីឆ្នេរសមុទ្របន្ថែមទៀត។ ការរញ្ជួយដីនោះមិនត្រឹមតែជារញ្ជួយដីដ៏ធំតែប៉ុណ្ណោះទេ គឺវាថែមទាំងបណ្តាលឱ្យមានរលកស៊ូណាមីទៀតផង។ រលកស៊ូណាមីនោះបានធ្វើឱ្យរោងចក្រថាមពលអគ្គិសនីដើរដោយថាមពលនុយក្លេអ៊ែរខូចខាត និងលិចធ្លាយសារធាតុវិទ្យុសកម្មយ៉ាងធ្ងន់ធ្ងរ និងបានរំខានដល់ការផ្គត់ផ្គង់ថាមពលអគ្គិសនីថែមទៀតផង។ ចំនួនសរុបនៃអ្នកស្លាប់និងបាត់ខ្លួន គឺ 18 483 នាក់។

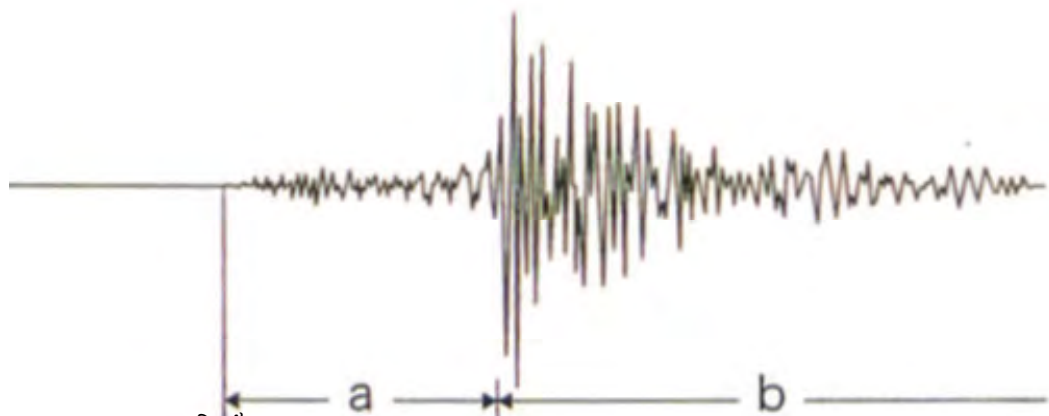
# ចំណេះដឹងបន្ថែម និងសកម្មភាព

## សកម្មភាព

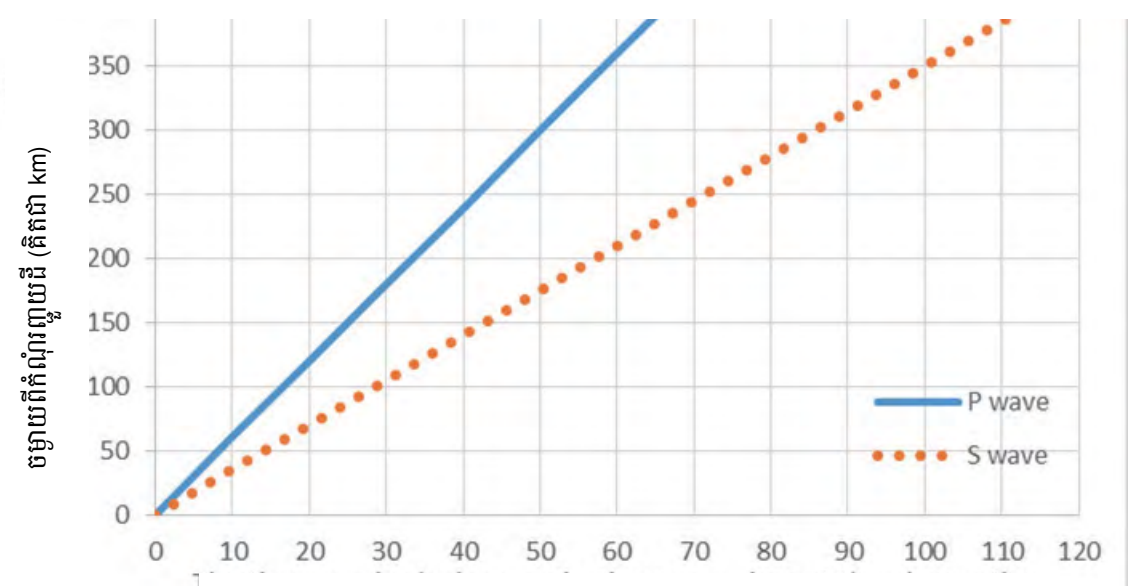
យើងនាំគ្នាសិក្សាពីការញ័រ និងការរញ្ជួយដោយប្រើទិន្នន័យរញ្ជួយដី។

ក្រាបខាងក្រោមបង្ហាញពីកំណត់ត្រានៃការរញ្ជួយដីដែលបានកត់ត្រាទុក។ ក្រាបខាងក្រោមក៏បានបង្ហាញពីពេលវេលាឈានមកដល់នៃរលកទាំងពីរប្រភេទជារលក P និងរលក S ចេញពីបាតដីខាងក្រោម ត្រង់កន្លែងដែលការរញ្ជួយដីបានកើតឡើង។

- 1) រលក (a) បានបង្ហាញថាជារលក P ហើយរលក (b) បានបង្ហាញថាជារលក S ។ តើរលកណាមួយខ្លាំងជាង?
- 2) បើយោងតាមក្រាបខាងក្រោមនេះ យើងអាចមើលឃើញថារលក P បានមកដល់មុនរលក S ។ យើងកំណត់ប្រភពដើម (ចំណុចសូន្យ) នៅពេលរលក P និង S ឆ្លងកាត់ បន្ទាប់មកយើងរាប់ពេលវេលារបស់វា។ តើល្បឿនរបស់រលក P និងរលក S ជាលក្ខណៈល្បឿនប៉ុន្មានគម / វិនាទី?
- 3) ក្រាបខាងក្រោមបង្ហាញថារលក P បានមកដល់ ដែលបន្ទាប់ពីនោះ រលក S ក៏បានមកដល់។ តើវាមានអ្វីទាក់ទងនឹងប្រភពដើមនៃការរញ្ជួយដី?
- 4) ប្រសិនបើរលក P នៅតែបន្តក្នុងរយៈពេល 25 វិនាទី សូមទស្សន៍ទាយពីចម្ងាយនៃប្រភពដើមរបស់ការរញ្ជួយដីនេះ។



ប្រភពទិន្នន័យ ៖ Arima A. et al. (1994) Rika no Sekai (World of Science),  
Dainippon Tosyo, 1-285 (in Japanese)



កំណត់ត្រាពេលវេលាត្រូវធ្វើនៅខណៈពេលដែលរលករញ្ជួយដីមកដល់ទីសង្កេតដែលស្ថិតនៅឆ្ងាយពីកំណុំរញ្ជួយដី (គិតជា វិនាទី)



**ចំណេះដឹងបន្ថែម ៖ ប្រសិនបើអ្នកបានប្រឈមនឹងរលកស៊ូណាមី តើអ្នកដោះស្រាយរបៀបណា?**

រលកយក្សស៊ូណាមីវាយប្រហារឆ្នេរ។ ដូច្នេះប្រសិនបើអ្នកត្រូវរស់នៅក្នុងតំបន់ឆ្នាយពីឆ្នេរ មានន័យថាអ្នកនឹងមានសុវត្ថិភាពច្រើន។ ទោះយ៉ាងណា អ្នកមិនបានដឹងទេថាតើអ្នកនឹងទៅរស់នៅកន្លែងណានាពេលអនាគត។ ពេលនេះខុបមាថាអ្នករស់នៅក្នុងតំបន់ជិតៗឆ្នេរ សមុទ្រនៅឯបរទេសនាពេលអនាគត។

នៅក្នុងផ្នែកនេះ ការហ្វឹកហាត់ដ៏ល្អមួយអំពីការជម្លៀសចេញពីរលកស៊ូណាមីមួយ ដែលសាលារៀននានានៅក្នុងប្រទេសជប៉ុន បង្រៀនសិស្សរបស់ពួកគេ។ សាលារៀននេះមានទីតាំងស្ថិតនៅត្រឹមតែ 600m ប៉ុណ្ណោះពីឆ្នេរសមុទ្រ។ ទីតាំងដែលសាលារៀនស្ថិតនៅ មានកម្ពស់ខ្ពស់ជាងកម្រិតទឹកសមុទ្រ 17.8m ដូច្នេះប្រសិនបើរលកស៊ូណាមីដ៏ធំ និងមានកម្ពស់ខ្ពស់ជាងនេះមកដល់ ពួកគេដាច់ខាតត្រូវតែជម្លៀសទៅកាន់ទីកន្លែងខ្ពស់ជាងនេះ។ នៅជិតសាលារៀនមានភ្នំមួយមានកម្ពស់ 34m ខ្ពស់ជាងកម្រិតទឹកសមុទ្រ ដូច្នេះសិស្សនិងគ្រូ ត្រូវតែឡើងភ្នំនេះតាមជម្រាលមួយដែលមានប្រវែង 800m។ ចំណុចសំខាន់គឺថាសិស្សត្រូវតែឡើងភ្នំនេះដោយខ្លួនឯងឱ្យបានឆាប់រហ័ស បំផុតតាមដែលពួកគេអាចធ្វើទៅបាន បន្ទាប់ពីពួកគេបានទទួលការជូនដំណឹងអំពីការមកដល់នៃរលកស៊ូណាមី។ ដូច្នេះប្រសិនបើគ្រូបញ្ជាក់ ដំណឹងនេះទៅសិស្សម្តងម្នាក់ៗមុនពេលការជម្លៀស វាជាការយឺតពេលហើយ។ សាលារៀនក៏បានជូនដំណឹងអំពីដំណើរការជម្លៀសនេះទៅ ដល់ទាំងសិស្ស និងឪពុកម្តាយរបស់ពួកគេផងដែរ នៅក្នុងបរិស្ថានសិក្សាសិក្សាថ្មី។ ការហ្វឹកហាត់នេះត្រូវតែអនុវត្តក្នុងអំឡុងពេលមិនមាន ម៉ោងសិក្សានៅក្នុងសាលារៀន។

សាលារៀននេះបានធ្វើការហ្វឹកហាត់បែបនេះជារៀងរាល់ខែ។ តារាងខាងក្រោមនេះបង្ហាញពីរយៈពេលដែលប្រជាជនត្រូវជម្លៀស។ អ្នកអាចមើលឃើញនិស្សិតដែលបានចំណាយពេលវេលាតិច និងតិចជាងនេះសម្រាប់ការជម្លៀសចេញខណៈដែលពួកគេបានធ្វើប្រតិបត្តិ ការសាកល្បងជាច្រើនដង។ នៅក្នុងប្រតិបត្តិការសាកល្បងលើកទី 5 ដល់ទី 8 វាបានចំណាយពេលយូរជាងដោយសារតែព្រិលគ្របដណ្តប់ ពេញផ្លូវ និងស្ថិតនៅក្នុងអំឡុងពេលរដូវវស្សា។ ទោះជាយ៉ាងណា សិស្សនិស្សិតបានព្យាយាមល្អបំផុតសម្រាប់ការហ្វឹកហាត់ការជម្លៀស នេះ។ នៅលើភ្នំនេះមានបង្គន់បន្ទាន់ ជំរកង់ ម៉ាស៊ីនភ្លើងផលិតអគ្គិសនី ម៉ាស៊ីនកំដៅ ធុងខ្សាច់ និងធុង។ សាលារៀននេះក៏មានផ្នែក មតេយ្យសិក្សាផងដែរ។ ដូច្នេះកុមារតូចៗនៅក្នុងមតេយ្យសិក្សានេះមិនអាចជម្លៀសបានលឿនដូចកុមារធំបានទេ។ ដូចនេះ ដំណោះស្រាយ ដើម្បីជួយកុមារតូចៗទាំងនេះបានគឺ គ្រូត្រូវផ្ទុកកុមារតូចៗទាំងនោះទៅក្នុងរទេះកង់ហើយអូសពួកគេឡើងភ្នំ។ នៅក្នុងការហ្វឹកហាត់នោះ កុមារតូចៗក៏បានចូលរួមក្នុងប្រតិបត្តិការសាកល្បងនេះផងដែរ។

ការអប់រំវិវិធីជួយសង្គ្រោះជីវិតនេះ ត្រូវបានហៅថា ការអប់រំសម្រាប់ការការពារគ្រោះមហន្តរាយ។

**តារាងរយៈពេលដែលសិស្សត្រូវជម្លៀស**

ចំនួនជម្លៀស	កាលបរិច្ឆេទ	រយៈពេលជម្លៀស
លើកទី1	2013.8.22	17'57"
លើកទី2	9.14	13'23"
លើកទី3	10.11	14'37"
លើកទី4	11.11	10'55"
លើកទី5	12.12	11'39"
លើកទី6	2014.1.20	13'34"
លើកទី7	2.1	13'50"
លើកទី8	3.12	12'12"
លើកទី9	4.2	12'12"
លើកទី10	4.17	12'35"
លើកទី11	6.13	11'15"
លើកទី12	7.11	10'58"
លើកទី13	8.21	10'06"
លើកទី14	9.11	10'10"



# ចម្លើយ ការដាក់ពិន្ទុ និងការវិនិច្ឆ័យ

## ចម្លើយ និងការដាក់ពិន្ទុ (ពិន្ទុសរុប 50 ពិន្ទុ)

### I. (35ពិន្ទុ)

1. រញ្ជួយដីស្ថិតនៅកាន់តែជិតប្រភពដើម មានកម្លាំងរញ្ជួយកាន់តែខ្លាំង។ ( \_\_\_\_\_ ✓ \_\_\_\_\_ ) (5ពិន្ទុ)

**ការដាក់ពិន្ទុ:** 5 ពិន្ទុ = ចម្លើយ ត្រឹមត្រូវឬគូសសញ្ញា ✓                      0 ពិន្ទុ = ចម្លើយ ខុសឬគូសសញ្ញា ✗

2. រញ្ជួយដីស្ថិតនៅកាន់តែជិតប្រភពដើម មានល្បឿនដាលកាន់តែលឿន។ ( \_\_\_\_\_ ✓ \_\_\_\_\_ ) (5ពិន្ទុ)

**ការដាក់ពិន្ទុ:** 3 ពិន្ទុ = បំពេញចម្លើយ ស៊ីម៉ា ✓                      0 ពិន្ទុ = បំពេញចម្លើយ ស្ងាស់ ✗

3. រលក P មកដល់មុនរលក S ។ ( \_\_\_\_\_ ✓ \_\_\_\_\_ ) (5ពិន្ទុ)

**ការដាក់ពិន្ទុ:** 5 ពិន្ទុ = ចម្លើយ ត្រឹមត្រូវឬគូសសញ្ញា ✓                      0 ពិន្ទុ = ចម្លើយ ខុសឬគូសសញ្ញា ✗

4. រលក P អាចឆ្លងកាត់ក្នុងរូបធាតុរាវ ។ ( \_\_\_\_\_ ✓ \_\_\_\_\_ ) (5ពិន្ទុ)

**ការដាក់ពិន្ទុ:** 5 ពិន្ទុ = ចម្លើយ ត្រឹមត្រូវឬគូសសញ្ញា ✓                      0 ពិន្ទុ = ចម្លើយ ខុសឬគូសសញ្ញា ✗

5. រលក P អាចឆ្លងកាត់ក្នុងរូបធាតុរឹង ។ ( \_\_\_\_\_ ✓ \_\_\_\_\_ ) (5ពិន្ទុ)

**ការដាក់ពិន្ទុ:** 5 ពិន្ទុ = ចម្លើយ ត្រឹមត្រូវឬគូសសញ្ញា ✓                      0 ពិន្ទុ = ចម្លើយ ខុសឬគូសសញ្ញា ✗

6. រលក S អាចឆ្លងកាត់ក្នុងរូបធាតុរាវ។ ( \_\_\_\_\_ ✗ \_\_\_\_\_ ) (5ពិន្ទុ)

**ការដាក់ពិន្ទុ:** 5 ពិន្ទុ = ចម្លើយ ខុសឬគូសសញ្ញា ✗                      0 ពិន្ទុ = ចម្លើយ ត្រឹមត្រូវឬគូសសញ្ញា ✓

7. រលក S អាចឆ្លងកាត់ក្នុងរូបធាតុរឹង។ ( \_\_\_\_\_ ✓ \_\_\_\_\_ ) (5ពិន្ទុ)

**ការដាក់ពិន្ទុ:** 5 ពិន្ទុ = ចម្លើយ ត្រឹមត្រូវឬគូសសញ្ញា ✓                      0 ពិន្ទុ = ចម្លើយ ខុសឬគូសសញ្ញា ✗

### II. (15ពិន្ទុ)

8. ឧបករណ៍រង្វាស់រញ្ជួយដី (5ពិន្ទុ)

**ការដាក់ពិន្ទុ:** 5 ពិន្ទុ = ចម្លើយ ឧបករណ៍រង្វាស់រញ្ជួយដី                      0 ពិន្ទុ = ចម្លើយក្រៅពីនេះ

9. រលកស៊ូណាមិ (5ពិន្ទុ)

**ការដាក់ពិន្ទុ:** 5 ពិន្ទុ = ចម្លើយ រលកស៊ូណាមិ                      0 ពិន្ទុ = ចម្លើយក្រៅពីនេះ

10. រញ្ជួយដីដែលមានកម្លាំង 5.0វិចត្រី បញ្ចេញថាមពល 31.7ដង ខ្លាំងជាងថាមពលដែលបញ្ចេញដោយរញ្ជួយដីដែលមានកម្លាំង 4.0វិចត្រី។ ដូច្នេះ រញ្ជួយដីដែលមានកម្លាំង 6.0វិចត្រី នឹងបញ្ចេញថាមពលប្រហែល 1 000ដង ច្រើនជាងថាមពលដែលបញ្ចេញដោយរញ្ជួយដីដែលមានកម្លាំង 4.0វិចត្រី។

ការគណនា :  $31.7 \times 31.7 = 1\,004.89$ ដង (5ពិន្ទុ)

**ការដាក់ពិន្ទុ:** 5 ពិន្ទុ = ចម្លើយ រញ្ជួយដីដែលមានកម្លាំង 6.0វិចត្រី នឹងបញ្ចេញថាមពលប្រហែល 1 000ដង ច្រើនជាង ថាមពលដែលបញ្ចេញដោយរញ្ជួយដីដែលមានកម្លាំង 4.0វិចត្រី ឬ 1 004.89ដង។  
0 ពិន្ទុ = ចម្លើយក្រៅពីនេះ

**ការវិនិច្ឆ័យ**

ពិស្ត	<b>ការវិនិច្ឆ័យ និងសំណូមពរសម្រាប់ការបង្រៀន</b>
0 – 20	សិស្សដែលទទួលបានពិន្ទុនៅចន្លោះនេះ មានន័យថាពួកគេមិនទាន់មានចំណេះដឹងមូលដ្ឋាន និងជំនាញវិភាគខ្លឹមសារវិទ្យាសាស្ត្រស្តីពី “រញ្ជួយដី” ឡើយ។ ដូច្នេះ គ្រូគប្បីនាំសិស្សស្រមៃរូបភាពរញ្ជួយដី ដើម្បីឱ្យពួកគេចាប់អារម្មណ៍។
21 – 30	សិស្សដែលទទួលបានពិន្ទុនៅចន្លោះនេះ មានន័យថាពួកគេមិនទាន់អាចពន្យល់បានគ្រប់គ្រាន់ពីចំណេះដឹងមូលដ្ឋាន និងជំនាញវិភាគងាយៗលើខ្លឹមសារវិទ្យាសាស្ត្រស្តីពី “រញ្ជួយដី”។ សិស្សចាប់អារម្មណ៍អំពីការរញ្ជួយដីប៉ុន្តែពិបាកស្រមៃ ពីព្រោះពួកគេមិនមានឱកាសពិសោធការរញ្ជួយដី។ ព័ត៌មានបន្ថែមអំពីរញ្ជួយដីធំៗនៅក្នុងប្រទេសជប៉ុននឹងអាចជួយសិស្សឱ្យយល់ពីការរញ្ជួយដីបានកាន់តែច្បាស់លាស់។
31 – 40	សិស្សដែលទទួលបានពិន្ទុនៅចន្លោះនេះ មានន័យថាពួកគេអាចពន្យល់បានច្រើនពីខ្លឹមសារ និងជំនាញវិភាគស៊ីជម្រៅលើខ្លឹមសារវិទ្យាសាស្ត្រស្តីពី “រញ្ជួយដី”។ ទោះជាដូច្នោះក៏ដោយ គ្រូគប្បីស្តាប់ និងអង្កេតចម្លើយរបស់សិស្ស និងពន្យល់ក្នុងចំណុចដែលសិស្សឆ្លើយមិនត្រូវ។ គ្រូក៏គប្បីត្រូវស្វែងយល់ និងសិក្សាពីចំណាប់អារម្មណ៍ និងបរាជ័យរបស់សិស្សម្នាក់ៗ។ សិស្សចាប់អារម្មណ៍អំពីការរញ្ជួយដីប៉ុន្តែពិបាកដោះស្រាយពីព្រោះពួកគេមិនមានឱកាសពិសោធការរញ្ជួយដីនៅក្នុងប្រទេសកម្ពុជា។ នៅក្នុងករណីថា នាពេលអនាគតពួកគេស្នាក់នៅប្រទេសដែលមានការរញ្ជួយដី ពួកគេចាំបាច់ត្រូវសិក្សាពីរបៀបជម្លៀសចេញពីការរញ្ជួយដីនោះ។
41 – 50	សិស្សដែលទទួលបានពិន្ទុនៅចន្លោះនេះ មានន័យថាពួកគេអាចពន្យល់បានពីខ្លឹមសារ និងជំនាញវិភាគស៊ីជម្រៅគ្រប់គ្រាន់លើខ្លឹមសារវិទ្យាសាស្ត្រស្តីពី “រញ្ជួយដី”។ ទោះជាដូច្នោះក៏ដោយ គ្រូគប្បីនាំសិស្សដែលមាន “ចំណេះដឹងបន្ថែម និងសកម្មភាព” ខ្លាំងពន្យល់ និងជួយសិស្សខ្សោយឱ្យយល់កាន់តែច្បាស់ថែមទៀត និងទទួលបានចំណេះដឹងនៃមេរៀននេះកាន់តែស៊ីជម្រៅ។

# មេរៀនទី 5

# វីនិទជូស៊ីលឥន្ទនៈ

## វត្ថុបំណង

បន្ទាប់ពីសិក្សាមេរៀននេះចប់ សិស្សនឹង៖

- ☐ ឱ្យនិយមន័យវីនិទជូស៊ីលឥន្ទនៈ
- ☐ បង្ហាញពីប្រភេទវីនិទជូស៊ីលឥន្ទនៈ
- ☐ ផលប៉ះពាល់នៃការប្រើប្រាស់វីនិទជូស៊ីលឥន្ទនៈចំពោះបរិស្ថាន។

## ផែនការមេរៀន

មេរៀននេះត្រូវបានបែងចែកសម្រាប់បង្រៀននិងរៀនរយៈពេល 3 ម៉ោង ដូចបង្ហាញក្នុងតារាង 1 ខាងក្រោម។

**តារាង 1 បំណែងចែកម៉ោងបង្រៀន**

ចំនួនម៉ោងសិក្សា	ចំណងជើងរងមេរៀន	ទំព័រក្នុងសៀវភៅសិក្សាគោល
1ម៉ោង	1. វីនិទ	294
1ម៉ោង	2. ប្រភេទវីនិទជូស៊ីលឥន្ទនៈ 2.1 ប្រភេទវីនិទ 2.2 ប្រភេទជូស៊ីលឥន្ទនៈ	295 – 296
1ម៉ោង	3. ផលប៉ះពាល់នៃការប្រើប្រាស់វីនិទជូស៊ីលឥន្ទនៈ 3.1 ផលប៉ះពាល់នៃការប្រើប្រាស់វីនិទជូស៊ីលឥន្ទនៈ 3.2 ផលប៉ះពាល់នៃការប្រើប្រាស់ជូស៊ីលឥន្ទនៈ មេរៀនសង្ខេប សំណួរ	296 – 297

## ការណែនាំការមេរៀន

តារាង 2 បង្ហាញពីផែនការបង្រៀន និងលទ្ធផលរង្វាយតម្លៃក្នុងម៉ោងសិក្សានីមួយៗ។ គ្រូគប្បីដឹកនាំសកម្មភាពទាំងអស់ និងវាយតម្លៃសិស្សដោយផ្អែកលើលក្ខណៈវិនិច្ឆ័យនៅក្នុងតារាង 2។ ដូចសកម្មភាពនៅក្នុងតារាង 2 សិស្សនឹងធ្វើសកម្មភាពផ្សេងៗអំពី វីនិទជូស៊ីលឥន្ទនៈ ដែលសកម្មភាពទាំងនេះនឹងជួយសិស្សអភិវឌ្ឍការយល់របស់ពួកគេអំពី វីនិទជូស៊ីលឥន្ទនៈ។ ទោះជាយ៉ាងណាក៏ដោយ គ្រូគប្បីប្រើទេពកោសល្យ ភាពទន់ភ្លន់ និងភាពបត់បែនរបស់ខ្លួន ដើម្បីច្នៃប្រឌិតទៅតាមកម្រិតយល់ដឹងរបស់សិស្ស និងស្ថានភាពជាក់ស្តែងរបស់ថ្នាក់រៀន ដើម្បីសម្របសម្រួលទៅតាមសកម្មភាពបង្រៀននិងរៀនដូចមាននៅក្នុងការណែនាំការមេរៀននេះ។

**តារាង 2 ផែនការបង្រៀន និងលទ្ធផលរង្វាយតម្លៃ**

ម៉ោងសិក្សា	វត្ថុបំណង	សកម្មភាព	លទ្ធផលរង្វាយតម្លៃ
ទី 1	ឱ្យនិយមន័យវីនិទជូស៊ីលឥន្ទនៈ។	សិស្សរកផលិតផលបីយ៉ាងដែលផលិតពីធនធានធម្មជាតិ ពីផ្ទះរបស់ពួកគេ និង ឱ្យនិយមន័យវីនិទជូស៊ីលឥន្ទនៈតាមរយៈសំណួរគន្លឹះរបស់គ្រូ។	សិស្សអាចកំណត់អត្តសញ្ញាណផលិតផលប្រាំយ៉ាងដែលផលិតបានពីធនធានធម្មជាតិ។
ទី 2	បង្ហាញពីប្រភេទនៃការប្រើប្រាស់វីនិទជូស៊ីលឥន្ទនៈ។	សិស្សពិភាក្សាពីវីនិទជូស៊ីលឥន្ទនៈ និង ការប្រើប្រាស់វីនិទជូស៊ីលឥន្ទនៈតាមរយៈសំណួរគន្លឹះរបស់គ្រូ។	សិស្សអាចពន្យល់ប្រភេទវីនិទជូស៊ីលឥន្ទនៈនិងការប្រើប្រាស់វីនិទជូស៊ីលឥន្ទនៈ។
ទី 3	រៀបរាប់ពីផលប៉ះពាល់នៃការប្រើប្រាស់វីនិទជូស៊ីលឥន្ទនៈមកលើបរិស្ថាន។	សិស្សពិភាក្សាផលប៉ះពាល់នៃការប្រើប្រាស់វីនិទជូស៊ីលឥន្ទនៈមកលើបរិស្ថាន។	សិស្សអាចពន្យល់ពីផលប៉ះពាល់នៃការប្រើប្រាស់វីនិទជូស៊ីលឥន្ទនៈមកលើបរិស្ថាន។

**ចំណុចនៃការបង្រៀន**

ចំណុចនៃការបង្រៀនមេរៀននេះគឺដើម្បីឱ្យសិស្សអាចចាប់ផ្តើមសម្ភារប្រើប្រាស់ផ្ទាល់របស់សិស្ស ដោយសារសម្ភារទាំងនោះផលិតពី រ៉ែ (ធនធានធម្មជាតិ) និងផ្សិតលតន្ត្រៈ និងត្រូវបានប្រើប្រាស់ក្នុងការរស់នៅប្រចាំថ្ងៃ។

**ចំណេះដឹងមូលដ្ឋានសម្រាប់មេរៀននេះ**

មុនពេលចាប់ផ្តើមបង្រៀនខ្លឹមសារមេរៀនថ្មីក្នុងម៉ោងសិក្សានីមួយៗ គ្រូគប្បីសួរសិស្សដើម្បីពិនិត្យចំណេះដឹងមានស្រាប់របស់ពួកគេ និងដើម្បីរកមើលចំណេះដឹងមូលដ្ឋានរបស់សិស្ស ដូចជា៖ (1) កំណត់អត្តសញ្ញាណរ៉ែមួយចំនួន ដូចជា រ៉ែផែលស្ប៉ាត រ៉ែក្លាត និងរ៉ែមីកា (2)ពន្យល់ភាពខុសគ្នារវាងសិលា និងរ៉ែ និង (3) កំណត់អត្តសញ្ញាណសំកនៃផ្សិតលតន្ត្រៈដូចជា ផ្សិតលតន្ត្រៈទ្រីឡូប៊ីត (trilobite) និង ផ្សិតលតន្ត្រៈមេតាសេគីវ (metasequoia)។ បើមិនដូច្នោះទេសិស្សនឹងពិបាកសម្រេចបានវត្ថុបំណងមេរៀននេះ។



**វត្ថុបំណង**

សិស្សឱ្យនិយមន័យវី និងផ្លុស៊ីលឥន្ទនៈ។



**សកម្មភាព**

**សំណួរគន្លឹះ:** “យើងនាំគ្នាឱ្យនិយមន័យវីនិងផ្លុស៊ីលឥន្ទនៈ។”  
**សម្ភារ** សម្ភារប្រើប្រាស់ប្រចាំថ្ងៃប្រាំយ៉ាងរបស់សិស្ស  
**ដំណើរការ**

1. សិស្សរកសម្ភារប្រើប្រាស់ប្រចាំថ្ងៃប្រាំយ៉ាងរបស់(សិស្ស)ពីផ្ទះរបស់ពួកគេ ដែលសម្ភារទាំងនោះផលិតពីធនធានធម្មជាតិ។
2. ចុះបញ្ជីធនធានធម្មជាតិដែលសម្ភារទាំងនោះបានផលិត។
3. សរសេរអក្សរតាងធនធានធម្មជាតិទាំងនោះថាជា “ធនធានកើតឡើងវិញ” ឬ “ធនធានមិនកើតឡើងវិញ”។
4. តើសម្ភារទាំងអស់នោះភាគច្រើនផលិតពីធនធានធម្មជាតិកើតឡើងវិញ ឬធនធានធម្មជាតិមិនកើតឡើងវិញ?
5. តើធនធានធម្មជាតិកើតឡើងវិញទាំងអស់នោះមាននៅពេញពេញផែនដី មែនឬទេ?
6. តើមនុស្សប្រើប្រាស់ធនធានធម្មជាតិកើតឡើងវិញអស់ល្បឿនជាងធនធានធម្មជាតិមិនកើតឡើងវិញមែនឬទេ?
7. តើប្អូនអាចជួយអ្វីបានខ្លះ ដើម្បីរក្សាធនធានធម្មជាតិមិនកើតឡើងវិញ និងធនធានធម្មជាតិកើតឡើងវិញ នៅខណៈពេលដែលធនធានធម្មជាតិទាំងអស់នោះកាន់តែកម្រ?

**មេរៀន**

**5**

**វីនិងផ្លុស៊ីលឥន្ទនៈ**

**ចម្រើននេះ សិស្សអាច**

- ឱ្យនិយមន័យវីនិងផ្លុស៊ីលឥន្ទនៈ
- បង្ហាញពីប្រភេទវីនិងផ្លុស៊ីលឥន្ទនៈ
- ផលចំណេញនៃការប្រើប្រាស់វីនិងផ្លុស៊ីលឥន្ទនៈចំពោះបរិស្ថាន ។

នៅលើពិភពលោកតម្រូវការវីចេះតែកើនឡើងជាលំដាប់ នៅពេលដែលមនុស្សចេះតែកើនឡើងដែរ ព្រោះតម្រូវការប្រើប្រាស់របស់បុគ្គលម្នាក់ៗកើនឡើងរហូត។ ចំណែកផ្លុស៊ីលឥន្ទនៈ ក៏ជាតម្រូវការមួយរបស់ប្រជាជននៅលើពិភពលោកដែរ ព្រោះផ្លុស៊ីលឥន្ទនៈជាប្រភពថាមពលមួយដែលមិនអាចខ្វះបាននៅក្នុងជីវភាពរស់នៅប្រចាំថ្ងៃ។

**1. វី**

- តើវីជាអ្វី ?
- វី : ជាអង្គធាតុរឹង អសរីរាង្គកើតឡើងដោយធម្មជាតិក្នុងសំបកផែនដីមានទម្រង់ជាគ្រាប់ ផ្នែករឹងរបស់ផែនដីសីលា។ សីលាផ្សំពីវីពីរប្រភេទ ចំណែកវីវិញ មិនកើតចេញពីសីលាទេ។
  - កំណប់វី : គឺជាបណ្តុំរូបធាតុរឹង កើតឡើងដោយធម្មជាតិនៅក្នុងដីលើសំបកផែនដីមានទម្រង់ទ្រាយ និងបរិមាណដែលអាចឱ្យយើងធ្វើអាជីវកម្មបាន និងបំប្លែងទៅជាវត្ថុមានប្រយោជន៍ផ្សេងៗទៀត។
  - ផ្លុស៊ីលឥន្ទនៈ : ជាការកើតឡើងពីសំណល់រុក្ខជាតិ និងសត្វដែលងាប់រលួយកប់នៅក្នុងសំបកផែនដីរាប់លានឆ្នាំកន្លងមកហើយ និងមិនកើតឡើងវិញ។

294



**ចំណេះដឹងបន្ថែម : ការអភិរក្សធនធានធម្មជាតិ (វី)**

តើធនធានធម្មជាតិដែលយើងប្រើប្រាស់សព្វថ្ងៃ ជាធនធានធម្មជាតិកើតឡើងវិញឬធនធានធម្មជាតិមិនកើតឡើងវិញ? យើងគួរតែមានការប្រុងប្រយ័ត្នអំពីរបៀបប្រើប្រាស់ពួកវា។ ដើម្បីអភិរក្សធនធានធម្មជាតិបាន យើងគួរតែព្យាយាមប្រើប្រាស់ពួកវាតែនៅពេលណាដែលចាំបាច់។ ឧទាហរណ៍៖ ការបើកបង្ហូរទឹករ៉ូប៊ីណេចោលក្នុងឡាវាឬនៅពេលអ្នកកំពុងដុសធ្មេញ ការពុកមាត់ឬពុកចង្ការដែលនេះជាទង្វើខ្លះខ្លាយទឹកស្អាត។ បរិមាណទឹកដែលបង្ហូរចោលនេះគឺច្រើនណាស់ ដែលគេអាចប្រើប្រាស់វាដើម្បីធ្វើអ្វីផ្សេងទៀតបាន។ វិធីអភិរក្សធនធានធម្មជាតិមួយទៀតគឺការកែច្នៃឡើងវិញ។ ការកែច្នៃឡើងវិញ គឺជាការប្រើប្រាស់សម្ភារដែលបានប្រើរួចឬបានបោះចោលហើយត្រូវបានដំណើរការផលិតទៅជាផលិតផលថ្មី។ វិធីកែច្នៃឡើងវិញធ្វើឱ្យអ្នកផលិតប្រើប្រាស់ធនធានធម្មជាតិឡើងវិញដើម្បីផលិតផលិតផលថ្មី។ វិធីនេះជួយកាត់បន្ថយបរិមាណធនធានធម្មជាតិដែលត្រូវទាញយកពីផែនដី។ ឧទាហរណ៍៖ ការកែច្នៃកំប៉ុងអាលុយមីញ៉ូមបានជួយកាត់បន្ថយបរិមាណធាតុអាលុយមីញ៉ូមដែលត្រូវបានរុករកពីក្នុងសំបកផែនដីដើម្បីយកមកផលិតកំប៉ុងថ្មី។

**2. ប្រភេទវិវិទន៍ផ្លូវសីលធម៌:**

**2.1. ប្រភេទវិវិ**

ជាទូទៅវិវិមានលក្ខណៈខុសៗគ្នា។ គេអាចបែងចែកវិវិទៅតាមសមាសភាពគីមីដែលវាផ្សំឡើង។ ធម្មតាគេបែងចែកវិវិជាប្រភេទគីមី វិវិស៊ីលីកាត និងវិវិគ្លុនស៊ីលីកាត។

- វិវិស៊ីលីកាត : វិវិដែលមានផ្ទុកសារធាតុស៊ីលីស្យូមនិងអុកស៊ីសែន។ សារធាតុទាំងពីរនេះ គេសង្កេតឃើញមានច្រើននៅក្នុងសំបកផែនដី។ នៅលើភពផែនដីយើងនេះ វិវិស៊ីលីកាតមានលើសពី 90% ក្រៅពីនេះ គឺជាវិវិគ្លុនស៊ីលីកាត។ សារធាតុស្យូមនិងអុកស៊ីសែនចង្កាបញ្ចូលគ្នាជាមួយសារធាតុផ្សេងទៀតដូចជា អាណូមមីញូម (Al) ដែក (Fe) ម៉ាញ៉េស្យូម (Mg) និងប៉ូតាស្យូម (K) ដើម្បីបង្កើតជាវិវិស៊ីលីកាត។
- វិវិគ្លុនស៊ីលីកាត : ជាពួកវិវិដែលមិនផ្សំឡើងដោយសារធាតុស៊ីលីស្យូមនិងអុកស៊ីសែន។ ប្រភេទវិវិនេះមានធាតុផ្សេងទៀតដូចជា កាបូន (C) ដែក (Fe) ស្ថានីយ៉ូម (S) មាស (Au) កាល់ស៊ីត (CaCl) ហាលីត (NaCl) និងម៉ាញ៉េស្យូម (Fe<sub>3</sub>O<sub>4</sub>) ។

**2.2. ប្រភេទផ្លូវសីលធម៌:**

ថាមពលដ៏សំខាន់ដែលប្រជាជនលើពិភពលោកយកមកប្រើប្រាស់ប្រចាំថ្ងៃភាគច្រើនមានប្រភពមកពីផ្លូវសីលធម៌។ ផ្លូវសីលធម៌មានច្រើនប្រភេទ ប្រេង និងឧស្ម័នធម្មជាតិ។

- ច្រើនប្រភេទគីមី ច្រើនប្រភេទ លើដី ចីខូម និងអង់ត្រាស៊ីត។ ប្រភេទនីមួយៗបង្ហាញពីដំណាក់កម្មយុគស្ថាននៃកំណើតច្រើនប្រភេទនិងយកមកប្រើប្រាស់បានជាផ្លូវសីលធម៌។
  - ច្រើនប្រេង : ជាសារធាតុទំនាក់ទំនងកើតឡើងពីការរុករានក្នុងដីនៃរុក្ខជាតិសរសៃមានពណ៌ត្នោតក្រហម។
  - ច្រើនលើដី : កើតឡើងពីសម្ពាធនៃកម្រិតកំលាំងដែលចាក់បង្ហូរពីលើច្រើនប្រេង។ ច្រើនលើដីមានពណ៌ត្នោត ទន់ និងមានវាយភាពលើ។
  - ច្រើនចីខូម : នៅពេលដែលសម្ពាធនៃប្រេងនៅលើច្រើនលើដីធ្វើឱ្យវាភ្លាយទៅជាច្រើនចីខូម។ ច្រើននេះស្ថិតនៅជ្រៅក្នុងផែនដី ហើយមានពណ៌ក្រហមខ្មៅ ហើយទន់សម្បូរជាងគេក្នុង ប្រភេទច្រើនប្រេង។
  - ច្រើនអង់ត្រាស៊ីត : នៅពេលដែលសម្ពាធនៃប្រេងនៅលើដីធ្វើឱ្យវាភ្លាយទៅជាច្រើនអង់ត្រាស៊ីត។ ប្រភេទច្រើនអង់ត្រាស៊ីតមានលក្ខណៈរឹង ហើយស្រួយនិងស្ទើរតែជាកាបូនសុទ្ធ។

**វត្ថុបំណង**  
សិស្សនឹងបង្ហាញពីប្រភេទវិវិ និងផ្លូវសីលធម៌ និងការប្រើប្រាស់វិវិ និងផ្លូវសីលធម៌។



**សកម្មភាពទី 1**

**គ្រូ :** តើប្អូនស្គាល់ប្រេង ដែរឬទេ?

**សិស្ស :** ខ្ញុំស្គាល់។

**គ្រូ :** តើគេប្រើប្រេងដូចម្តេចខ្លះ នៅក្នុងការរស់នៅប្រចាំថ្ងៃ?

**សិស្ស :** ផលិតជាប្រេងសាំងសម្រាប់ថយន្ត។

**គ្រូ :** ប្អូនស្គាល់ប្រេងបានច្បាស់ណាស់។ កៅស៊ូក្រាលថ្នល់ក៏ផលិតចេញពីប្រេងផងដែរ។ ប្រេងជាផ្លូវសីលធម៌ដែរឬទេ?

**សិស្ស :** ផលិតជាប្រេងសាំងសម្រាប់ថយន្ត។

**គ្រូ :** ប្អូនស្គាល់ប្រេងបានច្បាស់ណាស់។ កៅស៊ូក្រាលថ្នល់ក៏ផលិតចេញពីប្រេងផងដែរ។ ប្រេងជាផ្លូវសីលធម៌ដែរឬទេ?

**សិស្ស :** ផលិតជាប្រេងសាំងសម្រាប់ថយន្ត។

**សកម្មភាពទី 2**

**សំណួរគន្លឹះ:** យើងនាំគ្នាសង្កេត និងកំណត់រាងចំណុះប្រេងនៅក្នុងប្រភេទសិលាផ្សេងៗគ្នា។

**សម្ភារ :** ថ្នក្រែក ថ្នក់បោរ ថ្នកាជនី បានបើទ្រីចំនួនបី ប្រេងឆាបំពង់បន្តក់មួយ នាឡិកា។

**ដំណើរការ :**

1. យកថ្នក្រែកមួយៗទៅដាក់ក្នុងប្រេងផ្សេងៗគ្នា។
2. យកពីប៉ែតបន្តក់មួយប្រេងឆា ហើយយកទៅបន្តក់លើដុំថ្នក្រែកមួយៗចំនួនប្រាំដំណាក់។
3. សង្កេត និងកត់ត្រាពីរយៈពេលដែលសិលានីមួយៗស្រូបយកប្រេងឆា។

**វិភាគ និងសន្និដ្ឋាន :**

4. តើសិលាមួយណាដែលស្រូបប្រេងបានលឿនជាងគេ? ព្រោះអ្វី? តើសិលានោះមានលក្ខណៈអ្វីខ្លះដែលអាចឱ្យគេងាយស្រួលបូមយកផ្លូវសីលធម៌បាន?

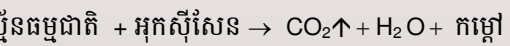
**ចម្លើយការវិភាគនិងសន្និដ្ឋានក្នុងសកម្មភាពទី 2**

4. ចម្លើយអាចផ្សេងៗគ្នា។ ថ្នក់រូដែលមានភាគរយភាពស្តោតខ្ពស់បានស្រូបប្រេងបានលឿនជាងគេ។ រាងចំណុះប្រេងភាគច្រើនជាថ្នក់បោរពីព្រោះថ្នក់បោរមានភាគរយភាពស្តោតខ្ពស់។ រាងចំណុះប្រេងដែលមានភាគរយភាពស្តោតខ្ពស់មានផ្ទុកផ្លូវសីលធម៌នៃប្រេងប្រេង និងឧស្ម័នធម្មជាតិច្រើន និងងាយស្រួលបូមយក។



**ចំណេះដឹងបន្ថែម : ហេតុអ្វីបានជាឧស្ម័នធម្មជាតិជាធាតុផ្សំដែលគេមិនចង់បាន?**

ប្រេងនិងឧស្ម័នធម្មជាតិមានប្រភពដើមដូចគ្នា និងត្រូវបានរុករកតាមវិធីដូចគ្នា។ ដំបូង អ្នករុករកបានរុករកតែប្រេងប៉ុណ្ណោះ មិនបានគិតថានឹងរុករកឧស្ម័នធម្មជាតិឡើយ ពីព្រោះពួកគេបានគិតថាឧស្ម័នធម្មជាតិគឺជាអនុផលដែលគេមិនចង់បាន និងមានតម្លៃទាប។ អស់រយៈពេលយូរមកហើយ គេដឹងថាការផលិតប្រេងគឺជាការផលិតឧស្ម័នធម្មជាតិ។ មុនសង្គ្រាមលោកលើកទីពីរ ផលិតផលមួយផ្នែកត្រូវបានប្រើប្រាស់នៅក្នុងស្រុក ចំណែកផ្នែកនៅសល់ត្រូវបាននោះចោលទៅក្នុងបរិយាកាស។ ប៉ុន្តែបន្ទាប់ពីសង្គ្រាមលោកលើកទីពីរ គេបានទទួលស្គាល់ថាឧស្ម័នធម្មជាតិមានតម្លៃជាប្រភពថាមពលសំខាន់។ ការខិតខំប្រឹងប្រែងជាច្រើនត្រូវបានធ្វើឡើងដើម្បីអភិវឌ្ឍការពង្រីកទីផ្សារ។ ដោយសារតែគុណសម្បត្តិដ៏ល្អរបស់ឧស្ម័នធម្មជាតិ និងតម្លៃទាបរបស់វា គេបានចាប់ផ្តើមប្រើប្រាស់ឧស្ម័នធម្មជាតិកាន់តែច្រើនឡើងៗ។ គិតត្រឹមឆ្នាំ 1958 ឧស្ម័នធម្មជាតិត្រូវបានប្រើប្រាស់ជាប្រភពថាមពលទីពីរជំនួសឱ្យផ្សេងៗ។ ឧស្ម័នធម្មជាតិគឺជាធាតុផ្សំច្រើនប្រេង។ ឧស្ម័នធម្មជាតិជាផលិតផលដែលមានដំណើរការចំហេះស្ទើរសព្វ និងមិនបង្កគ្រោះថ្នាក់។ ឧស្ម័នធម្មជាតិ និងប្រេងមានសមីការដូចគ្នា ប៉ុន្តែឧស្ម័នធម្មជាតិមានម៉ូលេគុលអ៊ីដ្រូកាបូកាបូនតូចជាង។ ចំហេះឧស្ម័នធម្មជាតិឱ្យផលជាអាសូតអុកស៊ីត និងឧស្ម័នស៊ុលផួរ (SO<sub>2</sub>)។



**វត្តបំណង**  
 សិស្សនឹងរៀបរាប់ពីផលប៉ះពាល់នៃការប្រើប្រាស់វីរ៉េ និង  
 ជួស៊ីលឥន្ទនៈមកលើបរិស្ថាន។

**សកម្មភាព**  
**“អាងប្រេង”**

ឧស្ម័នធម្មជាតិច្រើនស្ថិតនៅជាមួយឬក្បែរអាងប្រេងដែរ។ ឧស្ម័ន  
 ធម្មជាតិស្រាលជាងប្រេង ដូចនេះវាច្រើននៅលើប្រេង។

**សម្ភារៈ** កែវថ្លា អាវល់កុល 100ml ទឹក 100ml ប្រេងឆា 100ml  
 បំពង់បន្តក់

**ដំណើរការ**

1. គ្រូប្រាប់សិស្សថា “ប្រេងឆា” តំណាងប្រេង និង “អាវល់កុល”  
 តំណាងឧស្ម័នធម្មជាតិ។
2. បន្តក់ទឹកល្អិតពីរដំណាក់ទៅលើទឹក និងអាវល់កុល។  
 តើមានអ្វីប្រែប្រួលនៅក្នុងទឹក និងអាវល់កុល ដែរឬទេ?  
 ព្រោះអ្វី?
3. បន្តក់ទឹកពីរដំណាក់ទៅលើប្រេងឆា និងអាវល់កុល។ តើមាន  
 អ្វីប្រែប្រួលទៅលើប្រេងឆា និងអាវល់កុល ដែរឬទេ? ព្រោះអ្វី?

**សកម្មភាពពិភាក្សា**

គ្រូនាំសិស្សពិភាក្សាថា “ការដឹកយកវីរ៉េបង្កផលប៉ះពាល់ច្រើនដល់  
 បរិស្ថាន ដូច្នេះតើរដ្ឋាភិបាលប្រទេសកម្ពុជាគួរអនុញ្ញាតឱ្យមានការ  
 ដឹកយកវីរ៉េនិងជួស៊ីលឥន្ទនៈនៅក្នុងប្រទេសកម្ពុជា ដែរឬទេ?  
 ព្រោះអ្វី?”

- ប្រេងនិងឧស្ម័នធម្មជាតិ : បានកើតឡើងតាំងពីរាប់រយលានឆ្នាំមុន ដោយសារពាង្គកាយដែល  
 ងាប់ហើយធ្លាក់ទៅបាតសមុទ្រ ហើយគ្របដណ្តប់ដោយកម្ទេចកំណា។ នៅពេលកម្ទេចកំណា  
 ច្រើនឡើងវាធ្វើប្រតិកម្មនៅក្នុងសីលា។ សម្ពាធ និងកម្ដៅបានបំបែកសំណល់សារពាង្គកាយឱ្យ  
 ទៅជាប្រេង និងឧស្ម័នធម្មជាតិ។ នៅពេលសម្ពាធនិងកម្ដៅកាន់តែកើនឡើង ប្រេងនិងឧស្ម័ន  
 បានជ្រាបចូលតាមស្នាមប្រេងនិងរន្ធនៃសីលាបង្កើតបានជាអាងប្រេងនៅក្នុងដី។ អាងប្រេង  
 ច្រើនមានស្រទាប់ថ្ម ក្រែ និងថ្មភាជន៍។ ឧស្ម័នធម្មជាតិច្រើនស្ថិតនៅជាមួយ ឬក្បែរអាងប្រេង  
 ដែរ។ ឧស្ម័នធម្មជាតិស្រាលជាងប្រេង ដូចនេះវាច្រើននៅលើប្រេង។

**3. ផលប៉ះពាល់នៃការប្រើប្រាស់វីរ៉េនិងឧស្ម័នធម្មជាតិទៅលើបរិស្ថាន**

**3.1. ផលប៉ះពាល់នៃការប្រើប្រាស់វីរ៉េលើបរិស្ថាន**

ការដឹកយកវីរ៉េនិងធ្វើប្រតិកម្មវីរ៉េ នាំឱ្យប៉ះពាល់យ៉ាងធ្ងន់ធ្ងរដល់ធនធានទឹក ខ្យល់ និងធនធាន  
 ដីវះចម្រុះ។ ផលប៉ះពាល់ដល់សង្គមក៏កើតមានដែលបណ្តាលមកពីកំណើនតម្លៃការបំបែកសំណល់  
 សេវាផ្សេងៗនៅក្នុងជីវភាពរស់នៅប្រចាំថ្ងៃ។

ការដឹកយកវីរ៉េបង្កឱ្យមានផលប៉ះពាល់ដល់បរិស្ថានសំខាន់ៗរួមមាន :

- ការបោះបង់ដីចោល : នៅពេលដែលទាញយកវីរ៉េអាចធ្វើឱ្យមានការបោះបង់ដីចោល កន្លែង  
 ដែលបណ្តាលមកពីកង្វះនៃសារធាតុគីមីបំផ្លាញស្រទាប់ដីមានជីជាតិ និងធ្វើឱ្យខូចគុណភាពដីជា  
 អចិន្ត្រៃយ៍នៅតំបន់កំណប់វីរ៉េ។
- ការស្រុតដី : អណ្តូងវីរ៉េយប់ធ្វើអាជីវកម្មដែលជ្រៅជាមួយហេតុនៃការបាក់ស្រុតផ្ទៃដីខាងលើ  
 តាមខ្សែរយរ ឬដេកដែលអាចបំផ្លាញអគារ ផ្លូវថ្នល់ ដឹកសិកម្ម និងធ្វើឱ្យមានការប្រែប្រួល  
 របបទឹកហូរលើផ្ទៃដីទៀតផង។
- ការបំពុល : ការដឹកយកវីរ៉េបានបំពុលថវិយាកាស ទឹកលើផែនដី និងទឹកក្នុងដី។ ទឹកភ្លៀង  
 ដែលជ្រាបចូលទៅក្នុងកំនរសំណល់វីរ៉េបានធ្វើឱ្យទឹកនោះកខ្វក់(ចូរ-ល្អក់) ហើយហូរចូលទៅ  
 បំពុលដល់ប្រភពទឹកទន្លេ ស្ទឹង ព្រែក និងប្រភពផ្សេងៗទៀត។ ទឹកភ្លៀងដែលហូរចេញពីកំនរ  
 សំណល់នោះ បានហូរនាំឱ្យមានជំងឺដូចជា កូបាល កាត់មួម ទង់ដៃ និងសារធាតុផ្សេងៗទៀត  
 ទៅជាមួយ ហើយផ្តុំគ្នាច្រើនឡើង ជាហេតុនាំឱ្យទឹក ដី និងរុក្ខជាតិពុល ហើយអាចខូចសុខ  
 ភាពចំពោះមនុស្ស សត្វ និងរុក្ខជាតិ។
- សូរស័ព្ទ : ការដាក់ឱ្យផ្ទុះនិងការដឹកជញ្ជូនវីរ៉េនាំឱ្យមានសូរស័ព្ទខ្លាំងដល់ប្រជាជននិងសត្វព្រៃ  
 នៅក្នុងតំបន់នោះផងដែរ។

**ចំណេះដឹងមូលដ្ឋាន : ការកែច្នៃឡើងវិញ**

វីរ៉េជាធនធានមានការកំណត់ និងមិនកើតឡើងវិញឡើយ ដូច្នេះមនុស្សជំនាន់បច្ចុប្បន្ន និងជំនាន់អនាគតត្រូវប្រើប្រាស់វីរ៉េប្រកប  
 ដោយការថែទាំ។ នេះគឺជាការកិច្ចសំខាន់និងចាំបាច់មួយ ប្រសិនបើមានតម្រូវការវីរ៉េនៅក្នុងសង្គមសម័យទំនើប។ នេះក៏ជាការកិច្ចសំខាន់និង  
 ចាំបាច់មួយដែរ ដោយសារការរុករកវីរ៉េបង្កផលប៉ះពាល់ច្រើនទៅលើថាមពល ធនធានទឹក និងបរិស្ថាន។ ការប្រើប្រាស់វីរ៉េដោយប្រាជ្ញាបាន  
 ពាក់ព័ន្ធយ៉ាងជិតស្និទ្ធនឹងយុទ្ធសាស្ត្រផ្សេងៗគ្នា ដូចជា ការជំនួស ការកែច្នៃឡើងវិញ និងការយកពន្ធអាករលើអាជីវកម្មវីរ៉េ។

ការកែច្នៃឡើងវិញ គឺជាយុទ្ធសាស្ត្រមួយនៃការខិតខំប្រឹងប្រែងអភិរក្សវីរ៉េ តាមរយៈការកាត់បន្ថយការប្រើប្រាស់ខ្លះខ្លាយនៃធនធាន  
 ដែលមានសារៈប្រយោជន៍ នៅក្នុងទម្រង់ជាកាកសំណល់ និងសំណល់អេតចាយ។ ភាគច្រើននៃលោហៈដែលត្រូវបានបាត់បង់នាពេល  
 សព្វថ្ងៃនេះត្រូវបានធ្វើឡើងតាមរយៈការបំបែក និងការកប់ក្នុងដី ដែលត្រូវបានគេកាយឃើញ និងយកមកកែច្នៃសម្រាប់ការប្រើប្រាស់ឡើង  
 វិញ។ ការខាតបង់ដែលមិនអាចជៀសបានគឺតាមរយៈអុកស៊ីតកម្ម និងការកកិត បើទោះបីជាគេបានកំណត់ការប្រើប្រាស់ក៏ដោយ។

ការខិតខំប្រឹងប្រែងសន្សំសំចៃបានក្លាយជាកិច្ចការមួយដែលគ្រប់គ្នាអាចធ្វើបាន។ នៅក្នុងសេដ្ឋកិច្ចនាពេលអនាគត កិច្ចខិតខំប្រឹង  
 ប្រែងសន្សំសំចៃនេះនឹងជួយកាត់បន្ថយការបោះចោលដែលមិនមានការពិចារណា។ យើងត្រូវរៀនរចនាការកែច្នៃ ដែលមានន័យថាយើងត្រូវ  
 រចនាសារធាតុគ្រោះថ្នាក់ឱ្យទៅជាសារធាតុមិនមានគ្រោះថ្នាក់ តាមរយៈដំណើរការផលិតនៅក្នុងរោងចក្រ។ ឧទាហរណ៍ ការកែច្នៃថយន្ត  
 ចាស់ៗឱ្យទៅជាថយន្តថ្មីៗ តាមរយៈការបញ្ជូនចូលទៅក្នុងរោងចក្រកែច្នៃឡើងវិញ។

ផែនការសិក្សា ជំពូកទី ២ មេរៀនទី ៥

៣.២. ផលប៉ះពាល់នៃការប្រើប្រាស់ឥន្ធនៈផ្លូស៊ីយ ទៅលើបរិស្ថាន

ធុរ្យកម្ម ប្រេង និងឧស្ម័នធម្មជាតិជាប្រភពថាមពលសំខាន់ណាស់សម្រាប់ឧស្សាហកម្ម គមនាគមន៍ និងគេហដ្ឋាន។ នៅពេលធុរ្យកម្មនេះបញ្ចេញកម្ដៅនិងផ្សែងយ៉ាងខ្លាំង។ ផ្សែងនៃចំហេះធុរ្យកម្មមាន កាបូនឌីអុកស៊ីត (CO<sub>2</sub>) និងស្ពាន់ឌីអុកស៊ីត (S) ។ ផ្សែងបានដឹកនាំកាបូនឌីអុកស៊ីតទៅក្នុងបរិយាកាស ដែល នាំឱ្យមានកង្វះកំដៅធ្វើឱ្យអាកាសធាតុប្រែប្រួល។ ស្ពាន់ឌីអុកស៊ីតដែលអណ្ដូតក្នុងអាកាសផ្សំគ្នាជាមួយអុកស៊ី ដែលបង្កើតបានជាឧស្ម័នពុលគឺ ស្ពាន់ឌីអុកស៊ីត (SO<sub>2</sub>) ។

ចំហេះផ្លូស៊ីយឥន្ធនៈបញ្ចេញសារធាតុបំពុលជាច្រើនទៅក្នុងបរិយាកាស។ សារធាតុបំពុលទាំង ពោះភាគច្រើនជាឧស្ម័នដូចជា ស្ពាន់ឌីអុកស៊ីត (SO<sub>2</sub>) អាសូតអុកស៊ីត (NO<sub>2</sub>) អាម៉ូញាក់ (NH<sub>3</sub>) និង កាបូនឌីអុកស៊ីត (CO<sub>2</sub>) ។ ឧស្ម័នមួយចំនួនដែលបានពីចំហេះផ្លូស៊ីយឥន្ធនៈផ្សំជាមួយចំហេះទឹក បង្កើតបានជាអាស៊ីតខ្សោយ។ នៅពេលវាធ្លាក់មកលើផែនដីគេឱ្យឈ្មោះថា ភ្លៀងអាស៊ីត។ ភ្លៀង អាស៊ីតអាចធ្វើឱ្យខូចខាតអាការចំរុះ បំផ្លាញជីវិតសត្វ និងរុក្ខជាតិលើផែនដី។ សារធាតុដែលកើតពី ចំហេះផ្លូស៊ីយឥន្ធនៈនេះក៏អាចធ្វើឱ្យខូចសុខភាពមនុស្សផងដែរ។

មេរៀនសង្ខេប

- ដី : ជាអង្គធាតុរឹង អស់វិរាងកើតឡើងដោយធម្មជាតិក្នុងសំបកផែនដី មានទម្រង់ជាក្រាម។
- ប្រភេទដី : ជាទូទៅវិមានលក្ខណៈខុសៗគ្នា។ គេអាចបែងចែកវិទៅតាមសមាសភាពគីមី ដែលផ្សំឡើង។ ធម្មតាគេចែកវិជា ពីរក្រុមគឺ ដីស៊ីលីកាត និងដីគ្មានស៊ីលីកាត។
- ប្រភេទឥន្ធនៈផ្លូស៊ីយ : ថាមពលសំខាន់ដែលប្រជាជនក្នុងពិភពលោកយកមកប្រើប្រាស់ ប្រចាំថ្ងៃភាគច្រើនមានប្រភពមកពីផ្លូស៊ីយឥន្ធនៈ។ ឥន្ធនៈផ្លូស៊ីយមានធុរ្យកម្ម ប្រេង និងឧស្ម័ន ធម្មជាតិ។

សំណួរ

1. តើដីនិងផ្លូស៊ីយឥន្ធនៈជាអ្វី?
2. តើគេចែកដីជាប៉ុន្មានប្រភេទ? អ្វីខ្លះ?
3. តើផ្លូស៊ីយឥន្ធនៈចែកចេញជាប៉ុន្មានប្រភេទ? អ្វីខ្លះ?
4. ចូរនិយាយពីផលប៉ះពាល់ការប្រើប្រាស់ដីចំពោះបរិស្ថាន។
5. ចូររៀបរាប់ពីផលប៉ះពាល់នៃការប្រើប្រាស់ផ្លូស៊ីយឥន្ធនៈចំពោះបរិស្ថាន។

297



សកម្មភាពពិភាក្សា

គ្រូនាំសិស្សពិភាក្សាថា “ការបូមយកប្រេង និងឧស្ម័នធម្មជាតិបង្ក ផលប៉ះពាល់ច្រើនដល់បរិស្ថាន ដូច្នេះតើវាជាប្រទេស កម្ពុជាគួរអនុញ្ញាតឱ្យមានការបូមយកប្រេង និងឧស្ម័នធម្មជាតិនៅ ក្នុងប្រទេសកម្ពុជា ដែរឬទេ? ព្រោះអ្វី?”



ចម្លើយសំណួរ

1. ដី ជាអង្គធាតុអសរីរាង្គ កើតឡើងដោយធម្មជាតិក្នុងសំបកផែនដី និងមានទម្រង់ជាក្រាម។  
ផ្លូស៊ីយឥន្ធនៈ ជាការកើតឡើងពីសំណល់រុក្ខជាតិ និងសត្វដែលងាប់រលួយកប់ក្នុងសំបកផែនដីរាប់លានឆ្នាំកន្លងមកហើយ និងមិន កើតឡើងវិញ។
2. គេចែកដីជាពីរប្រភេទគឺ ដីស៊ីលីកាត និងដីគ្មានស៊ីលីកាត។
3. ផ្លូស៊ីយឥន្ធនៈចែកចេញជាបីប្រភេទគឺ ធុរ្យកម្ម ប្រេង និងឧស្ម័នធម្មជាតិ។
4. ការប្រើប្រាស់ដីផ្តល់ផលប៉ះពាល់មួយចំនួនចំពោះបរិស្ថាន ដូចជា ការបោះបង់ដីចោល ការស្រុតដី ការបំពុល និងការរំខានដោយ សូរស័ព្ទ។
5. ការប្រើប្រាស់ផ្លូស៊ីយឥន្ធនៈផ្តល់ផលប៉ះពាល់មួយចំនួនចំពោះបរិស្ថាន ដូចជា ការបញ្ចេញកម្ដៅ និងសារធាតុពុលទៅក្នុងបរិយាកាស ការបង្កើតឱ្យមានបញ្ហាបាតុភូតកម្ដៅកោះ ភ្លៀងអាស៊ីត និងជម្ងឺហ៊ីត។

# ចំណេះដឹងបន្ថែម

## ចំណេះដឹងបន្ថែម ៖ ដំណោះស្រាយបញ្ហាផ្លូវស៊ីលីកាស្ត័រ

តើយើងអាចធ្វើអ្វីបានខ្លះដើម្បីដោះស្រាយបញ្ហាផ្លូវស៊ីលីកាស្ត័រ? ជាក់ស្តែងណាស់ យើងមិនអាចបញ្ឈប់ការប្រើប្រាស់ផ្លូវស៊ីលីកាស្ត័រនៅពេលណាមួយក្នុងពេលឆាប់ៗនេះបានឡើយ ព្រោះថានៅក្នុងការរស់នៅប្រចាំថ្ងៃរបស់យើង យើងពឹងអាស្រ័យទាំងស្រុងលើផ្លូវស៊ីលីកាស្ត័រ។ ប៉ុន្តែមានវិធានការដែលយើងអាចធ្វើបានដើម្បីកាត់បន្ថយផលប៉ះពាល់អវិជ្ជមាននៃផ្លូវស៊ីលីកាស្ត័រ។ ការធ្វើដំណើរដោយរថយន្តគួរតែធ្វើឡើងតែនៅពេលណាដែលចាំបាច់បានហើយ ពីព្រោះថាវិធានការនេះអាចឱ្យមនុស្សកាត់បន្ថយការបញ្ចេញផ្សែងរថយន្តទៅក្នុងខ្យល់បានខ្លះៗ។ ការធ្វើដំណើរច្រើននាក់ក្នុងរថយន្តតែមួយ (Carpooling) ការជិះកង់ ការដើរ និងការប្រើប្រាស់ប្រព័ន្ធលូតកាត់ទំហំធំ (mass-transit system)\* ក៏បានជួយកាត់បន្ថយចំនួនរថយន្តនៅលើផ្លូវបានច្រើនផងដែរ។ វិធានការទាំងនេះអាចជួយកាត់បន្ថយបានត្រឹមតែផលប៉ះពាល់អវិជ្ជមាននៃការប្រើប្រាស់ផ្លូវស៊ីលីកាស្ត័រតែប៉ុណ្ណោះ វាមិនបានជួយលុបបំបាត់បញ្ហាទាំងអស់បានឡើយ។ វិធានការដែលអាចធ្វើបានគឺការប្រើប្រាស់ធនធានថាមពលជំនួសឡើងវិញជាក់លាក់មួយចំនួនដែលអ្នកនឹងរៀននៅក្នុងផ្នែកបន្ទាប់នេះ ដូច្នេះយើងអាចលុបបំបាត់បញ្ហាផ្លូវស៊ីលីកាស្ត័របាន។

\* ការប្រើប្រាស់ប្រព័ន្ធលូតកាត់ទំហំធំ ឬមធ្យោបាយឆ្លងកាត់ដោយរថយន្តធំ (រថយន្តក្រុង) អាចជួយកាត់បន្ថយការបំពុលខ្យល់ដោយសារតែចំហេះផ្លូវស៊ីលីកាស្ត័រ។



អ្នកជិះកង់ដើម្បីសុខភាព និងផែនដី (រូបថតអ្នកជិះកង់នៅក្បែរវិមានឯករាជ្យ ភ្នំពេញ ឆ្នាំ2015)



**ចំណេះដឹងបន្ថែម៖**

**ការកែច្នៃឡើងវិញ ៖ កំប៉ុង និងដបទឹកសុទ្ធ នៅរាជធានីភ្នំពេញ ឆ្នាំ2015**

នៅរាជធានីភ្នំពេញ យើងអាចជួបរទេះកង់ផ្ទុកដបទឹកសុទ្ធ កំប៉ុង និងដបកែវពេញៗរទេះ។ រទេះកង់ទាំងនោះត្រូវបានប្រើសម្រាប់ផ្ទុកសំណល់អេកតាយដែលអាចកែច្នៃឡើងវិញបាន។ ក្រុមយើងបានជួបសម្ភាសន៍ជាមួយនឹងអ្នករើសនិងប្រមូលឬទិញសំណល់អេកតាយ។ តាមរយៈកិច្ចសម្ភាសន៍នេះ អ្នករើសនិងប្រមូលសំរាមអេកតាយបានប្រាប់យើងថា “គាត់រើសនិងប្រមូលឬទិញសំរាមអេកតាយជាច្រើនប្រភេទ ដូចជា ដបទឹកសុទ្ធ កំប៉ុង(អាណូយមីញ៉ូម) និងដបកែវ។ បន្ទាប់ផ្ទុកពេញរទេះកង់រួចហើយ គាត់ដឹកសំណល់សំរាមអេកតាយទាំងនោះទៅលក់ឱ្យឈ្មួញនៅផ្សារដេប៉ូ”។ ចំពោះតម្លៃលក់ចេញរបស់គាត់ និងទិញចូលរបស់ឈ្មួញ គាត់បានបញ្ជាក់ដូចខាងក្រោម៖

តម្លៃទិញចូលសំណល់សំរាមអេកតាយរបស់អ្នករើស និងប្រមូល	តម្លៃលក់ចេញសំណល់សំរាមអេកតាយរបស់អ្នករើស និងប្រមូល
ដបទឹកសុទ្ធចំនួន 20 (ប្រហែល 400g) = 100 រៀល	ដបទឹកសុទ្ធ 1000g = 500 រៀល
កំប៉ុង(អាណូយមីញ៉ូម) ចំនួន 1 = (ប្រហែល 15g) = 50 រៀល	កំប៉ុង(អាណូយមីញ៉ូម) 1 000g = 4000 រៀល
ដបកែវចំនួន 1 = 100 រៀល	ដបកែវចំនួន 1 = 200 រៀល





# ចម្លើយ ការដាក់ពិន្ទុ និងការវិនិច្ឆ័យ

## ចម្លើយ និងការដាក់ពិន្ទុ (ពិន្ទុសរុប 50 ពិន្ទុ)

1. (25ពិន្ទុ)

ក. វ៉ែស៊ីលីកាត (5ពិន្ទុ)

ការដាក់ពិន្ទុ: 5 ពិន្ទុ = បំពេញចម្លើយ វ៉ែស៊ីលីកាត 0 ពិន្ទុ = បំពេញចម្លើយ វ៉ែគ្មានស៊ីលីកាតឬក្រៅពីនេះ

ខ. វ៉ែគ្មានស៊ីលីកាត (5ពិន្ទុ)

ការដាក់ពិន្ទុ: 5 ពិន្ទុ = បំពេញចម្លើយ វ៉ែគ្មានស៊ីលីកាត 0 ពិន្ទុ = បំពេញចម្លើយ វ៉ែស៊ីលីកាតឬក្រៅពីនេះ

គ. វ៉ែគ្មានស៊ីលីកាត (5ពិន្ទុ)

ការដាក់ពិន្ទុ: 5 ពិន្ទុ = បំពេញចម្លើយ វ៉ែគ្មានស៊ីលីកាត 0 ពិន្ទុ = បំពេញចម្លើយ វ៉ែស៊ីលីកាតឬក្រៅពីនេះ

ឃ. វ៉ែស៊ីលីកាត (5ពិន្ទុ)

ការដាក់ពិន្ទុ: 5 ពិន្ទុ = បំពេញចម្លើយ វ៉ែស៊ីលីកាត 0 ពិន្ទុ = បំពេញចម្លើយ វ៉ែគ្មានស៊ីលីកាតឬក្រៅពីនេះ

ង. វ៉ែស៊ីលីកាត (5ពិន្ទុ)

ការដាក់ពិន្ទុ: 5 ពិន្ទុ = បំពេញចម្លើយ វ៉ែស៊ីលីកាត 0 ពិន្ទុ = បំពេញចម្លើយ វ៉ែគ្មានស៊ីលីកាតឬក្រៅពីនេះ

2. (25ពិន្ទុ)

ក. ប្រេង (5ពិន្ទុ)

ការដាក់ពិន្ទុ: 5 ពិន្ទុ = បំពេញចម្លើយ ប្រេង 0 ពិន្ទុ = បំពេញចម្លើយ ធុរ្យងច្នៃ ឧស្ម័នធម្មជាតិ ឬក្រៅពីនេះ

ខ. ឧស្ម័នធម្មជាតិ (5ពិន្ទុ)

ការដាក់ពិន្ទុ: 5 ពិន្ទុ = បំពេញចម្លើយ ឧស្ម័នធម្មជាតិ 0 ពិន្ទុ = បំពេញចម្លើយ ធុរ្យងច្នៃ ប្រេង ឬក្រៅពីនេះ

គ. ធុរ្យងច្នៃ (5ពិន្ទុ)

ការដាក់ពិន្ទុ: 5 ពិន្ទុ = បំពេញចម្លើយ ធុរ្យងច្នៃ 0 ពិន្ទុ = បំពេញចម្លើយ ប្រេង ឧស្ម័នធម្មជាតិ ឬក្រៅពីនេះ

ឃ. ឧស្ម័នធម្មជាតិ (5ពិន្ទុ)

ការដាក់ពិន្ទុ: 5 ពិន្ទុ = បំពេញចម្លើយ ឧស្ម័នធម្មជាតិ 0 ពិន្ទុ = បំពេញចម្លើយ ធុរ្យងច្នៃ ប្រេង ឬក្រៅពីនេះ

ង. ធុរ្យងច្នៃ (5ពិន្ទុ)

ការដាក់ពិន្ទុ: 5 ពិន្ទុ = បំពេញចម្លើយ ធុរ្យងច្នៃ 0 ពិន្ទុ = បំពេញចម្លើយ ប្រេង ឧស្ម័នធម្មជាតិ ឬក្រៅពីនេះ

**ការវិនិច្ឆ័យ**

វិធី	<b>ការវិនិច្ឆ័យ និងសំណូមពរសម្រាប់ការបង្រៀន</b>
0 – 20	សិស្សដែលទទួលបានពិន្ទុនៅចន្លោះនេះ មានន័យថាពួកគេមិនទាន់មានចំណេះដឹងមូលដ្ឋាន និងជំនាញវិភាគខ្លឹមសារវិទ្យាសាស្ត្រស្តីពី “វីនិងផូស៊ីលឥន្ធនៈ” ឡើយ។ ដូច្នេះ គ្រូគប្បីនាំសិស្សអានមេរៀននេះឡើងវិញ។
21 – 30	សិស្សដែលទទួលបានពិន្ទុនៅចន្លោះនេះ មានន័យថាពួកគេមិនទាន់អាចពន្យល់បានគ្រប់គ្រាន់ពីចំណេះដឹងមូលដ្ឋាន និងជំនាញវិភាគងាយៗលើខ្លឹមសារវិទ្យាសាស្ត្រស្តីពី “វីនិងផូស៊ីលឥន្ធនៈ” ដូចជា ប្រភេទធនធានដែលអាចជំនួសបាន។ ដូច្នេះ គ្រូគប្បីពន្យល់សិស្សម្តងទៀតដោយប្រើវីនិងផូស៊ីលឥន្ធនៈ។
31 – 40	សិស្សដែលទទួលបានពិន្ទុនៅចន្លោះនេះ មានន័យថាពួកគេអាចពន្យល់បានច្រើនពីខ្លឹមសារ និងជំនាញវិភាគស៊ីជម្រៅលើខ្លឹមសារវិទ្យាសាស្ត្រស្តីពី “វីនិងផូស៊ីលឥន្ធនៈ”។ ទោះជាដូច្នោះក៏ដោយ គ្រូគប្បីស្តាប់ និងអង្កេតចម្លើយរបស់សិស្ស និងពន្យល់ត្រង់ចំណុចដែលសិស្សឆ្លើយមិនត្រូវ។ គ្រូក៏គប្បីត្រូវវិស្វយល់ និងសិក្សាពីចំណាប់អារម្មណ៍ និងបរាជ័យរបស់សិស្សម្នាក់ៗ។
41 – 50	សិស្សដែលទទួលបានពិន្ទុនៅចន្លោះនេះ មានន័យថាពួកគេអាចពន្យល់បានពីខ្លឹមសារ និងជំនាញវិភាគស៊ីជម្រៅគ្រប់គ្រាន់លើខ្លឹមសារវិទ្យាសាស្ត្រស្តីពី “វីនិងផូស៊ីលឥន្ធនៈ”។ ទោះជាដូច្នោះក៏ដោយ គ្រូគប្បីនាំសិស្សដែលមាន “ចំណេះដឹងបន្ថែម និងសកម្មភាព” ខ្លាំងពន្យល់ និងជួយសិស្សខ្សោយឱ្យយល់កាន់តែច្បាស់ថែមទៀត និងទទួលបានចំណេះដឹងនៃមេរៀននេះ កាន់តែស៊ីជម្រៅ។

# មេរៀនទី 1

# សំណល់រឹង

## វត្ថុបំណង

- បន្ទាប់ពីសិក្សាមេរៀននេះចប់ សិស្សនឹង ៖
- ស្គាល់និយមន័យសំណល់រឹង
  - រៀបរាប់បានពីប្រភព និងផលប៉ះពាល់នៃសំណល់រឹង
  - រកវិធានការកាត់បន្ថយសំណល់រឹង។

## ផែនការមេរៀន

មេរៀននេះត្រូវបានបែងចែកសម្រាប់បង្រៀន និងរៀនរយៈពេល 3 ម៉ោង ដូចបង្ហាញក្នុងតារាង 1 ខាងក្រោម។

**តារាង 1 បំណែងចែកម៉ោងបង្រៀន**

ចំនួនម៉ោងសិក្សា	ចំណងជើងរងមេរៀន	ទំព័រក្នុងសៀវភៅសិក្សាគោល
1ម៉ោង	1. និយមន័យ	300
1ម៉ោង	2. ប្រភពសំណល់រឹង 3. ផលប៉ះពាល់នៃសំណល់រឹង	301 – 302
1ម៉ោង	4. ការគ្រប់គ្រង និងវិធានការកាត់បន្ថយសំណល់រឹង 4.1. ការគ្រប់គ្រងសំណល់រឹង 4.2. វិធានការកាត់បន្ថយសំណល់រឹង មេរៀនសង្ខេប សំណួរ	302 – 303

## ការណែនាំការមេរៀន

តារាង 2 បង្ហាញពីផែនការបង្រៀន និងលទ្ធផលរង្វាយតម្លៃក្នុងម៉ោងសិក្សានីមួយៗ។ គ្រូគប្បីដឹកនាំសកម្មភាពទាំងអស់ និងវាយតម្លៃសិស្សដោយផ្អែកលើលក្ខណៈវិនិច្ឆ័យនៅក្នុងតារាង 2។ ដូចសកម្មភាពនៅក្នុងតារាង 2 សិស្សនឹងធ្វើសកម្មភាពផ្សេងៗអំពី និយមន័យសំណល់រឹង ប្រភពសំណល់រឹង ប្រភេទសំណល់រឹង ផលប៉ះពាល់នៃសំណល់រឹង ការគ្រប់គ្រងសំណល់រឹង វិធានការកាត់បន្ថយសំណល់រឹង និងការស្ថាបនាសង្គមដោយចីរភាព ដែលសកម្មភាពទាំងនេះនឹងជួយសិស្សអភិវឌ្ឍការយល់របស់ពួកគេអំពី សំណល់រឹង។ ទោះជាយ៉ាងណា គ្រូគប្បីប្រើទេពកោសល្យ ភាពទន់ភ្លន់ និងភាពបត់បែនរបស់ខ្លួន ដើម្បីច្នៃប្រឌិតទៅតាមកម្រិតយល់ដឹងរបស់សិស្ស និងស្ថានភាពជាក់ស្តែងរបស់ថ្នាក់រៀន ដើម្បីសម្របសម្រួលទៅតាមសកម្មភាពបង្រៀននិងរៀនដូចមាននៅក្នុងការណែនាំការបង្រៀននេះ។

**តារាង 2 ផែនការបង្រៀន និងលទ្ធផលរង្វាយតម្លៃ**

ម៉ោងសិក្សា	វត្ថុបំណង	សកម្មភាព	លទ្ធផលរង្វាយតម្លៃ
ទី1	ពណ៌នាពីនិយមន័យសំណល់រឹង	សិស្សរាយឈ្មោះសំណល់ចេញពីលំនៅឋានរបស់ពួកគេដើម្បីរកឃើញសំណល់រឹង និងកំណត់និយមន័យ “សំណល់រឹង” និងស្តាប់របាយការណ៍របស់ក្លឹបទីក្រុងរ៉ូម។	សិស្សអាចឱ្យប្រាប់និយមន័យ “សំណល់រឹង”។
ទី2	ពន្យល់ពីប្រភពសំណល់រឹង និងផលប៉ះពាល់នៃសំណល់រឹង។	សិស្សប្រាប់ពីប្រភពសំណល់រឹងដែលពួកគេធ្លាប់បានចុះបញ្ជីនៅម៉ោងសិក្សាមុន និងប្រាប់ពីផលប៉ះពាល់នៃសំណល់រឹងដែលបានចុះបញ្ជី។	សិស្សអាចកំណត់និងប្រាប់ប្រភពសំណល់រឹង និងពន្យល់ផលប៉ះពាល់នៃសំណល់រឹង។

<p>ទី៣</p>	<p>ពណ៌នាពីការគ្រប់គ្រងសំណល់រឹង និងវិធានការកាត់បន្ថយសំណល់រឹង។</p>	<p>សិស្សប្រាប់ពីការគ្រប់គ្រង និងវិធានការកាត់បន្ថយសំណល់រឹងដែលពួកគេធ្លាប់បានចុះបញ្ជីនៅម៉ោងសិក្សាមុននិងលើកឧទាហរណ៍នៃសកម្មភាពទាក់ទងនឹងកំណែច្នៃឡើងវិញនិងការប្រើប្រាស់ឡើងវិញនៅក្នុងការរស់នៅ។</p> <p>សិស្សស្តាប់សកម្មភាពប្រឈមនានាអំពីការកែច្នៃឡើងវិញនៅក្នុងមជ្ឈមណ្ឌលគរុកោសល្យភូមិភាគខេត្តកណ្តាលរបស់ VVOB។</p>	<p>សិស្សប្រាប់ពីវិធីគ្រប់គ្រង និងវិធានការកាត់បន្ថយសំណល់រឹង។</p>
------------	--	---	---

**ចំណុចនៃការបង្រៀន**

ចំណុចនៃការបង្រៀនមេរៀននេះគឺដើម្បីឱ្យសិស្សស្ថាបនាសង្គមចីរភាពមួយ។

**ចំណេះដឹងមូលដ្ឋានសម្រាប់មេរៀននេះ**

មុនពេលចាប់ផ្តើមបង្រៀនខ្លឹមសារមេរៀនថ្មីក្នុងម៉ោងសិក្សានីមួយៗ គ្រូគប្បីសួរសិស្សដើម្បីពិនិត្យចំណេះដឹងមូលដ្ឋានរបស់ពួកគេដូចជា ៖ ដឹងពីកន្លែងដែលមានក្លិនអាក្រក់នៅក្នុងទីក្រុង និងធ្លាប់ឮពាក្យ កំណែច្នៃជាថ្មី កំប៉ុសកម្ម ប្រើប្រាស់ឡើងវិញ កាត់បន្ថយការបោះចោលត្រឹមត្រូវ និង កំណែច្នៃកម្ដៅ ។ បើមិនដូច្នោះទេសិស្សនឹងពិបាកសម្រេចបានវត្ថុបំណងមេរៀននេះ។



**វត្ថុបំណង**

សិស្សនឹងឱ្យនិយមន័យសំណល់រឹង។



**សកម្មភាព**

**គ្រូ:** តើប្អូនដឹងពីកន្លែងមានក្លិនស្អុយដែរឬទេ? ហេតុអ្វីបានជាកន្លែងនោះមានក្លិនស្អុយ?

**សិស្ស:** សិស្សប្រាប់ពីកន្លែងមានក្លិនស្អុយ និងមូលហេតុនាំឱ្យកន្លែងនោះមានក្លិនស្អុយ។

**សំណួរគន្លឹះ:** “យើងនាំគ្នាឱ្យនិយមន័យសំណល់រឹង!”

**សម្ភារៈ:** ក្រដាស ប៊ិច

**ដំណើរការ:**

1. គ្រូនាំសិស្សពិនិត្យ និងធ្វើបញ្ជីសំណល់នៅក្នុងលំនៅឋានរបស់ពួកគេ។
2. គ្រូនាំសិស្សបង្កើតក្រុមដើម្បីសង្ខេបបញ្ជីសំណល់របស់ពួកគេ និងប្រាប់មិត្តក្នុងថ្នាក់រៀន។
3. គ្រូសង្ខេបរបាយការណ៍របស់សិស្សដាក់លើក្តារខៀន។
4. គ្រូនាំសិស្សចាត់ថ្នាក់សំណល់ដែលពួកគេគិតថាជាសំណល់រឹង។
5. គ្រូនាំសិស្សឱ្យនិយមន័យ “សំណល់រឹង”។



**ចំណេះដឹងបន្ថែម ៖ របាយការណ៍ពីក្លិបទីក្រុងរៀន**

នៅឆ្នាំ 1972 ប្រទេសនីមួយៗក្នុងពិភពលោករស់ដោះស្រាយបញ្ហាបរិស្ថាន។ **ក្លិបទីក្រុងរៀន** ជាអង្គការក្រៅរដ្ឋាភិបាលមួយបានបោះពុម្ពផ្សាយរបាយការណ៍របស់ខ្លួនដែលមានចំណងជើងថា “កម្រិតនៃការលូតលាស់”។ របាយការណ៍នេះកំពុងព្រមានពីបញ្ហាបរិស្ថានពិភពលោក ដោយព្រមានថាមនុស្សនឹងប្រឈមសកម្មភាពជីវិតដោយសារការបំពុលបរិស្ថាន និងការលេចធ្លាយធនធាននិងថាមពលនៅពាក់កណ្តាលសតវត្សរ៍ទី 21។ ការព្រមានទាំងនេះកើតឡើងដោយសារអតុល្យភាពនៃធនធានធម្មជាតិ ចំនួនប្រជាជន និងអាហារ។ សង្គមមនុស្សបានបន្តទាមទារការលូតលាស់សេដ្ឋកិច្ចនៅអត្រានៃនិទស្សន្ត និងរក្សារបៀបរស់នៅដើម្បីផ្តល់អត្ថិភាពដល់សម្ភារ និងសេដ្ឋកិច្ច។ លើសពីនេះ ដើម្បីចៀសវាងគ្រោះមហន្តរាយបែបនេះ របាយការណ៍បានទទួលយកយើងគួរតែផ្អាកដើម្បីរក្សាតុល្យភាពការអភិវឌ្ឍចេញពីការលូតលាស់ និងរកភាពចាំបាច់ណាមួយដើម្បីផ្លាស់ប្តូរតម្លៃរបស់យើងក្នុងបំណងដើម្បីជៀសវាងហានិភ័យដែលនឹងមកដល់ដូចជា “សំណល់ហួសអាយុ” “ការផ្លាស់ប្តូររបៀបរស់នៅរបស់មនុស្ស” និង “ស្ថាបនាបទបញ្ជាអន្តរជាតិ” ជាដើម។

មេរៀន

**1**

**សំណល់រឹង**

**ចប់មេរៀននេះ សិស្សអាច**

- ស្គាល់និយមន័យសំណល់រឹង
- រៀបរាប់បានពីប្រភពនិងដល់ចំណែកនៃសំណល់រឹង
- រកវិធានការកាត់បន្ថយសំណល់រឹង។

កំណើនចំនួនប្រជាជន តម្រូវការជីវភាពរស់នៅ ឧស្សាហកម្ម និងកសិកម្ម ជាដើមហេតុផលនាំឱ្យមានការកាត់បន្ថយចំណងជ្រើសរើសស្លឹកសន្លាចនៅលើពិភពលោក។ សំណល់មានឥទ្ធិពលយ៉ាងធ្ងន់ធ្ងរលើសុខភាពសាធារណៈនិងបរិស្ថាន ប្រសិនបើយើងមិនប្រមូល និងទុកដាក់មិនបានត្រឹមត្រូវតាមបច្ចេកទេស។ ផលប៉ះពាល់ខ្លាំងជាងគេ គឺបណ្តាលមកពីការគ្រប់គ្រងសំណល់រឹងមិនបានត្រឹមត្រូវ។


**1. និយមន័យ**

សំណល់រឹង ជារូបធាតុទាំងឡាយក្នុងរូបភាពរឹងដែលគេចោលចោលក្នុងបំណងឈប់ប្រើបន្តទៀត។ ថ្មីៗនេះ បណ្តាប្រទេសនៅលើពិភពលោកចូលរួម សំណល់ជាច្រើនត្រូវបានប្រមូលដោយដៃ ហើយប្រើប្រាស់ក្នុងគោលបំណងថ្មីផ្សេងទៀត។ គេបានឱ្យឈ្មោះគោលការណ៍នេះថា **ការកែច្នៃជាថ្មី**។ សំណល់រឹងជាសារធាតុបំពុលប្រកបដោយគ្រោះថ្នាក់បំផុត ហើយវាមានច្រើនប្រភេទដូចនេះគ្រូស្រាវជ្រាវចែកសំណល់រឹងជាប្រភេទខុសៗគ្នា សម្រាប់ធ្វើផែនការគ្រប់គ្រងឱ្យមានគុណភាពនិងប្រសិទ្ធភាព។ នៅពេលដែលប្រទេសជាតិមានការអភិវឌ្ឍនិងបរិស្ថានសេដ្ឋកិច្ចកាន់តែប្រសើរឡើងតម្រូវការរបស់ប្រជាជនក្នុងការប្រើប្រាស់ប្រចាំថ្ងៃកាន់តែកើនឡើង បង្កឱ្យមានបញ្ហាក្នុងការគ្រប់គ្រងសំណល់រឹង។ នៅតំបន់ទីប្រជុំជនគ្រួសារដែលមានសមាជិកជាមធ្យមចំនួន 5 នាក់ គេសង្កេតឃើញថាម្នាក់ៗអាចបង្កើតសំរាមពី 0.38 ទៅ 0.56 kg ក្នុងមួយថ្ងៃ(នៅប្រទេសកម្ពុជា)។

300

2. ប្រភេទសំណល់រឹង

ផែនការវិទ្យា ជំពូកទី ៣ មេរៀនទី ១



រូបទី ១ : សមាសភាពសំណល់រឹង


តាមការពិនិត្យយើងបានដឹងពីប្រភេទនៃសំណល់រឹងដែលចេញមកពីលំនៅឋាន ទីផ្សារ អគារ ពាណិជ្ជកម្ម មជ្ឈមណ្ឌលផ្គត់ផ្គង់ស្បៀងអាហារ សណ្ឋាគារ ភោជនីយដ្ឋាន ហាងលក់ទំនិញ ឌុកលក់ ដូរតាមដងផ្លូវសាធារណៈ គំបន់ទេសចរណ៍និងកន្លែងផ្សេងៗទៀត។ សំណល់រឹងទាំងនេះ គេសង្កេត ឃើញមានច្រើនមុខដូចជា ក្រដាស ថង់ប្លាស្ទិច សំណល់អាហារ កម្ទេចកំណត់ សំពត់ បន្លែ ផ្លែឈើ កម្ទេចដែក សំបកកំប៉ុង សំបកដប...។


សំណល់រឹងមួយផ្នែកទៀតមានប្រភេទពីរោងចក្រដូចជា រោងចក្រផលិតអាគុយ ស៊ីម៉ង់ ថ្នាំ សម្រាប់សត្វល្អិត ថ្នាំពេទ្យ និងរោងចក្រផលិតក្រដាស...។ ម្យ៉ាងទៀតសំណល់រឹងក៏មានប្រភេទ ចេញពីមន្ទីរពេទ្យ (សំបកថ្នាំ ម្ជុលចាក់ថ្នាំ បង្ការប្រូស) និងសំណល់ដែលនៅតាមកន្លែងសត្វយានដង ដែរ។ មួយផ្នែកសំណល់រឹងដែលចេញពីប្រភេទទាំងនេះ មានគ្រោះថ្នាក់យ៉ាងធ្ងន់ធ្ងរចំពោះ រោងចក្រសំណល់ដែលមានប្រភេទចេញមកពីរោងចក្រឧស្សាហកម្មនេះដោយជាប់ជាមួយគ្នា បង្កការកំរាម កំហែងដល់ជីវិតមនុស្ស សត្វ និងរុក្ខជាតិដោយសារតែផែនដីយ៉ាងធ្ងន់ធ្ងរ។

3. ផលប៉ះពាល់នៃសំណល់រឹង

សំណល់រឹងមានឥទ្ធិពលធ្ងន់ធ្ងរទៅលើសុខភាពសារពាណៈនិងបរិស្ថាន ប្រសិនបើការស្តុក ប្រមូលនិងចោលមិនបានត្រឹមត្រូវ។ ផលប៉ះពាល់ខ្លាំងជាងគេគឺធ្វើឱ្យមានការបំពុលទឹក ដី ខ្យល់ និងចម្រងជំងឺរាតត្បាតផ្សេងៗដល់មនុស្ស សត្វ និងរុក្ខជាតិ។ ម្យ៉ាងទៀត កាលណាយើងចោល សំណល់ទាំងនោះគ្មានសណ្ឋាត់ធ្លាប់ វាធ្វើឱ្យទីក្រុង ទីប្រជុំជននានាបាត់បង់សោភ័ណភាព និងកង្វះ ដោយសារក្លិនស្អុយនៃកាកសំណល់ទាំងនោះ ហើយចំពោះផលសុខភាពមនុស្ស សត្វ រុក្ខជាតិ ព្រម ទាំងមានឥទ្ធិពលដល់សេដ្ឋកិច្ចជាតិ និងមោទនភាពជាតិ។

301

 **វត្ថុបំណង**  
សិស្សនឹងពន្យល់ពីប្រភេទ និងផលប៉ះពាល់នៃសំណល់រឹង។

 **សកម្មភាព**

គ្រូ៖ តើសំណល់រឹងមាននៅកន្លែងណាខ្លះ?  
សិស្ស៖ សិស្សប្រាប់ពីទីកន្លែងផ្សេងៗរបស់សំណល់រឹង។

គ្រូ៖ តើសំណល់រឹងមានផលប៉ះពាល់ដៃប្រទេ?  
សិស្ស៖ សិស្សឆ្លើយចម្លើយផ្សេងៗ។

**សំណួរគន្លឹះ**៖ “តើសំណល់រឹងមានប្រភេទមកពីទីណាខ្លះ?”  
“តើសំណល់រឹងផ្តល់ផលប៉ះពាល់អ្វីខ្លះ?”

**សម្ភារៈ** ៖ ក្រដាស ប៊ិច

**ដំណើរការ** ៖

- គ្រូនាំសិស្សគិតនិងប្រាប់ពីប្រភេទសំណល់រឹងដែលពួកគេ បានចុះបញ្ជីកាលពីម៉ោងសិក្សាមុន។
- គ្រូនាំសិស្សគិតនិងប្រាប់ពីផលប៉ះពាល់នៃសំណល់រឹង ដែលបានចុះបញ្ជីនិងមានប្រភេទច្បាស់លាស់ និងប្រាប់មិត្ត ក្នុងថ្នាក់រៀន។
- គ្រូសង្ខេបរបាយការណ៍របស់សិស្សដាក់លើក្តាររៀន។



**ចំណេះដឹងបន្ថែម ៖ បរិស្ថានមនុស្ស**

សន្និសីទអង្គការសហប្រជាជាតិអំពី “បរិស្ថានមនុស្ស” បានប្រារព្ធធ្វើឡើងនៅទីក្រុងស្តុកខូម នៅចន្លោះថ្ងៃទី5-16 ខែមិថុនា ឆ្នាំ1972។ លោក អូអ៊ីស៊ី ជានាយកទូទៅនៃភ្នាក់ងារបរិស្ថានជប៉ុន បានចូលរួមជាតំណាងប្រទេសជប៉ុនដើម្បីធ្វើសន្ទនាថាមួយ។ ក្នុងសន្ទនាថាមួយរបស់គាត់ ជាដំបូងគាត់បានសង្កត់បញ្ជាក់ថាជនជាតិ ជប៉ុនស្រឡាញ់ធម្មជាតិ និងរស់នៅជាមួយធម្មជាតិ។ ប៉ុន្តែបន្ទាប់ ពីសង្គ្រាម ការលូតលាស់បានក្លាយជាស្នូលនៃឧស្សាហកម្មគីមី ធុនធ្ងន់ ចាប់ផ្តើមធ្វើឱ្យខ្យល់និងទឹកទន្លេកខ្វក់ និងបំផ្លាញធម្មជាតិ។ លើសពីនេះ វាបានបន្សល់ជនរងគ្រោះកំសត់ជាច្រើន ដោយសារ ជម្ងឺមីណាម៉ាតា ជម្ងឺអ៊ីតែអ៊ីតែ និងជម្ងឺរលាកទងស្លេតរ៉ាំរ៉ៃ នៅក្នុង ទីក្រុងឧស្សាហកម្មទាំងនោះ។ បន្ទាប់មក សំណួរសួរថា “តើការ អភិវឌ្ឍសេដ្ឋកិច្ចសម្រាប់អ្នកណា?” បានទទួលស្គាល់ដោយប្រជាជន ហើយបច្ចុប្បន្ននេះ ប្រទេសជប៉ុនព្យាយាមស្គាល់សង្គមគ្មានការ បំពុល។ បន្ទាប់មក គាត់បានសង្កត់បញ្ជាក់បន្ថែមទៀតពីសារៈ សំខាន់នៃការការពារបរិស្ថានជាមួយនឹងការបង្ហាញបទពិសោធន៍ របស់ជនខ្ចីជាតិជប៉ុន។



**ចំណេះដឹងបន្ថែម ៖**

បញ្ហាប្រឈមខ្លះកើតឡើង និងស្ថិតនៅក្នុងការ ប្រតិបត្តិកំណែច្នៃជាថ្មី ដូចជា បន្ទុកការប្រមូលថាមពល សម្រាប់កំណែច្នៃជាថ្មី និងកំហាប់នៃបន្ទុកបន្ទាប់ពីកំណែច្នៃ ជាថ្មីបីបួនដង។ ដូច្នេះវាចាំបាច់ណាស់ដែលអ្នកប្រើប្រាស់ គ្រវាត់ចោលសំណល់បន្ទាប់ពីការចាត់ប្រភេទត្រឹមត្រូវ ដូចជា ក្រដាស កំប៉ុង ដប ... ជាដើម។



ផែនការវិទ្យា ជំពូកទី ៣ រៀនទី ១

- កុំបោះចោលនិងដុតសំណល់រឹងតាមដងផ្លូវសាធារណៈ
- កុំប្រើប្រាស់ផលិតផលដែលផលិតសំរាប់ប្រើប្រាស់ ជាពិសេសផលិតផលដែលប្រើចង្កាស្ទិច
- ប្រើប្រាស់ឡើងវិញ គឺប្រើប្រាស់របស់ក្នុងគោលដៅផ្សេងពីគោលដៅដើម
- ធ្វើជាដឹកនាំសំណល់រឹងសរីរាង្គដូចជា សំណល់បន្លែ ផ្លែឈើ សំបកដូង ... ។

**មេរៀនសង្ខេប**

- សំណល់រឹងដែលគេបោះចោលនៅកន្លែងចាក់សំរាម ដោយសារតែគេឈប់ប្រើប្រាស់វា ។
- ប្រភពនៃសំណល់រឹងចេញមកពីលំនៅឋាន ទីផ្សារ អគារពាណិជ្ជកម្ម មជ្ឈមណ្ឌលផ្គត់ផ្គង់ ស្បៀងអាហារ សណ្ឋាគារ ភោជនីយដ្ឋាន ហាងលក់ទំនិញ និងអ្នកលក់ដូរតាមដងផ្លូវសាធារណៈ តំបន់ទេសចរណ៍ ... ។
- ផលប៉ះពាល់ខ្លាំងជាងគេដែលបង្កជាបញ្ហានោះគឺ ការបំពុលទឹក ដី ខ្យល់ និងចម្លងជំងឺរាតត្បាតផ្សេងៗដល់មនុស្ស សត្វ និងរុក្ខជាតិ ។
- ដើម្បីកាត់បន្ថយសំណល់រឹង យើងទាំងអស់គ្នាមិនត្រូវបោះចោលនិងដុតសំណល់រឹងតាមដងផ្លូវសាធារណៈ មិនត្រូវប្រើប្រាស់ផលិតផលដែលប្រើចង្កាស្ទិច កែច្នៃឡើងវិញ ពិសេសធ្វើដឹកជញ្ជូនសម្រាប់យកទៅប្រើប្រាស់ក្នុងវិស័យកសិកម្ម ។

**សំណួរ**

1. ចូរឱ្យនិយមន័យសំណល់រឹង ?
2. តើសំណល់រឹងមានប្រភពមកពីកន្លែងណាខ្លះ ?
3. ចូររៀបរាប់ពីផលប៉ះពាល់នៃសំណល់រឹង ។
4. តើយើងមានវិធីអ្វីខ្លះដើម្បីកាត់បន្ថយសំណល់រឹង ?

303



**ចម្លើយសំណួរ**

1. សំណល់រឹងគឺជារូបធាតុទាំឡាយក្នុងរូបភាពរឹងដែលគេបោះចោលក្នុងបំណងឈប់ប្រើបន្តទៀត។
2. ប្រភពសំណល់រឹងចេញមកពី ទីផ្សារ លំនៅឋាន អគារពាណិជ្ជកម្ម មជ្ឈមណ្ឌលផ្គត់ផ្គង់ស្បៀងអាហារ សណ្ឋាគារ ភោជនីយដ្ឋាន ហាងលក់ទំនិញ អ្នកលក់ដូរតាមដងផ្លូវ សាធារណៈ តំបន់ទេសចរណ៍ និង កន្លែងផ្សេងៗទៀត។
3. ផលប៉ះពាល់នៃសំណល់រឹងគឺ ការបំពុលទឹក ដី ខ្យល់ និងចម្លងជំងឺរាតត្បាតផ្សេងៗដល់មនុស្ស សត្វ និងរុក្ខជាតិ។
4. យើងទាំងអស់គ្នាមិនត្រូវបោះចោល និងដុតសំណល់រឹងតាមដងផ្លូវសាធារណៈ កុំប្រើប្រាស់ផលិតផលច្នៃចង្កាស្ទិច កែច្នៃឡើងវិញ និងជាពិសេសធ្វើជាដឹកជញ្ជូនសម្រាប់វាលកសិកម្ម។

**ពិសោធន៍អំពី VVOB ៖ ការគ្រប់គ្រងសំណល់រឹង**

សកម្មភាពប្រឈមនានាអំពីការកែច្នៃឡើងវិញនៅក្នុងគម្រោងសិក្សាភូមិភាគខេត្តកណ្តាលរបស់ VVOB។ មានកន្លែងធ្វើដឹកជញ្ជូន សង់ឡើងនៅជ្រុងមួយនៃសួនបណ្តុះកូនឈើ។

ប្រសិនបើមើលឱ្យកាន់តែជិត យើងឃើញសំរាមបានដាក់ចូលទៅក្នុងពាងធំមួយ។ រូបធាតុសរីរាង្គនៅក្នុងសំណល់ដើមត្រូវបានបំបែកដោយទាំងស្រុងដោយមីក្រូសារពាង្គកាយត្រូវបានប្រើប្រាស់ដូចដី។ លើសពីនេះក៏មានសកម្មភាពប្រមូលចំបើងឱ្យសត្វពាហនៈស៊ីផងដែរ។

↓ សំណល់ចំបើងសម្រាប់សត្វ



↑ សួនបណ្តុះកូនឈើ។

↓ ពាងកំប៉ុសកម្ម



# ចំណេះដឹងបន្ថែម

## បញ្ហាទាក់ទងនឹងសំណល់រឹងអាចត្រូវបានដោះស្រាយដោយការប្រើប្រាស់យុទ្ធសាស្ត្រផ្សេងៗ

- 1) **ការអប់រំ – យល់ពីបញ្ហា និងដាក់ចេញនូវដំណោះស្រាយពេញលេញដែលអាចទៅរួច ៖** សិស្សមានសំណួរទាក់ទងនឹងបាតុភូតធម្មជាតិ គិតអំពីវិធីពិសោធមួយដើម្បីដោះស្រាយបញ្ហា ធ្វើពិសោធន៍ ធ្វើការសង្កេត សង្ខេបលទ្ធផលរបស់ពួកគេ និងទាញការសន្និដ្ឋាន។ នៅពេលគ្រូខ្លះបានធ្លាប់នឹងវិធីបង្រៀនមេរៀនអំពីបញ្ហាបរិស្ថានទៅហើយ ប៉ុន្តែគ្រូខ្លះទៀតនៅតែមានការពិបាកក្នុងការវាយតម្លៃសិស្ស។ នោះហើយគឺជាហេតុផលដែលមិនមានចម្លើយត្រឹមត្រូវសម្រាប់បញ្ហាបរិស្ថាន ដែលមិនត្រឹមតែជាធាតុវិទ្យាសាស្ត្រប៉ុណ្ណោះទេ ប៉ុន្តែក៏ជានយោបាយ និងសេដ្ឋកិច្ចផងដែរ។ ការវិនិច្ឆ័យថាដូចម្តេចនោះគឺពិបាកណាស់។ ម៉្យាងវិញទៀត បញ្ហាទាំងនោះគឺជាបញ្ហាសំខាន់របស់ជាតិ។ វាចាំបាច់ណាស់ដែលអ្នកត្រូវអប់រំដល់កុមារ និងសិស្ស។ ប៉ុន្តែ មានករណីជាប្រវត្តិសាស្ត្រជាច្រើនដែលធ្វើឱ្យប្រជាជនកាន់តែមិនសប្បាយចិត្ត នៅពេលដែលគេទុកដាក់បញ្ហានេះឱ្យអ្នកនយោបាយ។ ប្រជាជនម្នាក់ៗត្រូវតែមានគំនិតផ្ទាល់ខ្លួន និងចូលរួមនៅក្នុងនយោបាយតាមរយៈវិធីនានា ដូចជា ការបោះឆ្នោតជាដើម និងនឹងត្រូវការការទទួលខុសត្រូវសម្រាប់ការវិនិច្ឆ័យនយោបាយមួយ។ សិស្សត្រូវតែដឹងពីខ្លឹមសារនៃបញ្ហាខ្លះ និងដឹងពីចំណុចល្អ និងចំណុចអាក្រក់នៃវិធីដែលបានស្នើឡើង។ គ្រូមិនចាំបាច់វិនិច្ឆ័យចំណេះដឹង និងការយល់របស់សិស្សទេ ប៉ុន្តែត្រូវតែវាយតម្លៃទៅលើដំណើរការនៃការពិភាក្សានៅក្នុងមេរៀននេះវិញ។
- 2) **បច្ចេកវិទ្យាទំនើប -- រថយន្តប្រើឥន្ធនៈល្អគ្រប់គ្រាន់នៅក្នុងប្រទេសជប៉ុន និងយានយន្តដើរដោយថាមពលអ៊ីដ្រូសែន ៖** រថយន្តប្រើឥន្ធនៈគ្រប់គ្រាន់ ដូចជា រថយន្តប្រព័ន្ធកូនកាត់ ឬរថយន្តប្រើពន្លឺ ត្រូវបានប្រើប្រាស់ប្រព័ន្ធចំណេញពេលវេលា ការបញ្ជូនបម្រែបម្រួលឥតឈប់ឈរដោយស្វ័យប្រវត្តិ (Continuously Variable Transmission / CVT)។ រថយន្តប្រភេទនេះគឺល្អសម្រាប់បរិស្ថាន និងលក់ដាច់ប៉ុន្តែតម្លៃសម្រាប់ការអភិវឌ្ឍផលិតផលនេះមានតម្លៃខ្ពស់។ បើអ្នកចុះឈ្មោះទិញរថយន្តថ្មីនេះ អ្នកត្រូវបង់ពន្ធយានយន្តសម្រាប់ឆ្នាំបន្ទាប់ក្នុងតម្លៃថោកជាងមុនដោយសារច្បាប់ពិសេសមួយ។ យោងតាមគោលនយោបាយនេះ ការបញ្ចេញសមត្ថភាពកាន់តែខ្ពស់ ការប្រើប្រាស់ឥន្ធនៈកាន់តែតិច ធ្វើឱ្យការបង់ពន្ធនឹងកាត់បន្ថយបានកាន់តែច្រើន។ អតិថិជនដែលបានទិញរថយន្តថ្មីនេះបានពេញចិត្តនឹងច្បាប់នេះយ៉ាងខ្លាំង ពីព្រោះការប្រើប្រាស់វាសម្រាប់ 1 ឆ្នាំ នឹងចំណេញប្រាក់បដិភាគ 100 000 យ៉េនឬប្រហែល 980 ដុល្លារអាមេរិច (សម្រាប់អ្នកទិញរថយន្តប្រភេទកូនកាត់) ឬ 70 000 យ៉េន ឬប្រហែល 680 ដុល្លារអាមេរិច (សម្រាប់អ្នកទិញរថយន្តប្រើពន្លឺ)។ ដោយវិធីច្បាប់បែបនេះ ប្រព័ន្ធនៅក្នុងរថយន្តប្រើឥន្ធនៈល្អគ្រប់គ្រាន់ត្រូវបានលក់ ស្ថាបនា និងអភិវឌ្ឍបន្ថែមទៀត។
- 3) **ការប្តូរបៀបរស់នៅ – កែច្នៃឡើងវិញ ទិញតែវត្ថុធាតុដើមដែលត្រូវការចាំបាច់ ប្រើប្រាស់ឡើងវិញ ប្រើប្រាស់កំប៉ុងបាញ់សក់ប្រភេទសប់ និងដិះឡានរួមគ្នា ៖** បញ្ហាបរិស្ថានមិនផ្អែកតែលើនយោបាយនៃប្រទេសតែប៉ុណ្ណោះទេ ប៉ុន្តែបញ្ហាបរិស្ថានក៏ផ្អែកទៅលើញាណនៃការវាយតម្លៃនៃបុគ្គលម្នាក់ៗ និងក្រុមហ៊ុនមួយផងដែរ។ ប្រជាជនមិនអាចកាន់តែសប្បាយចិត្តនៅពេលដែលប្រទេសរបស់ខ្លួនកាន់តែសំបូររបេបនោះទេ។ បច្ចុប្បន្ននេះការបំពុលអាកាសធាតុផ្ទុះឡើងនៅក្នុងប្រទេសមិន ទន្ទឹមនឹងការកំពុងសម្រេចបាននូវការអភិវឌ្ឍសេដ្ឋកិច្ច និងមានប្រជាជនជាច្រើនបានបញ្ហាជាមួយជម្ងឺផ្សេងៗ។ យើងមិនទាមទារការអភិវឌ្ឍប្រទេសឱ្យឆ្ងាយទៅជាប្រទេសទីមួយទេ ប៉ុន្តែយើងគប្បីគិតពីការអភិវឌ្ឍប្រទេសប្រកបដោយនិរន្តរភាពវិញ ដែលនេះនឹងនាំទៅរកការសប្បាយចិត្ត និងសុភមង្គលរបស់ប្រជាជន។
- 4) **ច្បាប់និងកិច្ចព្រមព្រៀង – កិច្ចព្រមព្រៀងទាក់ទងនឹង CO<sub>2</sub> ការបន្ថែមសម្រាប់កែច្នៃឡើងវិញ ៖** បញ្ហាបរិស្ថាននានា ដូចជា កំណើនកម្ដៅពិភពលោក ជាដើម មិនអាចត្រូវបានដោះស្រាយទេ ដរាបណាបណ្តាប្រទេសក្នុងពិភពលោកមិននាំគ្នាដោះស្រាយ។ ពិធីសារក្សត្រទៅកាន់គម្រោងអភិរក្សសហប្រជាជាតិអំពីការប្រែប្រួលអាកាសធាតុ (United Nations Framework Convention on Climate Change / UNFCCC) គឺជាសន្ធិសញ្ញាអន្តរជាតិមួយដែលបង្កើតបណ្តុំកាតព្វកិច្ចនានាទៅលើបណ្តាប្រទេសឧស្សាហកម្មដើម្បីកាត់បន្ថយការបញ្ចេញឧស្ម័នផ្ទះកញ្ចក់។ គម្រោង UNFCCC គឺជាសន្ធិសញ្ញាមួយដែលមានគោលដៅការពារភាពគ្រោះថ្នាក់ដែលបង្កឡើងដោយមនុស្ស (សកម្មភាពមនុស្ស) និងការរំខានដល់ប្រព័ន្ធអាកាសធាតុ។



# ចម្លើយ ការដាក់ពិន្ទុ និងការវិនិច្ឆ័យ

## ចម្លើយ និងការដាក់ពិន្ទុ (ពិន្ទុសរុប 50 ពិន្ទុ)

1. កែច្នៃឡើងវិញ

<b>ការដាក់ពិន្ទុ:</b>	5 ពិន្ទុ = ជ្រើសរើសចម្លើយ គ.
	0 ពិន្ទុ = ជ្រើសរើសចម្លើយ ក. ខ. ឃ. ង.

2. ក. ត្រឹមត្រូវ

<b>ការដាក់ពិន្ទុ:</b>	5 ពិន្ទុ = ជ្រើសរើសចម្លើយ ក.
	0 ពិន្ទុ = ជ្រើសរើសចម្លើយ គ. ខ.

3. ក. សំណល់រឹង

<b>ការដាក់ពិន្ទុ:</b>	5 ពិន្ទុ = ជ្រើសរើសចម្លើយ ក.
	0 ពិន្ទុ = ជ្រើសរើសចម្លើយ ខ. គ.

4. ខ. ទីក្រុងស្តុកខ្ទម

<b>ការដាក់ពិន្ទុ:</b>	5 ពិន្ទុ = ជ្រើសរើសចម្លើយ ខ.
	0 ពិន្ទុ = ជ្រើសរើសចម្លើយ ក. គ. ឃ.

5. ខ. ថ្ងៃទី 1 ខែឧសភា ឆ្នាំ2010

<b>ការដាក់ពិន្ទុ:</b>	5 ពិន្ទុ = ជ្រើសរើសចម្លើយ ខ.
	0 ពិន្ទុ = ជ្រើសរើសចម្លើយ ក. គ. ឃ.

6. គ. កំប៉ុសកម្ម

<b>ការដាក់ពិន្ទុ:</b>	5 ពិន្ទុ = ជ្រើសរើសចម្លើយ គ.
	0 ពិន្ទុ = ជ្រើសរើសចម្លើយ ក. ខ. ឃ.

7. ក. កម្រិតនៃការលូតលាស់

<b>ការដាក់ពិន្ទុ:</b>	5 ពិន្ទុ = ជ្រើសរើសចម្លើយ ក.
	0 ពិន្ទុ = ជ្រើសរើសចម្លើយ គ. ខ. ឃ.

8. ខ. 0.38kg រហូតដល់ 0.56 kg

<b>ការដាក់ពិន្ទុ:</b>	5 ពិន្ទុ = ជ្រើសរើសចម្លើយ គ.
	0 ពិន្ទុ = ជ្រើសរើសចម្លើយ ក. ខ. ឃ.

9. ក. ត្រឹមត្រូវ

<b>ការដាក់ពិន្ទុ:</b>	5 ពិន្ទុ = ជ្រើសរើសចម្លើយ ក.
	0 ពិន្ទុ = ជ្រើសរើសចម្លើយ ខ. គ.

10. ក. ត្រឹមត្រូវ

<b>ការដាក់ពិន្ទុ:</b>	5 ពិន្ទុ = ជ្រើសរើសចម្លើយ ក.
	0 ពិន្ទុ = ជ្រើសរើសចម្លើយ ខ. គ.

**ការវិនិច្ឆ័យ**

ពិន្ទុ	ការវិនិច្ឆ័យ និងសំណូមពរសម្រាប់ការបង្រៀន
0 – 20	សិស្សដែលទទួលបានពិន្ទុនៅចន្លោះនេះ មានន័យថាពួកគេមិនទាន់មានចំណេះដឹងមូលដ្ឋាន និងជំនាញវិភាគខ្លឹមសារវិទ្យាសាស្ត្រស្តីពី “សំណល់រឹង” ទេ។ ដូច្នេះ សិស្សដែលទទួលបានពិន្ទុនៅចន្លោះនេះ ត្រូវតែធ្វើការសិក្សាពីមូលដ្ឋាននៃ “សំណល់រឹង” ឡើងវិញជាមួយនឹងការលើកឧទាហរណ៍ងាយៗទាក់ទងនឹងចំណេះដឹងមូលដ្ឋានមានស្រាប់របស់ពួកគេ។
21 – 30	សិស្សដែលទទួលបានពិន្ទុនៅចន្លោះនេះ មានន័យថាពួកគេអាចពន្យល់បានពីចំណេះដឹងមូលដ្ឋាន និងជំនាញវិភាគងាយៗលើខ្លឹមសារវិទ្យាសាស្ត្រស្តីពី “សំណល់រឹង” ប៉ុន្តែពួកគេនៅមានការលំបាកចំពោះខ្លឹមសារ និងការវិភាគស៊ីជម្រៅនៅឡើយ។ ដូច្នេះ គ្រូគួរផ្តល់ការពន្យល់ និងសំណួរឬលំហាត់បន្ថែមដល់ពួកគេ។
31 – 40	សិស្សដែលទទួលបានពិន្ទុនៅចន្លោះនេះ មានន័យថាពួកគេអាចពន្យល់បានពីខ្លឹមសារ និងជំនាញវិភាគស៊ីជម្រៅលើខ្លឹមវិទ្យាសាស្ត្រស្តីពី “សំណល់រឹង” ប៉ុន្តែពួកគេនៅមិនទាន់អាចឈានដល់កម្រិតដែលពួកគេអាចប្រើប្រាស់ចំណេះដឹងរបស់ពួកគេដើម្បីដោះស្រាយបញ្ហាវិទ្យាសាស្ត្រនៅឡើយ។ ដូច្នេះ គ្រូគួរជួយពួកគេបន្ថែមទៀត ដូចជាការផ្តល់សំណួរ ឬលំហាត់បែបវិភាគដល់ពួកគេជាដើម។
41 – 50	សិស្សដែលទទួលបានពិន្ទុនៅចន្លោះនេះ មានន័យថាពួកគេអាចពន្យល់បានពីខ្លឹមសារ និងជំនាញវិភាគស៊ីជម្រៅគ្រប់គ្រាន់លើខ្លឹមសារវិទ្យាសាស្ត្រស្តីពី “សំណល់រឹង” ។ ទោះជាយ៉ាងណាក៏ដោយ គ្រូគួរផ្តល់សំណួរឬលំហាត់ដែលមានកម្រិតខ្ពស់ដល់ពួកគេបន្ថែម ដើម្បីឱ្យពួកគេបង្កើនចំណេះដឹង និងជំនាញរបស់ពួកគេកាន់តែស៊ីជម្រៅ។

## មេរៀនទី 2

## ការបំពុលអាកាស

### វត្ថុបំណង

បន្ទាប់ពីសិក្សាមេរៀននេះចប់ សិស្សនឹង ៖

- ❑ រៀបរាប់បានពីប្រភពនៃការបំពុលអាកាស
- ❑ រៀបរាប់ផលប៉ះពាល់នៃការបំពុលអាកាសទៅលើសុខភាពមនុស្ស
- ❑ កំណត់បានពីវិធីកាត់បន្ថយការបំពុលអាកាស។

### ផែនការមេរៀន

មេរៀននេះត្រូវបានបែងចែកសម្រាប់បង្រៀន និងរៀនរយៈពេល 3 ម៉ោង ដូចបង្ហាញក្នុងតារាង 1 ខាងក្រោម។

តារាង 1 បំណែងចែកម៉ោងបង្រៀន

ចំនួនម៉ោងសិក្សា	ចំណងជើងរងមេរៀន	ទំព័រក្នុងសៀវភៅសិក្សាគោល
1ម៉ោង	1. ការបំពុលអាកាស	304
1ម៉ោង	2. ប្រភពនៃការបំពុលអាកាស 3. ផលប៉ះពាល់នៃការបំពុលអាកាសទៅលើសុខភាពមនុស្ស	305 – 306
1ម៉ោង	4. វិធីកាត់បន្ថយការបំពុលអាកាស មេរៀនសង្ខេប សំណួរមេរៀន	306 – 307

### ការណែនាំការមេរៀន

តារាង 2 បង្ហាញពីផែនការបង្រៀន និងលទ្ធផលរង្វាយតម្លៃក្នុងម៉ោងសិក្សានីមួយៗ។ គ្រូគប្បីដឹកនាំសកម្មភាពទាំងអស់ និងវាយតម្លៃសិស្សដោយផ្អែកលើលក្ខណៈវិនិច្ឆ័យនៅក្នុងតារាង 2។ ដូចសកម្មភាពនៅក្នុងតារាង 2 សិស្សនឹងធ្វើសកម្មភាពផ្សេងៗអំពី ការបំពុលអាកាស ប្រភពនៃការបំពុលអាកាស ផលប៉ះពាល់នៃការបំពុលអាកាសទៅលើសុខភាពមនុស្ស និងវិធីកាត់បន្ថយការបំពុលអាកាស តាមរយៈ អ៊ុនធឺណិត ឬឯកសារ ដែលសកម្មភាពទាំងនេះនឹងជួយសិស្សអភិវឌ្ឍការយល់របស់ពួកគេអំពី វិធានការនៃការបំពុលអាកាស។ ទោះជាយ៉ាងណា គ្រូគប្បីប្រើទេពកោសល្យ ភាពទន់ភ្លន់ និងភាពបត់បែនរបស់ខ្លួន ដើម្បីច្នៃប្រឌិតទៅតាមកម្រិតយល់ដឹងរបស់សិស្ស និងស្ថានភាពជាក់ស្តែងរបស់ថ្នាក់រៀន ដើម្បីសម្របសម្រួលទៅតាមសកម្មភាពបង្រៀននិងរៀនដូចមាននៅក្នុងការណែនាំការបង្រៀននេះ។

តារាង 2 ផែនការបង្រៀន និង លទ្ធផលរង្វាយតម្លៃ

ម៉ោងសិក្សា	វត្ថុបំណង	សកម្មភាព	លទ្ធផល រង្វាយតម្លៃ
ទី1	កំណត់និយមន័យការបំពុលអាកាស និង ប្រាប់ឈ្មោះសារធាតុបំពុលអាកាស។	សិស្សឱ្យនិយមន័យការបំពុលអាកាស និង ប្រាប់ឈ្មោះសារធាតុបំពុលអាកាស។	សិស្សអាចកំណត់សារធាតុបំពុលអាកាស។
ទី2	ប្រាប់ប្រភពនៃការបំពុលអាកាស និង ពន្យល់ផលប៉ះពាល់នៃការបំពុលអាកាសមកលើសុខភាពមនុស្ស។	សិស្សប្រាប់ប្រភពនៃការបំពុលអាកាស និងផលប៉ះពាល់នៃការបំពុលអាកាស។	សិស្សអាចកំណត់ប្រភពនៃការបំពុលអាកាស និងពន្យល់ផលប៉ះពាល់ការបំពុលអាកាស។
ទី3	កំណត់វិធានការនៃការកាត់បន្ថយការបំពុលអាកាស។	សិស្សអានឯកសារអំពីវិធានការការបំពុលអាកាសរបស់ប្រទេសផ្សេងៗ ហើយគិតពីវិធានការផ្សេងៗនៅក្នុងប្រទេសកម្ពុជា។	សិស្សអាចពន្យល់វិធានការនៃការបំពុលអាកាស។

**ចំណុចនៃការបង្រៀន**

ចំណុចនៃការបង្រៀនមេរៀននេះគឺដើម្បីឱ្យសិស្ស ៖ (1)ដឹងពីស្ថានភាពពិតដែលប្រទេសអភិវឌ្ឍបានមានពិសោធ និងបានដោះស្រាយបញ្ហាការបំពុលអាកាស និង(2)គិតពីអ្វីដែលគួរតែធ្វើនៅក្នុងប្រទេសកម្ពុជាបច្ចុប្បន្ននេះ។

**ចំណេះដឹងមូលដ្ឋានសម្រាប់មេរៀននេះ**

មុនពេលចាប់ផ្តើមបង្រៀនខ្លឹមសារមេរៀនថ្មីក្នុងម៉ោងសិក្សានីមួយៗ គ្រូគប្បីសួរសិស្សដើម្បីពិនិត្យចំណេះដឹងមូលដ្ឋានរបស់ពួកគេដូចជា ធ្លាប់បានឮពីភ្លៀងអាស៊ីត និងដឹងពីរូបមន្តគីមី និងឈ្មោះសារធាតុគីមី ដូចជា កាបូនឌីអុកស៊ីត (CO<sub>2</sub>) ជាដើម។ បើមិនដូច្នោះទេ គ្រូមិនអាចសម្រេចវត្ថុបំណងមេរៀនបានឡើយ។



### វត្តបំណង

សិស្សនឹងកំណត់និយមន័យការបំពុលអាកាស និងប្រាប់  
ឈ្មោះសារធាតុបំពុលអាកាស។



### សកម្មភាព

គ្រូ៖ តើប្អូនៗធ្លាប់លឺអំពីការបំពុលអាកាសដែរឬទេ?

សិស្ស៖ សិស្សឆ្លើយចម្លើយផ្សេងៗ។

គ្រូ៖ តើប្អូនៗធ្លាប់ដឹងអំពីការបំពុលអាកាសដែរឬទេ?

សិស្ស៖ សិស្សឆ្លើយចម្លើយផ្សេងៗ។

**សំណួរគន្លឹះ:** “យើងនាំគ្នាឱ្យនិយមន័យការបំពុលអាកាស!”

“តើមានអ្វីខ្លះជាសារធាតុបំពុលអាកាស?”

#### ដំណើរការទី ១ ៖

1. គ្រូនាំសិស្សពិនិត្យនិងធ្វើបញ្ជីពីអ្វីដែលពួកគេបានស្រូបយកពីក្នុងខ្យល់នៅលំនៅឋានរបស់ពួកគេ និងពីតាមផ្លូវពីលំនៅឋានរបស់ពួកគេមកសាលារៀន។
2. គ្រូនាំសិស្សដើម្បីបង្កើតក្រុម សង្ខេបបញ្ជីរបស់ពួកគេ និងប្រាប់ទៅមិត្តក្នុងថ្នាក់រៀន។
3. គ្រូសង្ខេបរបាយការណ៍របស់សិស្សដាក់លើក្តារខៀន។
4. គ្រូនាំសិស្សកំណត់និយមន័យ “ការបំពុលអាកាស”។

#### ដំណើរការទី ២ ៖

1. គ្រូនាំសិស្សពិនិត្យនិងធ្វើបញ្ជីពីសារធាតុបំពុលអាកាសដែលពួកគេតែងស្រូបចូលញឹកញាប់ជាងគេ។
2. គ្រូនាំសិស្សបង្កើតក្រុម សង្ខេបបញ្ជីរបស់ពួកគេ និងប្រាប់ទៅមិត្តក្នុងថ្នាក់រៀន។
3. គ្រូសង្ខេបរបាយការណ៍របស់សិស្សដាក់លើក្តារខៀន។
4. គ្រូនាំសិស្សប្រាប់ និងកំណត់សារធាតុបំពុលអាកាសជាឈ្មោះគីមី និងរូបមន្តគីមីរបស់ពួកគេ។



#### ចំណេះដឹងបន្ថែម ៖ ភ្លៀងអាស៊ីត

កម្រិត pH នៃទឹកកំបោរបានផលិតកាបូនឌីអុកស៊ីត (350ppm) នៅក្នុងបរិយាកាសក្នុងទម្រង់ជាទឹកមិនសុទ្ធផ្តិត

5.6។ ដូច្នេះ ការគិតថាប្រសិនបើកម្រិត pH នៃកំណកអាកាសតិចជាងនេះ នោះសារធាតុអាស៊ីតដែលបំប្លែងចេញពីសកម្មភាពមួយចំនួនរបស់មនុស្សត្រូវបានរលាយនៅក្នុងវា ដែលកម្រិត pH នៃភ្លៀងអាស៊ីតគឺទាបជាង 5.6 ត្រូវបានកំណត់ថាជាភ្លៀងអាស៊ីត។ ប៉ុន្តែកម្រិត pH នៃភ្លៀងអាស៊ីតពេលថ្មីៗនេះគឺទាបជាង 5.0 ដែលត្រូវបានកំណត់ថាជាភ្លៀងអាស៊ីត។ ដូច្នេះការគិតថាបរិមាណនៃសារធាតុភ្លៀងអាស៊ីតអាស្រ័យនឹងរូបធាតុសរីរាង្គអុកស៊ីតដែលបំប្លែងចេញពីធម្មជាតិ ដូចជា ព្រៃឈើ ជាដើម ជាងកាបូនឌីអុកស៊ីតដែលចូលរួមចំណែកក្នុងកំណកអាកាសអាស៊ីត។ កំណកអាកាសអាស៊ីតអាស្រ័យនឹងសកម្មភាពមនុស្សដែលបានដៅឡើងដោយគីមីវិទូជនជាតិអង់គ្លេស ឈ្មោះ ស្ទីត នៅឆ្នាំ1852 ជាលើកទីមួយ។ មូលហេតុគឺការបំពុលអាកាសអាស្រ័យនឹងកម្រៅទ្រទ្រង់បដិវត្តន៍ឧស្សហកម្ម និងផ្សែងចេញពីរោងចក្រដំណើរការម៉ាស៊ីនដោយផ្សេងៗ។ នៅពេលផលប៉ះពាល់ និងការបំផ្លាញមកដល់ប្រព័ន្ធអេកូឡូស៊ីបានបង្កដោយភ្លៀងអាស៊ីតអំឡុងទសវត្សរ៍ឆ្នាំ1950 ធ្វើឱ្យបឹងនៅតំបន់ស្តង់ឌីណារទាំងបួនប្រទេសក្លាយជាបឹងអាស៊ីតបានចាប់ផ្តើមកើតឡើងជាក់ស្តែង។ លើសពីនេះ នៅឆ្នាំ1967 តំបន់អូរ៉ែននៃប្រទេសស៊ុយអែតមានការសិក្សាជាប្រព័ន្ធជាមួយបង្ហាញថាបាតុភូតភ្លៀងអាស៊ីតមានលក្ខណៈសាយភាយ។ ការប្រែប្រួលស្រដៀងគ្នានេះបានរកឃើញនៅតាមបណ្តោយព្រំដែនសហរដ្ឋអាមេរិច និងកាណាដា នៅទសវត្សរ៍ឆ្នាំ1950។

### មេរៀន

## 2

### ការបំពុលអាកាស

#### ចប់មេរៀននេះ សិស្សអាច

- រៀបរាប់បានពីប្រភពនៃការបំពុលអាកាស
- ផលប៉ះពាល់នៃការបំពុលអាកាសទៅលើសុខភាពមនុស្ស
- កំណត់បានពីវិធីកាត់បន្ថយការបំពុលអាកាស។

អាកាស គឺជាទំហំមួយពីទ្វីវិញដែលដីហើយមានរាយឧស្ម័នដូចជា ឧស្ម័នកាបូនិច អាសូតអុកស៊ីសែន ចំហាយទឹក ឧស្ម័នផ្សេងទៀត និងភាគល្អិតរឹង វា។ ការបំពុលអាកាស គឺជាការបន្ថែមឧស្ម័នបំពុលទៅក្នុងបរិយាកាស។

#### 1. ការបំពុលអាកាស

បរិយាកាសបានការពារផែនដីពីគ្រោះថ្នាក់ដែលហាងព្រាដោយស្របយកការស្ទុះគ្រោះថ្នាក់ និងការពារការរលាយដីក្នុងពិភពលោក។ ប៉ុន្តែការបំពុលដែលបង្កគ្រោះថ្នាក់ខ្លាំងបំផុតនោះគឺជាសកម្មភាពរបស់មនុស្សដោយដោយបញ្ចេញសារធាតុបំពុលទៅក្នុងបរិយាកាស។ ការបំពុលអាកាសបាននាំឱ្យកើតមានបាតុភូត ភ្លៀងអាស៊ីត ការធ្វើឱ្យស្រទាប់មូស្តូស្តេង និងកំហើនកម្ដៅលើផែនដីជាដើម។ ចំណែកការបំពុលអាកាសពីធម្មជាតិមានដូចជា ការផ្ទុះភ្នំភ្លើង និងភ្លើងនេះប្រែជាដើម។ មនុស្សក៏ក្លាយជាបញ្ហាដ៏ធ្ងន់ធ្ងរ អ៊ីប្រូសែនស៊ីលីយ៉ូ និងឧស្ម័នផ្សេងទៀត។ រីឯភ្លើងនេះប្រែជាកំបោលបញ្ចេញផ្សែងចូលទៅក្នុងបរិយាកាសដែរ។ សារធាតុបំពុលបរិយាកាសសំខាន់ៗមានដូចជា

- ឧស្ម័នកាបូនិច (CO<sub>2</sub>)
- ស្ពាន់ឌីអុកស៊ីត (SO<sub>2</sub>) ស្ពាន់ឌីអុកស៊ីត (SO<sub>3</sub>)
- អាសូតមូលុអុកស៊ីត (NO) អាសូតឌីអុកស៊ីត (NO<sub>2</sub>) ឌីអាសូតមូលុអុកស៊ីត (N<sub>2</sub>O)
- សមាសធាតុសរីរាង្គហើរ : មេតាន (CH<sub>4</sub>) បង់សែន C<sub>2</sub>O<sub>6</sub> ក្លរូម្យូអុកស៊ីត CFCs
- ភាគល្អិតអណ្តូកវិលរលំ : ភាគល្អិតរឹងដូចជា ចូលី សំណ ច្រូង ថ្នាំសម្លាប់សត្វចង្រៃ...។

304



#### សេចក្តីពន្យល់ ៖ សន្និសីទអន្តរជាតិ

វាជាលើកទីមួយហើយដែលសន្និសីទអន្តរជាតិពិភាក្សាអំពីវិធានការនៃសកម្មភាពបំផ្លាញបរិស្ថានពិភពលោក ដែលប្រារព្ធធ្វើនៅខែមិថុនា ឆ្នាំ1972។ ប្រទេសស៊ុយអែតបានស្នើមកសហប្រជាជាតិឱ្យអនុវត្តសន្និសីទអន្តរជាតិដើម្បីដោះស្រាយបញ្ហាបរិស្ថានពិភពលោកនៅចុងទសវត្សរ៍ឆ្នាំ 1960 ដូចជា ការការពារការបំផ្លាញដោយភ្លៀងអាស៊ីតនៅក្នុងតំបន់ណ៍រឌីក។ គេបានសម្រេចចិត្តនៅសន្និសីទដែលធ្វើនៅសហប្រជាជាតិ។

### 2. ប្រភពនៃការបំពុលអាកាស

ជំពូកទី ៣ មេរៀនទី ២

ប្រភពនៃការបំពុលគឺមកពីមនុស្សនិងធម្មជាតិ ចំនែកការបំពុលភាគច្រើនបណ្តាលមកពីសកម្មភាពមនុស្ស ។ បច្ចុប្បន្ននេះ បញ្ហាបរិយាកាស ត្រូវបានគេយកចិត្តទុកដាក់ខ្លាំងពីភពលោក ។ ប្រភពនៃការបំពុលសំខាន់ៗមានដូចជា :

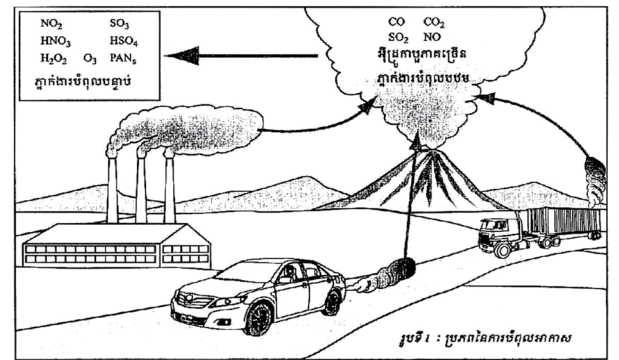
ចំហេះឥន្ធនៈថ្នាំស៊ីលីកាដែលចេញពីរថយន្ត ទាចក្រយានយន្ត រោងចក្រថាមពលគុយរ៉ាតូ ឆាវ៉ា យន្តហោះ ... ។

ការដុតកម្រិត លាមកសត្វ និងកាកសំណល់ពិសោធន៍សម្រាប់ដាំស្ល បំប្លែង និងយកកម្រៅ ... ។ ការដុតព្រៃឈើនិងវាលស្មៅនៅតំបន់ផ្សេងៗ ដើម្បីវាស់យកដីសម្រាប់ធ្វើលំដៅជាង កសិកម្ម ឧស្សាហកម្ម និងចិញ្ចឹមសត្វ ។

ការធ្វើកសិកម្មដូចជា ការប្រើប្រាស់ថ្នាំសម្លាប់សត្វល្អិតចង្រៃ និងការប្រើប្រាស់ជីគីមី ។ ការប្រើប្រាស់អាវុធយុទ្ធភ័ណ្ឌផ្សេងៗនៅក្នុងសង្គ្រាម ។

កត្តាធម្មជាតិក៏មានការបំពុលដែរដូចជា ការផ្ទុះភ្នំភ្លើង ភ្លើងនេះព្រៃ និងព្យុះជាដើម ។

**ឧទាហរណ៍ :** នៅពេលថ្មីនេះមានបន្តផ្ទុះភ្នំភ្លើងមួយនៅក្នុងប្រទេសអៀកឡង់ កាលពីខែមេសា ឆ្នាំ 2010 វាមិនត្រឹមតែបំពុលអាកាសចំណុះទេ វាថែមទាំងបានរំលែងស្ទុះទៅដល់ផ្នូរអាកាសនៅមណ្ឌលប្រទេសក្នុងតំបន់អឺរ៉ុបខាងជើង ។



305



### វត្ថុបំណង

សិស្សនឹងប្រាប់ប្រភពនៃការបំពុលអាកាស និងពន្យល់ផលប៉ះពាល់នៃការបំពុលអាកាសមកលើសុខភាពមនុស្ស។



### សកម្មភាព

គ្រូ៖ តើការបំពុលអាកាសមាននៅកន្លែងណាខ្លះ?

សិស្ស៖ សិស្សឆ្លើយចម្លើយផ្សេងៗ។

គ្រូ៖ តើការបំពុលអាកាសមានផលប៉ះពាល់ដែរឬទេ?

សិស្ស៖ សិស្សឆ្លើយចម្លើយផ្សេងៗ។

**សំណួរគន្លឹះ :** “តើសារធាតុបំពុលអាកាសមានប្រភពមកពីទីណាខ្លះ? និងផ្តល់ផលប៉ះពាល់អ្វីខ្លះ?”

### ដំណើរការ :

1. គ្រូនាំសិស្សគិតនិងប្រាប់ពីប្រភពសារធាតុបំពុលអាកាសដែលពួកគេបានចុះបញ្ជីកាលពីម៉ោងសិក្សាមុន។
2. គ្រូនាំសិស្សគិតនិងប្រាប់ពីផលប៉ះពាល់នៃការបំពុលអាកាសដែលបានចុះបញ្ជី និងមានប្រភពច្បាស់លាស់និងប្រាប់ទៅមិត្តក្នុងថ្នាក់រៀន។
3. គ្រូសង្ខេបរបាយការណ៍របស់សិស្សដាក់លើក្តារខៀន។



### សេចក្តីពន្យល់

សារធាតុបំពុលមានពីរប្រភេទគឺ សារធាតុបំពុលបឋម និងសារធាតុបំពុលបន្ទាប់។ សារធាតុបំពុលបឋមគឺជាអ្វីដែលចេញពីប្រេងសាំង និងកាបូនម៉ូណូអុកស៊ីតក្នុងខ្សែបណ្តាញដោយឥតយន្ត។ ដំបូង សារធាតុនីត្រូសែនម៉ូណូអុកស៊ីត (NO) បានធ្វើអុកស៊ីតកម្មនៅក្នុងខ្យល់ ដែលបន្ទាប់មកវាបានក្លាយទៅជានីត្រូសែនឌីអុកស៊ីត (NO<sub>2</sub>)។ សារធាតុនីត្រូសែនឌីអុកស៊ីតស្រូបពន្លឺព្រះអាទិត្យដើម្បីបំបែកជាអាតូមនីត្រូសែនម៉ូណូអុកស៊ីត (NO) និងអាតូមអុកស៊ីសែន (O)។ បន្ទាប់មក អាតូមអុកស៊ីសែន (O) ភ្ជាប់នឹងម៉ូលេគុលអុកស៊ីសែន (O<sub>2</sub>) ហើយផលិតបានជាម៉ូលេគុលអូសូន (O<sub>3</sub>)។ ជាទូទៅផលិតផលនៃអូសូន ត្រូវបានប្រើប្រាស់ដោយសារអូសូនធ្វើប្រតិកម្មជាមួយនីត្រូសែនម៉ូណូអុកស៊ីត ហើយកាត់បន្ថយម៉ូលេគុលអូសូន។ ប៉ុន្តែជាមួយនឹងសារធាតុអ៊ីដ្រូកាបូន វាកើតឡើងជាប្រតិកម្មគីមីបួនប្រាំស្របគ្នាដែលកំពុងចូលក្នុងការបង្កើនអូសូន។



### ចំណេះដឹងបន្ថែម : ព្រលានយន្តហោះនៅបណ្តាប្រទេសអឺរ៉ុបត្រូវបានបិទដោយសារបន្ទះភ្នំភ្លើង

នៅថ្ងៃទី 14 ខែមេសា ឆ្នាំ 2010 ផេះភ្នំភ្លើងបានផ្ទុះចេញពីបន្ទះភ្នំភ្លើងឈ្មោះ អេចាហ្សាចាឡាចូគុល (Eyjafjallajökull) បានគ្របដណ្តប់ផែនទឹកកកតំបន់អាយរលែន ហើយបានអណ្តែតទៅលើអាកាសក្នុងរយៈកម្ពស់យ៉ាងខ្ពស់ និងលាតសន្ធឹងយ៉ាងទូលំទូលាយនៅក្នុងអាកាសពីលើទ្វីបអឺរ៉ុប។ ជាលទ្ធផល ចំនួនជើងហោះហើរជាច្រើនបានលប់ចោល និងសកម្មភាពសង្គមត្រូវបានយ៉ាងធ្ងន់។ ផ្អែកលើគ្រោះធម្មជាតិនេះជើងហោះហើរមកដល់ និងចាកចេញជាច្រើនត្រូវបានលុបចោល។ ការដឹកជញ្ជូនតាមសមុទ្រ និងលើដីត្រូវបានធ្វើឡើងដើម្បីជាមធ្យោបាយដឹកជញ្ជូនជំនួសវិញ។ គេបាននិយាយថាមានហានិភ័យមួយដែលផេះភ្នំភ្លើងធ្វើឱ្យស្ទះឧបករណ៍យន្តហោះដោយការជាប់ស្អិតនឹងផ្ទៃលើយន្តហោះ។ ការជាប់ស្អិតនេះអាចធ្វើឱ្យមានបញ្ហាលើនឹងទម្ងន់នៅក្នុងពេលហោះហើរ។ លើសពីនេះ ផេះភ្នំភ្លើងអាចជាកាតាលីតដូចកញ្ចក់កែវ (SiO<sub>2</sub>) ដែលបង្កើតឡើងចេញពីម៉ាក់ម៉ា។ ប្រសិនបើភាគល្អិតដូចកញ្ចក់កែវនេះជ្រៀតចូលទៅក្នុងម៉ាស៊ីនបាន វាអាចរលាយនៅសីតុណ្ហភាពខ្ពស់នៃម៉ាស៊ីននៅពេលហោះហើរ ហើយនឹងបំផ្លាញម៉ាស៊ីនដែលជាលទ្ធផលឱ្យម៉ាស៊ីនធ្វើការខុស។ ដូច្នេះហើយបានជាជើងហោះហើរត្រូវបានលុបចោល។



### វត្ថុបំណង

សិស្សនឹងកំណត់វិធានការនៃការកាត់បន្ថយការបំពុលអាកាស។



### សកម្មភាព

គ្រូ៖ តើការបំពុលអាកាសមានផលប៉ះពាល់ដៃរប្បទេ?

សិស្ស៖ សិស្សឆ្លើយចម្លើយផ្សេងៗ។

គ្រូ៖ តើការបំពុលអាកាសមានផលប៉ះពាល់ដូចម្តេច?

សិស្ស៖ សិស្សឆ្លើយចម្លើយផ្សេងៗ។

សំណួរគន្លឹះ៖ “តើយើងគួរធ្វើដូចម្តេចដើម្បីកាត់បន្ថយការបំពុលអាកាស?”

#### ដំណើរការ ៖

1. គ្រូសួរសិស្សឱ្យគិត និងប្រាប់ពីវិធានការកាត់បន្ថយការបំពុលអាកាសទៅតាមលទ្ធភាពដែលអាចធ្វើទៅបាន និងប្រាប់ទៅមិត្តក្នុងថ្នាក់រៀន។
2. គ្រូសង្ខេបរបាយការណ៍របស់សិស្សដាក់លើក្តារខៀន។



### ចំណេះដឹងបន្ថែម ៖ ពីចរាចរយានយន្តមកជាចរាចរកង់

ការពិចារណាពីកត្តាប្រឈមក្នុងសង្គម ដូចជាការបំពុលអាកាស កំណើនកម្តៅភពផែនដី និងការថយចុះធនធាននាពេលអនាគត វាក្លាយជាបញ្ហាសំខាន់ដែលធ្វើឱ្យមានការលើកតម្កើងការប្រើប្រាស់កង់ ដើម្បីស្ថាបនាសង្គមកាហ្វេស៊ីប្លែកសង្គមសហប្រាណាធម្មជាតិ និងសង្គមជិះកង់។

- 1) វានៅសល់តែប្រេងនៅបំរុងបន្តិចបន្តួចតែប៉ុណ្ណោះដែលបានបញ្ជាក់ថាមាននៅលើភព។
- 2) ផ្អែកលើការសិក្សាពីទីក្រុង ការពិតបង្ហាញថាប្រហែល 40% នៃរថយន្តគឺប្រើប្រាស់សម្រាប់ការធ្វើដំណើរទៅកាន់ទីកន្លែងតិចជាងចម្ងាយ 5km។
- 3) លើសពីនេះ ការធ្វើដំណើរនៅក្នុងក្រុងដោយជិះកង់បានប្រើពេលវេលា 25នាទី ដើម្បីមកដល់គោលដៅដែលមានចម្ងាយប្រហែល 8km។ ម៉្យាងទៀត វាបានប្រើពេល 30នាទី ដោយតាក់ស៊ី គេត្រូវចំណាយ 30\$ លើប្រាក់ឈ្នួល។ ចរាចររង្វង់អាចដោះស្រាយបញ្ហាខ្វះខាតបទពិសោធន៍ផងដែរក្នុងការចូលរួមរក្សាសុខភាពល្អ។ នៅក្នុងអឺរ៉ុប ចរាចរកង់ត្រូវបានលើកទឹកចិត្ត។ គោលបំណងទីមួយគឺ ការពង្រីកផ្លូវសម្រាប់អ្នកធ្វើជើង និងខ្សែផ្លូវកង់នៅតាមបណ្តោយផ្លូវធំ ក៏ដូចជាខ្សែផ្លូវរថយន្តក្រុងជាដើមក៏ត្រូវការដែរ។

### 3. ផលប៉ះពាល់នៃការបំពុលអាកាសនោះលើសុខភាពមនុស្ស

ការបំពុលអាកាសមានបញ្ហាជាងច្រើនដល់សុខភាពមនុស្ស។ កត្តាដែលនាំឱ្យមានគ្រោះថ្នាក់ដល់សុខភាពមនុស្សសំខាន់ៗមានដូចជា លក្ខខណ្ឌនៃបរិយាកាស បរិមាណសារធាតុបំពុលដែលបញ្ចេញចោល រយៈពេលនៃការស្ថិតនៅជាមួយសារធាតុបំពុល ចម្ងាយពីប្រភពសារធាតុបំពុល អាប៊ុន និងស្ថានភាពរបស់មនុស្ស និងភាពពុលរបស់សារធាតុបំពុល ឬស្រមោលរបស់វា។ លទ្ធផលទាំងនេះបានធ្វើឱ្យកុមារ មនុស្សចាស់ ជាពិសេសមនុស្សដែលមានជំងឺបេះដូង និងស្ពតស្ពុនតែងតែងទទួលបានពីការបំពុលអាកាសធ្ងន់ធ្ងរដល់សុខភាពជាងគេ។ តាមការសង្កេតពីសុខភាពមនុស្សដែលរស់នៅក្នុងតំបន់ដែលមានការបំពុលខ្លាំងនិងសុខភាពមនុស្សដែលរស់នៅក្នុងតំបន់ដែលមានការបំពុលតិចតួចមានភាពខុសគ្នា។ តំបន់ដែលមានការបំពុលខ្លាំងមនុស្សភាគច្រើនកើតជំងឺផ្លូវដង្ហើម ជំងឺបរិវារិក និងជំងឺខួរក្បាលចំពោះកុមារ។

### 4. វិធីកាត់បន្ថយការបំពុលអាកាស

ក្នុងការបំពុលអាកាសនេះ យើងមិនអាចទាញយកធាតុកខ្វក់ចេញពីអាកាសឬធ្វើឱ្យអាកាសបរិសុទ្ធ ដើម្បីយកមកទៅប្រើប្រាស់ឡើងវិញបានឡើយ ប៉ុន្តែយើងអាចត្រួតពិនិត្យ និងកាត់បន្ថយបាននូវអ្វីៗដែលបានបញ្ចេញចោលទៅក្នុងអាកាស។ ពេលដែលយើងបានដឹងនិងស្គាល់ពីសារធាតុបំពុលដែលបណ្តាលឱ្យមានការបំពុលអាកាស ពេលនោះយើងរកវិធានការដើម្បីទប់ស្កាត់និងកាត់បន្ថយការបំពុលអាកាសបានក្នុងកម្រិតមួយដែលអាចធ្វើទៅបាន។ វិធានការកាត់បន្ថយការបំពុលអាកាសគឺ

- មិនត្រូវដុតសំរាមក្រៅផ្ទះ នៅតាមលំនៅឋាន សាលារៀន ភោជនីយដ្ឋាន កន្លែងក្មេងលេងកំសាន្ត
- ប្រើប្រាស់ប្រេងសាំងដែលគ្មានជាតិសំណរ
- ប្រើប្រាស់ផលិតផលប្រេងកាតដែលមានកម្រិតជាតិស្ពាន់ដ៏ទាប
- ដាំដើមឈើតាមបណ្តោយផ្លូវដែលមានចរាចរណ៍ម៉ាឡិក ព្រោះវាអាចស្រូបយកចូល
- កាត់បន្ថយយានយន្តប្រើប្រាស់ឥន្ធនៈផ្លុយីល
- តំបន់ឧស្សាហកម្មនិងកន្លែងចាក់សំរាមត្រូវនៅឱ្យឆ្ងាយពីទីប្រជុំជន
- កាត់បន្ថយយានយន្តឯកជននៅតាមផ្លូវសាធារណៈនិងលើកទឹកចិត្តប្រជាជនឱ្យប្រើប្រាស់ទោចក្រយាន ឬធ្វើដំណើរដោយថ្មើរជើងវិញ។

306



### សេចក្តីពន្យល់

អំឡុងពេលសកបដីវត្តន៍ឧស្សាហកម្មដែលបានចាប់ផ្តើមនៅក្នុងប្រទេសអង់គ្លេស នៅក្នុងសតវត្សរ៍ទី19 បានធ្វើឱ្យមានអ្នកជម្ងឺផ្លូវដង្ហើមជាច្រើនបានលឺចាប់ដោយសារផ្សែងចេញពីរោងចក្រ។ ចំណែកនៃក្នុងប្រទេសជប៉ុន នៅទសវត្សរ៍ឆ្នាំ1960 ទំនាក់ទំនងនៃរោគហ៊ីត និង ការបំពុលអាកាស បានក្លាយជាបញ្ហាសង្គមដ៏សំខាន់មួយ។ នេះដោយសារតែអ្នកជម្ងឺហ៊ីតជាច្រើនបានបង្កឡើងដោយការបំពុលអាកាសដោយសារសមាសធាតុស៊ុលផួរិច (SO<sub>2</sub> និង H<sub>2</sub>S) និងធ្នូលីអ៊ែរណូត ដែលមាននៅតំបន់លំនៅឋានមួយចំនួនដែលជុំវិញដោយរុក្ខជាតិប្រេងសំប្តៅ។

ជំពូកទី ៣ មេរៀនទី ២

- សាងសង់ផ្លូវថ្នល់ និងអាគារទាបៗ ព្រោះផ្លូវថ្នល់និងអាគារខ្ពស់ៗជាមូលហេតុប្រមូលផ្តុំសារធាតុបំពុលក្នុងកម្រិតខ្ពស់ ។
- រៀបចំធ្វើផែនការកសាងទីក្រុងដោយយកចិត្តទុកដាក់ដល់សុខភាពប្រជាជនជាមួយ ។
- សង់បំពង់ផ្សែងរោងចក្រដោយច្រើនច្រើនកម្រិត ដើម្បីទាញយកភាគល្អិត អាសូតអុកស៊ីត និងស្ពាន់ធ័រអុកស៊ីត ។
- អនុវត្តការយកពន្ធលើការបញ្ចេញចោលឧស្ម័នកាបូនឌីអុកស៊ីតនិងស្ពាន់ធ័រឌីអុកស៊ីត ។
- ប្រើប្រាស់ឧបករណ៍បំប្លែងកាតាលីកម្ម ដើម្បីជួយដល់ការត្រួតពិនិត្យកាតាស៊ីស្តង់ផ្សេងៗ ។

**មេរៀនលម្អិត**

ការបំពុលអាកាស គឺជាការបន្ថែមសារធាតុបំពុលទាំងឡាយចូលទៅក្នុងបរិយាកាសនិងបង្កឱ្យមានបាតុភូត ភ្លៀងអាស៊ីត ស្រទាប់អូសូនស្តើងនិងការឡើងកម្ដៅលើផែនដី ។ ដូចនេះ យើងមិនត្រូវប្រើប្រាស់អ្វីដែលមានសារធាតុបំពុលនិងធ្វើអ្វីដែលបង្កឱ្យមានការបំពុលអាកាសឡើយ ។ ប្រសិនបើមានសារធាតុបំពុលអាកាសមនុស្សដែលរស់នៅតំបន់នេះតែងទទួលបានផលប៉ះពាល់ដល់សុខភាពមនុស្ស ពិសេសកុមារ និងមនុស្សចាស់ ។

**សំណួរ**

1. ដូចម្តេចហៅថាការបំពុលអាកាស ?
2. ចូររៀបរាប់សារធាតុបំពុលអាកាសសំខាន់ៗ ។
3. តើការបំពុលអាកាសបង្កឱ្យមានបាតុភូតអ្វីខ្លះកើតឡើង ?
4. ចូររៀបរាប់ពីផលប៉ះពាល់ចំពោះសុខភាពប្រជាជនដែលបណ្តាលពីការបំពុលអាកាស ។
5. តើយើងអាចកាត់បន្ថយការបំពុលអាកាសដោយវិធីអ្វីខ្លះ ?



**ចម្លើយសំណួរ**

1. ការបំពុលអាកាសគឺជាការបន្ថែមឧស្ម័នពុលចូលទៅក្នុងបរិយាកាស។
2. កាបូនឌីអុកស៊ីត (CO<sub>2</sub>) ស្ពាន់ធ័រឌីអុកស៊ីត (SO<sub>2</sub>) អាសូតម៉ូណូអុកស៊ីត (NO) អាសូតឌីអុកស៊ីត (NO<sub>2</sub>) ឌីអាសូតម៉ូណូអុកស៊ីត (N<sub>2</sub>O) មេតាន (CH<sub>4</sub>) បង់សែន (C<sub>6</sub>O<sub>6</sub>) ក្លរូភ្លុយអ៊ីតូកាបូន (CFCs) ផ្លូរី សំណ (Pb) ប្រេងថ្នាំសម្លាប់សត្វល្អិត...។
3. ភ្លៀងអាស៊ីត ស្រទាប់អូសូនស្តើង និងកំណើនកម្ដៅភពផែនដី។
4. ជម្ងឺមហារីក ជម្ងឺផ្លូវដង្ហើម ជម្ងឺខួរក្បាល។
5. កុំដុតសំរាមនៅផ្ទះ និងនៅសាលារៀន។ កុំប្រើប្រាស់ប្រេងសាំងមានធាតុសំណ។



**សេចក្តីពន្យល់**

ការប្រជុំរបស់សហប្រជាជាតិអំពីបញ្ហាបរិស្ថានជាលើកដំបូងបានធ្វើឡើងនៅក្នុង "សន្និសីទសហប្រជាជាតិអំពីបញ្ហាបរិស្ថានឆ្នាំ 1972" នៅទីក្រុងស្តុកហុល ប្រទេសស៊ុយអែត។ នៅពេលនោះ ខ្យល់ និងទឹកពុលត្រូវបានដឹងថាមិនមែនជាបញ្ហាទេទាំងបញ្ហាក្នុងលំនៅឋាន និងក្នុងតំបន់។ ក្រៅពីនេះ ទំនោរពិភពលោកមិនបានដំណើរការទេ។ ប្រហោងអូសូនពីលើអង់តាក់ទិចក៏មានទំហំកាន់តែធំធេងដែរ។ ផលិតផល CFCs ដែលបានទុកជាមូលហេតុធ្វើឱ្យមានប្រហោងអូសូន ត្រូវបានបញ្ឈប់ការប្រើប្រាស់នៅអំឡុងសតវត្សរ៍ទី 20 នៅក្នុងប្រទេសអភិវឌ្ឍ។ ការបញ្ចេញ CFCs គួរតែត្រូវបានកាត់បន្ថយក្នុងកម្រិតខ្ពស់ជាងរាល់ឆ្នាំ។ ប៉ុន្តែនៅពីរបីឆ្នាំចុងក្រោយនេះ ប្រហោងអូសូនកាន់តែធំនៅរៀងរាល់ខែកញ្ញា។ នៅក្នុងវិធីនេះ ផលប៉ះពាល់នៃការបំផ្លាញបរិស្ថាននឹងបានធ្វើឱ្យមនុស្សជំនាន់ក្រោយ ម៉ូម៉ៅក្តៅក្រហាយអស់រយៈពេលយូរ។ បញ្ហាផ្ទះកញ្ចក់ប្រហោងអូសូននឹងបាត់ទៅវិញ ដរាបសកម្មភាពបញ្ចេញផ្សែងពុលទៅក្នុងអាកាសបានបញ្ឈប់។ យើងត្រូវតែដឹងពីការពិតដែលយើងកំពុងបំផ្លាញបរិស្ថានយ៉ាងធ្ងន់ធ្ងរ ជាមួយនឹងការមិនអើពើនឹងបញ្ហាក្នុងការរក្សាជីវិតប្រកបដោយសុខភាព និងសំខាន់នាពេលបច្ចុប្បន្ននេះ។

# ចំណេះដឹងបន្ថែម

## ឧបករណ៍សេដ្ឋកិច្ចនៃវិធានការបរិស្ថាន

ឧបករណ៍សេដ្ឋកិច្ចនៃវិធានការបរិស្ថានដែលត្រូវបានអនុវត្តថ្មីៗនេះដូចខាងក្រោម។ ស្ថានភាពថ្មីក៏មានចាត់ឱ្យមានការអនុវត្តដូចមានក្នុងតារាងខាងក្រោមផងដែរ។

### 1) ប្រព័ន្ធយកពន្ធ

ការយកពន្ធត្រូវបានអនុវត្ត ដូចជាតម្លៃប្រើប្រាស់ធនធានធម្មជាតិ និងត្រូវបានដាក់ឱ្យប្រើប្រាស់ដើម្បីទ្រទ្រង់វិធានការថែរក្សាបរិស្ថាន។ ដូចជាពន្ធអ្នកប្រើប្រាស់ ការយកពន្ធត្រូវបានដាក់បញ្ចូលទៅក្នុងតម្លៃសំណល់លំនៅឋាន តម្លៃបង្ហូរទឹកស្អុយ ថ្លៃពន្ធរដ្ឋបាល ការយកពន្ធ (ថ្លៃត្រា ថ្លៃវិញ្ញាបនបត្រ ថ្លៃអាជ្ញាធរ) និងការយកពន្ធផលិតផល (ពន្ធប្រេងសាំង ប្រេងម៉ាស៊ីន អាគុយ ទូរទឹកកក ដី ...)។ ប៉ុន្តែ មិនមែនគ្រប់ទំនិញទាំងអស់ត្រូវបានយកពន្ធទេ គឺការយកពន្ធអនុវត្តតែក្នុងចំណោមផលិតផលណាដែលបំផ្លាញបរិស្ថានប៉ុណ្ណោះ។

### 2) ប្រព័ន្ធបដិភាគ

ជំនួយហិរញ្ញវត្ថុសម្រាប់ប្រតិបត្តិការត្រួតពិនិត្យការបំពុលត្រូវបានស្គាល់ ដើម្បីលើកតម្កើងវិធានការថែរក្សាបរិស្ថាន។ មានថវិកាបដិភាគដែលទ្រទ្រង់ផ្ទាល់មកលើតម្លៃនៃការបំពុលអាកាស ប្រាក់កំចាត់ប្រាក់ទាបដើម្បីកាត់បន្ថយបន្ទុកការប្រាក់ និងប្រព័ន្ធពិសេសដើម្បីបន្ធូរបន្ថយប្រាក់។

### 3) ប្រព័ន្ធដាក់ប្រាក់

វាមានគោលបំណងលើកកម្ពស់សំណល់កែច្នៃឡើងវិញដើម្បីកាត់បន្ថយការប្រើប្រាស់ធនធាន។ វាគឺជាប្រព័ន្ធដែលតម្លៃទាំងអស់ត្រូវបានបូកបន្ថែមនៅក្នុងតម្លៃប្រើប្រាស់ជាមុនរួចជាស្រេច និងការសងមកវិញគ្រប់តម្លៃទាំងអស់ដើម្បីអភិវឌ្ឍអត្រាការប្រាក់។ ឧទាហរណ៍ប្រព័ន្ធសម្រាប់ដបស្រាបៀរ និងស្រា មានប្រវត្តិប្រព័ន្ធដាក់ប្រាក់តាំងពីយូរមកហើយ ហើយនៅឆ្នាំថ្មីៗនេះ កំប៉ុងអាលុយមីញ៉ូមមានគ្របកំពុងប្រតិបត្តិប្រព័ន្ធបែបនេះ។

### 4) ការបញ្ចេញប្រព័ន្ធទីផ្សារជំនួញ

បើសិនជាគោលដៅបញ្ចេញសារធាតុពុលត្រូវបានកំណត់នៅក្នុងប្រទេសឬតំបន់មួយចំនួន គេសារភាពថាការលក់ និងការទិញនៃការបញ្ចេញក្រខ្លឹមវាងវិធានការដែលបានទទួលស្គាល់សម្រាប់ការបញ្ចេញ ហើយវិធានការទាំងនោះពិបាកសម្រេចការកាត់បន្ថយគោលដៅបាន។ គេរំពឹងថាទំនិញដែលបានធ្វើដោយការវិភាគបន្តិចអាចឱ្យគេសម្រេចបានដោយវិធានការបត់បែនជាបទបញ្ជា។ វាត្រូវបានដាក់ចូលក្នុងការអនុវត្តនៅអឺរ៉ុប និងសហរដ្ឋអាមេរិក។

### 5) ប្រព័ន្ធធាកពិន័យ

ការផាកពិន័យនៅក្នុងបទបញ្ជាឬច្បាប់ គឺជាប្រភេទមួយនៃមធ្យោបាយសេដ្ឋកិច្ច។ ប៉ុន្តែ គេពិចារណាទៅលើការផ្តោតសំខាន់មកលើឥទ្ធិពលសង្គម និងឥទ្ធិពលចិត្តវិទ្យា ជាងឥទ្ធិពលសេដ្ឋកិច្ច ពីព្រោះបរិមាណនៃការផាកពិន័យ គឺពិតជាតិចតួចណាស់ និងមានឥទ្ធិពលសេដ្ឋកិច្ចមានកម្រិត។

### តេស្តខ្លឹមសម្រាប់មេរៀន ការបំពុលអាកាស ( 1 ម៉ោង )

**ចំណាំ:** គ្រូគប្បីប្រើប្រាស់សំណួរ និងលំហាត់ខាងក្រោមនេះទាំងអស់ ឬមួយចំនួននៅក្នុងវិញ្ញាសាប្រឡងប្រចាំខែ ឬប្រឡងឆមាស ដើម្បីធ្វើការវាយតម្លៃការយល់ដឹងរបស់សិស្សស្តីពី “ការបំពុលអាកាស”។

**រយៈពេល: 40 នាទី      ពិន្ទុសរុប: 50 ពិន្ទុ**

**ចូរជ្រើសរើសចម្លើយខាងក្រោមឱ្យបានត្រឹមត្រូវ (5ពិន្ទុ/សំណួរ) ៖**

1. តើមួយណាមិនមែនជាធូលីអណ្តែត ក្នុងចំណោមសារធាតុដូចខាងក្រោម?  
 ក. សំណ      ខ. ប្រេងសាំង      គ. ថ្នាំសម្លាប់សត្វល្អិត      ឃ. បង់សែន
  
2. ចូរជ្រើសរើសប្រយោគមិនត្រឹមត្រូវមួយ។  
 ក. ប្រភពនៃការបំពុលអាកាសបានបំប្លែងចេញពីសកម្មភាពមនុស្ស។      គ. ការបំពុលអាកាសត្រូវបានយកចិត្តទុកដាក់ពីពិភពលោក  
 ខ. ប្រភពនៃការបំពុលអាកាសមិនបានបំប្លែងចេញពីធម្មជាតិ។      ឃ. ផូស៊ីលតន្ត្រីត្រូវបានប្រើប្រាស់ដោយយានយន្ត
  
3. តើមនុស្សក្រុមមួយណាដែលរងឥទ្ធិពលការបំពុលអាកាសជាងគេ?  
 ក. ទារក និងកុមារ      ខ. កុមារ និងមនុស្សចាស់      គ. កុមារ និងស្ត្រីមានផ្ទៃពោះ      ឃ. បុរស និងស្ត្រី
  
4. តើជម្ងឺឈាញធ្មេញខ្លះដែលបំផ្លាញសុខភាពដោយការបំពុលខ្យល់?  
 ក. ជម្ងឺផ្លូវដង្ហើម ជម្ងឺខួរក្បាល និងជម្ងឺមហារីក      គ. ជម្ងឺផ្លូវដង្ហើម ជម្ងឺខួរក្បាល និងជម្ងឺរាគ  
 ខ. ជម្ងឺផ្លូវដង្ហើម ជម្ងឺខួរក្បាល និងជម្ងឺបេះដូង      ឃ. ជម្ងឺផ្លូវដង្ហើម ជម្ងឺខួរក្បាល និងជម្ងឺហឺត
  
5. ចូរជ្រើសរើសប្រយោគមួយមិនត្រឹមត្រូវជាវិធានការកាត់បន្ថយការបំពុលអាកាស។  
 ក. កុំដុតសំណល់លំនៅឋាន។      គ. កុំប្រើប្រេងសាំងមានធាតុស៊ុលផួរទាប។  
 ខ. កុំប្រើប្រេងសាំងមានធាតុសំណ។      ឃ. កាត់បន្ថយការប្រើប្រាស់ផូស៊ីលតន្ត្រី។
  
6. ហេតុអ្វីបានជារុក្ខជាតិនៅតាមបណ្តោយផ្លូវសកម្មកាត់បន្ថយការបំពុលអាកាស?  
 ក. រុក្ខជាតិស្រូបកម្ដៅ      ខ. រុក្ខជាតិស្រូបឧស្ម័ន      គ. រុក្ខជាតិស្រូបពន្លឺ      ឃ. រុក្ខជាតិស្រូបទឹក      ង. រុក្ខជាតិស្រូបផូស៊ីល
  
7. ហេតុអ្វីបានជាតំបន់ឧស្សាហកម្មគួរតែនៅឆ្ងាយពីក្រុង?
  
8. ហេតុអ្វីបានជាគេលើកទឹកចិត្តមនុស្សឱ្យជិះកង់វិញ?
  
9. តើសារធាតុអ្វីបង្កឱ្យស្រទាប់អូសូនធ្លុះ?  
 ក. មេតាន (CH<sub>4</sub>)      ខ. បង់សែន (C<sub>6</sub>O<sub>6</sub>)      គ. ក្លរូភ្លុយអ៊ីដ្រូកាបូន (CFCs)      ឃ. ផូស៊ីល      ង. សំណ (Pb)
  
10. នៅពេលឧបករណ៍សេដ្ឋកិច្ចមួយក្លាយជាវិធានការបរិស្ថាន មានប្រព័ន្ធដាក់ប្រាក់។ តើគេអនុវត្តប្រព័ន្ធនេះសម្រាប់អ្វី?

## ចម្លើយ ការដាក់ពិន្ទុ និងការវិនិច្ឆ័យ

### ចម្លើយ និងការដាក់ពិន្ទុ (ពិន្ទុសរុប 50)

1. គ. បង់សែន

<b>ការដាក់ពិន្ទុ:</b>	5 ពិន្ទុ = ជ្រើសរើសចម្លើយ គ.
	0 ពិន្ទុ = ជ្រើសរើសចម្លើយ ក. ខ. ឃ.

2. ខ. ប្រភពនៃការបំពុលអាកាសមិនបានបំប្លែងពីធម្មជាតិ

<b>ការដាក់ពិន្ទុ:</b>	5 ពិន្ទុ = ជ្រើសរើសចម្លើយ ខ.
	0 ពិន្ទុ = ជ្រើសរើសចម្លើយ ក. គ. ឃ.

3. ខ. កុមារ និងមនុស្សចាស់

<b>ការដាក់ពិន្ទុ:</b>	5 ពិន្ទុ = ជ្រើសរើសចម្លើយ ខ.
	0 ពិន្ទុ = ជ្រើសរើសចម្លើយ ក. គ. ឃ.

4. ក. ជម្ងឺឆ្លូវដង្ហើម ជម្ងឺមហារីក ជម្ងឺខួរក្បាល

<b>ការដាក់ពិន្ទុ:</b>	5 ពិន្ទុ = ជ្រើសរើសចម្លើយ ក.
	0 ពិន្ទុ = ជ្រើសរើសចម្លើយ ក. គ. ឃ.

5. គ. កុំប្រើប្រេងដែលមានផ្ទុកធាតុស៊ុលផួរទាប

<b>ការដាក់ពិន្ទុ:</b>	5 ពិន្ទុ = ជ្រើសរើសចម្លើយ គ.
	0 ពិន្ទុ = ជ្រើសរើសចម្លើយ ក. គ. ឃ.

6. ង. រុក្ខជាតិស្រូបចូល

<b>ការដាក់ពិន្ទុ:</b>	5 ពិន្ទុ = ជ្រើសរើសចម្លើយ ង.
	0 ពិន្ទុ = ជ្រើសរើសចម្លើយ ក. គ. ឃ.

7. តំបន់រោងចក្រឧស្សាហកម្មបញ្ចេញសារធាតុបំពុលអាកាសច្រើន។

<b>ការដាក់ពិន្ទុ:</b>	5 ពិន្ទុ = ចម្លើយខាងលើ
	0 ពិន្ទុ = ចម្លើយក្រៅពីនេះ

8. ដើម្បីកាត់បន្ថយការបញ្ចេញឧស្ម័នដែលចូលរួមបំពុលអាកាស។

<b>ការដាក់ពិន្ទុ:</b>	5 ពិន្ទុ = សរសេរចម្លើយខាងលើ
	0 ពិន្ទុ = ក្រៅពីចម្លើយខាងលើ

9. គ. CFCs

<b>ការដាក់ពិន្ទុ:</b>	5 ពិន្ទុ = ជ្រើសរើសចម្លើយ គ.
	0 ពិន្ទុ = ជ្រើសរើសចម្លើយ ក. ខ. ឃ. ង.

10. ដើម្បីលើកទឹកចិត្តសំណល់ប្រើឡើងវិញ និងកាត់បន្ថយធនធានប្រើប្រាស់

<b>ការដាក់ពិន្ទុ:</b>	5 ពិន្ទុ = សរសេរចម្លើយខាងលើ
	0 ពិន្ទុ = ក្រៅពីចម្លើយខាងលើ

**ការវិនិច្ឆ័យ**

ពិន្ទុ	ការវិនិច្ឆ័យ និងសំណូមពរសម្រាប់ការបង្រៀន
0 – 20	សិស្សដែលទទួលបានពិន្ទុនៅចន្លោះនេះ មានន័យថាពួកគេមិនទាន់មានចំណេះដឹងមូលដ្ឋាន និងជំនាញវិភាគខ្លឹមសារវិទ្យាសាស្ត្រស្តីពី “ការបំពុលអាកាស” ទេ។ ដូច្នេះ សិស្សដែលទទួលបានពិន្ទុនៅចន្លោះនេះ ត្រូវតែធ្វើការសិក្សាពីមូលដ្ឋាននៃ “ការបំពុលអាកាស” ឡើងវិញជាមួយនឹងការលើកឧទាហរណ៍ងាយៗទាក់ទងនឹងចំណេះដឹងមូលដ្ឋានមានស្រាប់របស់ពួកគេ។
21 – 30	សិស្សដែលទទួលបានពិន្ទុនៅចន្លោះនេះ មានន័យថាពួកគេអាចពន្យល់បានពីចំណេះដឹងមូលដ្ឋាន និងជំនាញវិភាគងាយៗលើខ្លឹមសារវិទ្យាសាស្ត្រស្តីពី “ការបំពុលអាកាស” ប៉ុន្តែពួកគេនៅមានការលំបាកចំពោះខ្លឹមសារ និងការវិភាគស៊ីជម្រៅនៅឡើយ។ ដូច្នេះ គ្រូគួរផ្តល់ការពន្យល់ និងសំណួរឬលំហាត់បន្ថែមដល់ពួកគេ។
31 – 40	សិស្សដែលទទួលបានពិន្ទុនៅចន្លោះនេះ មានន័យថាពួកគេអាចពន្យល់បានពីខ្លឹមសារ និងជំនាញ វិភាគស៊ីជម្រៅលើខ្លឹមសារវិទ្យាសាស្ត្រស្តីពី “ការបំពុលអាកាស” ប៉ុន្តែពួកគេនៅមិនទាន់អាចឈានដល់កម្រិតដែលពួកគេអាចប្រើប្រាស់ចំណេះដឹងរបស់ពួកគេដើម្បីដោះស្រាយបញ្ហាវិទ្យាសាស្ត្រនៅឡើយ។ ដូច្នេះ គ្រូគួរជួយពួកគេបន្ថែមទៀតដូចជា ការផ្តល់សំណួរឬលំហាត់បែបវិភាគដល់ពួកគេជាដើម។
41 – 50	សិស្សដែលទទួលបានពិន្ទុនៅចន្លោះនេះ មានន័យថាពួកគេអាចពន្យល់បានពីខ្លឹមសារ និងជំនាញ វិភាគស៊ីជម្រៅគ្រប់គ្រាន់លើខ្លឹមសារវិទ្យាសាស្ត្រស្តីពី “ការបំពុលអាកាស” ។ ទោះជាយ៉ាងណាក៏ដោយ គ្រូគួរផ្តល់សំណួរឬលំហាត់ដែលមានកម្រិតខ្ពស់ដល់ពួកគេបន្ថែម ដើម្បីឱ្យពួកគេបង្កើនចំណេះដឹង និងជំនាញរបស់ពួកគេកាន់តែស៊ីជម្រៅ។

# មេរៀនទី ៣

# ការកើនកម្ដៅនៅលើផែនដី

## វត្ថុបំណង

- បន្ទាប់ពីសិក្សាមេរៀននេះចប់ សិស្សនឹង ៖
  - រកឃើញមូលហេតុដែលនាំឱ្យផែនដីឡើងកម្ដៅ។
  - រៀបរាប់បានពីឈ្មោះឧស្ម័នផ្ទះកញ្ចក់។
  - ផលវិបាកនៃកំណើនផលផ្ទះកញ្ចក់។

## ផែនការមេរៀន

មេរៀននេះត្រូវបានបែងចែកសម្រាប់បង្រៀន និងរៀនរយៈពេល ៣ ម៉ោង ដូចបង្ហាញក្នុងតារាង ១ ខាងក្រោម។

**តារាង ១ បំណែងចែកម៉ោងបង្រៀន**

ចំនួនម៉ោងសិក្សា	ចំណងជើងរងមេរៀន	ទំព័រក្នុងសៀវភៅសិក្សាគោល
១ម៉ោង	1. មូលហេតុដែលនាំឱ្យកំដៅផែនដីកើនកម្ដៅ 1.1. ផលផ្ទះកញ្ចក់ 1.2. ការកើនឡើងនៃផលផ្ទះកញ្ចក់	308 – 309
១ម៉ោង	2. ឧស្ម័នផ្ទះកញ្ចក់ 3. ផលវិបាកនៃកំណើនឧស្ម័នផ្ទះកញ្ចក់	309 – 310
១ម៉ោង	4. វិធីកាត់បន្ថយការកើនកម្ដៅនៅលើផែនដី មេរៀនសង្ខេប សំណួរ	310 – 311

## ការណែនាំការមេរៀន

តារាង ២ បង្ហាញពីផែនការបង្រៀន និងលទ្ធផលរងាយយល់ក្នុងម៉ោងសិក្សានីមួយៗ។ គ្រូគប្បីដឹកនាំសកម្មភាពទាំងអស់ និងវាយតម្លៃសិស្សដោយផ្អែកលើលក្ខណៈវិនិច្ឆ័យនៅក្នុងតារាង ២។ ដូចសកម្មភាពនៅក្នុងតារាង ២ សិស្សនឹងធ្វើសកម្មភាពផ្សេងៗអំពី មូលហេតុនៃកំណើនកម្ដៅនៅលើផែនដី ប្រភេទឧស្ម័នផ្ទះកញ្ចក់ ផលវិបាកនៃកំណើនឧស្ម័នផ្ទះកញ្ចក់ និងវិធីកាត់បន្ថយកំណើនកម្ដៅនៅលើផែនដី ដែលសកម្មភាពទាំងនេះនឹងជួយសិស្សអភិវឌ្ឍការយល់របស់ពួកគេអំពី ការកើនកម្ដៅនៅលើផែនដី។ ទោះជាយ៉ាងណា គ្រូគប្បីប្រើទេពកោសល្យភាពទន់ភ្លន់ និងភាពបត់បែនរបស់ខ្លួន ដើម្បីផ្តល់ប្រយោជន៍ទៅតាមកម្រិតយល់ដឹងរបស់សិស្ស និងស្ថានភាពជាក់ស្តែងរបស់ថ្នាក់រៀន ដើម្បីសម្របសម្រួលទៅតាមសកម្មភាពបង្រៀន និងរៀនដូចមាននៅក្នុងការណែនាំការបង្រៀននេះ។

**តារាង ២ ផែនការបង្រៀន និងលទ្ធផលរងាយយល់**

ម៉ោងសិក្សា	វត្ថុបំណង	សកម្មភាព	លទ្ធផលរងាយយល់
ទី ១	រកឃើញមូលហេតុដែលនាំឱ្យផែនដីឡើងកម្ដៅ និងរៀបរាប់ពីដំណើរការកំណើនផលផ្ទះកញ្ចក់។	សិស្សក្រុមតូចពិភាក្សាពី របៀបវាស់សីតុណ្ហភាពមធ្យមរបស់ផែនដី ពីមូលហេតុនាំឱ្យសីតុណ្ហភាពមធ្យមរបស់ផែនដីកើនឡើងដោយពិសោធន៍ផលផ្ទះកញ្ចក់ ពីដំណើរការកំណើនផលផ្ទះកញ្ចក់របស់ផែនដីដោយរូបភាពរថយន្តបិទកញ្ចក់ជិតទុកចោលហាលថ្ងៃ និងពន្យល់សេចក្តីសន្និដ្ឋានលើសំណួរគន្លឹះរបស់គ្រូ។	សិស្សអាច ៖ (១)សន្និដ្ឋានមូលហេតុដែលនាំឱ្យសីតុណ្ហភាពមធ្យមរបស់ផែនដីកើនឡើង និង(២)រៀបរាប់ដំណើរការកំណើននៃផលផ្ទះកញ្ចក់របស់ផែនដី។

<p>ទី 2</p>	<p>ពណ៌នាពីប្រភេទខ្សែស្រឡាយផ្ទះកញ្ចក់ និងពីផលវិបាកនៃផលផ្ទះកញ្ចក់។</p>	<p>សិស្សក្រុមតូចពិភាក្សាពី របៀបដែល ខ្សែស្រឡាយផ្ទះកញ្ចក់ កត្តាមនុស្ស និងកត្តា ធម្មជាតិផ្លាស់ប្តូរសីតុណ្ហភាពមធ្យម របស់ផែនដីនិងពីរបៀបនៃកំណើន កម្ដៅនៅលើផែនដី។ ប្រសិនបើផែនដី កើនកម្ដៅ តើយើងអាចតម្រូវការរស់នៅ របស់យើងទៅនឹងបរិស្ថានបានដោយ របៀបណា? និងពន្យល់សេចក្ដីសន្និដ្ឋាន លើសំណួរគន្លឹះរបស់គ្រូ។</p>	<p>សិស្សអាច ៖ (1)ពណ៌នាពីលក្ខណៈនៃកំហាប់ខ្សែស្រឡាយផ្ទះកញ្ចក់ប្រែប្រួល និង (2)ពន្យល់ថាក្នុងរយៈពេល 100 ឆ្នាំ ខាងមុខ សីតុណ្ហភាពផែនដីនឹងកើនឡើង ចាប់ពី 0.3 °C ដល់ 0.6°C។</p>
<p>ទី 3</p>	<p>រកឃើញវិធីកាត់បន្ថយការកើន កម្ដៅនៅលើផែនដី។</p>	<p>សិស្សក្រុមតូចពិភាក្សារកវិធីកាត់ បន្ថយការកើនកម្ដៅនៅលើផែនដី និង ពន្យល់សេចក្ដីសន្និដ្ឋានលើសំណួរ គន្លឹះរបស់គ្រូ។</p>	<p>សិស្សអាច ៖ (1)ប្រាប់ពីវិធីកាត់បន្ថយ ការកើនកម្ដៅនៅលើផែនដី និង (2)សង្ខេបមេរៀន និងឆ្លើយសំណួរ។</p>

**ចំណុចនៃការបង្រៀន**

ចំណុចនៃការបង្រៀនមេរៀននេះគឺដើម្បីឱ្យសិស្សអាចពណ៌នាថាការកើនកម្ដៅនៅលើផែនដីបណ្តាលមកពីកត្តាមនុស្ស និងកត្តា ធម្មជាតិ។ ប៉ុន្តែរយៈពេលកន្លងមក មិនមានអ្នកណាម្នាក់បានដឹងច្បាស់នៅឡើយទេថា កត្តាមួយណាពិតប្រាកដក្នុងចំណោមកត្តាទាំងពីរជា កត្តាចម្បងនៃការកើនកម្ដៅនៅលើផែនដី។ គេបានដឹងត្រឹមតែថាមានតែខ្សែស្រឡាយកាបូនឌីអុកស៊ីត (CO<sub>2</sub>) តែមួយប៉ុណ្ណោះដែលជាកត្តាចម្បងនៃ ការកើនកម្ដៅនៅលើផែនដី។ គេបានកំណត់ថាការសន្មតនៃការកើនកម្ដៅនៅលើផែនដីបានប្រើប្រាស់លទ្ធផលនៃការសង្កេតមួយដោយ ផ្អែកលើទិន្នន័យបំរែបំរួលសីតុណ្ហភាព។ ក្រុងចំណុចនេះ គ្រូគប្បីបង្ហាញទិន្នន័យបំរែបំរួលសីតុណ្ហភាពរបស់ផែនដីចាប់តាំងពីពាក់កណ្តាល សតវត្សរ៍ទី18 (ទំព័រទី 81 ដល់ទី 84 នៃមេរៀននេះ)។

**ចំណេះដឹងមូលដ្ឋានសម្រាប់មេរៀននេះ**

មុនពេលចាប់ផ្តើមបង្រៀនខ្លឹមសារមេរៀនថ្មីក្នុងម៉ោងសិក្សានីមួយៗ គ្រូគប្បីសួរសិស្សដើម្បីពិនិត្យចំណេះដឹងមានស្រាប់របស់ពួកគេ និងដើម្បីរកមើលចំណេះដឹងមូលដ្ឋានរបស់សិស្ស ដូចជា ការប្រើប្រាស់ទែរម៉ូម៉ែត្រត្រឹមត្រូវ និងការពណ៌នាពីលក្ខណៈនៃខ្សែស្រឡាយកាបូនឌីអុកស៊ីត (ខ្សែស្រឡាយកាបូនិច)។ បើមិនដូច្នោះទេសិស្សនឹងពិបាកសម្រេចបានវត្តបំណងមេរៀននេះ។



### វត្ថុបំណង

សិស្សនឹងរកឃើញមូលហេតុដែលនាំឱ្យផែនដីឡើងកម្ដៅ។



### សកម្មភាព

គ្រូ៖ តើប្អូនធ្លាប់ឮអំពីការកើនកម្ដៅនៅលើផែនដីដែរឬទេ?  
 សិស្ស៖ ឆ្លើយថាប្រហែលជាប្រាកដណាស់ (ធ្លាប់/មិនធ្លាប់)។  
 គ្រូ៖ រាល់ឆ្នាំ នៅតំបន់ខ្លះប្រឈមនឹងគ្រោះធម្មជាតិ ដូចជា  
 ជំនន់ទឹកភ្លៀង ធ្លាក់ព្រិលយ៉ាងខ្លាំង រាំងស្ងួតហួសហេតុ។  
 គ្រូ៖ នេះបណ្តាលមកពីសីតុណ្ហភាពមធ្យមរបស់ផែនដី  
 កើនឡើង។ ដូច្នេះ

**សំណួរគន្លឹះ**៖ “តើយើងអាចវាស់រកមើលថាសីតុណ្ហភាពរបស់  
ផែនដីកើនឡើងបានដោយរបៀបណា?”

**សម្ភារ** ទែរម៉ូម៉ែត្រពីរ ចង់ប្លាស្ទិចថ្នាំ (ឬកែវថ្នាំពីរ) កៅស៊ូកង  
ដំណើរការ ពិសោធន៍ផលធ្លុះកញ្ចក់

1. ត្រូវចែកសិស្សជាក្រុមៗ និងសម្ភារដើម្បីដំណើរការពិសោធន៍  
និងពិភាក្សាសំណួរគន្លឹះរបស់គ្រូ។
2. សូមប្រាកដថាទែរម៉ូម៉ែត្រទាំងពីរមានសីតុណ្ហភាពដូចគ្នា។
3. ដាក់ទែរម៉ូម៉ែត្រទីមួយចូលក្នុងចង់ ហើយផ្សំខ្យល់បំពេញចង់  
រួចចង់នេះនឹងកៅស៊ូកងឱ្យជាប់។
4. ជញ្ជូនចង់ផ្ទុកទែរម៉ូម៉ែត្រទីមួយ និងទែរម៉ូម៉ែត្រទីពីរទៅក្រៅ  
ថ្នាក់ ដាក់នៅលើតុ ក្រោមការស្ម័គ្រចិត្ត ហើយកត់ត្រា  
សីតុណ្ហភាពទែរម៉ូម៉ែត្រទាំងពីររាល់មួយនាទីម្តងឱ្យបានប្រាំ  
ដង។ តើអ្នកបានរកឃើញអ្វីខ្លះកើតឡើងលើសីតុណ្ហភាព  
របស់ទែរម៉ូម៉ែត្រទាំងពីរ? ព្រោះអ្វី?
5. អនុវត្តដូចដំណើរការទី៤ ប៉ុន្តែនៅក្នុងបន្ទប់រៀនវិញ។ តើអ្នក  
បានរកឃើញអ្វីខ្លះកើតឡើងលើសីតុណ្ហភាពរបស់ទែរម៉ូម៉ែត្រ  
ទាំងពីរ? ព្រោះអ្វី?
6. ត្រួតប្រៀបលើកទឹកចិត្តសិស្សឱ្យគិត ពិភាក្សា សរសេរដោយ  
សង្ខេប និងបង្ហាញលទ្ធផលពិភាក្សាក្រុមរបស់ពួកគេដើម្បី  
ពន្យល់មូលហេតុដែលនាំឱ្យផែនដីកើនកម្ដៅ។

មេរៀន

## 3

### ការកើនកម្ដៅនៅលើផែនដី

ចប់មេរៀននេះ សិស្សអាច

- រកឃើញមូលហេតុដែលនាំឱ្យផែនដីឡើងកម្ដៅ
- រៀបរាប់បានពីឈ្មោះឧស្ម័នផ្ទះកញ្ចក់
- ផលវិបាកនៃកំណើនផលធ្លុះកញ្ចក់។

ភពផែនដីដ៏ទូរវិញទៅដោយបរិយាកាស សម្រាប់ទ្រទ្រង់ជីវិត នៅលើផែនដីសម្រេចដោយ  
 ឧស្ម័នកាបូនិច (CO<sub>2</sub>) សម្រាប់ធ្វើស្ទើរសំយោគបង្កើតបានឧស្ម័នអុកស៊ីសែន (O<sub>2</sub>) សម្រាប់ដំណកដង្ហើម  
 និងផ្តល់ឧស្ម័នអាសូតនិចល (N<sub>2</sub>) ដែលជួយបន្ថយសកម្មភាពអុកស៊ីតកម្មនៃអុកស៊ីសែន។ បរិយាកាស  
 ក៏ជួយការពារផែនដីដោយស្រូបយកកាំរស្មីគ្រោះថ្នាក់ជាច្រើនដែលហាងដៃ។

#### 1. ចូលទៅក្នុងផែនដីឱ្យគ្រូដឹងពីផែនដីកើនកម្ដៅ

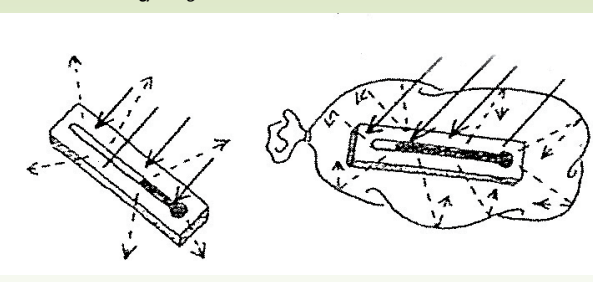
ថាមពលព្រះអាទិត្យដែលចាំងមកលើផែនដីប្រមាណពាក់កណ្តាលត្រូវបានស្រូបចូលទៅក្នុង  
 ផែនដី។ បន្ទាប់មកថាមពលនេះក៏ត្រឡប់ចូលទៅក្នុងលំហវិញក្នុងទម្រង់ជាកាំរស្មីក្រហមអាំងហ្វ្រាដែល  
 មើលមិនឃើញ។ ឧស្ម័នផ្ទះកញ្ចក់ដែលមានពីរចុងនៅក្នុងមណ្ឌលអាកាសរចល់ដូចជា ទឹក ឧស្ម័ន  
 កាបូនិច ឌីអុកស៊ីត អុកស៊ីត មេតាន អូសូន និងជុំវិញអុកស៊ីត។ ឧស្ម័នទាំងនេះស្រូបយកកាំរស្មី  
 ក្រហមអាំងហ្វ្រាមួយភាគដែលរាយចេញពីផែនដី ហើយបញ្ចេញកម្ដៅដែលជាហេតុនាំឱ្យកើនកម្ដៅ  
 នៅក្នុងមណ្ឌលអាកាសរចល់ហើយនៅទីបំផុតផ្ទៃផែនដីក៏កើនកម្ដៅឡើងដែរ។

#### 1.1. ផលធ្លុះកញ្ចក់

ជាការដូចគ្នាឱ្យមានលំនឹងសីតុណ្ហភាពមធ្យមនៃផែនដីនៅត្រឹម 19°C ។ ផលធ្លុះកញ្ចក់  
 មានសារៈសំខាន់ណាស់ក្នុងការធានាលទ្ធផលអាកាសធាតុ ដែលអាចទ្រទ្រង់ជីវិតនៅលើភពផែនដី  
 ឱ្យមានសភាពដូចមុនផងដែរ។ លទ្ធផលនៃបែបនេះគេឱ្យឈ្មោះថា “ឥទ្ធិពលផលធ្លុះកញ្ចក់” (Greenhouse  
 Effect) ។ វាជាពាក្យគួរឱ្យកត់សម្គាល់ដែលមានកម្ដៅផែនដី។ ផ្ទុយទៅវិញប្រសិនបើគ្មានពាក្យគួរឱ្យកត់សម្គាល់  
 ផែនដីត្រូវត្រជាក់ជាងនេះ។

308

### រូបភាពស្រង់ចេញពីសៀវភៅ VSO (ទំព័រទី 379) ឆ្នាំ 2014 “ពិសោធន៍ផលធ្លុះកញ្ចក់”



### ចំណេះដឹងបន្ថែម ៖ ផលធ្លុះកញ្ចក់

ក្នុងចំណោមប្រភេទផ្សេងគ្នានៃកាំរស្មីព្រះអាទិត្យ ដូចជា កាំរស្មីអ៊ុច និងកាំរស្មីគ្រោះថ្នាក់ស្វាយអ៊ុលត្រា ជាដើម មានច្រើនជាង90%  
 ត្រូវបានស្រូបយកដោយស្រទាប់អូសូននៃមណ្ឌលអាកាសស្ងប់។ កាំរស្មីមើលឃើញដូចជា កាំរស្មីក្រហមអាំងហ្វ្រា បានជាលមកដល់  
 ផ្ទៃផែនដីបន្ទាប់ពីវាត្រូវបានទប់ដោយការជះត្រឡប់ទៅវិញ ការសាយភាយ និងការស្រូបនៅក្នុងបរិយាកាស។ ឧស្ម័នមួយដែលមានបរិមាណដ៏  
 តិចតួចបំផុតនៅក្នុងបរិយាកាសបានស្រូបយកថាមពលព្រះអាទិត្យ ហើយធ្វើឱ្យសីតុណ្ហភាពបរិយាកាសកើនឡើង ហៅថា “ឧស្ម័នផ្ទះកញ្ចក់”។  
 ពន្លឺព្រះអាទិត្យប្រហែល 1/3 ដែលបានមកដល់ផែនដីបានជះត្រឡប់ទៅវិញពីផ្ទៃផែនដី និងទៅក្នុងលំហខាងក្រៅ រីឯបរិមាណដែលនៅសល់  
 ត្រូវបានស្រូបយក។ ប្រសិនបើមានការស្រូបបែបនេះកាន់តែច្រើន ធ្វើឱ្យផលធ្លុះកញ្ចក់កើតឡើងកាន់តែច្រើនដែរ។ 99%នៃឧស្ម័នក្នុងបរិយាកាស  
 គឺជា នីត្រូសែន(អាសូត) និងអុកស៊ីសែន ប៉ុន្តែឧស្ម័នទាំងពីរនេះមិនបានបង្ហាញជាផលធ្លុះកញ្ចក់ឡើយ។ ប្រហែល 1% នៃឧស្ម័ននៅសល់ដូចជា  
 ចំហាយទឹក(H<sub>2</sub>O) មេតាន(CH<sub>4</sub>) ឧស្ម័នកាបូនឌីអុកស៊ីត(CO<sub>2</sub>) អូសូន(O<sub>3</sub>) និងអាសូតអុកស៊ីត(N<sub>2</sub>O) សុទ្ធតែជា “ឧស្ម័នផ្ទះកញ្ចក់” ដែលបាន  
 ស្រូបកម្ដៅទុក។ ប្រសិនបើបរិយាកាសផែនដីមិនមានឧស្ម័នផ្ទះកញ្ចក់ទេ នោះសីតុណ្ហភាពរបស់ផែនដីនឹងធ្លាក់ចុះដល់ -18°C។ ដូច្នេះ  
 សូមអរគុណឧស្ម័នផ្ទះកញ្ចក់ ដែលឧស្ម័នទាំងនេះបានធ្វើឱ្យសីតុណ្ហភាពរបស់ផែនដីស្ថិតនៅចន្លោះចាប់ពី +15°C រហូតដល់ -20°C ដែល  
 សីតុណ្ហភាពប៉ុណ្ណោះបានបង្កើតបរិស្ថានសមស្របមួយសម្រាប់ទ្រទ្រង់ជីវិតនៅលើភពផែនដី។

ផែនដីខ្សាច់ ជំពូកទី ៣ មេរៀនទី ៣

1.2. ការកើនឡើងនៃផលជះកញ្ចក់

ប្រសិនបើកំហាប់នៃឧស្ម័នផ្ទះកញ្ចក់ក្នុងមណ្ឌលអាកាសរថលកើនឡើងនោះ ការស្លឹក្រហមអាំងត្រាដែលវាយចេញពីក្នុងដីចូលទៅក្នុងបរិយាកាសវិញមានចំនួនតិចតួចជាងមុន។ បាតុភូតនេះ គេឱ្យឈ្មោះថា "កំណើនផលជះកញ្ចក់" (The Enhanced Greenhouse Effect) ។ កំណើនយ៉ាងនាំបរិសុទ្ធនៃការអភិវឌ្ឍន៍ប្រព័ន្ធដីក្រហមអាំងត្រា ចរាចរណ៍មមាញឹក ការប្រើប្រាស់ឥន្ធនៈមានសារធាតុបំពុលកំណើននៃការប្រើប្រាស់ថាមពលរួមនិងច្បាប់បរិស្ថានពុំខានមានប្រមូលផ្តុំនៅមានកម្រិតទាប កត្តាទាំងនេះបានរួមចំណែកធ្វើឱ្យអត្រាឧស្ម័នផ្ទះកញ្ចក់កើនឡើងនៅក្នុងមណ្ឌលអាកាសរថលកើនឡើងពីកម្រិតធម្មជាតិ។ បញ្ហានេះបង្កឱ្យមានការថយចុះនៃវិសាលភាពស្រែក្រហមអាំងត្រា ជាហេតុនាំឱ្យកើនឡើងលើពិភពលោកប្រមាណពី ០.3 ទៅ ០.6°C ក្នុងរយៈពេលមួយទសវត្សរ៍កន្លងទៅ។ ប្រសិនបើការបញ្ចេញឧស្ម័នផ្ទះកញ្ចក់ពីសកម្មភាពមនុស្សនៅតែបន្តទៀត កំណើនកម្រិតលើពិភពលោកនឹងរឹតតែមានអត្រាខ្ពស់ថែមទៀត ហើយនឹងឈានទៅដល់កម្រិតកម្រៅមួយដែលមិនធ្លាប់មានក្នុងប្រវត្តិសាស្ត្រមនុស្សជាតិពីមុនមក។ ភស្តុតាងនៃវិទ្យាសាស្ត្រជាច្រើនបានបង្ហាញថាកំហាប់ឧស្ម័នផ្ទះកញ្ចក់នៅក្នុងមណ្ឌលអាកាសរថលបានកើនឡើងយ៉ាងច្រើន នៅពេលមានកំណើនឧស្ម័នស្វាហកម្មនិងការកាប់ឆ្ការព្រៃយកដីសម្រាប់សង់លំនៅដ្ឋាននិងធ្វើកសិកម្ម។ បច្ចុប្បន្ន គេបានសម្គាល់ឃើញថាកំហាប់ឧស្ម័នផ្ទះកញ្ចក់ពីរបបបានកើនឡើងលើសកម្រិតដែលមិនធ្លាប់មានពីមុនគឺ កាបូនឌីអុកស៊ីត (CO) និងមេតាន (CH<sub>4</sub>) ។

2. ឧស្ម័នផ្ទះកញ្ចក់

ឧស្ម័នផ្ទះកញ្ចក់សំខាន់ៗមានដូចជា ឧស្ម័នកាបូនិច (CO<sub>2</sub>) មេតាន (CH<sub>4</sub>) អាសូតម៉ូណូអុកស៊ីត (NO) និងឧស្ម័នក្លរូអ៊ីដ្រូកាបូន (CFC) ។ នៅពេលដែលឧស្ម័នផ្ទះកញ្ចក់ចាប់កម្រិតនៅក្បែរផែនដីអុកស៊ីត្យាសាស្ត្រគិតថា ឧស្ម័នផ្ទះកញ្ចក់នៅក្នុងបរិយាកាសនឹងធ្វើឱ្យផែនដីក្តៅឡើងកម្រៅ។ នៅពេលដែលកម្រិតមួយចំនួននៃឧស្ម័នកាបូនិចមានសមត្ថភាពស្រូបយកកម្រៅបានមកពីវិសាលភាពស្មើខ្សោយនោះវាបានធ្វើឱ្យកម្រៅដែលវាយចេញពីផែនដីមួយចំនួនទៅបំផ្លាញស្រទាប់អូសូននិងមួយចំនួនទៀតត្រឡប់មកផែនដីវិញ។ មូលហេតុទាំងនេះហើយដែលនាំឱ្យផែនដីកើនឡើង។

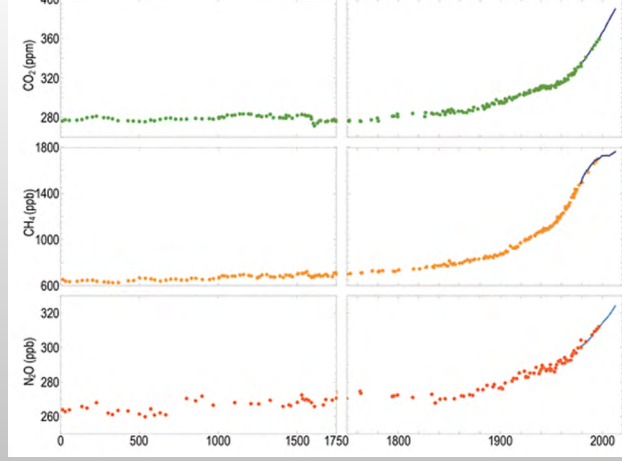
309

**សកម្មភាព**  
សិស្សនឹងពន្យល់ពីដំណើរការកំណើនផលជះកញ្ចក់។

**សកម្មភាព**  
សំណួរគន្លឹះ: "តើផលជះកញ្ចក់កើនឡើងដោយរបៀបណា?"  
សម្ភារ រូបភាពរថយន្តបិទកញ្ចក់ជិតទុកចោលហាលថ្ងៃ  
ដំណើរការ  
1. ត្រូវចែកសិស្សជាក្រុមៗ  
2. ត្រូវចែករូបភាពរថយន្តបិទកញ្ចក់ជិតទុកចោលហាលថ្ងៃ ដើម្បីពិភាក្សាដំណើរការកំណើនផលជះកញ្ចក់។  
3. ត្រូវត្រួតពិនិត្យលើកម្រិតសិស្សឱ្យគិត ពិភាក្សាតាមសំណួរគន្លឹះរបស់គ្រូ សរសេរការពណ៌នាសង្ខេប និងបង្ហាញលទ្ធផលពិភាក្សាក្រុមរបស់ពួកគេអំពីដំណើរការកើនឡើងនៃផលជះកញ្ចក់។  
សេចក្តីសន្និដ្ឋាន  
ពន្លឺព្រះអាទិត្យចាំងចូលក្នុងឡានតាមកញ្ចក់បង្អួច។ កៅអីក្នុងឡានស្រូបយកថាមពលកាំរស្មីព្រះអាទិត្យ ហើយបំប្លែងឱ្យទៅជាថាមពលកម្រៅ។ បន្ទាប់មក កម្រៅត្រូវបានស្តូកទុកនៅក្នុងឡាន។ បរិយាកាសរបស់ផែនដីក៏ដើរតួដូចកញ្ចក់បង្អួចឡានដូច្នោះដែរ។

**ចំណេះដឹងបន្ថែម ៖ ក្រាបនៃកំណើនកំហាប់ឧស្ម័នផ្ទះកញ្ចក់**

ក្រាបខាងក្រោមនេះបង្ហាញពីបំរែបំរួលនៃកំហាប់ឧស្ម័នកាបូនឌីអុកស៊ីតក្នុងរយៈពេល 2 000ឆ្នាំចុងក្រោយនេះ។ កំហាប់ឧស្ម័នកាបូនឌីអុកស៊ីតបានចាប់ផ្តើមកើនឡើងនៅពាក់កណ្តាលសតវត្សរ៍ទី18 ។ កំហាប់នេះបានកើនឡើងយ៉ាងគំហុកថែមទៀតនៅអំឡុងពេលទសវត្សរ៍ថ្មីៗនេះ។ ការកើនឡើងនេះបណ្តាលមកពីមនុស្សប្រើប្រាស់ឥន្ធនៈផូស៊ីលច្រើនហួសហេតុ។ ឧស្ម័នផ្ទះកញ្ចក់ផ្សេងទៀតក៏បានកើនឡើងផងដែរតាំងពីពាក់កណ្តាលសតវត្សរ៍ទី18 ដូចគ្នា។ (សូមអានចំណេះដឹងបន្ថែមទំព័រទី 81 ដល់ទី 82 និងទំព័រទី 84 នៃមេរៀននេះ)។



កំណើនប្រចាំឆ្នាំនៃកំហាប់ឧស្ម័នផ្ទះកញ្ចក់ (ដកស្រង់ចេញពីភ្នាក់ងារឧតុកូតរិទ្យានៃប្រទេសជប៉ុន អេចភី)

សំគាល់ ៖  
ppm=part per million ក្នុង 1m<sup>3</sup> ខ្យល់  
ppb=part per billion ក្នុង 1m<sup>3</sup> ខ្យល់  
ឧទាហរណ៍ ៖ CO<sub>2</sub> មានកំហាប់ 280ppm មានន័យថា នៅក្នុងមាឌខ្យល់ 1m<sup>3</sup> ឬ (100cm x 100cm x 100cm) មាន CO<sub>2</sub> ចំនួន 280parts។

**វត្តបំណង**  
សិស្សនឹងពណ៌នាពីប្រភេទឧស្ម័នផ្ទះកញ្ចក់ និងផលវិបាកនៃ  
កំណើនឧស្ម័នផ្ទះកញ្ចក់។

**សកម្មភាព**

**សំណួរគន្លឹះ:** “យើងនាំគ្នាកំណត់អត្តសញ្ញាណតំបន់ដែលតែងតែ  
រងគ្រោះដោយសារជម្ងឺគ្រុនចាញ់ និងជម្ងឺគ្រុនឈាម!”

**សម្ភារៈ** ផែនទីពិភពលោកទំព័រទី 83 នៃមេរៀននេះ

**ដំណើរការ**

1. គ្រូចែកសម្ភារដល់ក្រុមសិស្ស ដើម្បីពិភាក្សាតាមសំណួរគន្លឹះ  
របស់គ្រូ សរសេរការពណ៌នាសង្ខេប និងបង្ហាញលទ្ធផល  
ពិភាក្សាក្រុមរបស់ពួកគេអំពីសីតុណ្ហភាពនៅលើផែនទី  
ពិភពលោក និងផលវិបាកដែលកើតឡើងនៅលើតំបន់  
ទាំងនោះ។
2. គ្រូតប្រើពន្យល់សិស្សថាការកើនកម្ដៅនៅលើផែនដីបណ្តាលឱ្យ  
មានផលវិបាកជាច្រើន។ ផលវិបាកមួយ គឺការរាលដាលជម្ងឺ  
គ្រុនចាញ់ ដូចជា ជម្ងឺគ្រុនចាញ់ និងជម្ងឺគ្រុនឈាម។ ជម្ងឺទាំងពីរ  
នេះបានឆ្លងតាមរយៈមូសដៃក្រោល និងមូសខ្លា។ តំបន់  
ទាំងនេះមានសីតុណ្ហភាពអតិបរមានៅកន្លែងដែលពួកមូស  
ទាំងនេះរស់នៅ និងបង្កាត់ពូជ។

ឧស្ម័នផ្ទះកញ្ចក់	អត្រាប្រែប្រួល ក្នុងមួយឆ្នាំ	ប្រភពចម្បង
កាបូនឌីអុកស៊ីត (CO <sub>2</sub> )	0.50%	ច្បាប់ ប្រេង ឧស្ម័នធម្មជាតិ ការចម្លងព្រៃឈើ
មេតាន (CH <sub>4</sub> )	0.90%	ដីសើម ស្រូវ ឥន្ធនៈផ្សស៊ីល និងបសុសត្វ
អាសូតម៉ូណូអុកស៊ីត (NO)	0.25%	ជីគីមី ផ្សស៊ីលឥន្ធនៈ និងការបំផ្លាញព្រៃឈើ
ក្លរូផ្លុយអូរូកាបូន (CFC <sub>s</sub> )	8.00%	កៅស៊ូ ល្អិតចម្រើនណែនក្នុងខ្យល់ ឧបករណ៍ធ្វើ ឱ្យគ្រឿង និងឧបករណ៍វិលាយរៀងៗ ។

**3. ផលវិបាកនៃកំណើនឧស្ម័នផ្ទះកញ្ចក់**

អ្នកវិទ្យាសាស្ត្របានកត់ត្រានិងតាមដានរួចធ្វើការបញ្ជាក់ថា សីតុណ្ហភាពមធ្យមលើភពផែនដី  
បានកើនឡើងប្រមាណ 0.3 ទៅ 0.6°C ក្នុងរយៈពេលមួយសតវត្សមុននេះ។ ប៉ុន្តែអ្នកវិទ្យាសាស្ត្រនៅ  
មិនទាន់អាចសន្និដ្ឋានថា តើកំណើនកម្ដៅនេះកើតឡើងពីកំណើនកម្ដៅដែលផ្ទះកញ្ចក់ឬក៏ដោយ  
សារការប្រែប្រួលធម្មជាតិទៅទៀតទេ។ ប៉ុន្តែភស្តុតាងនៃទំនាក់ទំនងរវាងឧស្ម័នផ្ទះកញ្ចក់ទៅនឹងការ  
ប្រែប្រួលអាកាសធាតុកាន់តែច្បាញឱ្យឃើញច្បាស់ជាពេលបច្ចុប្បន្ន។ កត្តាទាំងនេះបណ្តាលមកពី  
អត្រានៃការបញ្ចេញសំណល់ឧស្ម័នដែលជាអនុគមន៍នៃកំណើនប្រជាជន កំណើនសេដ្ឋកិច្ចនិងការ  
វិភាគច្រើនខាងផ្នែកបច្ចេកទេសវិទ្យាសាស្ត្រដែរ។ កត្តាទាំងអស់ខាងលើនេះជាមូលហេតុនាំឱ្យមានការ  
លំបាកបំផ្លាញប្រមាណនៃការប្រែប្រួលអាកាសធាតុដែលអាចនឹងកើតឡើងនាពេលខាងមុខដើម្បីក  
វិធានការការពារនិងដោះស្រាយឱ្យបានទាន់ពេលវេលា។

**4. វិធីកាត់បន្ថយការកើនកម្ដៅនៃផែនដី**

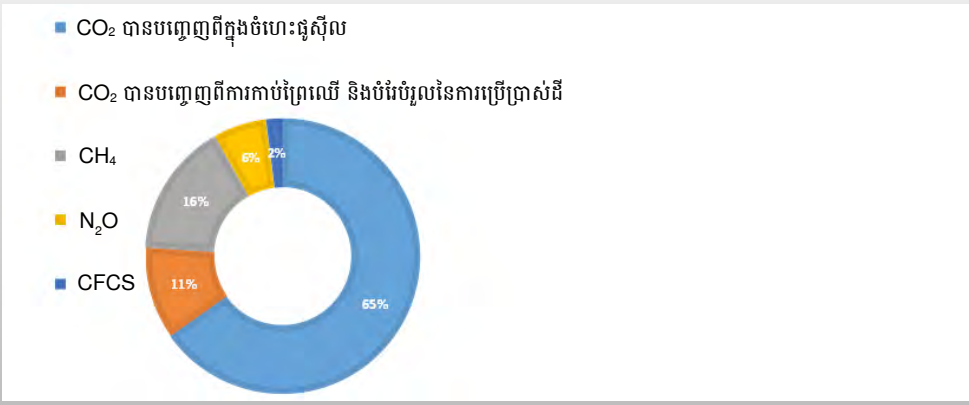
យើងទាំងអស់គ្នាដែលរស់រានមានជីវិតនៅលើភពផែនដីត្រូវតែ ៖

- កាត់បន្ថយការប្រើប្រាស់ឥន្ធនៈផ្សស៊ីល ព្រោះវាធ្វើឱ្យមានកាបូនឌីអុកស៊ីតកាយចេញទៅក្នុង  
បរិយាកាស។

310

**ចំណេះដឹងបន្ថែម ៖ ប្រភេទឧស្ម័នផ្ទះកញ្ចក់**

សកម្មភាពមនុស្សជាមូលហេតុធ្វើឱ្យឧស្ម័នផ្ទះកញ្ចក់សំខាន់ៗ ដូចជា ឧស្ម័នកាបូនឌីអុកស៊ីត មេតាន នីត្រូសែនអុកស៊ីត និងហ្សេអុមុង  
(សារធាតុមេត្រដាក់ដូចក្លរូផ្លុយអូរូកាបូន CFCs) កើនឡើង។ កាបូនឌីអុកស៊ីតឬឧស្ម័នកាបូនិច(CO<sub>2</sub>) ជាឧស្ម័នផ្ទះកញ្ចក់ទីមួយ បានបង្កផល  
វិបាកខ្លាំងជាងគេដល់ការកើនកម្ដៅនៅលើផែនដី។ បរិមាណដ៏ច្រើននៃកាបូនឌីអុកស៊ីតត្រូវបានបញ្ចេញទៅក្នុងបរិយាកាសតាមរយៈមនុស្ស  
ប្រើប្រាស់ឥន្ធនៈផ្សស៊ីល។ លើសពីនេះ ព្រៃឈើដែលដើរតួយ៉ាងសំខាន់ក្នុងការស្រូបយកកាបូនឌីអុកស៊ីតត្រូវបានកាប់យកមកប្រើប្រាស់យ៉ាង  
ច្រើន។ ជាលទ្ធផល សកម្មភាពទាំងនេះបានធ្វើឱ្យកំហាប់កាបូនឌីអុកស៊ីតនៅក្នុងបរិយាកាសកើនឡើងជារៀងរាល់ឆ្នាំ។ បន្ទាប់ពី កាបូនឌី  
អុកស៊ីត មេតានក៏ជាឧស្ម័នផ្ទះកញ្ចក់ដែលធ្វើឱ្យផែនដីកើនកម្ដៅផងដែរ។ ឧស្ម័នមេតានមានផ្ទុកនៅក្នុងខ្យល់សំណល់សត្វ។ លើសពីនេះ  
ឧស្ម័ននេះកើតឡើងក្នុងធម្មជាតិក្នុងទម្រង់ជាឧស្ម័នធម្មជាតិ។



ផែនការវិទ្យុ ជំពូកទី ៣ មេរៀនទី ៣

- ត្រូវដើរដើមឈើឱ្យបានច្រើននិងការពារព្រៃឈើដែលមានស្រាប់នៅលើផែនដីឱ្យបានគង់វង្ស ព្រោះដើមឈើបានជួយស្រូបយកកាបូនឌីអុកស៊ីតដែលមនុស្សបានបញ្ចេញចោលទៅក្នុង បរិយាកាសផែនដី ។
- ការគ្រប់គ្រងសំណល់ឧស្ម័នកាបូនិចនៅកន្លែងផ្សេងៗក្រៅពីបរិយាកាសដូចជា មហាសមុទ្រ តាម ដង្ហើមទឹកជ្រៅនៅក្រោមដីនិងតាមអណ្តូងប្រេងកាតនិងអណ្តូងឧស្ម័នធម្មជាតិដែលគេបោះបង់ ចោល ។
- ប្រើប្រាស់វត្ថុធាតុផ្សេងៗដែលមិនបង្កគ្រោះថ្នាក់ចំពោះបរិស្ថានសម្រាប់ជំនួសឥន្ធនៈផ្លុស៊ីល ដើម្បីបន្ថយបរិមាណកាបូនឌីអុកស៊ីតក្នុងបរិយាកាសនិងបញ្ឈប់ការកើនកម្ដៅនៅលើផែនដី ។

**មេរៀនសង្ខេប**

- ការស្នើសុំដែលភាយចេញពីផែនដីមានឈ្មោះថា ការស្នើក្រហមអាំងប្រា ។ ការស្នើនេះមិនអាចឆ្លង កាត់បរិយាកាសចូលទៅក្នុងលំហបានឡើយ ។ គេឃើញមានឧស្ម័នកាបូនឌីអុកស៊ីតនិងឧស្ម័ន ផ្សេងៗទៀតដែលមាននៅក្នុងបរិយាកាសស្រូបយកការស្នើក្រហមអាំងប្រានេះបង្កើតបានជា កម្ដៅព័ទ្ធជុំវិញភពផែនដី ។ លំនាំបែបនេះគេឱ្យឈ្មោះថា ផលផ្ទះកញ្ចក់ ។ ឧស្ម័នផលផ្ទះ កញ្ចក់សំខាន់ៗមានដូចជា ឧស្ម័នកាបូនិច (CO<sub>2</sub>) មេតាន (CH<sub>4</sub>) អាសូតម៉ូណូអុកស៊ីត (NO) ។ ការប្រើប្រាស់ផ្លុស៊ីលឥន្ធនៈ ការកាប់បំផ្លាញព្រៃឈើ កំណើនប្រជាជន កំណើន សេដ្ឋកិច្ច និងការវិភាគប្រើប្រាស់ប្រេងកាត ជាហេតុនាំឱ្យកាបូនឌីអុកស៊ីតកើនយ៉ាងរហ័សនៅក្នុង បរិយាកាសផែនដីដើមហេតុនាំឱ្យមានការកើនកម្ដៅឡើងនៅលើភពផែនដីយើងនេះ ។

**សំណួរ**

1. ចូរឱ្យនិយមន័យផលផ្ទះកញ្ចក់ ។
2. ចូររាប់ឈ្មោះនិងសរសេររូបមន្តនៃឧស្ម័នផ្ទះកញ្ចក់ ។
3. តើកត្តាអ្វីខ្លះដែលនាំឱ្យមានការកើនកម្ដៅនៅលើភពផែនដី ?
4. តើយើងទាំងអស់គ្នាមានវិធានការអ្វីខ្លះដើម្បីកាត់បន្ថយការកើនកម្ដៅនៅលើភពផែនដី ?
5. ដើម្បីការពារប្រភពទឹកកុំឱ្យមានការបំពុល យើងត្រូវធ្វើដូចម្តេចខ្លះ?

**វត្ថុបំណង**  
សិស្សនឹងរកឃើញវិធីកាត់បន្ថយការកើនកម្ដៅនៅលើផែនដី។

**សកម្មភាព**  
សំណួរគន្លឹះ: “តើមានវិធីអ្វីខ្លះអាចជួយកាត់បន្ថយការកើនកម្ដៅ នៅលើផែនដីបាន?”

**ដំណើរការ**

1. ត្រូវចែកសិស្សជាក្រុមតូច ហើយពិភាក្សាសំណួរគន្លឹះរបស់គ្រូ ដើម្បីរកឱ្យឃើញវិធីកាត់បន្ថយការកើនកម្ដៅនៅលើផែនដី។
2. បន្ទាប់ពីក្រុមនីមួយៗបានពិភាក្សា គ្រូត្រូវនាំសិស្សសរសេរ និងបង្ហាញខ្លឹមសារសង្ខេបអំពីវិធីកាត់បន្ថយការកើនកម្ដៅនៅ លើផែនដី។

**ចម្លើយសំណួរ**

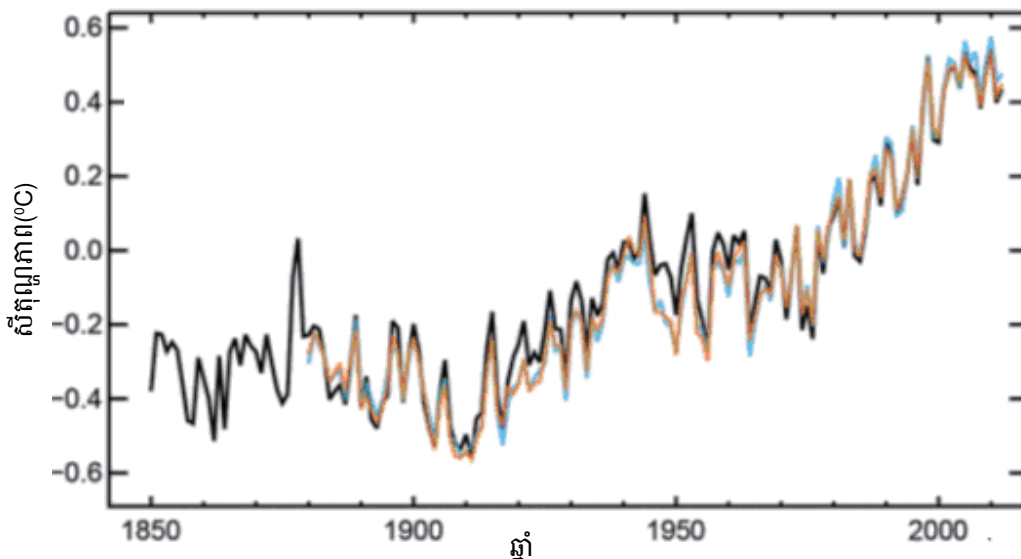
1. ការស្នើក្រហមអាំងប្រាបានភាយចេញពីផែនដី ប៉ុន្តែវាមិនអាចឆ្លងកាត់បរិយាកាសចូលទៅក្នុងលំហបានឡើយ។ ឧស្ម័នកាបូនឌីអុកស៊ីត និងឧស្ម័នផ្សេងៗទៀតដែលមាននៅក្នុងបរិយាកាសត្រូវបានស្រូបយកដោយការស្នើក្រហមអាំងប្រា ហើយបង្កើតបានជាកម្ដៅ ព័ទ្ធជុំវិញភពផែនដី។ លំនាំបែបនេះគេឱ្យឈ្មោះថា ផលផ្ទះកញ្ចក់។
2. ឈ្មោះ និងរូបមន្តនៃឧស្ម័នផ្ទះកញ្ចក់ ៖ ឧស្ម័នកាបូនឌីអុកស៊ីត ឬឧស្ម័នកាបូនិច (CO<sub>2</sub>) មេតាន (CH<sub>4</sub>) កាបូនម៉ូណូអុកស៊ីត (CO) អាសូតម៉ូណូអុកស៊ីត (NO) និង ប្រូហ្វង់ (CH<sub>3</sub>CCl<sub>2</sub>F)។
3. កត្តាដែលនាំឱ្យមានការកើនកម្ដៅនៅលើភពផែនដីគឺ មនុស្ស និងធម្មជាតិ។
4. វិធានការដើម្បីកាត់បន្ថយការកើនកម្ដៅនៅលើភពផែនដី ៖
  - មិនត្រូវប្រើប្រាស់ខ្លះខ្លាយឥន្ធនៈផ្លុស៊ីល ព្រោះវាធ្វើឱ្យមានឧស្ម័នកាបូនឌីអុកស៊ីតច្រើនភាយចេញទៅក្នុងបរិយាកាស។
  - ដាំដើមឈើឱ្យបានច្រើន និងការពារព្រៃឈើដែលមានស្រាប់នៅលើផែនដីឱ្យបានគង់វង្ស ព្រោះដើមឈើបានជួយស្រូបយកឧស្ម័នកា បូនឌីអុកស៊ីតដែលមនុស្សបានបញ្ចេញមកក្នុងបរិយាកាសផែនដី។
  - គ្រប់គ្រងសំណល់ឧស្ម័នកាបូនិចនៅកន្លែងផ្សេងៗក្រៅពីបរិយាកាស ដូចជា មហាសមុទ្រ ដង្ហើមទឹកជ្រៅ អណ្តូងប្រេងកាត និង អណ្តូងឧស្ម័នធម្មជាតិដែលគេបោះបង់ចោល។
5. ដើម្បីការពារប្រភពទឹកកុំឱ្យមានការបំពុល យើងត្រូវតែ ៖
  - កុំបោះចោលសំណល់គីមីចូលទៅក្នុងទឹក។
  - ប្រើប្រាស់សាប៊ូឱ្យបានតិចបំផុតក្នុងការបោកឥដ្ឋ និងដុសលាង។
  - ដំឡើងបន្ទប់ប្រព្រឹត្តិកម្មទឹកនៅក្នុងបង្គន់ឬបន្ទប់មុជទឹក។

## ចំណេះដឹងបន្ថែម

### ចំណេះដឹងបន្ថែម ៖ បំរែបំរួលអាកាសធាតុពិភពលោក

ក្រាបខាងក្រោម (ស្រង់ចេញពីភ្នាក់ងារឧតុកូតរិទ្យានៃប្រទេសជប៉ុន [Japan Meteorological Agency]) បង្ហាញយ៉ាងជាក់ច្បាស់ថាសីតុណ្ហភាពកើនឡើង ហើយផែនដីបានកើនកម្ដៅចាប់តាំងពីពាក់កណ្ដាលសតវត្សរ៍ទី18មក។

ក្រាបបំរែបំរួលសីតុណ្ហភាពខ្យល់ពិភពលោកមធ្យមប្រចាំឆ្នាំ



### ចំណាំ ៖

- បន្ទាត់ពណ៌ខ្មៅ ៖ កំណត់ត្រារបស់ HadCRUT4 (Collaborative product of Met Office Hadley Center and Climate Research Unit at the University of East Anglia England)
- បន្ទាត់ពណ៌ទឹកក្រូច ៖ កំណត់ត្រារបស់ MLOST (Merged LandOcean Surface Temperature សីតុណ្ហភាពដី និងផ្ទៃសមុទ្រ ដែលវិភាគដោយមន្ទីររដ្ឋបាលបរិយាកាស និងមហាសមុទ្រជាតិនៃសហរដ្ឋអាមេរិច)
- បន្ទាត់ពណ៌ខៀវ ៖ កំណត់ត្រារបស់ GISS (Goddard Institute for Space Studies USA) បំរែបំរួលចែងស្តង់ដារនៃសីតុណ្ហភាពមធ្យមនៅចន្លោះឆ្នាំ1961 ដល់ឆ្នាំ1990។

**ចំណេះដឹងបន្ថែម ៖ តើការកើនកម្ដៅនៅលើពិភពលោកពិតជាបានកើនឡើងដោយសារមនុស្សមែនឬ?**

ទោះបីជាយើងព្រួយបារម្ភអំពីការកើនកម្ដៅនៅលើផែនដីក៏ដោយ ធាតុអាកាសមិនមែនតែងតែក្ដៅរហូតនោះឡើយ មានពេលខ្លះវាក៏ត្រជាក់ខ្លាំងណាស់ដែរ។ ឧទាហរណ៍ ក្នុងឆ្នាំ២០១៤ សហរដ្ឋអាមេរិចបានប្រឈមនឹងរលកត្រជាក់ដ៏មួយធំដែលបានធ្វើឱ្យទឹកជ្រោះ Niagara កក។ ឧទាហរណ៍មួយទៀតបានបង្ហាញថា ទីក្រុងតែរនៃប្រទេសអេហ្ស៊ីបបានទទួលរងការធ្លាក់ព្រិលបន្ទាប់ពីអវត្តមានព្រិលធ្លាក់អស់រយៈពេល ១០០ឆ្នាំមកហើយ។ ហេតុអ្វីបានជាធាតុអាកាសត្រជាក់ដូចនេះ? តើផែនដីមិនត្រូវប្រឈមនឹងការកើនកម្ដៅមែនឬ? និយាយជាទូទៅ ការកើនកម្ដៅនៅលើផែនដីបានបង្កឡើងដោយឧស្ម័នកាបូនឌីអុកស៊ីត។ បណ្ដាប្រទេសជាច្រើនបានព្យាយាមបំផុតក្នុងការកាត់បន្ថយកំហាប់ឧស្ម័នកាបូនឌីអុកស៊ីតដោយការប្រើប្រាស់ម៉ាស៊ីនត្រជាក់ និងម៉ាស៊ីនកម្ដៅប្រភេទអេកូ (ប្រភេទសន្សំសំចៃ និងការពារការកើនកម្ដៅផែនដី)។ នៅក្នុងយុទ្ធនាការយោសនាប៊ីសត្រជាក់និងក្ដៅ (Cool and Warm Biz Campaign) បណ្ដាប្រទេសទាំងនោះបានចំណាយថវិកាយ៉ាងច្រើនដើម្បីរៀបចំម៉ាស៊ីនប្រភេទអេកូ (ម៉ាស៊ីនប្រភេទអេកូប្រើប្រាស់អគ្គិសនីប្រេងតិច) បើទោះបីជាម៉ាស៊ីនប្រភេទទាំងនេះមានតំលៃថ្លៃក៏ដោយ។ នេះគឺដោយសារតែវាជាកិច្ចការល្អនិងចាំបាច់សម្រាប់អនាគតនៃផែនដីបរិស្ថានល្អ និងមនុស្សជំនាន់ក្រោយរបស់យើង។

នៅឆ្នាំ១៩៨៨ នៅសហរដ្ឋអាមេរិច លោក ជេ ហានសិន (J.Hansen) បានលើកឡើងជាលើកដំបូងអំពីបញ្ហាកំណើនកម្ដៅនៅលើផែនដី ដែលថា ៖

1. ការកើនកម្ដៅនៅលើផែនដីបានបង្កឡើងដោយមនុស្សដោយសារបានបញ្ចេញឧស្ម័នកាបូនឌីអុកស៊ីត។
2. ប្រសិនបើការកើនកម្ដៅនៅលើផែនដីនៅតែបន្ត នោះវានឹងធ្វើឱ្យកម្រិតទឹកសមុទ្រស្រកចុះ ហើយធាតុអាកាសមិនប្រក្រតីនឹងកើតឡើងដែលជាលទ្ធផលដល់ការរងឥទ្ធិពលធ្ងន់ធ្ងរមកលើផែនដីទាំងមូល។

ផ្អែកលើការពណ៌នាពីខាងដើម ការពិតស៊ីតុណ្ហភាពបានកើនឡើងចាប់តាំងពីឆ្នាំ១៨៥០ មកម៉្លេះ។ ទោះជាដូច្នោះក៏ដោយ មនុស្សជាច្រើនបានដាក់ការសង្ស័យជាច្រើន។ ឧទាហរណ៍ បាតុភូតនៃការកើនកម្ដៅនៅលើផែនដីមិនមានភស្តុតាងផ្នែកបរិមាណវិស័យ (ចំនួន) គ្រប់គ្រាន់យកមកអះអាងបញ្ជាក់។ ការកើនកម្ដៅនៅលើផែនដីអាចបង្កឡើងដោយឥទ្ធិពលធម្មជាតិ ដូចជា សកម្មភាពរបស់ព្រះអាទិត្យ និងបន្ទះភ្នំភ្លើង ជាដើម ជាងការផលិតឧស្ម័នកាបូនដោយមនុស្ស។ ម៉្យាងទៀត ឧស្ម័នកាបូនដែលបញ្ចេញដោយមនុស្សមិនមែនជាមូលហេតុសំខាន់នៃការកើនកម្ដៅនៅលើផែនដីឡើយ។ ដូច្នេះ វាមានចំណុចដែលអាចចោទជាបញ្ហាជាច្រើនដែលនៅសេសសល់។

ឧទាហរណ៍ ៖ ការនិយាយចេញរបស់អ្នកវិទ្យាសាស្ត្រ “ច្រកអាកាសធាតុ” “ល្បិចធម្មជាតិរបស់ម៉ែយ”

‘Climate gate’ scientist speaks out “Mike’s Nature trick”

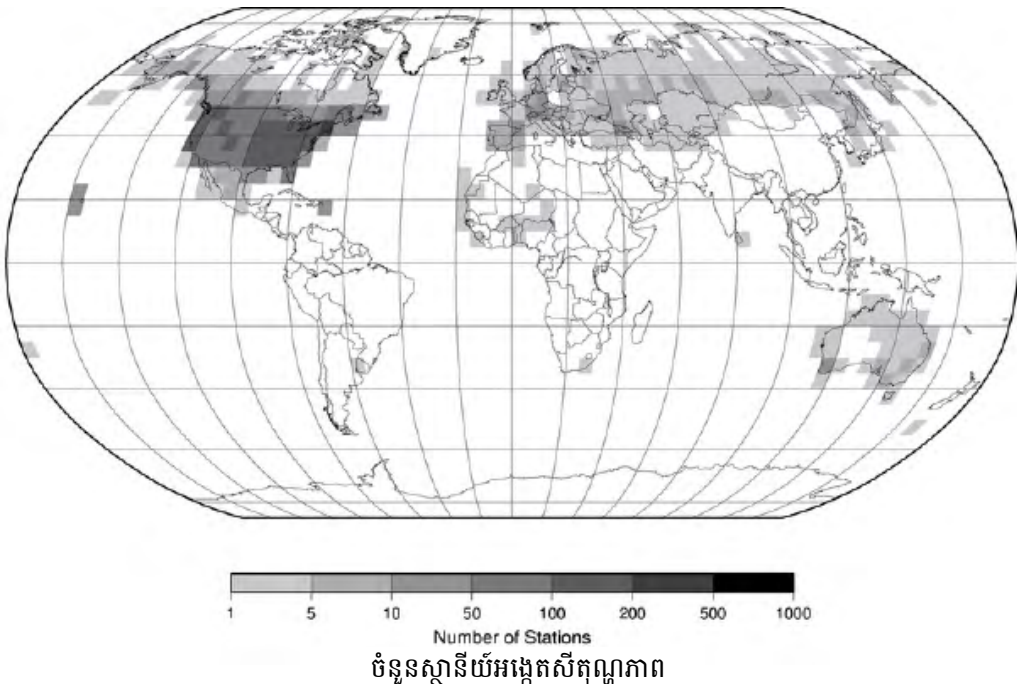
<http://www.nature.com/news/2010/100215/full/news.2010.71.html>

**ចំណេះដឹងបន្ថែម ៖ កំណើនសីតុណ្ហភាពចាប់តាំងពីឆ្នាំ១៨៥០ មិនអាចជឿបានឡើយ**

ចាប់ពីឆ្នាំ១៩២១ ដល់ឆ្នាំ១៩៥០ បណ្តាទឹកនៃដីដែលគួរនៅក្នុងរូបភាពខាងក្រោមត្រូវបានអង្កេត និងកត់ត្រាសីតុណ្ហភាពជារៀងរាល់ថ្ងៃ។ នៅក្នុងរូបភាពខាងក្រោម វាបង្ហាញពីស្ថានីយ៍អង្កេតដែលមានស្រាប់ ដែលស្ថិតនៅក្នុងទ្វីបអាមេរិចខាងជើង ទ្វីបអឺរ៉ុប ទ្វីបអូស្ត្រាលី និងស្ថានីយ៍មួយចំនួនទៀតនៅក្នុងបណ្តាប្រទេសក្រោមអាណានិគម។ ទោះជាយ៉ាងណាក៏ដោយ មានស្ថានីយ៍អង្កេតមួយចំនួនដែលមានស្រាប់ផ្សេងទៀតនៅក្នុងទ្វីបអាមេរិចខាងត្បូង ទ្វីបអាហ្វ្រិច និងទ្វីបអាស៊ី។ នៅក្នុងទ្វីបអាស៊ី មានតែប្រទេសជប៉ុន និងប្រទេសក្រោមអាណានិគមជប៉ុន ដូចជា ប្រទេសកូរ៉េ ប៉ុណ្ណោះដែលមានស្ថានីយ៍អង្កេត។ នេះមានន័យថាទិន្នន័យនៃសីតុណ្ហភាពគឺមានតម្លៃខ្លាំងណាស់។

មកដល់បច្ចុប្បន្ននេះ ភាគច្រើននៃស្ថានីយ៍អង្កេតទាំងនោះបានក្លាយទៅជាទីក្រុងដែលមានមនុស្សច្រើនជាង១០លាននាក់កំពុងរស់នៅ ដែលមានន័យថាតំបន់ទាំងនោះរងឥទ្ធិពលបាតុភូតកក្តៅកោះ (Heat Island Phenomenon)។ ទីក្រុងតូក្យូជាទីក្រុងមួយដែលបានរងឥទ្ធិពលបាតុភូតនេះ ដែលសីតុណ្ហភាពទីក្រុងនេះបានកើនឡើងច្រើនជាង ៣°C នៅអំឡុងពេល១០០ឆ្នាំនេះ។ ដូច្នេះ គេមិនអាចកំណត់បានឡើយថា កំណើនសីតុណ្ហភាពនៅក្នុងបណ្តាទីក្រុងធំបណ្តាលមកពីកត្តាមនុស្សឬកត្តាធម្មជាតិ និងដែលនាំឱ្យមានកំណើនកក្តៅនៅលើផែនដី។ ហេតុដូច្នេះ វាពិតជាពិបាកខ្លាំងណាស់ក្នុងការស្វែងរកទឹកនៃដីដែលមិនមានរងឥទ្ធិពលកត្តាមនុស្សដើម្បីវាស់សីតុណ្ហភាពក្នុងរយៈពេលវែង។

**បណ្តាប្រទេស និងទីក្រុងនៅលើពិភពលោកដែលមានស្ថានីយ៍អង្កេតសីតុណ្ហភាព**



(ស្រង់ចេញពី អេចជីកីនៃមជ្ឈមណ្ឌលទិន្នន័យអាកាសធាតុជាតិ [HP of National Climatic Data Center])  
<http://www.ncdc.noaa.gov/oa/climate/ghcn-daily/index.php?name=quality>

**ចំណេះដឹងបន្ថែម ៖ នៅក្នុងប្រវត្តិរបស់ផែនដីមានរយៈពេលអាកាសធាតុក្តៅជាងអាកាសធាតុធម្មតា**

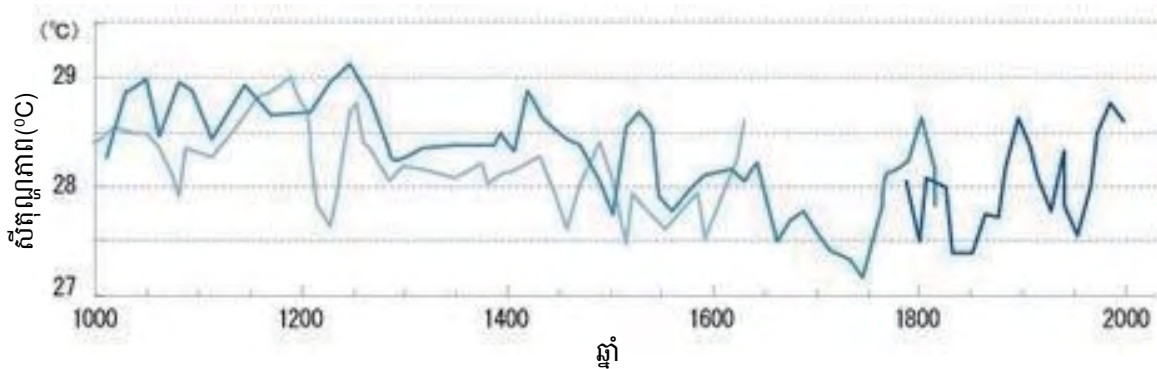
ស្នូលនៅបាតសមុទ្រអាចយកមកសន្មតពីសីតុណ្ហភាពបុរាណកាលបាន។ ទិន្នន័យត្រូវបានបង្ហាញនៅក្នុងក្រាបខាងក្រោម។ ក្រាបខាងក្រោមបង្ហាញថាមានរយៈពេលអាកាសធាតុត្រជាក់ និងរយៈពេលអាកាសធាតុក្តៅ កើតឡើងប្តូរវេនគ្នា នៅត្រង់ចំណុចនៃមហាសមុទ្រប៉ាស៊ីហ្វិក ត្រង់ប្រទេសឥណ្ឌូនេស៊ី។

តាមរយៈទិន្នន័យនៃក្រាបខាងក្រោមបានបង្ហាញថា កត្តាដែលនាំឱ្យសីតុណ្ហភាពប្រែប្រួលត្រូវបានកំណត់ដោយ ៖

- 1) កត្តាមនុស្ស ៖ ឧស្ម័នផ្ទះកញ្ចក់និងសារធាតុមេត្រងាក់ដែលមនុស្សប្រើប្រាស់ និងបំលាស់ប្តូរដីដោយសារមនុស្ស។
- 2) កត្តាធម្មជាតិ ៖ សកម្មភាពរបស់ព្រះអាទិត្យ បន្ទុះភ្នំភ្លើង និងពពក។

មុនសតវត្សរ៍ទី19 ចាប់ពីឆ្នាំ1450 ដល់ឆ្នាំ1850 អាកាសធាតុពិភពលោកបានត្រជាក់ខ្លាំង និងគ្របដណ្តប់ដោយទឹកកកភាគច្រើន។ អ្នកវិទ្យាសាស្ត្របានដាក់ឈ្មោះរយៈពេលនោះថា “យុគទឹកកកតូច” (Little Ice Age) ដូច្នេះសីតុណ្ហភាពបានប្រែប្រួលដោយសារកត្តាមនុស្ស។ មុននេះទៀត សីតុណ្ហភាពបានប្រែប្រួលរួចទៅហើយដោយសារកត្តាធម្មជាតិ។ ដូច្នេះការកើនសីតុណ្ហភាព មិនមែនរងឥទ្ធិពលដោយសារកត្តាមនុស្សតែមួយប៉ុណ្ណោះទេ ប៉ុន្តែក៏ដោយសារកត្តាធម្មជាតិផងដែរ។

**សីតុណ្ហភាពផ្ទៃទឹកសមុទ្រ**



ចំណាំ៖

- \*
  - បន្ទាត់ពណ៌ខៀវក្រហម ៖ កំណត់ត្រា Mg/Ca-based SST estimate using a published calibration
  - បន្ទាត់ពណ៌ខៀវ ៖ កំណត់ត្រា ERSSTv3 មធ្យមប្រចាំឆ្នាំ
  - បន្ទាត់ពណ៌ខៀវស្រាល ៖ កំណត់ត្រា JAS (ចាប់ពីខែកក្កដាដល់ចុងខែកញ្ញា)
- \*\* បន្ទាត់ទាំងបីពណ៌នៅក្នុងក្រាបខាងលើខុសៗគ្នាដោយសារប្រវែង និងជម្រៅនៃសំណាកស្នូលបាតសមុទ្រ។
- \*\*\* ឯកសារយោង ៖ D. W. Oppo et al. ទស្សនាវដ្តី Nature ភាគទី 460 (ថ្ងៃទី27 ខែសីហា ឆ្នាំ2009) ទំព័រទី1 113 ដល់ទី 1 116

### តេស្តខ្លឹមសម្រាប់មេរៀនទី ៣ “ការកើនកម្ដៅនៅលើផែនដី”

**ចំណាំ:** គ្រូគប្បីប្រើប្រាស់សំណួរ និងលំហាត់ខាងក្រោមនេះទាំងអស់ ឬមួយចំនួននៅក្នុងវិញ្ញាសាប្រឡងប្រចាំខែ ឬប្រឡងឆមាស ដើម្បីធ្វើការវាយតម្លៃការយល់ដឹងរបស់សិស្សស្តីពី “ការកើនកម្ដៅនៅលើផែនដី”។

**រយៈពេល: 40 នាទី      ពិន្ទុសរុប: 50 ពិន្ទុ**

ចូរជ្រើសរើសចម្លើយខាងក្រោមឱ្យបានត្រឹមត្រូវ ៖

1. តើកាំរស្មីព្រះអាទិត្យមួយណាបានដាលមកដល់ផ្ទៃផែនដី? (5 ពិន្ទុ)
 

ក. កាំរស្មីអ៊ុច                      ខ. កាំរស្មីស្វាយអ៊ុលត្រា                      គ. កាំរស្មីមើលឃើញ                      ឃ. កាំរស្មីក្រហមអាំងត្រា
2. នៅក្នុងបរិយាកាសផែនដីមានឧស្ម័នពីរមានបរិមាណច្រើនជាងគេ។ តើឧស្ម័នទាំងពីរនោះគឺជាអ្វីខ្លះ? (5 ពិន្ទុ)
 

ក. កាបូនឌីអុកស៊ីត      ខ. នីត្រូសែន                      គ. ក្លរ៉ូភ្លុយអរ៉ូកាបូន      ឃ. អុកស៊ីសែន                      ង. អូសូន                      ច. មេតាន
3. នៅក្នុងបរិយាកាសផែនដីមានឧស្ម័នមួយចំនួនសំខាន់ៗមិនមែនជាឧស្ម័នផ្ទះកញ្ចក់ឡើយ។ តើឧស្ម័នទាំងនោះគឺជាឧស្ម័នអ្វីខ្លះ? (5 ពិន្ទុ)
 

ក. កាបូនឌីអុកស៊ីត      ខ. នីត្រូសែន                      គ. ក្លរ៉ូភ្លុយអរ៉ូកាបូន      ឃ. អុកស៊ីសែន                      ង. អូសូន                      ច. មេតាន
4. តើទិន្នន័យមួយណាជាសីតុណ្ហភាពមធ្យមរបស់ពិភពលោក? (5 ពិន្ទុ)
 

ក. -20°C                      ខ. -10°C                      គ. 0°C                      ឃ. 10°C                      ង. 20°C                      ច. 30°C
5. ប្រសិនបើមិនមានឧស្ម័នផ្ទះកញ្ចក់នៅក្នុងបរិយាកាសផែនដីទេ តើសីតុណ្ហភាពផែនដីនឹងមានប៉ុន្មានអង្សា? (5 ពិន្ទុ)
 

ក. -20°C                      ខ. -10°C                      គ. 0°C                      ឃ. 10°C                      ង. 20°C                      ច. 30°C
6. តើឧស្ម័នមួយណានៅក្នុងមណ្ឌលអាកាសស្ងប់ដែលបានស្ដាប់កាំរស្មីស្វាយអ៊ុលត្រាមិនឱ្យដាលមកដល់ផ្ទៃផែនដី? (5 ពិន្ទុ)
 

ក. កាបូនឌីអុកស៊ីត      ខ. នីត្រូសែន                      គ. ក្លរ៉ូភ្លុយអរ៉ូកាបូន      ឃ. អុកស៊ីសែន                      ង. អូសូន                      ច. មេតាន
7. តើវាអាចធ្វើទៅបានឬទេដែលសន្និដ្ឋានថាកត្តាមនុស្ស និងកត្តាធម្មជាតិ បណ្តាលឱ្យមានការកើនកម្ដៅនៅលើផែនដី? (5 ពិន្ទុ)
 

ក. អាចធ្វើបាន    ខ. មិនអាចធ្វើបានឡើយ    គ. មិនដឹង
8. សីតុណ្ហភាពប្រែប្រួលដោយសារកត្តាមនុស្ស និងកត្តាធម្មជាតិ។ តើពាក្យណាខ្លះខាងក្រោមជាធាតុនៃកត្តាមនុស្ស? (5 ពិន្ទុ)
 

ក. ឧស្ម័នផ្ទះកញ្ចក់                      ខ. សារធាតុមេត្រីជាក់                      គ. បំលាស់ប្តូរដី                      ឃ. បន្ទះភ្នំភ្លើង                      ង. ពពក
9. ប្រសិនបើយើងប្រើប្រាស់ផ្លូស៊ីលតន្ត្រូ: តើមានអ្វីត្រូវបានបញ្ចេញទៅក្នុងបរិយាកាស? (5 ពិន្ទុ)
 

ក. កាបូនឌីអុកស៊ីត      ខ. នីត្រូសែន                      គ. ក្លរ៉ូភ្លុយអរ៉ូកាបូន      ឃ. អុកស៊ីសែន                      ង. អូសូន                      ច. មេតាន
10. តើកាំរស្មីមួយណាត្រូវបានស្រូបយកដោយផលផ្ទះកញ្ចក់? (5 ពិន្ទុ)
 

ក. កាំរស្មីអ៊ុច                      ខ. កាំរស្មីស្វាយអ៊ុលត្រា                      គ. កាំរស្មីមើលឃើញ                      ឃ. កាំរស្មីក្រហមអាំងត្រា

# បង្ហាញ ការដាក់ពិន្ទុ និងការវិនិច្ឆ័យ

## បង្ហាញ និងការដាក់ពិន្ទុ (ពិន្ទុសរុប 50 ពិន្ទុ)

1. គ. កាំរស្មីមើលឃើញ (5 ពិន្ទុ)

<b>ការដាក់ពិន្ទុ:</b>	5 ពិន្ទុ = ជ្រើសរើសចម្លើយ គ.
	0 ពិន្ទុ = ជ្រើសរើសចម្លើយ ក. ខ. ឃ.

2. ខ. នីត្រូសែន និង ឃ. អុកស៊ីសែន (5 ពិន្ទុ)

<b>ការដាក់ពិន្ទុ:</b>	5 ពិន្ទុ = ជ្រើសរើសចម្លើយ ខ. ឃ.
	0 ពិន្ទុ = ជ្រើសរើសចម្លើយ ក. គ. ង. ច.

3. ខ. នីត្រូសែន ឃ. អុកស៊ីសែន និង ង. អូសូន (5 ពិន្ទុ)

<b>ការដាក់ពិន្ទុ:</b>	5 ពិន្ទុ = ជ្រើសរើសចម្លើយ ខ. ឃ. ង.
	0 ពិន្ទុ = ជ្រើសរើសចម្លើយ ក. ច. គ.

4. ង. 20°C (5 ពិន្ទុ)

<b>ការដាក់ពិន្ទុ:</b>	5 ពិន្ទុ = ជ្រើសរើសចម្លើយ ង
	0 ពិន្ទុ = ជ្រើសរើសចម្លើយ ក. ខ. គ. ឃ. ច.

5. ក. -20°C (5 ពិន្ទុ)

<b>ការដាក់ពិន្ទុ:</b>	5 ពិន្ទុ = ជ្រើសរើសចម្លើយ ក.
	0 ពិន្ទុ = ជ្រើសរើសចម្លើយ ខ. គ. ឃ. ង. ច.

6. ង. អូសូន (5 ពិន្ទុ)

<b>ការដាក់ពិន្ទុ:</b>	5 ពិន្ទុ = ជ្រើសរើសចម្លើយ ង.
	0 ពិន្ទុ = ជ្រើសរើសចម្លើយ ក. ខ. គ. ឃ. ច.

7. ក. អាចធ្វើបាន (5 ពិន្ទុ)

<b>ការដាក់ពិន្ទុ:</b>	10 ពិន្ទុ = ជ្រើសរើសចម្លើយ ក.
	0 ពិន្ទុ = ជ្រើសរើសចម្លើយ ខ.

8. ក. ខ្សែស្រឡាយកញ្ចក់ ខ. សារធាតុមេត្រដាក់ និង គ. បំណាស់ប្តូរដី (5 ពិន្ទុ)

<b>ការដាក់ពិន្ទុ:</b>	5 ពិន្ទុ = ជ្រើសរើសចម្លើយ ក. ខ. គ.
	0 ពិន្ទុ = ជ្រើសរើសចម្លើយ ឃ. ង.

9. ក. កាបូនឌីអុកស៊ីត (5 ពិន្ទុ)

<b>ការដាក់ពិន្ទុ:</b>	5 ពិន្ទុ = ជ្រើសរើសចម្លើយ ក
	0 ពិន្ទុ = ជ្រើសរើសចម្លើយ ខ. គ. ឃ. ង. ច.

10. ឃ. កាំរស្មីក្រហមអាំងប្រា (10 ពិន្ទុ)

<b>ការដាក់ពិន្ទុ:</b>	5 ពិន្ទុ = ជ្រើសរើសចម្លើយ ឃ.
	0 ពិន្ទុ = ជ្រើសរើសចម្លើយ ក. ខ. គ.

**ការវិនិច្ឆ័យ**

ពិន្ទុ	ការវិនិច្ឆ័យ និងសំណូមពរសម្រាប់ការបង្រៀន
0 – 20	សិស្សដែលទទួលបានពិន្ទុនៅចន្លោះនេះ មានន័យថាពួកគេមិនទាន់មានចំណេះដឹងមូលដ្ឋាន និងជំនាញវិភាគខ្លឹមសារវិទ្យាសាស្ត្រស្តីពី “ការកើនកម្ដៅនៅលើផែនដី” ទេ។ ដូច្នេះ សិស្សដែលទទួលបានពិន្ទុនៅចន្លោះនេះ ត្រូវតែធ្វើការសិក្សាពីមូលដ្ឋាននៃ “ការកើនកម្ដៅនៅលើផែនដី” ឡើងវិញដោយការអានមេរៀននេះឡើងវិញ និងលើកឧទាហរណ៍ងាយៗទាក់ទងនឹងចំណេះដឹងមូលដ្ឋានមានស្រាប់របស់ពួកគេ ។
21 – 30	សិស្សដែលទទួលបានពិន្ទុនៅចន្លោះនេះ មានន័យថាពួកគេមិនទាន់អាចពន្យល់បានគ្រប់គ្រាន់ពីចំណេះដឹងមូលដ្ឋាន និងជំនាញវិភាគងាយៗលើខ្លឹមសារវិទ្យាសាស្ត្រស្តីពី “ការកើនកម្ដៅនៅលើផែនដី” ដូចជា ផលធ្លុះកញ្ចក់ និងការកើនកម្ដៅនៅលើផែនដី។ ចំណុចនៃមេរៀននេះគឺ ( 1 ) ឧស្ម័នផ្ទះកញ្ចក់ និង ( 2 ) ការកើនកម្ដៅនៅលើផែនដី។ ដូច្នេះ គ្រូគ្រូបង្រៀនលើកយកឧទាហរណ៍ដែលទាក់ទងនឹងការសំនេរនៅប្រចាំថ្ងៃដើម្បីជម្រុញសិស្សឱ្យកាន់តែយល់អំពីការកើនកម្ដៅនៅលើផែនដី។
31 – 40	សិស្សដែលទទួលបានពិន្ទុនៅចន្លោះនេះ មានន័យថាពួកគេអាចពន្យល់បានច្រើនពីខ្លឹមសារ និងជំនាញវិភាគស៊ីជម្រៅលើខ្លឹមសារវិទ្យាសាស្ត្រស្តីពី “ការកើនកម្ដៅនៅលើផែនដី” ប៉ុន្តែពួកគេនៅមិនទាន់អាចពន្យល់បានពីបញ្ហាពិភពលោក។ នេះដោយសារពួកគេមិនទាន់ឈានដល់កម្រិតមួយដែលពួកគេអាចប្រើប្រាស់ចំណេះដឹងរបស់ពួកគេដើម្បីដោះស្រាយបញ្ហាវិទ្យាសាស្ត្រនៅឡើយ។ ដូច្នេះ គ្រូគ្រូតែណែនាំសិស្សឱ្យធ្វើសកម្មភាព ដើម្បីជួយពួកគេបន្ថែមទៀតក្នុងការវិភាគ។
41 – 50	សិស្សដែលទទួលបានពិន្ទុនៅចន្លោះនេះ មានន័យថាពួកគេអាចពន្យល់បានពីខ្លឹមសារ និងជំនាញវិភាគស៊ីជម្រៅគ្រប់គ្រាន់លើខ្លឹមសារវិទ្យាសាស្ត្រស្តីពី “ការកើនកម្ដៅនៅលើផែនដី”។ ទោះជាយ៉ាងណាក៏ដោយ គ្រូគ្រូជួយសិស្សស្វែងរកព័ត៌មានប្រកបដោយគុណភាពដែលទាក់ទងនឹងបំរែបំរួលបរិស្ថានសម្រាប់ជាចំណេះដឹងបន្ថែមរបស់ពួកគេ ដើម្បីឱ្យពួកគេបង្កើនចំណេះដឹង និងជំនាញរបស់ពួកគេកាន់តែស៊ីជម្រៅ ។

# មេរៀនទី 4

# ការខ្វះទឹកសាបទៅអនាគត

## វត្តមាន

បន្ទាប់ពីសិក្សាមេរៀននេះចប់ សិស្សនឹង ៖

- ❑ រកឃើញមូលហេតុដែលនាំឱ្យមានខ្វះខាតទឹកសាប
- ❑ រៀបរាប់បានពីវិធីប្រើប្រាស់ទឹកសាបដោយសន្សំសំចៃ
- ❑ ផលវិបាកនៃការខ្វះទឹកសាបនាពេលអនាគតកាល។

## ផែនការមេរៀន

មេរៀននេះត្រូវបានបែងចែកសម្រាប់បង្រៀន និងរៀនរយៈពេល 3 ម៉ោង ដូចបង្ហាញក្នុងតារាង 1 ខាងក្រោម។

**តារាង 1 បំណងចែកម៉ោងបង្រៀន**

ចំនួនម៉ោងសិក្សា	ចំណងជើងរងមេរៀន	ទំព័រក្នុងសៀវភៅសិក្សាគោល
1ម៉ោង	1. មូលហេតុដែលនាំឱ្យមានការខ្វះខាតទឹកសាប 1.1. កំណើនកម្ដៅ 1.2. កំណើនប្រជាជន	312
1ម៉ោង	2. វិធីប្រើប្រាស់ទឹកសាបដោយសន្សំសំចៃ	313
1ម៉ោង	3. ផលវិបាកនៃការខ្វះខាតទឹកសាបអនាគតកាល មេរៀនសង្ខេប សំណួរ សំណួរបញ្ចប់ជំពូកទី 3	314 – 316

## ការណែនាំការមេរៀន

តារាង 2 បង្ហាញពីផែនការបង្រៀន និងលទ្ធផលរង្វាយតម្លៃក្នុងម៉ោងសិក្សានីមួយៗ។ គ្រូគប្បីដឹកនាំសកម្មភាពទាំងអស់ និងវាយតម្លៃសិស្សដោយផ្អែកលើលក្ខណៈវិនិច្ឆ័យនៅក្នុងតារាង 2។ ដូចសកម្មភាពនៅក្នុងតារាង 2 សិស្សនឹងធ្វើសកម្មភាពផ្សេងៗអំពី មូលហេតុនាំឱ្យខ្វះខាតទឹកសាប វិធីប្រើប្រាស់ទឹកសាបដោយសន្សំសំចៃ និងផលវិបាកនៃការខ្វះខាតទឹកសាបនៅពេលអនាគត ដែលសកម្មភាពទាំងនេះនឹងជួយសិស្សអភិវឌ្ឍការយល់របស់ពួកគេអំពី ការខ្វះទឹកសាបទៅអនាគត។ ទោះជាយ៉ាងណា គ្រូគប្បីប្រើទេពកោសល្យភាពទន់ភ្លន់ និងភាពបត់បែនរបស់ខ្លួន ដើម្បីច្នៃប្រឌិតទៅតាមកម្រិតយល់ដឹងរបស់សិស្ស និងស្ថានភាពជាក់ស្ដែងរបស់ថ្នាក់រៀន ដើម្បីសម្របសម្រួលទៅតាមសកម្មភាពបង្រៀននិងរៀនដូចមាននៅក្នុងការណែនាំការបង្រៀននេះ។

**តារាង 2 ផែនការបង្រៀន និងលទ្ធផលរង្វាយតម្លៃ**

ម៉ោងសិក្សា	វត្តបំណង	សកម្មភាព	លទ្ធផលរង្វាយតម្លៃ
ទី1	រកឃើញមូលហេតុដែលនាំឱ្យមានការខ្វះខាតទឹកសាប។	សិស្សក្រុមតូចពិភាក្សារកមូលហេតុដែលនាំឱ្យមានការខ្វះខាតទឹកសាប និងពន្យល់សេចក្ដីសន្និដ្ឋានលើសំណួរគន្លឹះរបស់គ្រូ។	សិស្សអាច ៖ (1)សន្និដ្ឋានមូលហេតុដែលនាំឱ្យមានការខ្វះទឹកសាប និង(2)ពណ៌នាពីទឹកនៃងដែលមានទឹកចិនសុវត្ថិភាព។
ទី2	ពណ៌នាវិធីប្រើប្រាស់ទឹកសាបដោយសន្សំសំចៃ។	សិស្សក្រុមតូចពិភាក្សារវិធីប្រើប្រាស់ទឹកសាបដោយសន្សំសំចៃ និងពន្យល់សេចក្ដីសន្និដ្ឋានលើសំណួរគន្លឹះរបស់គ្រូ។	សិស្សអាចពន្យល់ថាការសន្សំសំចៃទឹកគឺជាកិច្ចការសំខាន់។ តើយើងគួរតែប្រើប្រាស់ទឹកដោយសន្សំសំចៃតាមវិធីណា?

<p>ទី៣</p>	<p>ពណ៌នាផលវិបាកនៃការខ្វះខាត ទឹកសាបនាអនាគតកាល និងសង្ខេប មេរៀន ឆ្លើយសំណួរមេរៀន និង ឆ្លើយសំណួរបញ្ចប់ជំពូកទី ៣ បញ្ហា បរិស្ថានពិភពលោក។</p>	<p>សិស្សក្រុមតូចពិភាក្សាផលវិបាកនៃ ការខ្វះខាតទឹកសាបនាពេលអនាគត និងពន្យល់សេចក្តីសន្និដ្ឋានលើ សំណួរគន្លឹះរបស់គ្រូ និងសង្ខេប មេរៀន ឆ្លើយសំណួរមេរៀន និង សំណួរបញ្ចប់ជំពូក ៣ បញ្ហាបរិស្ថាន ពិភពលោក។</p>	<p>សិស្សអាច ៖ (1)គិតរកដំណោះស្រាយ លើបញ្ហាខ្វះខាតទឹកសាបនាអនាគតកាល (2)គិតពីមូលហេតុដែលនាំឱ្យមានការ ខ្វះខាតទឹកសាប និង(3)សង្ខេបមេរៀន ឆ្លើយសំណួរមេរៀន និងឆ្លើយសំណួរ បញ្ចប់ជំពូក ៣។</p>
------------	---	---	---

**ចំណុចនៃការបង្រៀន**

ចំណុចនៃការបង្រៀនមេរៀននេះគឺដើម្បីឱ្យសិស្សប្រាប់ថាការសន្សំសំចៃទឹកសាបគឺជាកិច្ចការសំខាន់ និងសាមញ្ញបំផុតដែលគ្រប់គ្នា ត្រូវធ្វើ និងគិតរកហេតុផលសមរម្យដើម្បីសន្សំសំចៃទឹកសាប។ ត្រង់ចំណុចនេះ គ្រូគប្បីតប្បីប្រាប់សិស្សពីវិធីដោះស្រាយបញ្ហាតាមបែបវិទ្យា សាស្ត្រលើបញ្ហាមួយចំនួនដែលទាក់ទងនឹងទឹកសាប។ គ្រូក៏គប្បីណែនាំសិស្សពីគម្រោងមួយរបស់ JICA ដែលបានធ្វើអំពីធនធានទឹកនៅ ក្នុងប្រទេសកម្ពុជា។

**ចំណេះដឹងមូលដ្ឋានសម្រាប់មេរៀននេះ**

មុនពេលចាប់ផ្តើមបង្រៀនខ្លឹមសារមេរៀនថ្មីក្នុងម៉ោងសិក្សានីមួយៗ គ្រូគប្បីសួរសិស្សដើម្បីពិនិត្យចំណេះដឹងមានស្រាប់របស់ពួកគេ ដើម្បីរកមើលចំណេះដឹងមូលដ្ឋានរបស់សិស្ស ដូចជា វិធីប្រើប្រាស់ទឹកនៅក្នុងការរស់នៅប្រចាំថ្ងៃ។ បើមិនដូច្នោះទេសិស្សនឹងពិបាកសម្រេច បានវត្ថុបំណងមេរៀននេះ។



### វត្តបំណង

សិស្សរកឃើញមូលហេតុដែលនាំឱ្យមានការខ្វះខាតទឹកសាប។



### សកម្មភាព

គ្រូ ៖ តើនេះគឺជាអ្វី? (គ្រូបង្ហាញដបដាក់ទឹកពេញ)

សិស្ស ៖ នោះគឺជាទឹក (ទឹកស្អុយ/ទឹកសាប)។

គ្រូ ៖ ដូច្នោះ

**សំណួរគន្លឹះ** ៖ “តើទឹកសាបមាននៅទីកន្លែងណាខ្លះ? តើយើងប្រើប្រាស់ទឹកសាបតាមវិធីអ្វីខ្លះនៅក្នុងការរស់នៅប្រចាំថ្ងៃរបស់យើង?”

**សម្ភារ** ដបដាក់ទឹកពេញច្រើនដប

**ដំណើរការ**

1. គ្រូចែកសិស្សជាក្រុមៗ និងដបដាក់ទឹកពេញច្រើនដប ដើម្បីពិភាក្សាសំណួរគន្លឹះរបស់គ្រូ។
2. គ្រូតប្រើលើកទឹកចិត្តសិស្សឱ្យគិត ពិភាក្សា សរសេរការពណ៌នាសង្ខេប និងបង្ហាញលទ្ធផលពិភាក្សារបស់ពួកគេអំពីទឹកកន្លែងដែលមានទឹកសាប និងវិធីប្រើប្រាស់ទឹកសាបនៅក្នុងការរស់នៅប្រចាំថ្ងៃ។
3. តាមរយៈលទ្ធផលពិភាក្សា គ្រូតប្រើនាំសិស្សឱ្យទាញរកមូលហេតុដែលនាំឱ្យខ្វះខាតទឹកសាប។

### មេរៀន

## 4

### ការខ្វះទឹកសាបទៅអនាគត

#### ចប់មេរៀននេះ សិស្សអាច

- រកឃើញមូលហេតុដែលនាំឱ្យមានខ្វះខាតទឹកសាប
- រៀបរាប់បានពីវិធីប្រើប្រាស់ទឹកសាបដោយសន្សំសំចៃ
- ដល់វិធានការខ្វះទឹកសាបពេលអនាគតកាល។

បរិមាណទឹកសាបដែលមនុស្ស សត្វ និងរុក្ខជាតិអាចប្រើប្រាស់បានមានចំនួនតិចតួចបំផុត។ ទឹកសាបនៅលើផែនដីមានតែ ៣% តែប៉ុណ្ណោះ ហើយក្នុងចំនួននេះមិនអាចបរិភោគបានទាំងអស់ទេ ព្រោះបរិមាណនេះមានរាប់បញ្ចូលទាំងទឹកកកនៅក្នុងតំបន់ប៉ូលខាងជើងនិងខាងត្បូងដែលមិនអាចយកមកប្រើប្រាស់បានឡើយ។ ក្នុងចំនួនបរិមាណទឹកសាបទាំងនោះមានតែ 15% ទេ ដែលអាចប្រើប្រាស់សម្រាប់ប្រជាជនទាំងពិភពលោក។ ទឹកសាបដែលមនុស្សប្រើប្រាស់សព្វថ្ងៃមានប្រភពសំខាន់ៗគឺ ទឹកនៅលើផ្ទៃដី និងទឹកក្នុងដី។ ដូច្នោះ យើងទាំងអស់គ្នាត្រូវយកចិត្តទុកដាក់ប្រើប្រាស់ទឹកដោយសន្សំសំចៃ ចិញ្ចឹមទេ ដើម្បីអនាគតយើងនិងជួបបញ្ហាកង្វះខាតទឹកសាបជាមិនខាន។

#### 1. មូលហេតុនៃការខ្វះខាតទឹកសាប

##### 1.1. កំណើនកម្ពុជា

ការកាប់ដីធ្លាញព្រៃឈើបានធ្វើឱ្យមានការប្រែប្រួលអាកាសធាតុដូចជាកម្ពុជានៅលើផែនដីនេះ តែកើនឡើង ដែលបង្កឱ្យមានវប្បធម៌ទឹកនៅផ្ទៃផែនដីយ៉ាងខ្លាំងនិងនាំឱ្យកាតិបទឹកករណយរួចប្តូរចូលទៅក្នុងមហាសមុទ្រហើយនិងក្លាយទៅជាទឹកប្រៃទាំងអស់ទៅថ្ងៃអនាគត។

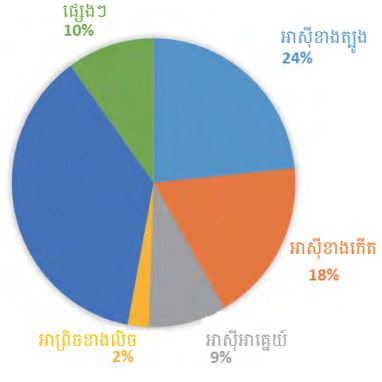
##### 1.2. កំណើនប្រជាជន

សព្វថ្ងៃបរិមាណប្រជាជននៅលើពិភពលោកកាន់តែកើនឡើងយ៉ាងឆាប់រហ័ស ប៉ុន្តែបរិមាណទឹកសាបមិនកើនឡើងទេ។ អ្នកវិទ្យាសាស្ត្របានទស្សន៍ទាយថាឆ្នាំ 2025 ប្រទេសជាច្រើននៅលើពិភពលោកនឹងខ្វះទឹកសាបប្រើប្រាស់។



### ចំណេះដឹងបន្ថែម៖ ទឹកសាបនៅលើភពផែនដី

នៅលើភពផែនដីមានទឹកគ្រប់គ្រាន់។ ទឹកជាធនធានកើតឡើងវិញដែលដំណើរការដោយថាមពលព្រះអាទិត្យ។ នៅតំបន់មួយចំនួនក្នុងប្រទេសក្រីក្របានប្រឈមនឹងបញ្ហាខ្វះខាតទឹកសាបសុវត្ថិភាពប្រើប្រាស់។ គម្រោងអភិវឌ្ឍន៍សហប្រជាជាតិ (United Nation Development Plan/UNDP) បានរាយការណ៍ថាមានមនុស្សម្នាក់ក្នុងចំណោម 5 នាក់ (ប្រហែល 1.1 ពាន់លាននាក់) នៃប្រទេសកំពុងអភិវឌ្ឍន៍មិនមានទឹកសាបសុវត្ថិភាពប្រើប្រាស់។ ឧទាហរណ៍ ទឹកសាបសុវត្ថិភាពស្ថិតនៅកន្លែងមួយឆ្ងាយជាង 1km ពីផ្ទះរបស់ពួកគេ និងអាចបូមយកបានត្រឹមតែ 20L ប៉ុណ្ណោះក្នុងមួយថ្ងៃ។ ដូច្នោះ ពួកគេមិនអាចទទួលបានទឹកសាបសុវត្ថិភាពនិងអនាម័យបានឡើយ ជាហេតុធ្វើឱ្យប្រជាជនភាគច្រើនរស់នៅក្នុងទ្វីបអាស៊ី និងអាព្រិចប្រឈមនឹងជម្ងឺប្រចាត់បង់ជីវិតដោយសារហេតុផលសង្គមនិងសេដ្ឋកិច្ច។ អង្គការមូលនិធិរបស់កុមារសហប្រជាជាតិ (United Nations Children's Fund/UNICEF) និងអង្គការសុខភាពពិភពលោក (World Health Organization/WHO) បានរាយការណ៍ថា ប្រជាជន 880 លាននាក់ (ដែលក្នុងនោះ 470 លាននាក់នៅក្នុងទ្វីបអាស៊ី) មិនអាចមានទឹកសាបសុវត្ថិភាពប្រើប្រាស់នៅឡើយ។ នៅប្រទេសកម្ពុជា ការផ្គត់ផ្គង់ទឹកសាបនៅមានកម្រិតទាបនៅឡើយ។ នៅប្រទេសកម្ពុជាខ្លះខ្លាយទឹកសាប 26% ដោយសារការលិចធ្លាយនិងការលូតបូមពីបំពង់បង្ហូរទឹកស្អាតដែលដាក់ពង្រាយចន្លោះរោងចក្របន្តិចទឹកទៅដល់គេហដ្ឋាននីមួយៗ (អត្ថបទអំពីទឹកសាបក្នុងទីក្រុងនៃទ្វីបអាស៊ី នៅក្នុងរបាយការណ៍ទិដ្ឋភាពសង្គមស៊ីវិលនិងការប្រតិបត្តិការប្រើប្រាស់របស់ធនាគារអភិវឌ្ឍន៍អាស៊ី ឆ្នាំ 2003)។ បរិមាណ 26% នេះគឺជាបរិមាណខ្លះខ្លាយទឹកសាបដ៏ច្រើនបើប្រៀបធៀបជាមួយនឹងបរិមាណខ្លះខ្លាយទឹកសាបនៅទីក្រុងអូសាកានៃប្រទេសជប៉ុនដែលខ្លះខ្លាយត្រឹមតែ 7% ប៉ុណ្ណោះ។



រូបទី 1 ៖ ភាគរយនៃតំបន់ដែលមិនមានការផ្គត់ផ្គង់ទឹកសាបសុវត្ថិភាព

2. វិធីប្រើប្រាស់ទឹកសាបដោយសន្សំសំចៃ

វេនឌីវិទ្យា ជំពូកទី ៣ ប្រយោគទី ៤

សន្សំសំចៃទឹកសាបមិនមែនមានន័យថា មិនឱ្យប្រើប្រាស់ទឹកនោះទេ ។ ប៉ុន្តែយើងត្រូវមានវិធីសន្សំសំចៃជាច្រើនដូចជា ៖

- បិទគ្រាប់ទឹកស្អាតទឹកស្អាតបានជិតល្អ (ចំពោះអ្នកប្រើប្រាស់ទឹកម៉ាស៊ីន)
- ផ្សព្វផ្សាយដល់សាលារៀននិងសហគមន៍ឱ្យយល់ដឹងពីការអភិរក្សទឹក
- ប្រមូលទឹកដែលប្រឡាក់ឬកខ្វក់ឱ្យអស់សិន រួចលាងតែម្តង (រៀបរាប់រាល់ថ្ងៃឱ្យមួយ)
- ទឹកប្រើប្រាស់ហើយអាចយកទៅប្រើប្រាស់ផ្សេងៗ ដូចជាទឹកងូតដៃលមិនទាន់ដុះសាច្ចុអាចយកទៅស្រោចដំណាំបាន
- ពិនិត្យក្តីក្នុងប្រព័ន្ធគ្រប់គ្រងទឹកប្រចាំថ្ងៃនីមួយៗ ព្រោះវាជាឧបករណ៍ជួយយើងឱ្យរកឃើញពីមូលហេតុនៃការប្រើទឹកច្រើនឬតិច
- ស្រោចស្ពានច្បារឬស្ពានបង្កើននៅពេលព្រឹកឬពេលល្ងាច ព្រោះនៅពេលនោះសីតុណ្ហភាពត្រជាក់ធ្វើឱ្យមានវប្បធម៌ទឹកតិច
- លាងចម្រើនផ្លែឈើក្នុងទឹកច្រើនដោយបង្ហូរទឹកពីក្បាលរូបីនៃពេលផ្តល់ ព្រោះយើងអាចយកទឹកដែលលាងរួចទៅប្រើប្រាស់ផ្សេងៗទៀតហើយយើងមិនប្រើទឹកច្រើនពេកដែរ
- ដាក់វត្ថុរក្សាសំណើមនៅជុំវិញគល់ឈើ (ដូចជាដាក់ដុំថ្មនៅជុំវិញគល់ម្លូង) ព្រោះវាអាចធ្វើឱ្យយើងចំណេញឬសន្សំសំចៃទឹក ពេលវេលាក្នុងការស្រោចស្រព
- គប្បីប្រើអំបោសបោសសំអាតកន្លែងផ្សេងៗជាមុន (បន្ទប់ទឹក ផ្លូវដើរ ...) ចន្លោះមកទើបប្រើទឹកលាងសំអាតជាក្រោយ ។ ទង្វើរបៀបនេះ វាជំនួសឱ្យការចាក់ទឹកទាំងឡាយឱ្យប្រើទឹកច្រើនសម្រាប់លាងកន្លែងទាំងនោះ
- ត្រូវកាត់បន្ថយរយៈពេលងូតទឹក ព្រោះវាអាចជួយសន្សំទឹកបានច្រើន
- កែសម្រួលបង្គន់ចាស់ៗដែលប្រើទឹកច្រើនឱ្យក្លាយជាបង្គន់ដែលប្រើប្រាស់ទឹកតិចទិញ
- បង្រៀនកូនៗឱ្យចេះបិទគ្រាប់ទឹកស្អាតទឹកស្អាតបានជិតល្អពេលប្រើរួច
- ចោកសម្លៀកបំពាក់ត្រូវដាក់ទឹកឱ្យល្អទៅនឹងបរិមាណសំណើមចំពាក់នោះ
- ត្រូវរក្សាទឹកដែលដូតូចដើម្បីយកទៅចាក់បង្គន់ឬស្រោចរុក្ខជាតិ ។

313



វត្ថុបំណង

សិស្សនឹងពិណ្ឌនាវិធីប្រើប្រាស់ទឹកសាបដោយសន្សំសំចៃ។



សកម្មភាព

សំណួរគន្លឹះ: “តើយើងគួរតែរកវិធីល្អបែបណាដើម្បីប្រើប្រាស់ទឹកសាបដោយសន្សំសំចៃ?”


ដំណើរការ

1. គ្រូចែកសិស្សជាក្រុមៗ ដើម្បីពិភាក្សាសំណួរគន្លឹះរបស់គ្រូ។
2. គ្រូគប្បីលើកទឹកចិត្តសិស្សឱ្យគិត ពិភាក្សា សរសេរការពិណ្ឌនាសង្ខេបរបស់ពួកគេអំពីវិធីប្រើប្រាស់ទឹកសាបដោយសន្សំសំចៃ។



ចំណេះដឹងបន្ថែម ៖ គម្រោងឆ្នាំរំព្រៃបណ្តាលឱ្យសមុទ្រអារ៉ាល់រួមតូច

សមុទ្រអារ៉ាល់ (Aral Sea) គឺជាបឹងធំជាងគេទី 4 ដែលស្ថិតនៅក្នុងប្រទេសកាសាក់ស្ថាន និងអ៊ូបែកីស្ថាន (Kazakhstan និង Uzbekistan) នៅក្នុងទ្វីបអាស៊ីកណ្តាល។ ទឹកសាបនៅក្នុងបឹងនេះត្រូវបានបូមយកមកប្រើប្រាស់ដោយប្រទេសទាំងពីរ។ ប៉ុន្តែចាប់តាំងពីឆ្នាំ 1960 មក កម្រិតទឹកបានធ្លាក់ចុះយ៉ាងលឿនដែលបណ្តាលមកពីគម្រោងធារាសាស្ត្រឆ្នាំរំព្រៃ (Wild Cat Irrigation Project) របស់សហភាពសូវៀត ហើយជាលទ្ធផលតំបន់បឹងទាំងមូលបានរួមតូចយ៉ាងខ្លាំង។ រូបភាពខាងក្រោមនេះបង្ហាញពីការថយចុះយ៉ាងខ្លាំងនៃទំហំបឹង។



ក. ឆ្នាំ 2000



ខ. ឆ្នាំ 2009

រូបទី 2 : រូបថតសមុទ្រអារ៉ាល់ដែលផ្តល់ដោយផ្កាយរណប (ប្រភព : NASA)



### វត្តបំណង

សិស្សនឹងពណ៌នាផលវិបាកនៃការខ្វះខាតទឹកសាបនា អនាគតកាល និងសង្ខេបមេរៀន ឆ្លើយសំណួរមេរៀន និង ឆ្លើយសំណួរបញ្ចប់ជំពូក 3 បញ្ហាបរិស្ថានពិភពលោក។




### សកម្មភាព

**សំណួរគន្លឹះ:** “ប្រសិនបើការផ្គត់ផ្គង់ទឹកសាបថយចុះ តើការរស់នៅប្រចាំថ្ងៃរបស់យើងនឹងប្រែប្រួល ដូចម្តេចខ្លះ?”

#### ដំណើរការ

1. គ្រូចែកសិស្សជាក្រុមៗ ដើម្បីពិភាក្សាសំណួរគន្លឹះរបស់គ្រូ។
2. គ្រូក៏តប្បីលើកទឹកចិត្តសិស្សឱ្យគិត ពិភាក្សា សរសេរ ការពណ៌នាសង្ខេបរបស់ពួកគេអំពីសំណួរគន្លឹះ។

### 3. ផលវិបាកនៃការខ្វះខាតទឹកសាបនាអនាគតកាល



រូបទី 1 : ផលវិបាកនៃការខ្វះខាតទឹកសាបនាអនាគត

តាមរយៈការប្រែប្រួលពីអតីតកាលដល់បច្ចុប្បន្នកាលនេះ អាចឱ្យម្នាក់ស្រាវជ្រាវវិទ្យាសាស្ត្រ ធ្វើការទស្សន៍ទាយបានថា នៅឆ្នាំ 2070 :

- មនុស្សដែលមានអាយុ 50 ឆ្នាំ មានសភាពដូចមនុស្សអាយុ 85 ឆ្នាំ ហើយច្រើនមានជំងឺធ្ងន់ធ្ងរ ដោយសារខ្វះជាតិទឹក។ មនុស្សនៅពេលនោះត្រូវផ្គត់ផ្គង់ដោយកន្សែងដែលអប់ដោយប្រេង ជំនួសទឹក។
- មនុស្សទាំងអស់ត្រូវការសក់ ដើម្បីចៀសវាងប្រើទឹកក្នុងការលាងសំអាត។
- ទេសភាពដែលនៅជុំវិញគ្នាដោយជាវាលដីធ្លីហែងព្រោះគ្មានដើមឈើ គ្មានទឹកមានតែមនុស្ស ស្តាប់។ កម្មករ និយោជិកក្នុងរោងចក្រត្រូវបានគេផ្តល់ទឹកផឹកជំនួសឱ្យប្រាក់បៀវត្ស។
- មនុស្សត្រូវកាន់ថ្នាំបំបាត់ជំងឺ។ អាហារភាគច្រើនជាអាហារសិប្បនិម្មិត។ ពីមុនមនុស្សផឹក ទឹក 8 កែវក្នុងមួយថ្ងៃ តែពេលនោះត្រូវផឹកទឹកត្រឹមតែកន្លះកែវប៉ុណ្ណោះ។
- មនុស្សត្រូវបោះបង់ចោលសម្លៀកបំពាក់ដែលប្រឡាក់ ព្រោះគ្មានទឹកសម្រាប់បោកកកដែល ជាហេតុនាំឱ្យរាងកាយកើនឡើង។
- មនុស្សទាំងអស់មើលទៅក្មេងខ្លាច ដោយសាររាងកាយគ្មានជាតិទឹកនិងពេញដោយជំងឺ ដែលបង្កការពិការស្ម័គ្រចិត្តខ្លាំងព្រោះតែស្រទាប់អូស្តូនបាត់បង់។
- មនុស្សជំនាន់ក្រោយខ្សោយប្រាថ្នា ដោយសារបរិមាណអុកស៊ីសែនធម្មតា (គ្មានរុក្ខជាតិ)។ ស្ត្រីដែលមានអាយុ 20 ឆ្នាំមានរូបសម្បត្តិដូចមនុស្សអាយុ 40 ឆ្នាំ។ អាយុសង្ឃឹមរស់គិតជាមធ្យម គឺ 35 ឆ្នាំ។

314



### ចំណេះដឹងបន្ថែម គម្រោងទឹកសាបរបស់ភ្នាក់ងារ JICA នៅប្រទេសកម្ពុជា

1) គម្រោងសម្រាប់ការផ្គត់ផ្គង់ទឹកផឹកនៅតំបន់ដាច់ស្រយាលនៅក្នុងខេត្តកំពង់ចាម ជំនួយរបស់ភ្នាក់ងារ JICA ដូចជា ការសាងសង់អណ្តូងទឹកបានទទួលជោគជ័យនៅក្នុងការពង្រីកការប្រើប្រាស់ទឹកសាបសុវត្ថិភាព ចាប់ពី 9.5% ដល់ 82%។ គម្រោងសម្រាប់ការផ្គត់ផ្គង់ទឹកផឹកនៅតំបន់ដាច់ស្រយាលនៅក្នុងខេត្តកំពង់ចាម (ជាភាសាខ្មែរ) នៅក្នុងគេហទំព័រយូធូប។

<https://www.youtube.com/watch?v=5uvlnKUe19I>

2) ការទ្រទ្រង់ការផ្គត់ផ្គង់ទឹករបស់ភ្នាក់ងារ JICA នៅក្នុងប្រទេសកម្ពុជា ចាប់តាំងពីឆ្នាំ 1993 មកភ្នាក់ងារ JICA បានអភិវឌ្ឍធនធានទឹកសាធារណៈនៅក្នុងរាជធានីភ្នំពេញអស់រយៈពេលជាង 20 ឆ្នាំហើយ។ បច្ចុប្បន្ននេះ ភ្នាក់ងារ JICA បានចាប់ផ្តើមជួយបន្ថែមទៀតលើការអភិវឌ្ឍការផ្គត់ផ្គង់ទឹកសាធារណៈនៅក្នុងទីក្រុងមួយចំនួននៅក្រោម កិច្ចសហការរវាងក្រសួងឧស្សាហកម្មនិងហេដ្ឋារចនាសម្ព័ន្ធ និងអាជ្ញាធរផ្គត់ផ្គង់ទឹកស្អាតនៃរាជធានីភ្នំពេញ។ ការទ្រទ្រង់របស់ភ្នាក់ងារ JICA លើការ ផ្គត់ផ្គង់ទឹកស្អាតនៅប្រទេសកម្ពុជា (ជាភាសាខ្មែរ) នៅក្នុងគេហទំព័រយូធូប។

<https://www.youtube.com/watch?v=okTSKRQuwHs>

ផែនការសិក្សា ជំពូកទី ៣ មេរៀនទី ៤

• ទឹកក្លាយជាវត្ថុដ៏ស្អិតស្អំដែលត្រូវយាមកាមយ៉ាងហ្មត់ចត់ ព្រោះអាចមានសង្គ្រាមដណ្តើមទឹកគ្នា ។ កត្តាដែលបានរៀបរាប់ខាងលើនេះមិនទាន់គ្រប់គ្រាន់នៅឡើយទេ ព្រោះសោកនាមកម្មនៃកង្វះខាតទឹកមានច្រើនណាស់ ។ ករណីទាំងនេះកើតឡើងដោយសារសកម្មភាពរបស់យើងទាំងអស់គ្នា នាពេលបច្ចុប្បន្ន ដែលបណ្តាលឱ្យគូនចៅដំនាន់ក្រោយទទួលបានអន្តរកម្មដ៏ល្អលឿនជាងមុននៅពេលអនាគត ។

**មេរៀនសង្ខេប**

ទឹកសាបដែលយើងប្រើប្រាស់សព្វថ្ងៃមានគិតត្រឹមបំផុត ។ ដូច្នេះ យើងត្រូវចេះប្រើប្រាស់ដោយសន្សំសំចៃជាបំផុត ទើបយើងទាំងអស់គ្នាអាចគេចផុតពីការខ្វះខាតទឹកសាបនាពេលអនាគត ។ កត្តាដែលនាំឱ្យកង្វះខាតទឹកសាបទៅអនាគត គឺបញ្ហាកំណើនប្រជាជននៅលើពិភពលោកនិងការកើនឡើងនៅលើផែនដី ។ បញ្ហាខ្វះទឹកសាបនាំឱ្យមានផលវិបាកដូចជា មនុស្សចាស់ជាងវ័យ មានជំងឺច្រើន កើតទុរភិក្ស បង្កសង្គ្រាមដណ្តើមទឹកគ្នា ជាពិសេសអាចជាសោកនាមកម្មចំពោះពិភពលោកទាំងមូលទៅថ្ងៃអនាគត ។

**សំណួរ**

1. តើប្រភពទឹកសាបមាននៅទីណាខ្លះ ?
2. តួអង្គមូលហេតុដែលនាំឱ្យមានកង្វះទឹកសាបនាពេលអនាគត ។
3. តួអង្គមូលហេតុវិធីប្រើប្រាស់ទឹកសាបដោយសន្សំសំចៃ ។
4. តើកង្វះទឹកសាបនាំឱ្យមានផលវិបាកអ្វីខ្លះ ?



**សកម្មភាព**

**សំណួរគន្លឹះ:** “យើងនាំគ្នាសង្ខេបមេរៀន និងឆ្លើយសំណួរ!”  
**សម្ភារ** ខ្លឹមសារមេរៀនទំព័រទី 312 ដល់ទី 315 និងសំណួរនៅទំព័រទី 315

**ដំណើរការ**

1. គ្រូចែកសិស្សជាក្រុមតូច និងចែកផ្នែកសំណួរឱ្យសិស្សធ្វើតាមក្រុម។
2. បន្ទាប់ពីក្រុមនីមួយៗបានសរសេរការសង្ខេបមេរៀន និងចម្លើយសំណួររបស់ពួកគេ គួរគ្រូលើកទឹកចិត្ត និងនាំសិស្សពិភាក្សាលទ្ធផលកិច្ចការរបស់ពួកគេ។



**ចំណេះដឹងបន្ថែម**

ការខ្វះខាតទឹកសាបកាន់តែក្លាយជាបញ្ហាប្រឈមខ្លាំងដែលបណ្តាលមកពីកំណើនប្រជាជនដែលគេបានសន្មតថាជាបញ្ហាបរិស្ថានធ្ងន់ធ្ងរបំផុតនៅក្នុងសតវត្សរ៍ទី 21 ។

សេចក្តីព័ណ៌នាខាងក្រោមនេះគឺជាមូលហេតុសំខាន់នៃការខ្វះខាតទឹកសាប ៖

- 1) ឧស្សាហកម្មអាហារ
- 2) កំណើនប្រជាជន
- 3) ការថយចុះបរិមាណព្រៃឯកភ្លៀងបណ្តាលឱ្យមានការកើនឡើងនៅលើកំពែងផែនដី រាំងស្ងួត ទឹកជំនន់និងកើតវាលរហោរាដែលនាំឱ្យពិបាកផ្គត់ផ្គង់ទឹកសាប។
- 4) ការប្រើប្រាស់ក្នុងឧស្សាហកម្ម។
- 5) ការផ្លាស់ប្តូររបៀបរស់នៅរបស់ប្រជាជនទីក្រុង។
- 6) ការបំពុលទឹក។



**ចម្លើយសំណួរ ៖**

- 1) ទឹកសាបមានប្រភពសំខាន់ពីរគឺ ៖ ទឹកលើផ្ទៃដី និងទឹកក្នុងដី។
- 2) មូលហេតុដែលនាំឱ្យមានការខ្វះខាតទឹកសាបនាពេលអនាគតគឺ ៖ កំណើនកម្ពុជានៅលើផែនដី និងកំណើនប្រជាជន។
- 3) វិធីប្រើប្រាស់ទឹកសាបដោយសន្សំសំចៃមាន ដូចជា ៖
  - បិទក្បាលរូប៊ីណេឱ្យបានជិតល្អ
  - អប់រំតាមសាលារៀន និងសហគមន៍អំពីការថែរក្សាទឹកស្អាត និងស្វែងយល់កាន់តែច្រើនថែមទៀតអំពីការសន្សំសំចៃទឹក។
- 4) កង្វះទឹកសាបនាំឱ្យមានផលវិបាក ដូចជា មនុស្សឆាប់ចាស់ជាងវ័យ មានជំងឺច្រើន កើតទុរភិក្ស បង្កសង្គ្រាមដណ្តើមទឹកគ្នា និងសោកនាមកម្មចំពោះពិភពលោកទាំងមូលទៅថ្ងៃអនាគត។



**សកម្មភាព**

**សំណួរគន្លឹះ:** “យើងនាំគ្នាឆ្លើយសំណួរបញ្ចប់ជំពូកទី 3!”

**សម្ភារៈ** ខ្លឹមសារមេរៀនទំព័រទី 299 ដល់ទី 315 និងសំណួរនៅទំព័រទី 316

**ដំណើរការ**

1. គ្រូចែកសិស្សជាក្រុមតូច និងចែកផ្នែកសំណួរឱ្យសិស្សធ្វើតាមក្រុម។
2. បន្ទាប់ពីក្រុមនីមួយៗបានសរសេរចម្លើយសំណួររបស់ពួកគេ ចូរគ្រូលើកទឹកចិត្ត និងនាំសិស្សពិភាក្សាលទ្ធផលកិច្ចការរបស់ពួកគេ។



**ចម្លើយសំណួរបញ្ចប់ជំពូកទី 3 ទំព័រទី 316**

1. ក. ការកែច្នៃជាថ្មី
  2. ឃ. កត្តាមនុស្ស និងធម្មជាតិ
  3. ខ. កាត់បន្ថយរយៈពេលដុតទឹក
1. គ. CO<sub>2</sub>
  2. ខ. SO<sub>2</sub>
  3. ក. NO
  4. ឃ. CFCs

**សំណួរបញ្ចប់ជំពូកទី 3**

1. ចូរគូសសញ្ញា ✓ ក្នុងប្រអប់ខាងមុខចម្លើយត្រឹមត្រូវ
  1. វិធីកាត់បន្ថយការកកសំណល់រឹង
 

<input type="checkbox"/> ក. កែច្នៃជាថ្មី	<input type="checkbox"/> ខ. ដុតចោល
<input type="checkbox"/> គ. ដាក់កន្លែងសំរាម	<input type="checkbox"/> ឃ. ចោលទៅក្នុងទន្លេ ។
  2. កត្តាដែលនាំឱ្យមានការបំពុលអាកាស
 

<input type="checkbox"/> ក. កត្តាធម្មជាតិ	<input type="checkbox"/> ខ. កត្តាមនុស្ស
<input type="checkbox"/> ឃ. កត្តាមនុស្សនិងធម្មជាតិ	<input type="checkbox"/> គ. សកម្មភាពផ្សេងៗទៀត ។
  3. ដើម្បីសន្សំសំចៃទឹកសាបយើងត្រូវ
 

<input type="checkbox"/> ក. លែងដុតទឹក	<input type="checkbox"/> ខ. កាត់បន្ថយរយៈពេលដុតទឹក
<input type="checkbox"/> គ. បន្ថែមរយៈពេលដុតទឹក	<input type="checkbox"/> ឃ. ដុតទឹកក្នុងស្រះ ។

II. ចូរផ្គុំផ្នែក A និង B ឱ្យបានត្រឹមត្រូវ

A	B	ចម្លើយ
1. ឧស្ម័នកាបូនិច	ក. NO	1. → <input type="checkbox"/>
2. ស្ថានីយឌីអុកស៊ីត	ខ. SO <sub>2</sub>	2. → <input type="checkbox"/>
3. អាសូតម៉ូណូអុកស៊ីត	គ. CO <sub>2</sub>	3. → <input type="checkbox"/>
4. ក្លរូភ្លុយអូរូកាបូន	ឃ. CFCs ង. CH <sub>4</sub>	4. → <input type="checkbox"/>

1. តើសំណល់រឹងមានប្រភពមកពីកន្លែងណាខ្លះ ?
2. ចូររៀបរាប់សារធាតុបំពុលអាកាសសំខាន់ៗ ។
3. តើកត្តាខ្លះដែលនាំឱ្យមានការកើនកម្ដៅនៅលើភពផែនដី ?
4. តើយើងទាំងអស់គ្នាមានវិធានការ ដូចជា ៖ កាត់បន្ថយការប្រើប្រាស់ឥន្ធនៈផូស៊ីល ដាំដើមឈើឱ្យបានច្រើន និងការពារព្រៃឈើដែលមានស្រាប់នៅលើផែនដីឱ្យបានគងវង្ស គ្រប់គ្រងសំណល់ឧស្ម័នកាបូនិចនៅកន្លែងផ្សេងៗក្រៅពីបរិយាកាស និងប្រើប្រាស់វត្ថុផ្សេងៗដែលមិនបង្កគ្រោះថ្នាក់ចំពោះបរិស្ថានសម្រាប់ជំនួសឥន្ធនៈផូស៊ីល។
5. ចូររកមូលហេតុដែលនាំឱ្យមានកង្វះទឹកសាបនាពេលអនាគត ៖ កំណើនកម្ដៅ និងកំណើនប្រជាជន។
6. វិធីប្រើប្រាស់ទឹកសាបដោយសន្សំសំចៃ ៖ បិទក្បាលរ៉ូប៊ីណេឱ្យបានជិតល្អ អប់រំតាមសាលារៀន និងសហគមន៍អំពីការថែរក្សាទឹកស្អាត និងស្វែងយល់កាន់តែច្រើនថែមទៀតអំពីការសន្សំសំចៃទឹក។ល។

316

1. សំណល់រឹងមានប្រភពចេញមកពី ៖ លំនៅឋាន ទីផ្សារ អគារពាណិជ្ជកម្ម មជ្ឈមណ្ឌលផ្គត់ផ្គង់ស្បៀងអាហារ សណ្ឋាគារ ភោជនីយដ្ឋាន ហាងលក់ទំនិញ អ្នកលក់ដូរតាមដងផ្លូវសាធារណៈ តំបន់ទេសចរណ៍ និងកន្លែងផ្សេងៗទៀត។
  2. សារធាតុបំពុលអាកាសសំខាន់ៗមានដូចជា ៖ ឧស្ម័នកាបូនឌីអុកស៊ីត (CO<sub>2</sub>) ស្ថានីយឌីអុកស៊ីត (SO<sub>2</sub>) អាសូតម៉ូណូអុកស៊ីត (NO) អាសូតឌីអុកស៊ីត (NO<sub>2</sub>) ឌីអាសូតម៉ូណូអុកស៊ីត (N<sub>2</sub>O) មេតាន (CH<sub>4</sub>) បង់សែន (C<sub>6</sub>H<sub>6</sub>) ក្លរូភ្លុយអូរូកាបូន (CFCs) ធ្នូលី សំណល់ប្រេង ថ្នាំសម្លាប់សត្វចង្រៃ ...។
  3. កត្តាដែលនាំឱ្យមានការកើនកម្ដៅនៅលើភពផែនដី ៖ កត្តាមនុស្ស និងកត្តាធម្មជាតិ។
  4. ដើម្បីកាត់បន្ថយការកើនកម្ដៅនៅលើភពផែនដី យើងទាំងអស់គ្នាមានវិធានការ ដូចជា ៖ កាត់បន្ថយការប្រើប្រាស់ឥន្ធនៈផូស៊ីល ដាំដើមឈើឱ្យបានច្រើន និងការពារព្រៃឈើដែលមានស្រាប់នៅលើផែនដីឱ្យបានគងវង្ស គ្រប់គ្រងសំណល់ឧស្ម័នកាបូនិចនៅកន្លែងផ្សេងៗក្រៅពីបរិយាកាស និងប្រើប្រាស់វត្ថុផ្សេងៗដែលមិនបង្កគ្រោះថ្នាក់ចំពោះបរិស្ថានសម្រាប់ជំនួសឥន្ធនៈផូស៊ីល។
  5. មូលហេតុដែលនាំឱ្យមានកង្វះទឹកសាបនាពេលអនាគត ៖ កំណើនកម្ដៅ និងកំណើនប្រជាជន។
- វិធីប្រើប្រាស់ទឹកសាបដោយសន្សំសំចៃ ៖ បិទក្បាលរ៉ូប៊ីណេឱ្យបានជិតល្អ អប់រំតាមសាលារៀន និងសហគមន៍អំពីការថែរក្សាទឹកស្អាត និងស្វែងយល់កាន់តែច្រើនថែមទៀតអំពីការសន្សំសំចៃទឹក។ល។

# ចំណេះដឹងបន្ថែម និងសកម្មភាព

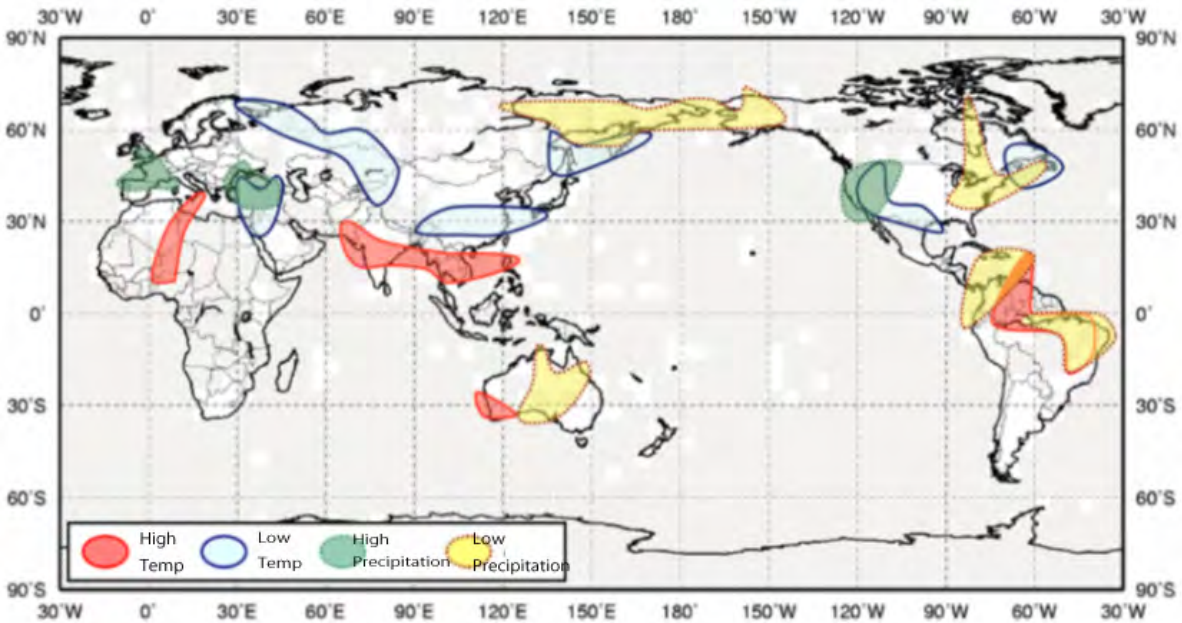
## ចំណេះដឹងបន្ថែម ៖ បំបែកលក្ខណសម្បត្តិ គឺជាបញ្ហាពិភពលោក

គេបានគិតថា “ធាតុអាកាសមិនប្រក្រតី” (ជាមូលហេតុមួយនៃការខ្វះខាតទឹកសាប) កើតឡើងដោយសារព្រឹត្តិការណ៍អែលនីណូ (El Niño) ឬ ឡានីណា (La Niña) កើតឡើង។ ព្រឹត្តិការណ៍អែលនីណូ គឺជាបាតុភូតដែលកើតឡើងមួយដងនៅរៀងរាល់ ១១ឆ្នាំ នៅពេលដែលសីតុណ្ហភាពផ្ទៃទឹកសមុទ្រកើនឡើងខ្ពស់ជាងសីតុណ្ហភាពមធ្យមប្រចាំឆ្នាំនៃទឹកសមុទ្រដែលស្ថិតនៅចន្លោះឆ្នេរប្រទេសប៉េរូនៃទ្វីបអាមេរិចខាងត្បូងចាប់ពីខ្សែចែកម៉ោងនៅក្នុងតំបន់អេក្វាទ័រនៃមហាសមុទ្រប៉ាស៊ីហ្វិក។ រីឯព្រឹត្តិការណ៍អែលនីណូ គឺជាបាតុភូតដែលកើតឡើងនៅពេលដែលសីតុណ្ហភាពផ្ទៃទឹកសមុទ្រធ្លាក់ចុះទាបជាងសីតុណ្ហភាពមធ្យមប្រចាំឆ្នាំនៃទឹកសមុទ្រនៅតំបន់សមុទ្រដដែល។

បើប្រៀបធៀបជាមួយឆ្នាំធម្មតាវិញ គេសង្កេតឃើញថាសីតុណ្ហភាព និងទឹកភ្លៀងខ្ពស់ជាងឬទាបជាងធម្មតា នៅពេលដែលមានព្រឹត្តិការណ៍មួយក្នុងព្រឹត្តិការណ៍ទាំងពីរនេះកើតឡើង។ ឧទាហរណ៍ ព្រឹត្តិការណ៍ទាំងនេះបណ្តាលឱ្យមានទឹកជំនន់កើតឡើងដោយសារភ្លៀងធ្លាក់ខ្លាំង និងបណ្តាលឱ្យមានគ្រោះរាំងស្ងួតកើតឡើង ដោយសារភ្លៀងធ្លាក់តិចតួចហួសហេតុ។ ផលប៉ះពាល់អវិជ្ជមាននេះបានជះឥទ្ធិពលមកលើជីវិតរបស់មនុស្សដែលយើងត្រូវតែត្រួតពិនិត្យដោយប្រុងប្រយ័ត្នមកលើបាតុភូតអែលនីណូ ដែលគេបានចាត់ទុកថាជាមូលហេតុនាំឱ្យមានធាតុអាកាសមិនប្រក្រតីនេះ។

ក្រា ខា ងក្រោមនេះបង្ហាញពីធាតុអាកាស ដែលកើតឡើងដោយសារបាតុភូតអែលនីណូ នៅចន្លោះខែមិថុនាដល់ខែសីហា។ ក្រាបនេះបង្ហាញថាសីតុណ្ហភាពទាប/ខ្ពស់ និងកម្ពស់ទឹកភ្លៀងខ្ពស់/ទាប។ នៅពេលដែលបាតុភូតអែលនីណូកើតឡើងចាប់ពីខែមិថុនាដល់ខែសីហា វាបានធ្វើឱ្យប្រទេសកម្ពុជាចាប់ផ្តើមមានធាតុអាកាសក្តៅ។ រីឯបាតុភូតអែលនីណូ ដែលកើតឡើងចាប់ពីខែធ្នូដល់ខែកុម្ភៈ វាបានធ្វើឱ្យប្រទេសកម្ពុជាមានធាតុអាកាសត្រជាក់។

ផែនទីតំបន់រងព្រឹត្តិការណ៍អែលនីណូ (El Niño) ឬ ឡានីណា (La Niña)



ប្រភព ៖ ភ្នាក់ងារឧតុភូតវិទ្យានៃប្រទេសជប៉ុន (Japan Meteorological Agency)

- កំណត់ចំណាំ ៖
- ពណ៌ក្រហម ៖ សីតុណ្ហភាពខ្ពស់
- ពណ៌ផ្ទៃមេឃ ៖ សីតុណ្ហភាពទាប
- ពណ៌បៃតង ៖ កម្ពស់ទឹកភ្លៀងខ្ពស់
- ពណ៌លឿង ៖ កម្ពស់ទឹកភ្លៀងទាប

**សកម្មភាព ៖ យើងនាំគ្នាធ្វើឧបករណ៍ផលិតទឹកស្អាត**

1. ប្រធានបទ៖ យើងនាំគ្នាធ្វើឧបករណ៍ផលិតទឹកស្អាត
2. សម្ភារដែលត្រូវការ៖ ដបទឹកសុទ្ធ សំលី ខ្សាច់ ធុរុង
3. របៀបធ្វើ៖
  - (1) កាត់ដបទឹកសុទ្ធត្រង់កម្ពស់ 2cm ពីបាតក្រោម
  - (2) ចោះត្រង់ចំណុចកណ្តាលនៃដបដបទឹកសុទ្ធ
  - (3) បិទគំរប
  - (4) ដាក់សំឡី ខ្សាច់ សំឡី ធុរុង សំឡី ខ្សាច់ តាមលំដាប់ចូលក្នុងដបទឹកសុទ្ធ។

**ចំណាំ៖**

- ទឹកនេះមិនសូវស្អាតទេ ដូច្នេះសូមកុំញ៉ាំទឹកនេះ។ (ប៉ុន្តែទឹកនេះអាចផឹកបាន បន្ទាប់ពីវាត្រូវបានបន្សុទ្ធ និងសម្លាប់មេរោគក្នុងទឹករួចរាល់)។
- ប្រសិនបើគ្មានធុរុង គួរប្រើខ្សាច់ជាដើម។





# បង្ហាញ ការដាក់ពិន្ទុ និងការវិនិច្ឆ័យ

## បង្ហាញ និងការដាក់ពិន្ទុ (ពិន្ទុសរុប 50 ពិន្ទុ)

1. ង. 15% (5 ពិន្ទុ)

<b>ការដាក់ពិន្ទុ:</b>	5 ពិន្ទុ = ជ្រើសរើសចម្លើយ ង.
	0 ពិន្ទុ = ជ្រើសរើសចម្លើយ ក. ខ. គ. ឃ.

2. ខ. ទឹកនៅលើដី និងទឹកក្នុងដី (5 ពិន្ទុ)

<b>ការដាក់ពិន្ទុ:</b>	5 ពិន្ទុ = ជ្រើសរើសចម្លើយ ខ.
	0 ពិន្ទុ = ជ្រើសរើសចម្លើយ ក. គ. ឃ.

3. ក. កើនឡើង (5 ពិន្ទុ)

<b>ការដាក់ពិន្ទុ:</b>	5 ពិន្ទុ = ជ្រើសរើសចម្លើយ ក.
	0 ពិន្ទុ = ជ្រើសរើសចម្លើយ ខ. គ. ឃ.

4. ង. ទ្វីបអាស៊ី (5 ពិន្ទុ)

<b>ការដាក់ពិន្ទុ:</b>	5 ពិន្ទុ = ជ្រើសរើសចម្លើយ ង.
	0 ពិន្ទុ = ជ្រើសរើសចម្លើយ ក. ខ. គ. ឃ.

5. ខ. 26-50% (5 ពិន្ទុ)

<b>ការដាក់ពិន្ទុ:</b>	5 ពិន្ទុ = ជ្រើសរើសចម្លើយ ខ.
	0 ពិន្ទុ = ជ្រើសរើសចម្លើយ ក. គ. ឃ. ង.

6. ក. គម្រោងធារាសាស្ត្រឆ្នាំព្រៃ (5 ពិន្ទុ)

<b>ការដាក់ពិន្ទុ:</b>	5 ពិន្ទុ = ជ្រើសរើសចម្លើយ ក.
	0 ពិន្ទុ = ជ្រើសរើសចម្លើយ ខ. គ.

7. ក. អាជ្ញាធរផ្គត់ផ្គង់ទឹកស្អាតរាជធានីភ្នំពេញ (5 ពិន្ទុ)

<b>ការដាក់ពិន្ទុ:</b>	5 ពិន្ទុ = ជ្រើសរើសចម្លើយ ក.
	0 ពិន្ទុ = ជ្រើសរើសចម្លើយ ខ. គ.

8. ក. សីតុណ្ហភាពខ្ពស់ (5 ពិន្ទុ)

<b>ការដាក់ពិន្ទុ:</b>	5 ពិន្ទុ = ជ្រើសរើសចម្លើយ ក.
	0 ពិន្ទុ = ជ្រើសរើសចម្លើយ ខ. គ. ឃ. ង.

9. ឆ. ចម្លើយទាំងអស់ (5 ពិន្ទុ)

<b>ការដាក់ពិន្ទុ:</b>	5 ពិន្ទុ = ជ្រើសរើសចម្លើយ ឆ.
	0 ពិន្ទុ = ជ្រើសរើសចម្លើយ ក. ខ. គ. ឃ. ច.

10. ខ. 25% (5 ពិន្ទុ)

<b>ការដាក់ពិន្ទុ:</b>	5 ពិន្ទុ = ជ្រើសរើសចម្លើយ ខ.
	0 ពិន្ទុ = ជ្រើសរើសចម្លើយ ក. គ. ឃ. ង.

**ការវិនិច្ឆ័យ**

ពិន្ទុ	ការវិនិច្ឆ័យ និងសំណូមពរសម្រាប់ការបង្រៀន
0 – 20	សិស្សដែលទទួលបានពិន្ទុនៅចន្លោះនេះ មានន័យថាពួកគេមិនទាន់មានចំណេះដឹងមូលដ្ឋាន និងជំនាញវិភាគខ្លឹមសារ វិទ្យាសាស្ត្រស្តីពី “ការខ្វះទឹកសាបទៅអនាគត” ឡើយ។ ដូច្នេះ សិស្សដែលទទួលបានពិន្ទុនៅចន្លោះនេះ ត្រូវតែធ្វើការ សិក្សាពីមូលដ្ឋាននៃ “ការខ្វះទឹកសាបទៅអនាគត” ឡើងវិញដោយអំណានមេរៀននេះឡើងវិញ ហើយគ្រូគប្បីលើក ឧទាហរណ៍ងាយៗទាក់ទងនឹងចំណេះដឹងមូលដ្ឋានមានស្រាប់របស់ពួកគេ ។
21 – 30	សិស្សដែលទទួលបានពិន្ទុនៅចន្លោះនេះ មានន័យថាពួកគេមិនទាន់អាចពន្យល់បានគ្រប់គ្រាន់ពីចំណេះដឹងមូលដ្ឋាន និង ជំនាញវិភាគងាយៗលើខ្លឹមសារវិទ្យាសាស្ត្រស្តីពី “ការខ្វះទឹកសាបទៅអនាគត” ដូចជា ទិន្នន័យសំខាន់ៗជាចំនួន និងជា ពាក្យគន្លឹះ។ ដូច្នេះ គ្រូគប្បីចង្អុលបង្ហាញដើម្បីរំលឹកចំណុចសំខាន់ៗនៃមេរៀន។
31 – 40	សិស្សដែលទទួលបានពិន្ទុនៅចន្លោះនេះ មានន័យថាពួកគេអាចពន្យល់បានច្រើនពីខ្លឹមសារ និងជំនាញវិភាគស៊ីជម្រៅលើ ខ្លឹមសារវិទ្យាសាស្ត្រស្តីពី “ការខ្វះទឹកសាបទៅអនាគត”។ នេះដោយសារពួកគេមិនទាន់ឈានដល់កម្រិតមួយដែលពួកគេ អាចប្រើប្រាស់ចំណេះដឹងរបស់ពួកគេដើម្បីដោះស្រាយបញ្ហាវិទ្យាសាស្ត្រនៅឡើយ។ ដូច្នេះ គ្រូគួរតែនាំសិស្សពិភាក្សាឱ្យ បានគ្រប់គ្រាន់ ហើយឱ្យពួកគេឡើងធ្វើបទបង្ហាញឱ្យបានច្បាស់លាស់ពីចំណុចសំខាន់ៗរបស់មេរៀននេះ ដើម្បីជួយពួកគេ បន្ថែមទៀតក្នុងការអនុវត្តរបៀបរៀនល្អ។
41 – 50	សិស្សដែលទទួលបានពិន្ទុនៅចន្លោះនេះ មានន័យថាពួកគេអាចពន្យល់បានពីខ្លឹមសារ និងជំនាញវិភាគស៊ីជម្រៅគ្រប់គ្រាន់ លើខ្លឹមសារវិទ្យាសាស្ត្រស្តីពី “ការខ្វះទឹកសាបទៅអនាគត”។ ទោះជាយ៉ាងណាក៏ដោយ គ្រូត្រូវផ្តល់ការណែនាំក្នុងការ ប្រមូលព័ត៌មានចេញពីទូរទស្សន៍ សារព័ត៌មាន និងអ៊ិនធឺណិតបន្ថែម ដើម្បីឱ្យពួកគេបង្កើនចំណេះដឹង និងជំនាញរបស់ ពួកគេកាន់តែស៊ីជម្រៅ ។

គាំទ្រដោយ



**STEPSAM** ឌី.អិល