



ក្រសួងអប់រំ យុវជន និងកីឡា

សៀវភៅណែនាំសម្រាប់គ្រូបង្រៀន

**គណិតវិទ្យា**

**ថ្នាក់ទី ៧**



**ព្រះរាជាណាចក្រកម្ពុជា**  
**ជាតិ សាសនា ព្រះមហាក្សត្រ**

**ក្រសួងអប់រំ យុវជន និងកីឡា**

**លេខ: ៤៩៣ អយក.បប**

រាជធានីភ្នំពេញ ថ្ងៃទី ០១ ខែកុម្ភៈ ឆ្នាំ២០១៦

**ជម្រាបជូន**

**លោក លោកស្រីប្រធានមន្ទីរអប់រំ យុវជន និងកីឡារាជធានី ខេត្ត**

**កម្មវត្ថុ** ៖ ការអនុញ្ញាតឱ្យប្រើប្រាស់សៀវភៅណែនាំសម្រាប់គ្រូបង្រៀនមុខវិជ្ជាគណិតវិទ្យា និងវិទ្យាសាស្ត្រ។

សេចក្តីដូចមានចែងក្នុងកម្មវត្ថុខាងលើ ខ្ញុំសូមជម្រាបលោក លោកស្រីថា ក្រសួងអនុញ្ញាតឱ្យប្រើប្រាស់សៀវភៅណែនាំសម្រាប់គ្រូបង្រៀនមុខវិជ្ជាគណិតវិទ្យា និងវិទ្យាសាស្ត្រថ្នាក់ទី៧ ទី៨ និងទី៩ ដើម្បីលើកកម្ពស់គុណភាព និងប្រសិទ្ធភាពនៃការបង្រៀននិងរៀននៅកម្រិតមធ្យមសិក្សាបឋមភូមិ។

ដើម្បីអនុវត្តខ្លឹមសារនេះប្រកបដោយប្រសិទ្ធភាព លោក លោកស្រីត្រូវយកចិត្តទុកដាក់ប្រើប្រាស់ឯកសារនេះក្នុងគោលបំណង៖

- ១- បណ្តុះបណ្តាលគុណសិស្សនៅតាមមជ្ឈមណ្ឌលគរុកោសល្យភូមិភាគ
- ២- បង្រៀនសិស្សានុសិស្សនៅតាមសាលាមធ្យមសិក្សាបឋមភូមិ
- ៣- ធ្វើវិក្រឹតការគ្រូមធ្យមសិក្សាបឋមភូមិដើម្បីមានសមត្ថភាពក្នុងការបង្រៀន។

ក្រសួងសង្ឃឹមថា លោក លោកស្រីនឹងខិតខំយកចិត្តទុកដាក់ និងប្រើប្រាស់ឯកសារនេះឱ្យអស់លទ្ធភាព ដើម្បីពង្រឹងគុណភាពនៃការបង្រៀន និងរៀន សំដៅប្រែក្លាយគ្រូបង្រៀន និង សិស្សានុសិស្សឱ្យក្លាយជាអ្នកបង្រៀនល្អ និងរៀនល្អ។

**រដ្ឋមន្ត្រីក្រសួងអប់រំ យុវជន និងកីឡា**




**ចម្លងជូន**

- សាលារាជធានី ខេត្ត "ដើម្បីសូមជ្រាបជាព័ត៌មាន "
- អង្គភាពពាក់ព័ន្ធក្រោមឱវាទក្រសួងអប់រំ យុវជន និងកីឡា " ដើម្បីជាព័ត៌មាន "
- មជ្ឈមណ្ឌលគរុកោសល្យភូមិភាគរាជធានី ខេត្ត " ដើម្បីអនុវត្ត "
- កាលប្បវត្តិ
- ឯកសារ: នាយកដ្ឋានបណ្តុះបណ្តាល និង វិក្រឹតការ

**បណ្ឌិត ហង់ ជួន ណារ៉ុន**

# មាតិកា

ល.រ	អត្ថបទ	ទំព័រ
1	សេចក្តីណែនាំ .....	i
2	មាតិកា .....	ii
3	គណៈកម្មការ .....	iii
4	រូបធាតុ .....	1-18
5	ចំណែកថ្នាក់រូបធាតុ .....	19-38
6	បំលែងភាពរូបនៃរូបធាតុ .....	40-52
7	កត្តានៃបំលែងរូបធាតុ .....	53-67
8	ខ្យល់ .....	69-85
9	ធាតុកង្វក់ខ្យល់ .....	86-103

**គណៈកម្មការសម្របសម្រួល**

ឯកឧត្តមបណ្ឌិត ណាត ប៊ុនរៀន	រដ្ឋលេខាធិការ ក្រសួងអប់រំ យុវជន និងកីឡា
ឯកឧត្តម ពុត សាមិត្ត	អគ្គនាយកនៃអគ្គនាយកដ្ឋានអប់រំ
ឯកឧត្តម លឹម សុផា	អគ្គនាយកនៃអគ្គនាយកដ្ឋានគោលនយោបាយ និងផែនការ
ឯកឧត្តមបណ្ឌិត សៀង សុវណ្ណា	នាយកវិទ្យាស្ថានជាតិអប់រំ
ឯកឧត្តម លាង សេងហាក់	ទីប្រឹក្សាក្រសួងអប់រំ យុវជន និងកីឡា
លោក លី សុទ្ធី	អគ្គនាយករងនៃអគ្គនាយកដ្ឋានរដ្ឋបាល និងហិរញ្ញវត្ថុ
លោក ង៉ោ ប៉េងឡុង	ប្រធាននាយកដ្ឋានបណ្តុះបណ្តាល និងវិក្រឹតការ
លោក អ៊ឹង ង៉ោហុក	ប្រធាននាយកដ្ឋានមធ្យមសិក្សាចំណេះទូទៅ
លោក អោ សៀម	ប្រធាននាយកដ្ឋានអភិវឌ្ឍកម្មវិធីសិក្សា

**គណៈកម្មការនិពន្ធ និងត្រួតពិនិត្យ**

លោកបណ្ឌិត សិត សេង	ប្រធានដេប៉ាតឺម៉ង់គ្រប់គ្រងនិងផែនការនៃវិទ្យាស្ថានជាតិអប់រំ
លោកស្រី ប៊ុន ជានស៊ីផល	អធិការមធ្យមនៃនាយកដ្ឋានមធ្យមសិក្សាចំណេះទូទៅ
លោក តុង រូហ្សែត	អនុប្រធានការិយាល័យនៃនាយកដ្ឋានបណ្តុះបណ្តាល និងវិក្រឹតការ
លោក អ៊ឹង សុខា	មន្ត្រីជំនាញនាយកដ្ឋានអភិវឌ្ឍកម្មវិធីសិក្សា
សាស្ត្រាចារ្យ ឃីតា ម៉ាសាកាហ្ស៊ី	អ្នកជំនាញការជំរុញនៃគម្រោង STEPSAM3

# មេរៀនទី១

# រូបធាតុ

## វត្ថុបំណង

តាមសៀវភៅសិក្សាគោល បន្ទាប់ពីរៀនមេរៀននេះសិស្ស៖

- ពណ៌នាពីនិយមន័យរូបធាតុ
- ពណ៌នាពីភាពរូបទាំងបីនៃរូបធាតុ
- ប្រៀបធៀបលក្ខណៈ និងបម្រើបម្រាស់រូបធាតុ

## ផែនការមេរៀន

មេរៀននេះត្រូវបង្រៀន ៦ ម៉ោងសិក្សា ដូចបង្ហាញនៅក្នុងតារាងខាងក្រោម ទៅតាមលំដាប់លំដោយនៃមេរៀន។ ទោះជាយ៉ាងណាក៏ដោយ គ្រូបង្រៀនអាចប្រើប្រាស់ទេពកោសល្យ ភាពទន់ភ្លន់ និងបត់បែនរបស់ខ្លួន ថ្លែងប្រឌិតការ បង្រៀនទៅតាមកម្រិតយល់ដឹងរបស់សិស្ស និងស្ថានភាព តាមថ្នាក់ជាក់ស្តែង ដើម្បីសម្របសម្រួលទៅនឹងសកម្មភាពបង្រៀន និងរៀនដែលបានស្នើនៅក្នុងការណែនាំនេះ។

**តារាងទី១ ចំណងជើងរង និងបំណែងចែកម៉ោងបង្រៀន**

ចំនួនម៉ោងសិក្សា	ចំណងជើងរងនៃមេរៀន	ទំព័រ
1	1. រូបធាតុ	96 - 97
1	2. លក្ខណៈនៃរូបធាតុ 2.1. វត្ថុរឹង 2.2. វត្ថុរាវ	97 - 98
1	ពិសោធន៍ : ការរីកមាឌ និងរួមមាឌរបស់វត្ថុរាវ	99 – 100
1	2.3. ឧស្ម័ន ពិសោធន៍ : លក្ខណៈរូបរបស់ឧស្ម័ន	100 – 101
1	3. បម្រើបម្រាស់រូបធាតុ អនុវត្តន៍	102 - 103
1	មេរៀនសង្ខេប សំណួរ	103 - 105

**សេចក្តីណែនាំសម្រាប់ការបង្រៀន**

តារាងខាងក្រោមបង្ហាញពីវត្ថុបំណង សកម្មភាពបង្រៀន-រៀន និងរង្វាយតម្លៃតាមបំណែងចែកម៉ោងបង្រៀននីមួយៗ។ គ្រូបង្រៀនរំពឹងថានឹងអនុវត្តសកម្មភាពបង្រៀន និងរៀនដូចមានរៀបរាប់ក្នុងតារាងនេះ និងវាយតម្លៃលទ្ធផលសិក្សារបស់សិស្សតាមលក្ខណៈវិនិច្ឆ័យសមស្រប។ សិស្សនឹងមានឱកាសអនុវត្តសកម្មភាពផ្សេងៗ ដើម្បីសិក្សាលេខយល់ពីរូបធាតុ និងលក្ខណៈរបស់វា។

**តារាងទី២ ផែនការបង្រៀន និងរង្វាយតម្លៃ**

ចំនួនម៉ោងសិក្សា	វត្ថុបំណង	សកម្មភាព	លទ្ធផលរង្វាយតម្លៃ
1	ពណ៌នាពីនិយមន័យរបស់រូបធាតុ និងរៀនធ្វើការបែងចែករូបធាតុជាក្រុមតាមភាពរូបទាំងបី។	សិស្សធ្វើការជាក្រុម ដើម្បីពិភាក្សាលេខយល់ពីរូបធាតុ និងធ្វើការបែងចែករូបធាតុនៅជុំវិញខ្លួនរបស់ពួកគេជាក្រុម តាមភាពរូបទាំងបី រឹង រាវ និងឧស្ម័ន។	សិស្សពណ៌នាពីនិយមន័យរបស់រូបធាតុ និងធ្វើការបែងចែករូបធាតុដែលនៅជុំវិញខ្លួនជាក្រុមបានត្រឹមត្រូវ។
1	ពណ៌នាពីលក្ខណៈនៃរូបធាតុ និងសិក្សាលក្ខណៈខុសគ្នារវាងភាពរូបរឹងនិងភាពរូបរាវ។	សិស្សធ្វើការជាក្រុម ដើម្បីសង្កេតរូបធាតុនៅជុំវិញខ្លួនរបស់គេ និងធ្វើការវិភាគពីលក្ខណៈខុសគ្នារវាងភាពរូបរឹង និងភាពរូបរាវ នៃរូបធាតុ។	សិស្សពណ៌នាពីភាពរូបទាំងបីនៃរូបធាតុនិងពន្យល់ពីលក្ខណៈខុសគ្នារវាងភាពរូបរឹងនិងភាពរូបរាវបានត្រឹមត្រូវ។
1	ពន្យល់ពីការរីកមាឌនិងរួមមាឌរបស់វត្ថុរាវ (ទឹក) ។	សិស្សធ្វើការជាក្រុម ដើម្បីសង្កេតពិសោធន៍ពីការរីកមាឌ និងរួមមាឌរបស់វត្ថុរាវ (ទឹក) និងពន្យល់ពីបម្រែបម្រួលការតាំងនៅរបស់ភាគល្អិតក្នុងវត្ថុរាវ។	សិស្សពន្យល់ពីការរីកមាឌ និងរួមមាឌរបស់វត្ថុរាវ (ទឹក) បានត្រឹមត្រូវ។
1	ពន្យល់ពីលក្ខណៈរបស់ឧស្ម័ន។	សិស្សធ្វើការជាក្រុម ដើម្បីសង្កេតពិសោធន៍ពីលក្ខណៈរបស់ឧស្ម័ន និងពន្យល់ពីបម្រែបម្រួលការតាំងនៅរបស់ភាគល្អិតក្នុងឧស្ម័ន។	សិស្សពន្យល់ពីលក្ខណៈរបស់ឧស្ម័នបានត្រឹមត្រូវ។
1	ប្រៀបធៀបលក្ខណៈ និងបម្រើបម្រាស់នៃរូបធាតុ។	សិស្សធ្វើការជាក្រុម ដើម្បីពិភាក្សាពីការប្រើប្រាស់រូបធាតុនៅក្នុងជីវភាពប្រចាំថ្ងៃទៅតាមលក្ខណៈពិសេសរបស់វានីមួយៗ។	សិស្សប្រៀបធៀបលក្ខណៈ និងបម្រើបម្រាស់នៃរូបធាតុបានត្រឹមត្រូវ។
1	សង្ខេបនិងឆ្លើយសំណួរមេរៀន។	សិស្សសង្ខេបពីអ្វីដែលគេបានរៀន និងឆ្លើយសំណួរនៅក្នុងសៀវភៅសិក្សាគោល ជាក្រុមឬជាបុគ្គល។	សិស្សសង្ខេប និងឆ្លើយសំណួរនៅក្នុងមេរៀននេះបានត្រឹមត្រូវ ។

**ចំណុចសំខាន់ៗនៃការបង្រៀន**

មេរៀននេះផ្តោតសំខាន់ទៅលើរូបធាតុទាំងឡាយដែលមានវត្តមាន និងប្រើប្រាស់នៅក្នុងជីវភាពប្រចាំថ្ងៃ។ ដូច្នេះ គ្រូបង្រៀនត្រូវផ្តល់ឱកាសដល់សិស្សសិក្សាពីលក្ខណៈខុសគ្នារវាងភាពរូបទាំងបីរបស់រូបធាតុដោយផ្ទាល់ ដើម្បីឱ្យសិស្សអាចសិក្សាលេខយល់បានស៊ីជម្រៅ និងអាចបកស្រាយបានពីរូបធាតុ និងលក្ខណៈរបស់រូបធាតុបានល្អប្រសើរនៅបន្ទាប់ពីបានសិក្សាមេរៀននេះចប់។

**ចំណេះដឹងមូលដ្ឋានសម្រាប់មេរៀននេះ**

ដើម្បីរៀនមេរៀននេះ សិស្សចាំបាច់ត្រូវមានចំណេះដឹងមូលដ្ឋាន និងស្គាល់ពាក្យបច្ចេកទេសមួយចំនួនស្តីពីវត្ថុទាំងឡាយដែលមាននៅជុំវិញខ្លួនរបស់ពួកគេ។ ឧទាហរណ៍៖ ដុំថ្ម (រឹង), ទឹក (រាវ), ខ្យល់ (ឧស្ម័ន)។ ដូច្នេះ នៅក្នុងមេរៀននេះ សិស្សអាចប្រើប្រាស់ពាក្យបច្ចេកទេសទាំងនេះក្នុងការធ្វើសកម្មភាពក្នុងថ្នាក់ ពិភាក្សាល្បែងយល់ពីលក្ខណៈខុសគ្នារបស់រូបធាតុបាន យ៉ាងមានប្រសិទ្ធភាព។ លក្ខណៈរូបធាតុ និងពាក្យបច្ចេកទេសមួយចំនួន សិស្សបានសិក្សារួចមកហើយនៅបឋមសិក្សា។

ជាមួយគ្នានេះដែរ នៅរៀងរាល់មុនម៉ោងសិក្សា គ្រូបង្រៀនត្រូវរំលឹកសិស្សរាល់ចំណេះដឹងសំខាន់ៗដែលពាក់ព័ន្ធនឹងមេរៀនដែលគ្រូរៀនបន្តជាចាំបាច់។ ឧទាហរណ៍៖ នៅម៉ោងទី1 នៃមេរៀននេះ គ្រូអាចសួរឱ្យសិស្សពិភាក្សាគ្នាជាក្រុម ឬគិតជាបុគ្គលអំពីរូបធាតុទាំងឡាយដែលគេបានស្គាល់ នៅក្នុងជីវភាពប្រចាំថ្ងៃ និងបន្ទាប់មកឱ្យសិស្សចាត់រូបធាតុទាំងនោះចូលទៅតាមក្រុម តាមដែលពួកគេបានគិតថាវាមានលក្ខណៈដូចគ្នា ឬខុសគ្នាជាដើម។

# រូបធាតុ



**វត្ថុម៉ែន** ពណ៌នាពីនិយមន័យ របស់រូបធាតុ និងរៀនធ្វើការបែងចែក រូបធាតុជាក្រុម។

## សកម្មភាពបង្រៀន និងរៀន



### សំណួរ

ដូចម្តេចដែលហៅថារូបធាតុ? ចូរចាត់ រូបធាតុដែលអ្នកស្គាល់ជាក្រុម។



- គ្រូអាចប្រើវិធីអនុមានព្រែក (ប្រាប់ សិស្សពីនិយមន័យ រូបធាតុភ្លាមៗ) ឬ អនុមានរួម (ទុកឱ្យសិស្សរកខ្លួនឯងនៅចុង មេរៀន)។

- គ្រូឱ្យសិស្សរៀបរាប់ពីវត្ថុទាំងឡាយក្នុង ជីវភាពប្រចាំថ្ងៃឱ្យបានកាន់តែច្រើនកាន់តែ ប្រសើរ ដោយគ្រូកត់ឈ្មោះវត្ថុទាំងអស់ នោះនៅលើក្តារខៀន។

- គ្រូឱ្យសិស្សធ្វើការជាក្រុម ដើម្បីពិភាក្សា គ្នាចាត់វត្ថុដែលគេបានរៀបរាប់ទាំងនោះ ជាក្រុម ដែលគេគិតថាមានលក្ខណៈ ស្រដៀងគ្នា។ រួចឱ្យសិស្សបង្ហាញ និងពន្យល់ពីគំនិតរបស់ពួកគេ។

- គ្រូសង្ខេបគំនិតសិស្ស ដោយទាញទៅរកភាពរួមទាំងបីរបស់រូបធាតុគឺ ក្រុមវត្ថុរឹង វត្ថុរាវ និងវត្ថុឧស្ម័ន។



### ចំណេះដឹងបន្ថែម

- រាល់វត្ថុទាំងអស់ដែលមានម៉ាស និងមាឌតាំងនៅក្នុងលម្អហៅថា រូបធាតុ។  
- សំឡេង ពន្លឺ កម្ដៅ ថាមពល ឥន្ធនូ កម្ដៅ។ល។ មិនមែនជារូបធាតុទេ។

**ឧទាហរណ៍៖** ម៉ាសទូរស័ព្ទដៃដែលកំពុងមានសំឡេងរោរមានម៉ាសស្មើទូរស័ព្ទដៃដែលគ្មានសំឡេងរោរ។ ដូច្នោះ សំឡេងគ្មានម៉ាសទេ។

ពិលដែលចុចឱ្យភ្លឺ មានម៉ាសស្មើពិលដែលមិនចុចឱ្យភ្លឺ ដូច្នោះពន្លឺគ្មានម៉ាសទេ។

**សម្គាល់៖** គ្រូគប្បីត្រៀមសម្ភារៈ(រូបធាតុ)មួយចំនួនក្នុងជីវភាពប្រចាំថ្ងៃសម្រាប់ឱ្យសិស្សសង្កេត និងធ្វើបំណែងចែក ទៅតាមប្រភេទ ឬលក្ខណៈរបស់វា ជាបុគ្គល ឬជាក្រុម។

## មេរៀន

# 1

## រូបធាតុ


**ចប់មេរៀននេះ សិស្សអាច**

- ពណ៌នាពីនិយមន័យរូបធាតុ
- ពណ៌នាពីភាពរួមទាំងចំនៃរូបធាតុ
- ប្រៀបធៀបលក្ខណៈ និងបម្រើបម្រាស់រូបធាតុ

ភាវៈទាំងអស់ដែលនៅជុំវិញយើង ទោះបីយើងអាចមើលឃើញដោយភ្នែកទេក្តី មើលមិន ឃើញដោយភ្នែកទេក្តី ឬមិនបានក្តីសុទ្ធសឹងជារូបធាតុទាំងអស់។

### 1. រូបធាតុ

ចូរពិនិត្យរូបភាពខាងក្រោមនេះតើអ្នកឃើញអ្វីខ្លះ? តើវត្ថុទាំងនោះមានម៉ាសនិងមាឌដែរឬទេ?

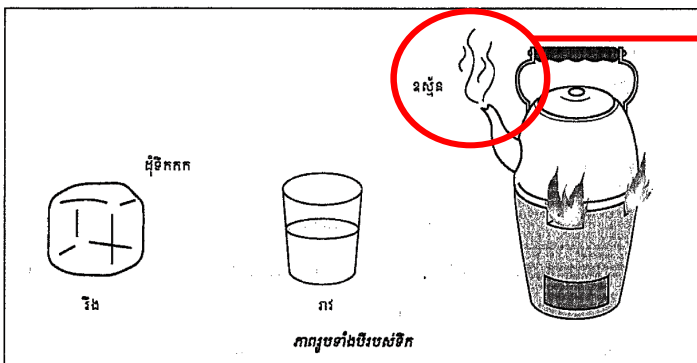


អគារ ទឹកស្ទឹង ភ្នំ ពពក និងភាវៈរស់តូចៗសុទ្ធតែមានម៉ាសនិងមាឌតាំងក្នុងលំហដូចគ្នា ។  
**និយមន័យ :** ភាវៈទាំងឡាយណាដែលមានម៉ាសនិងមាឌតាំងក្នុងលំហ ហៅថា រូបធាតុ ។  
**ឧទាហរណ៍ :** ខ្យល់ សមុទ្រ ដី អគារ សត្វ ព្រះអាទិត្យ ភាព . . . ជារូបធាតុ ។  
 រូបធាតុអាចស្ថិតនៅក្នុងសណ្ឋានបីយ៉ាងគឺ រឹង រាវ និងឧស្ម័ន ។ សណ្ឋានទាំងបីនៃរូបធាតុនេះ ហៅថា “ ភាពរួមនៃរូបធាតុ ” ។  
 កម្ដៅ សំឡេង ពន្លឺ អារម្មណ៍ . . . មិនមែនជារូបធាតុទេ ព្រោះវាគ្មានម៉ាសនិងមាឌតាំងក្នុង លំហ ។

ឧទាហរណ៍ភាពរូបទាំងបីនៃរូបធាតុ

រឹង	រាវ	ឧស្ម័ន

ជាទូទៅទឹកជារូបធាតុដែលយើងតែងប្រទះឃើញក្នុងភាពរូបទាំងបី ។ ទឹកមានភាពរឹង គឺទឹកកក ទឹកមានភាពរាវគឺ ទឹកបឹង ទន្លេ . . . ។ ចំណែកឯទឹកមានភាពជាឧស្ម័នគឺ ចំហាយទឹក ។



2. លក្ខណៈរូបនៃរូបធាតុ

វត្ថុទាំងឡាយបង្កឡើងពីរូបធាតុ ។ ឧបមាថាយើងចង់ពណ៌នាពីវត្ថុមួយប្រាប់ដល់នរណាម្នាក់ នោះ យើងត្រូវប្រើពាក្យរសជាតិ ពណ៌ រាង ទំហំ ទម្ងន់ ភាពរូប (រឹង រាវ ឬឧស្ម័ន . . .) ។ ពាក្យទាំងអស់នេះហៅថា លក្ខណៈរូបនៃរូបធាតុ ។ លក្ខណៈរូបនៃរូបធាតុគឺផ្អែកទៅលើប្រភេទនៃរូបធាតុដែលបង្កវា ។ **ឧទាហរណ៍** ស្ករមានរសជាតិផ្អែមនិងអំបិលមានរសជាតិប្រៃ ។

ផ្សែងពណ៌សដែលភាយចេញពីកំសៀវនៅពេលទឹកពុះ មិនមែនជាឧស្ម័នទេ។ ផ្សែងពណ៌សនេះ គឺជាតំណក់ទឹកតូចៗដែលកើតពីកំណាញ់សនៃចំហាយទឹកភាយចេញពីកំសៀវ។ ពេលទឹកពុះទឹកបំប្លែងជាចំហាយ (ឧស្ម័ន) នៅសីតុណ្ហភាព 100°C ដែលភាយចេញមកខាងក្រៅ ប៉ះនឹងបរិយាកាសជុំវិញមានសីតុណ្ហភាពទាបជាងខាងក្នុងកំសៀវ ធ្វើឱ្យឧស្ម័នបំប្លែងជាកំណាញ់សភ្លាមៗ កើតជាតំណក់តូចៗ ដែលយើងមើលឃើញជាផ្សែងពណ៌ស។ ទោះជាយ៉ាងណាក៏ដោយ ដោយសារតំណក់ទឹកទាំងនោះមានទំហំតូចៗខ្លាំង វាងាយនឹងរំហូតក្នុងបរិយាកាស បំប្លែងទៅជា ឧស្ម័នវិញ ដែលយើងមើលឃើញផ្សែងពណ៌សនោះរលាយបាត់ទៅវិញ។

**វត្ថុរឹង**  
ដែកគោល តុ កៅអី ដី ដុំថ្ម  
ប៊ិច ខ្មៅដៃ ទូរស័ព្ទដៃ  
ទឹកកក ។ល។

**វត្ថុរាវ**  
ទឹក ទឹកខ្មេះ អាល់កុល  
ប្រេងសាំង ប្រេងឆា ឈាម  
ស្រា ។ល។

**ឧស្ម័ន**  
ខ្យល់ ចំហាយទឹក មេតាន  
កាបូនឌីអុកស៊ីត អុកស៊ីសែន  
។ល។



**វត្ថុបំណង**

ពណ៌នាពីលក្ខណៈរូបធាតុ និងសិក្សាលក្ខណៈខុសគ្នារវាងភាពរូបរឹង និងភាពរូបរាវ។

**សកម្មភាពបង្រៀន និងរៀន**



**សំណួរ**

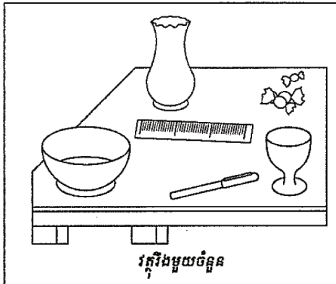
តើគេសិក្សារូបធាតុតាមលក្ខណៈអ្វីខ្លះ? តើរូបធាតុរឹង និងរូបធាតុរាវមានលក្ខណៈខុសគ្នាយ៉ាងដូចម្តេចខ្លះ?



- គ្រូបំផុសសិស្សអំពីលក្ខណៈងាយមួយចំនួនដែលគេប្រើដើម្បីសិក្សាពីរូបធាតុដូចជា រូបរាង, ពណ៌, ម៉ាស់, មាឌ, ដង់ស៊ីតេ។  
- គ្រូឱ្យសិស្សពិភាក្សាជាក្រុម សិក្សាពីលក្ខណៈខុសគ្នារបស់រូបធាតុរាវ និងរឹងដោយសិក្សាលើលក្ខណៈមួយចំនួនរបស់វាដូចជា រូបរាង ម៉ាស់ មាឌ ដង់ស៊ីតេ រំហូរ... ជាដើម។ រួចឱ្យសិស្សបង្ហាញតាមក្រុមនិងគ្រូពន្យល់បន្ថែមលើចំណុចខ្លះខាត។  
- គ្រូបង្ហាញពីបំណិនឆ្លឹងម៉ាស់ វាល់មាឌរបស់វត្ថុរឹង និងរាវដល់សិស្ស។

**2.1. វត្ថុរឹង**

បើយើងពិនិត្យវត្ថុដូចជា ថ្ម បាន កែវ ស្ករគ្រាប់ បន្ទាត់ ប៊ិច . . . យើងឃើញថាវាសុទ្ធតែជាវត្ថុរឹង។ វត្ថុរឹងទាំងអស់នេះមានរាងកំណត់ច្បាស់លាស់។ យើងអាចប្តូររាងរបស់វត្ថុរឹងបានដោយពត់ទាញឱ្យយឺត ដំបំបែក . . . ។ ដូច្នេះ រូបធាតុវត្ថុរឹងនឹងខូចទ្រង់ទ្រាយ កាលណារាងកម្លាំងផ្សេងៗតែម៉ាស់របស់វាមិនប្រែប្រួលទេ។



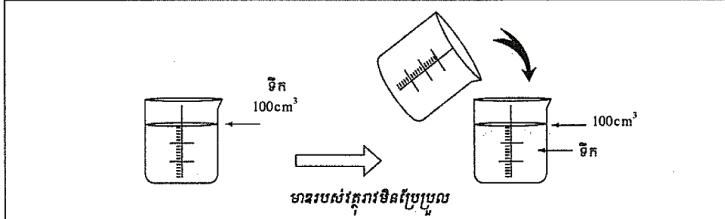
**2.2. វត្ថុរាវ**

ទឹក ទឹកត្នោត ទឹកដោះគោ ទឹកខ្មេះ . . . ជាវត្ថុរាវ។ វត្ថុរាវងាយហូរ និងមិនមានរាងកំណត់ច្បាស់លាស់ទេ។ រាងរបស់វាប្រែប្រួលទៅតាមរាងរបស់វត្ថុ ឬឧបករណ៍ដែលផ្ទុកវា។



ដូច្នេះវត្ថុរាវគ្មានរាងពិតប្រាកដទេ រាងរបស់វាតែងប្រែប្រួលទៅតាមវត្ថុឬឧបករណ៍ដែលផ្ទុកវា។ ថ្មីនៃវាមានមាឌកំណត់ច្បាស់លាស់ដូចវត្ថុរឹងដែរ។

**ឧទាហរណ៍ :** បើយើងផ្ទេរទឹក 100cm<sup>3</sup> ពីកែវក្រិតមួយចូលទៅកែវក្រិតមួយទៀត យើងពិនិត្យឃើញថា វានៅតែមានមាឌ 100cm<sup>3</sup> ដដែល។



**ចំណេះដឹងបន្ថែម**

គេដឹងម៉ាស់រូបធាតុតាមរយៈការឆ្លឹងដោយប្រើជញ្ជីង និងគេស្គាល់មាឌអង្គធាតុរាវដោយប្រើស៊ីឡាំង ក្រិត។ ចំពោះអង្គធាតុរឹងដែលមិនមានរាងធរណីមាត្រច្បាស់លាស់ គេអាចដឹងមាឌរបស់វាតាមរយៈកំណើនមាឌអង្គធាតុរាវក្នុងស៊ីឡាំងក្រិត។ ចំពោះខ្សែស្មើ គេឆ្លឹងម៉ាស់ដោយប្រើបំពង់ខ្សែស្មើ ដែលគេត្រូវបណ្តែនខ្សែស្មើចូលក្នុងស៊ីឡាំងក្រិតនោះ និងឆ្លឹង។ ម៉ាស់ដែលកើន គឺជាម៉ាស់ខ្សែស្មើដែលបានបណ្តែន។ បន្ទាប់មកគេបន្តរន្ធខ្សែស្មើចូលក្នុងស៊ីឡាំងក្រិតដែលបំពេញដោយទឹកដើម្បីវាល់មាឌរបស់វា។ ដូច្នេះ ម៉ាស់ខ្សែស្មើដែលបានបណ្តែនគឺត្រូវនឹងបរិមាណមាឌខ្សែស្មើដែលបានវាល់។ ដើម្បីវាស់មាឌខ្សែស្មើឱ្យបានជាក់លាក់ គេត្រូវដាក់ឱ្យកម្ពស់ទឹកក្នុងស៊ីឡាំងក្រិតស្មើនឹងកម្ពស់ទឹកក្នុងជើង ព្រោះខ្សែស្មើងាយនឹងរីក ឬរួមមាឌនៅក្នុងលក្ខខណ្ឌសម្ពាធឬសីតុណ្ហភាពខុសគ្នា។

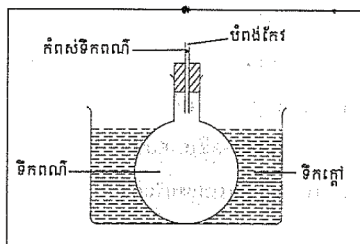


**ពិសោធន៍ : ការរីកនិងការរួមមាឌរបស់វត្ថុរាវ**

ក. វត្ថុបំណង : បង្ហាញពីការរីកនិងការរួមមាឌរបស់វត្ថុរាវ

ខ. សំភារៈ

- កែវបាឡុង
- ដើងកែវ
- បំពង់កែវឆ្មារ
- ឆ្នុកស្ពោឬកៅស៊ូ
- ទឹកក្តៅ
- ទឹកត្រជាក់
- ទឹកមាឌពណ៌ ។



គ. ដំណើរការពិសោធន៍

- ដំឡើងឧបករណ៍ដូចក្នុងរូប
- ដាក់ទឹកពណ៌ចូលក្នុងកែវបាឡុង
- កត់ចំណាំកំពស់ទឹកពណ៌ក្នុងបំពង់កែវតូច
- ដាក់កែវបាឡុងនេះទៅក្នុងដើងទឹកក្តៅ
- សង្កេតបំពង់ទឹកពណ៌ក្នុងបំពង់កែវ
- ដាក់កែវបាឡុងនេះក្នុងទឹកត្រជាក់
- សង្កេតទឹកពណ៌ក្នុងបំពង់កែវ ។

ឃ. លទ្ធផល

- ពេលត្រូវកម្ដៅកំពស់ទឹកពណ៌ក្នុងបំពង់កែវ . . . . ។
- ពេលត្រូវត្រជាក់កំពស់ទឹកពណ៌ក្នុងបំពង់កែវ . . . . ។

ង. ពន្យល់

- ពេលត្រូវកម្ដៅ . . . . . ។
- ពេលត្រូវត្រជាក់ . . . . . ។



**វត្ថុបំណង**

ពន្យល់ពីការរីកមាឌ និងរួមមាឌរបស់វត្ថុរាវ (ទឹក)។

**សកម្មភាពបង្រៀន និងរៀន**



**សំណួរ**

តើមាឌអង្គធាតុរាវប្រែប្រួលយ៉ាងដូចម្ដេចនៅពេលសីតុណ្ហភាពប្រែប្រួល?




- គ្រូឱ្យសិស្សគិតជាបុគ្គល ឬជាក្រុម ដើម្បីបង្កើតសម្មតិកម្ម និងពន្យល់ពីគំនិតរបស់ពួកគេ។

- គ្រូពិសោធបង្ហាញ ឬណែនាំឱ្យសិស្សធ្វើពិសោធន៍ដោយខ្លួនឯងតាមក្រុម។

- ឱ្យសិស្សបង្ហាញ និងពន្យល់ពីអ្វីដែលពួកគេបានសង្កេតឃើញតាមក្រុម។

- គ្រូបូកសរុប និងបន្ថែមនូវចំណុចខ្លះខាត។

**សំណួរត្រិះរិះ** តើមានអ្វីកើតឡើងចំពោះភាគល្អិតនៅក្នុងរូបធាតុនៅពេលសីតុណ្ហភាពប្រែប្រួល?



**ចំណេះដឹងបន្ថែម**

បាតុភូតដែលអាចសង្កេតឃើញនៅក្នុងពិសោធន៍ស្តីពីការរីកមាឌ និងរួមមាឌរបស់អង្គធាតុរាវ ដូចបង្ហាញខាងលើមានភាពស្មុគស្មាញ ដែលគ្រូបង្រៀនត្រូវយល់ដឹង។ នៅពេលដាក់កែវបាឡុងចូលទៅក្នុងដើងទឹកក្តៅដំបូង កម្ពស់ទឹកពណ៌នៅក្នុងកែវបាឡុងនឹងត្រូវធ្លាក់ចុះភ្លាម បន្តិចមកទើបវាកើនឡើងវិញ និងប្រាសមកវិញនៅពេលដាក់កែវបាឡុងចូលទៅក្នុងទឹកត្រជាក់។ បាតុភូតនេះគឺបណ្តាលមកពីការរីកមាឌ និងរួមមាឌរបស់កែវដែលវាកើតឡើងមុនពេលការរីកមាឌ និងរួមមាឌរបស់ទឹក។

បាតុភូតរីក និងរួមមាឌដោយសារកម្ដៅកើតមានឡើងគ្រប់រូបធាតុទាំងអស់។ ចំពោះអង្គធាតុរឹងនិងរាវមានការប្រែប្រួលមាឌតិចតួច ចំណែកឯខ្សែស្មើមានការប្រែប្រួលមាឌខ្លាំងក្លាជាង។ ការរីកមាឌនិងរួមមាឌរបស់រូបធាតុដោយកម្ដៅ គឺបណ្តាលមកពីការប្រែប្រួលចលនាភាគល្អិតនៅក្នុងរូបធាតុ។ កាលណាសីតុណ្ហភាពកើនឡើងធ្វើឱ្យភាគល្អិតមានភាពរំញ័រ ឬចលនាកាន់តែខ្លាំងជាងមុន និងធ្វើឱ្យមាឌរបស់វាកើនឡើង។ បាតុភូតនេះប្រាសមកវិញកាលណាសីតុណ្ហភាពចុះទាប។

**សម្គាល់**៖ ដបកែវផ្សេងៗ ដូចជាដបទឹកភេសជ្ជៈ អាចប្រើជំនួសកែវបាឡុងបាន។ យើងមិនអាចប្រើដបជ័របានទេ ព្រោះវាងាយរងសម្ពាធពីទឹក។



**វត្ថុបំណង**

ពន្យល់ពីលក្ខណៈរបស់ឧស្ម័ន។

**សកម្មភាពចម្រៀន និងរៀន**



**សំណួរ**

តើឧស្ម័នមានលក្ខណៈយ៉ាងដូចម្តេចខ្លះ?  
និងខុសពីអង្គធាតុរឹង និងអង្គធាតុរាវ យ៉ាង  
ដូចម្តេចខ្លះ?



- គ្រូឱ្យសិស្សគិតជាក្រុម ឬជាបុគ្គល ដើម្បីសិក្សាពីលក្ខណៈរបស់ឧស្ម័ន និងធ្វើការប្រៀបធៀបទៅនឹងអង្គធាតុរាវ និងអង្គធាតុរឹង រួចឱ្យសិស្សបង្ហាញតាមក្រុម និងត្រូពន្យល់បន្ថែមលើចំណុចខ្លះខាត។  
- គ្រូពិសោធន៍បង្ហាញពីលក្ខណៈមួយចំនួនរបស់ឧស្ម័នដូចជា ឧស្ម័នមានរូបរាងដូចវត្ថុផ្ទុកវា ឧស្ម័នអាចបណ្តែនបាន និងឧស្ម័នអាចរីក និងរួមមាឌបានតាមសីតុណ្ហភាពប្រែប្រួល (ដូចមានណែនាំក្នុងសៀវភៅសិក្សាគោល)។  
- គ្រូពន្យល់សិស្សបន្ថែមស្តីពីការប្រៀបធៀបលក្ខណៈរបស់រូបធាតុ(ទាំងបីភាពរូប) ដោយប្រើតារាងព័ត៌មាន ដូចមាននៅក្នុងសៀវភៅសិក្សាគោល ទំព័រ101។


**ច. សន្និដ្ឋាន**

- វត្ថុរាវ . . . កាលណាត្រូវកម្តៅ ហើយ . . . កាលណាចុះត្រជាក់ ។

**2.3. ឧស្ម័ន**

អ៊ីប្រូសែន អុកស៊ីសែន . . . ជាឧស្ម័នស្រាលហើយមានដងស៊ីតេតូច ។ វាគ្មានរាងនិងមាឌកំណត់ច្បាស់លាស់ទេ ។ នៅពេលគេបញ្ចូលវាទៅក្នុងឧបករណ៍ដែលផ្ទុកវា ដូចជាប៉េងប៉ោង វាមានរាង និងមាឌដូចឧបករណ៍ដែលផ្ទុកវា ។

ឧស្ម័នជាសន្ទនីយមានលក្ខណៈខុសពីវត្ថុរឹងនិងវត្ថុរាវដោយវាអាចពង្រីកឬបង្រួមមានបាន ។ ជាទូទៅគេផ្ទុកឧស្ម័នដោយបណ្តែនវានៅសម្ពាធខ្ពស់ក្នុងដបធ្វើពីដែកថែប ។

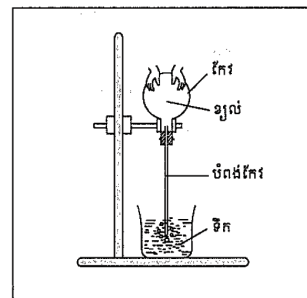


**ពិសោធន៍ : លក្ខណៈរូបរបស់ឧស្ម័ន**

ក. វត្ថុបំណង : បង្ហាញពីការរីកនិងរួមនៃឧស្ម័ន

**ខ. សំភារៈ**

- កែវបាឡុង
- ដើងទម្រ
- ដើងកែវ
- ឆ្នុកដីរូបស្នោ
- បំពង់កែវឆ្មារ
- ទឹក ។



100

100



**សម្គាល់**

ក្នុងពិសោធន៍ស្តីពីលក្ខណៈរបស់ឧស្ម័ន ដបកែវផ្សេងៗដូចជាដបទឹកភេសជ្ជៈ អាចប្រើជំនួសកែវបាឡុងបាន។

**ជំពូកទី១ មេរៀនទី១**

**គ. ដំណើរការពិសោធ**

- ដំឡើងឧបករណ៍ដូចក្នុងរូប
- កម្ដៅខ្យល់ក្នុងកែវបាឡុងដោយដាក់ដៃទាំងពីរនៅលើកែវបាឡុងមួយរយៈ
- កត់ត្រាការសង្កេតរបស់យើង
- ដកដៃទាំងពីរពីកែវបាឡុង ដើម្បីឱ្យខ្យល់ក្នុងកែវចុះត្រជាក់វិញ
- កត់ត្រាការសង្កេតរបស់យើង ។

**ឃ. លទ្ធផល**

- ពេលខ្យល់ក្នុងកែវបាឡុង . . . . ។
- ពេលខ្យល់នៅក្នុងកែវបាឡុងចុះត្រជាក់គេឃើញ . . . . ។



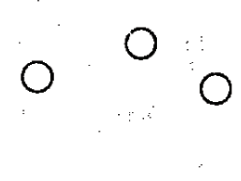
**ង. សន្និដ្ឋាន**

ខ្យល់រីកមានកាលណាវាឡើងក្ដៅ ហើយរួមមានកាលណាវាចុះត្រជាក់ ។

យើងអាចញែកសំគាល់វត្ថុរឹង រាវ និងឧស្ម័នបាន ព្រោះវាមានលក្ខណៈខុសគ្នា ដូចឧទាហរណ៍

តារាងខាងក្រោម ។

**តារាងបង្ហាញពីលក្ខណៈផ្សេងៗរបស់វត្ថុរឹង រាវ និងឧស្ម័ន**

លក្ខណៈ:	វត្ថុរឹង	រាវ	ឧស្ម័ន
រាង	កំណត់	ដូចវត្ថុដែលផ្ទុកវា	មិនកំណត់
ដង់ស៊ីតេ	ធំ	មធ្យម	តូច
មាឌ	កំណត់	កំណត់	មិនកំណត់
រូបភាពការតំរៀបភាគល្អិត			
	រឹង	រាវ	ឧស្ម័ន
លំហូរ	មិនហូរ	ហូរ	ហូរ
បណ្ដែន	មិនអាច	មិនអាច	ងាយបណ្ដែន



### វត្ថុចំណង

ប្រៀបធៀបលក្ខណៈ និងបម្រើបម្រាស់នៃ រូបធាតុ។

### សកម្មភាពបង្រៀន និងរៀន



#### សំណួរ

ចូររៀបរាប់ពីបម្រើបម្រាស់របស់រូបធាតុ ផ្សេងៗនៅជុំវិញខ្លួនអ្នក និងប្រាប់ពីមូលហេតុដោយផ្អែកលើលក្ខណៈពិសេសរបស់វានីមួយៗ។



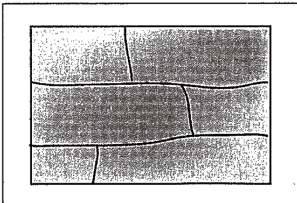
- គ្រូឱ្យសិស្សគិតជាក្រុម ឬជាបុគ្គល ដើម្បីសិក្សាលេខយល់ពីបម្រើបម្រាស់របស់រូបធាតុផ្សេងៗនៅជុំវិញខ្លួនគេ ដោយផ្សារភ្ជាប់ទៅនឹងលក្ខណៈពិសេសរបស់រូបធាតុនីមួយៗ។  
- ឱ្យសិស្សបង្ហាញគំនិតរបស់គេតាមក្រុម និងគ្រូបន្ថែមនូវចន្លោះខ្លះខាត។

#### សំណួរត្រិះរិះ៖

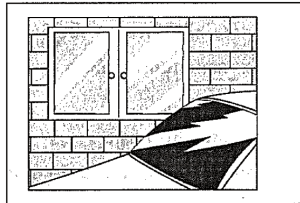
1. ហេតុអ្វីបានជាគេមិនធ្វើបាល់ពីដែក?
2. ហេតុអ្វីបានជាគេមិនយកកញ្ចក់ធ្វើដែកគោល?

### 3. បំរើចំណងរូបធាតុ

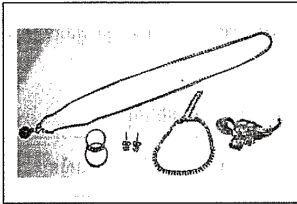
រូបធាតុខុសៗគ្នាមានលក្ខណៈពិសេសផ្សេងៗគ្នា ។ ហេតុនេះហើយបានជាគេប្រើប្រាស់រូបធាតុ តំរូវលក្ខណៈរបស់វាដូចរូប **ឧទាហរណ៍** ខាងក្រោម ។




សិលាក្រាតិកិងស្លឹកប្រើក្នុងសំណង់




កញ្ចក់រឹងជាប្រើសម្រាប់ដាក់កញ្ចក់រថយន្ត បង្គុំចម្ងាយ



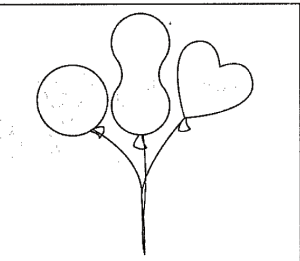
មានមានពណ៌លឿងក្តីសម្រាប់ធ្វើគ្រឿងអលង្ការ



ផ្កាឆ្លុះមានគុណភាពសម្រាប់ធ្វើទិកអប់



សំណាមាសសីតុណ្ហភាពរលាយទាបប្រើសម្រាប់ផ្សារលោហៈ



អ៊ីដ្រូសែនស្រាលជាងខ្យល់ប្រើក្នុងពេងពេងហោះ

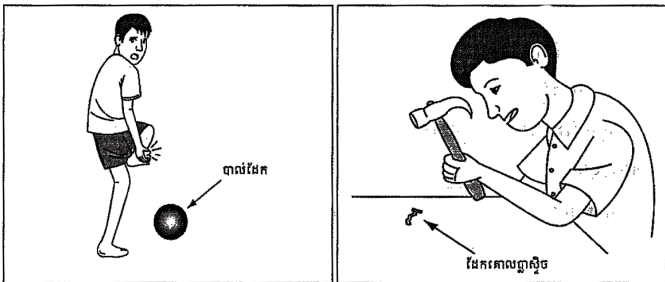


### ចំណេះដឹងបន្ថែម

- **កញ្ចក់** មានលក្ខណៈស្រាល តម្លៃថោក ងាយធ្វើឱ្យមានពណ៌ផ្សេងៗ មិនចម្លងចរន្តអគ្គិសនី ដូច្នេះគេប្រើវាជាឧបករណ៍ប្រើប្រាស់ផ្សេងៗក្នុងផ្ទះ និងជាគ្រឿងអ៊ីសូឡង់អគ្គិសនី និងកម្ដៅ។ ប៉ុន្តែ វាងាយធ្លាក់បាក់បែកនៅពេល ត្រូវកម្ដៅ ឬនៅពេលយើងប្រើកម្លាំងខ្លាំងទៅលើវា។
- **ដែក** មានលក្ខណៈធ្ងន់ រឹង ចម្លងចរន្តអគ្គិសនី និងកម្ដៅបានល្អ។ ដូច្នេះគេប្រើវាជាឧបករណ៍ចម្លងអាការៈដូចជាឆ្នាំង ខ្លះ ។ល។ វាកាន់តែរឹងមាំប្រសិនបើគេលាយវាជាមួយបរិមាណតិចតួចនៃកាបូន ឬលោហៈផ្សេងទៀត ដូចជាដែកថែប អ៊ីណុកដែលគេប្រើសម្រាប់ការសាងសង់ផ្សេងៗ។
- **កែវ** មានលក្ខណៈថ្លា និងងាយបន្ថែមពណ៌ផ្សេងៗ ចម្លងចរន្តអគ្គិសនី និងកម្ដៅខ្សោយខ្លាំង។ ដូច្នេះគេប្រើវាជាឧបករណ៍ប្រើប្រាស់ផ្សេងៗដូចជាកែវ ដប ឡង់ទី បង្អួច ។ល។
- **អេលូប្យូម** មានលក្ខណៈស្រាលជាងខ្យល់ ដូច្នេះគេប្រើវាក្នុងពេងហោះ។
- **អុកស៊ីសែន** មានសារសំខាន់សម្រាប់ដំណកដង្ហើម ចំហេះ។
- **ទឹក** មានសារសំខាន់សម្រាប់ជីវិត រុក្ខជាតិនៅលើផែនដី។ វដ្ឋទឹកបានជួយឱ្យមានលំនឹងសីតុណ្ហភាពដល់អាកាសធាតុប្រចាំថ្ងៃរបស់យើង។

**អនុវត្ត**

តើអ្នកយល់យ៉ាងណាចំពោះរូបភាពខាងក្រោមនេះ ?



ចូរសាកល្បងរកវត្ថុមកដ៏ខ្ពស់បាល់ធ្វើពីដែក និងដែកគោលធ្វើពីញាស្ទិចនេះឱ្យបានសមស្របទៅតាមការប្រើប្រាស់។

**សន្និដ្ឋាន :** ផ្នែកលើលក្ខណៈរូបរបស់រូបធាតុ យើងអាចប្រៀបធៀបនិងបែងចែករូបធាតុជាក្រុមខុសៗគ្នាដែលយើងនឹងសិក្សានៅមេរៀនបន្ទាប់។

**មេរៀនលម្អិត**

- ភាវៈទាំងឡាយដែលនៅជុំវិញយើងសុទ្ធសឹងជារូបធាតុ។
- រូបធាតុគឺជាវត្ថុដែលមានម៉ាស់ និងមានតាំងក្នុងលំហ។
- រូបធាតុគឺក្នុងភាពរូបបីយ៉ាង : រឹង រាវ និងឧស្ម័ន។
- វត្ថុរឹងមានរាង និងមានកំណត់ច្បាស់លាស់ ទោះបីវាប្តូរទីតាំងក៏ដោយ។
- វត្ថុរាវមានរាងកំណត់ច្បាស់លាស់ តែមានរាងមិនកំណត់ដែលអាចប្រែប្រួលតាមរាងវត្ថុដែលផ្ទុកវា។
- ឧស្ម័នគ្មានរាង និងមានកំណត់ច្បាស់លាស់ទេ។ គេអាចពង្រីក និងបង្រួមមានឧស្ម័នបាន។
- លក្ខណៈរូបនៃរូបធាតុអាចឱ្យយើងស្គាល់ពីផលប្រយោជន៍ និងចំរើចំរាស់របស់វា។
- យើងអាចចែកថ្នាក់រូបធាតុបានដោយសារលក្ខណៈរូបរបស់វា។



**វត្ថុបំណង**

ពង្រឹងចំណេះដឹងសិស្សលើខ្លឹមសារដែលសិស្សបានរៀន តាមរយៈការសង្ខេបមេរៀន និងកំណែសំណួរនៅក្នុងសៀវភៅសិក្សាគោល។



គ្រូឱ្យសិស្សរំលឹកឡើងវិញនូវអ្វីដែលពួកគេបានរៀន។

- ឱ្យសិស្សបំពេញតារាងសង្ខេបលក្ខណៈរបស់រូបធាតុរឹង រាវ និងឧស្ម័ន រួចត្រូវកែលម្អបន្ថែម។

- ឱ្យសិស្សឆ្លើយសំណួរនៅក្នុងសៀវភៅសិក្សាគោលជាបុគ្គល។

**ចម្លើយ**  
**សំណួរមេរៀន៖**

- រូបធាតុគីមីភាវៈទាំងអស់ដែលនៅជុំវិញខ្លួន មានម៉ាស និងមានមាឌតាំងនៅក្នុងលម្អ។
- ទឹកក្នុងធម្មជាតិមានភាពរូបបីយ៉ាងគឺ ទឹកកក(រឹង) ទឹករាវ(រាវ) និងចំហាយទឹក (ឧស្ម័ន)។
- បន្ទះឫស្សីមានលក្ខណៈសមស្របសម្រាប់ធ្វើជាឆ្អឹងខ្លែង ព្រោះវាស្រាលនិងអាចពត់បានងាយស្រួលបើធៀបនឹង បន្ទះដែកនិងបន្ទះឈើ។
- វត្ថុរឹង៖** គ្រាប់ស្រូវ គ្រាប់ឃ្លី ដុំដែក ដុំថ្ម  
**វត្ថុរាវ៖** អាល់កុល ទឹក ប្រេងឆា  
**ឧស្ម័ន៖** អ៊ីដ្រូសែន ខ្យល់ ចំហាយទឹក
- រូបធាតុចិតក្នុងភាពរូប រឹង រាវ និងឧស្ម័ន។
- ក. ម្សៅអង្ករមិនរលាយក្នុងទឹកទេចំណែកឯស្ករសអាចរលាយក្នុងទឹកបាន។  
ខ. ប្រេងមានលក្ខណៈអនិលជាងទឹកស្រាលជាងទឹក និងមិនរលាយក្នុងទឹកទេ។

**7. សម្ភារៈ លក្ខណៈរូប**

កញ្ចក់បង្អួច	ពណ៌លឿងរលោងភ្លឺ
រឺស័រ	ក្រអូប
មាស	យឺត
ផ្កាម្លិះ	ថ្លា

**? សំណួរ**

- ដូចម្តេចហៅថារូបធាតុ ?
- នៅក្នុងធម្មជាតិ តើទឹកអាចមានភាពរូបប៉ុន្មានយ៉ាង ?
- គេមានបន្ទះដែក បន្ទះឫស្សី និងបន្ទះឈើ ។ តើអ្នកគួរជ្រើសរើសយកវត្ថុណាមួយមកធ្វើជាឆ្អឹងខ្លែង? ព្រោះអ្វី?
- ចូរជ្រើសរើសពាក្យខាងក្រោមនេះសរសេរចូលក្នុងតារាងឱ្យត្រូវតាមភាពរូបរបស់វា (រឹង រាវ និងឧស្ម័ន) ។

អាល់កុល	គ្រាប់ស្រូវ	ទឹក	គ្រាប់ឃ្លី	អ៊ីដ្រូសែន	ដុំដែក	ប្រេងឆា	ខ្យល់
ដុំថ្ម	ចំហាយទឹក ។						

វត្ថុរឹង	វត្ថុរាវ	ឧស្ម័ន

- តើរូបធាតុចិតក្នុងភាពរូបអ្វីខ្លះ ?
- ចូរពន្យល់ពីលក្ខណៈឧសគ្នារវាងគូសម្ភារៈខាងក្រោមនេះផ្អែកលើលក្ខណៈរូបនៃរូបធាតុ  
ក. ម្សៅអង្ករនិងស្ករស                      ខ. ប្រេង និងទឹក ។
- ចូរគូសភ្ជាប់ឈ្មោះរូបធាតុខាងក្រោមទៅនឹងលក្ខណៈរូបរបស់វា

<b>សម្ភារៈ</b>	<b>លក្ខណៈរូប</b>
- កញ្ចក់បង្អួច	- ពណ៌លឿងរលោងភ្លឺ
- រឺស័រ	- ក្រអូប
- មាស	- យឺត
- ផ្កាម្លិះ	- ថ្លា

ជំពូកទី១ មេរៀនទី១

8. ចូរគូសសញ្ញា ( ✓ ) ក្នុងថតនៃតារាងខាងក្រោមឱ្យសមស្របទៅនឹងលក្ខណៈរបស់វត្ថុនីមួយៗ

លក្ខណៈ: វត្ថុ	ដុំស្ករ	ទឹកខ្មេះ	អ៊ីដ្រូសែន
មានរាងកំណត់ច្បាស់លាស់	✓		
គ្មានរាងច្បាស់លាស់		✓	✓
មិនអាចបង្រួមបាន	✓	✓	
អាចបង្រួមបាន			✓
មានមាឌកំណត់	✓	✓	

## ចំណេះដឹង និងសកម្មភាពបន្ថែម

### ចំណេះដឹងបន្ថែម

បន្ថែមទៅនឹងពិសោធន៍ស្តីពីលក្ខណៈខុសៗគ្នានៃស្រទាប់នៅក្នុងសៀវភៅសិក្សាគោលទំព័រទី១០០ – ១០១ គ្រូបង្រៀនអាចរៀបចំឱ្យសិស្សបានសង្កេតពិសោធន៍ខាងក្រោមបន្ថែមទៀត ប្រសិនបើមានពេលវេលាគ្រប់គ្រាន់។

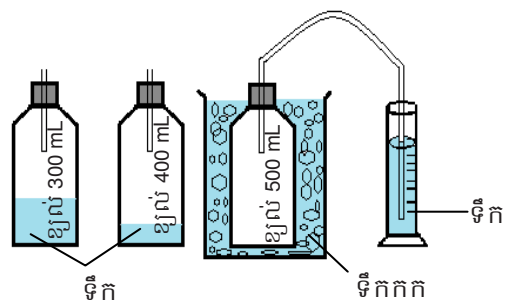
### ពិសោធន៍ការរីក និងរួមមាឌរបស់ខ្សែស្រទាប់បម្រែបម្រួលមាឌខ្សែស្រទាប់នៅនឹងសីតុណ្ហភាព

#### សម្ភារពិសោធន៍

ដបទឹកសុទ្ធចំណុះ 500 mL, ស៊ីឡាំងក្រិតចំណុះ 100 mL, ទុយេដ័រប្រវែងប្រហែល 30 cm ភ្ជាប់ជាមួយគម្របដបទឹកសុទ្ធ, ជើងទឹក, ទឹក និងទឹកកក។

#### ដំណើរការពិសោធន៍

- (១) រៀបចំដបទឹកសុទ្ធចំណុះ 500 mL ចំនួនបី៖ ដបទី១ទុកឱ្យនៅទទេ, ដបទី២បន្ថែមទឹកចូល 100 mL, និងដបទី៣ បន្ថែមទឹកចូល 200 mL។ ដូច្នេះ ខ្សែស្រទាប់ (ខ្យល់) មាននៅក្នុងដបទឹកសុទ្ធទី១ ទី២ និងទី៣គឺ 500 mL, 400 mL និង 300 mL រៀងគ្នា នៅសីតុណ្ហភាពបន្ទប់ ( $\approx 30^{\circ}\text{C}$ )។
- (២) យកដបទឹកសុទ្ធទី១ គ្របឱ្យជិតជាមួយនឹងគម្របដែលមានភ្ជាប់ជាមួយនឹងទុយេដ័រប្រវែងប្រហែល 30 cm រួចជ្រមុជចុងទុយេដ័រម្ខាងទៀតចូលទៅក្នុងស៊ីឡាំងក្រិតដែលមានដាក់ទឹកចំណុះ 100 mL។
- (៣) ជ្រមុជដបទឹកសុទ្ធទទេនោះចូលទៅក្នុងជើងទឹកកកឱ្យលិចទាំងស្រុង រួចរង់ចាំប្រហែល 2 នាទី។ បរិមាណមាឌទឹកដែលបឺតពីស៊ីឡាំងក្រិតចូលទៅក្នុងដបទឹកសុទ្ធ គឺជាមាឌរបស់ខ្សែស្រទាប់ដែលបានរួមនៅពេលចុះត្រជាក់។
- (៤) អនុវត្តដូចគ្នានឹងដំណើរការទី(២) និងទី(៣) ចំពោះដបទឹកសុទ្ធទី២ និងទី៣



#### លទ្ធផលពិសោធន៍

ដបទឹកសុទ្ធ...	មាឌខ្សែស្រទាប់នៅសីតុណ្ហភាពបន្ទប់ ( $\approx 30^{\circ}\text{C}$ )	មាឌខ្សែស្រទាប់ថយ = មាឌទឹកបឺតចូល	មាឌខ្សែស្រទាប់នៅសីតុណ្ហភាពទឹកកក..... $^{\circ}\text{C}$
ទី១	500 mL		
ទី២	400 mL		
ទី៣	300 mL		

#### ពិភាក្សា

1. សង់ក្រាហ្វបង្ហាញពីទំនាក់ទំនងរវាងមាឌខ្សែស្រទាប់ និងសីតុណ្ហភាព រួចបន្លាយក្រាហ្វនីមួយៗទៅរកចំណុចប្រសព្វគ្នា។
2. នៅចំណុចប្រសព្វនៃក្រាហ្វគេហៅថា **ចំណុចសីតុណ្ហភាពសូន្យដាច់ខាត**ដែលនៅសីតុណ្ហភាពនេះ គ្រប់រូបធាតុទាំងអស់ នឹងមានមាឌស្មើសូន្យ (គ្មានមាឌ)។ តាមរយៈលទ្ធផលពិសោធន៍នេះ តើអ្នករកឃើញសីតុណ្ហភាពសូន្យដាច់ខាតស្មើប៉ុន្មាន  $^{\circ}\text{C}$ ? (ទ្រឹស្តីសីតុណ្ហភាពសូន្យដាច់ខាត  $T = 0\text{ K} = -273.15^{\circ}\text{C}$ )

**ការប្រើប្រាស់សម្ភារឧបទេសរបស់ SEAL / VVOB**

គ្មានសម្ភារឧបទេស SEAL / VVOB ក្នុងមេរៀននេះទេ។



**បង្ហាញ ការដាក់ពិន្ទុ និងលក្ខណៈវិនិច្ឆ័យការសម្រេចបានរបស់សិស្ស**

១. ឧស្ម័នអុកស៊ីសែនរលាយតិចណាស់នៅក្នុងទឹក ដូច្នោះគេអាចវាស់មាឌរបស់វាតាមរយៈវិធីបណ្តុរទឹកចូលក្នុងស៊ីឡាំងក្រិត។ (10 ពិន្ទុ)

**ការដាក់ពិន្ទុ:** 10 ពិន្ទុ = សិស្សឆ្លើយបានត្រឹមត្រូវ  
0 ពិន្ទុ = សិស្សឆ្លើយមិនបានត្រឹមត្រូវ

២. គេអាចវាស់មាឌស៊ុតមាន់មួយតាមរយៈវិធីកំណើនទឹកនៅក្នុងស៊ីឡាំងក្រិត (10 ពិន្ទុ)

**ការដាក់ពិន្ទុ:** 10 ពិន្ទុ = សិស្សឆ្លើយបានត្រឹមត្រូវ  
0 ពិន្ទុ = សិស្សឆ្លើយមិនបានត្រឹមត្រូវ

៣. គេមិនប្រើឆ្នាំង ឬកំសៀវជ័រសម្រាប់ចម្អិនបាយ ឬដាំទឹក ព្រោះជ័រមិនចម្លងចរន្តកម្ដៅបានល្អទេ ហើយវាងាយនឹងធ្លាក់ប្តូរ ទ្រង់ទ្រាយ (រលាយ) ពេលត្រូវកម្ដៅ។ (10 ពិន្ទុ)

**ការដាក់ពិន្ទុ:** 10 ពិន្ទុ = សិស្សឆ្លើយបានត្រឹមត្រូវ  
0 ពិន្ទុ = សិស្សឆ្លើយមិនបានត្រឹមត្រូវ

៤. គេអាចថ្លឹងម៉ាសឧស្ម័នមួយបានដោយបណ្តុរវានៅក្នុងដបមួយ រួចថ្លឹងដបនោះឡើងវិញ។ ម៉ាសដែលកើន គឺជាម៉ាសឧស្ម័ន ដែលបានបន្ថែមចូលទៅក្នុងដប។ (10 ពិន្ទុ)

**ការដាក់ពិន្ទុ:** 10 ពិន្ទុ = សិស្សឆ្លើយបានត្រឹមត្រូវ  
0 ពិន្ទុ = សិស្សឆ្លើយមិនបានត្រឹមត្រូវ

៥. រូបតំណាងភាគល្អិតនៅក្នុងភាពរូប រឹង រាវ និងឧស្ម័ន៖ សូមមើលនៅក្នុងសៀវភៅសិក្សាគោល ទំព័រទី 101។ (10 ពិន្ទុ)

**ការដាក់ពិន្ទុ:** 10 ពិន្ទុ = សិស្សឆ្លើយបានត្រឹមត្រូវ  
0 ពិន្ទុ = សិស្សឆ្លើយមិនបានត្រឹមត្រូវ

**លក្ខណៈវិនិច្ឆ័យការសម្រេចបានរបស់សិស្ស**

ពិន្ទុ	លក្ខណៈវិនិច្ឆ័យ និងការផ្តល់យោបល់ចំពោះគ្រូបង្រៀន
0 - 13	សិស្សនៅមិនទាន់មានចំណេះដឹងមូលដ្ឋានគ្រប់គ្រាន់នៅឡើយ ដូច្នេះគ្រូត្រូវពន្យល់សិស្សពីមូលដ្ឋានគ្រឹះនៃមេរៀនឡើងវិញ។
14 - 25	សិស្សមានចំណេះដឹងមូលដ្ឋានគ្រប់គ្រាន់ ប៉ុន្តែនៅមិនទាន់យល់ច្បាស់ពីខ្លឹមសារមេរៀននៅឡើយទេ។ គ្រូត្រូវជួយបំផុសសិស្សសិក្សាល្បឿនយល់បន្ថែមទៀតអំពីរូបធាតុ។
26 - 35	សិស្សមានចំណេះដឹងមូលដ្ឋានគ្រប់គ្រាន់ និងបានយល់នូវខ្លឹមសារមេរៀនកម្រិតមធ្យម ដូច្នេះពួកគេត្រូវការចាំបាច់សិក្សាល្បឿនយល់ឱ្យបានច្រើនជាងនេះទៀត។ គ្រូត្រូវជួយផ្តល់សំណួរត្រិះរិះបន្ថែមទៀតដល់សិស្ស ដូចជាទម្រង់ភាគល្អិតនៅក្នុងកាណូបរឹង រាវ និងឧស្ម័ន និងវិធីវាស់មាឌ និងម៉ាសរបស់រូបធាតុសម្រាប់កាណូបឧស្ម័ន។
36- 50	សិស្សបានយល់ច្បាស់លាស់អំពីខ្លឹមសារមេរៀន។

## មេរៀនទី២

## ចំណែកថ្នាក់រូបធាតុ

### វត្ថុបំណង៖

តាមសៀវភៅសិក្សាគោល បន្ទាប់ពីរៀនមេរៀននេះសិស្ស៖

- កំណត់និយមន័យពាក្យ *ចំណែកថ្នាក់*
- ពណ៌នាពីលក្ខណៈរូបនៃសម្ភារ
- ធ្វើចំណែកថ្នាក់វត្ថុប្រើប្រាស់ តាមភាពរូប និងតាមលក្ខណៈជាក់លាក់ផ្សេងទៀត។

### ផែនការមេរៀន

មេរៀននេះត្រូវបង្រៀន ៧ ម៉ោងសិក្សា ដូចបង្ហាញនៅក្នុងតារាង ខាងក្រោម ទៅតាមលំដាប់លំដោយនៃមេរៀន។ ទោះជាយ៉ាងណាក៏ដោយ គ្រូបង្រៀនអាចប្រើប្រាស់ទេពកោសល្យ ភាពទន់ភ្លន់ និងបត់បែនរបស់ខ្លួន ច្នៃប្រឌិតការបង្រៀនទៅតាម កម្រិតយល់ដឹងរបស់សិស្ស និងស្ថានភាពតាមថ្នាក់ជាក់ស្តែង ដើម្បីសម្របសម្រួលទៅនឹងសកម្មភាពបង្រៀន និងរៀនដែលបានស្នើ នៅក្នុងការណែនាំនេះ។

តារាងទី១ ចំណងជើងរង និងចំណែកចែកម៉ោងបង្រៀន

ចំនួនម៉ោងសិក្សា	ចំណងជើងរងនៃមេរៀន	ទំព័រ
1	1. និយមន័យ (ចំណែកថ្នាក់) 2. លក្ខណៈនៃសម្ភារ	106-107
1	3. ចំណែកថ្នាក់នៃរូបធាតុ 3.1 ចំណែកថ្នាក់តាមលក្ខណៈជាក់លាក់ (ចំណុច ក-ង)	108-109
1	3.1 ចំណែកថ្នាក់តាមលក្ខណៈជាក់លាក់ (ត) (ចំណុច ច.)	110
1	3.1 ចំណែកថ្នាក់តាមលក្ខណៈជាក់លាក់ (ត) (ចំណុច ឆ.)	110
1	3.1 ចំណែកថ្នាក់តាមលក្ខណៈជាក់លាក់ (ត) (ចំណុច ជ.)	110-111
1	3.2 ចំណែកថ្នាក់តាមភាពរូប 4. ចំណែកថ្នាក់ផ្សេងទៀត	111-112
1	មេរៀនសង្ខេប សំណួរ និងលំហាត់	113-116

### សេចក្តីណែនាំសម្រាប់ការមេរៀន

តារាងខាងក្រោមបង្ហាញពីវត្ថុបំណង សកម្មភាពបង្រៀន-រៀន និងវង្វាយតម្លៃតាមចំណែកចែកម៉ោងបង្រៀននីមួយៗ។ គ្រូបង្រៀនរំពឹងថានឹងអនុវត្តសកម្មភាពបង្រៀន និងរៀនដូចមានរៀបរាប់ក្នុងតារាងនេះ និងវាយតម្លៃលទ្ធផលសិក្សារបស់សិស្សតាម លក្ខណៈវិនិច្ឆ័យសមស្រប។ សិស្សនឹងមានឱកាសអនុវត្តសកម្មភាពផ្សេងៗ ដើម្បីសិក្សាល្បឿនយល់ពីចំណែកថ្នាក់រូបធាតុ។

**តារាងទី២ ផែនការបង្រៀន និងវាយតម្លៃ**

ចំនួនម៉ោងសិក្សា	វត្ថុបំណង	សកម្មភាព	លទ្ធផលវាយតម្លៃ
1	- ពន្យល់ពាក្យ «ចំណែកថ្នាក់» និងធ្វើចំណែកថ្នាក់រូបធាតុក្នុងជីវភាពប្រចាំថ្ងៃជាក្រុម។	- សិស្សពិភាក្សា សង្កេតវត្ថុផ្សេងៗក្នុងជីវភាពប្រចាំថ្ងៃ និងធ្វើការបែងចែកជាក្រុមតាមលក្ខណៈដូចគ្នា ឬស្រដៀងគ្នា។	- សិស្សពន្យល់ពី «ចំណែកថ្នាក់» និងមានសមត្ថភាពចែកក្រុមសម្ភារទៅតាមប្រភេទត្រឹមត្រូវ។
1	- ធ្វើចំណែកថ្នាក់រូបធាតុទៅតាមលក្ខណៈពិសេសរបស់វា។	- សិស្សសង្កេតពិសោធន៍បង្ហាញរបស់គ្រូ និងពិភាក្សាសំណួរចម្លើយ ដើម្បីធ្វើចំណែកថ្នាក់រូបធាតុត្រឹមត្រូវតាមលក្ខណៈរបស់វា។	- សិស្សធ្វើចំណែកថ្នាក់រូបធាតុដោយផ្អែកលើលក្ខណៈរបស់វាបានសមស្រប។
1	- ធ្វើចំណែកថ្នាក់រូបធាតុតាមការចម្លង និងមិនចម្លងចរន្តអគ្គិសនី។	- សិស្សធ្វើពិសោធន៍ ឬសង្កេតពិសោធន៍ដែលបង្ហាញដោយគ្រូ ដើម្បីញែកក្រុមរូបធាតុដែលចម្លង និងមិនចម្លងចរន្តអគ្គិសនី។	- សិស្សធ្វើចំណែកថ្នាក់រូបធាតុដោយផ្អែកលើលក្ខណៈចម្លងចរន្តអគ្គិសនីបានត្រឹមត្រូវ។
1	- ធ្វើចំណែកថ្នាក់រូបធាតុតាមចំណុចរលាយ និងចំណុចរំពុះ។	- សិស្សធ្វើពិសោធន៍ ឬសង្កេតពិសោធន៍ដែលបង្ហាញដោយគ្រូ ដើម្បីញែកក្រុមរូបធាតុតាមចំណុចរលាយ និងចំណុចរំពុះ។	- សិស្សធ្វើចំណែកថ្នាក់រូបធាតុតាមចំណុចរលាយ និង ចំណុចរំពុះបានត្រឹមត្រូវ។
1	- ធ្វើចំណែកថ្នាក់រូបធាតុតាមដង់ស៊ីតេរបស់វា។	- សិស្សធ្វើពិសោធន៍ ឬសង្កេតពិសោធន៍ដែលបង្ហាញដោយគ្រូ ដើម្បីញែកក្រុមរូបធាតុតាមដង់ស៊ីតេរបស់វានីមួយៗ។	- សិស្សធ្វើចំណែកថ្នាក់រូបធាតុតាមតម្លៃដង់ស៊ីតេរបស់វាបានត្រឹមត្រូវ។
1	- ធ្វើចំណែកថ្នាក់រូបធាតុតាមភាពរូបរបស់វា។	- សិស្សធ្វើពិសោធន៍ ឬសង្កេតពិសោធន៍ដែលបង្ហាញដោយគ្រូ ដើម្បីញែកក្រុមរូបធាតុតាមភាពរូបរបស់វានីមួយៗ។	- សិស្សធ្វើចំណែកថ្នាក់រូបធាតុតាមភាពរូបរបស់វាបានត្រឹមត្រូវ។
1	សង្ខេបមេរៀន និងឆ្លើយសំណួរក្នុងសៀវភៅសិក្សា។	- សិស្សសង្ខេបពីអ្វីដែលគេបានរៀន និងឆ្លើយសំណួរនៅក្នុងសៀវភៅសិក្សា។	- សិស្សអាចសង្ខេប និងឆ្លើយសំណួរនៅក្នុងមេរៀននេះបានត្រឹមត្រូវ។

**ចំណុចសំខាន់ៗនៃការបង្រៀន**

ជាដំបូងសិស្សត្រូវរំលឹកឡើងវិញនូវអ្វីដែលគេបានរៀននៅបឋមសិក្សាដូចជា ការចម្លងចរន្ត ( លោហៈ និងអលោហៈ) ការឆក់ដោយមេដែក (ដែក និងលោហៈផ្សេងទៀត) ចំហេះ (សរីរាង្គ និងអសរីរាង្គ)។ល។ ដើម្បីធ្វើចំណាត់ថ្នាក់ សិស្សអាចប្រើលក្ខណៈពិសេសទាំងនេះរបស់រូបធាតុ។ ដោយផ្ដើមពីបទពិសោធប្រចាំថ្ងៃរបស់សិស្សលើរូបធាតុមួយចំនួន សិស្សអាចប្រាប់បានពីលក្ខណៈរបស់វាដូចជា រឹង ពណ៌ ទ្រង់ទ្រាយ ដង់ស៊ីតេ ការចម្លងចរន្ត/កម្ដៅ ការឆក់ដោយមេដែក កម្រិតរលាយ ជាដើម។ សិស្សអាចកំណត់ពីលក្ខណៈរបស់រូបធាតុបានដោយ

ខ្លួនឯង ឧទាហរណ៍ដូចជា ដង់ស៊ីតេ ការចម្លងចរន្ត ចំណុចរលាយ ចំណុចរំពុះរបស់រូបធាតុមួយចំនួនតាមរយៈការពិសោធន៍។ នៅក្នុងបញ្ចប់មេរៀននេះ សិស្សអាចធ្វើចំណែកថ្នាក់រូបធាតុបានតាមលក្ខណៈវិទ្យាសាស្ត្រទៅតាមក្រុមដូចជា លោហៈ អលោហៈ ញាស្ទិច សរសៃ កែវ ឬសេរ៉ាមិច។

នៅក្នុងមេរៀននេះ រូបធាតុទាំងអស់សុទ្ធតែសិស្សធ្លាប់ស្គាល់ ដូច្នេះគ្រូអាចសួរសំណួរឱ្យសិស្សកំណត់ពីលក្ខណៈរបស់រូបធាតុមួយចំនួនបាន។ គ្រូក៏អាចប្រើប្រាស់ចម្លើយរបស់សិស្សទាំងនោះដើម្បីធ្វើចំណែកថ្នាក់រូបធាតុផងដែរ។ សិស្សត្រូវតែរកឱ្យឃើញនូវលក្ខណៈរូបរបស់រូបធាតុ ឧទាហរណ៍លោហៈ អលោហៈ សមាសធាតុសរីរាង្គ អសរីរាង្គ។ល។ ខាងក្រោមនេះគឺជាសំណួរសម្របមួយចំនួនដែលគ្រូត្រូវតែប្រើនៅក្នុងការបង្រៀន ដើម្បីឱ្យសិស្សនឹកឃើញ និងធ្វើការសង្កេត៖ តើគ្រប់អង្គធាតុរឹងទាំងអស់សុទ្ធតែអាចចម្លងចរន្តអគ្គិសនីដែរ ឬទេ? ហេតុអ្វី? តើមេដែកអាចឆក់គ្រប់អង្គធាតុរឹងដែរ ឬទេ? បន្ទាប់ពីរូបធាតុមួយត្រូវបានដុត ផេះ ឬកាកសំណល់នឹងត្រូវបង្កើតឡើង មែន ឬទេ? ហេតុអ្វី?

ការលិច ឬអណ្តែតទឹក គឺជាសម្របយល់ដង់ស៊ីតេ។ តើយើងត្រូវកំណត់ដង់ស៊ីតេរបស់រូបធាតុមួយយ៉ាងដូចម្តេច? តើអ្នកអាចកំណត់ម៉ាស់ និងមាឌរបស់រូបធាតុមួយបានដែរ ឬទេ? តើយើងត្រូវកំណត់ម៉ាស់ និងមាឌរបស់រូបធាតុមួយដោយវិធីណា? តើអ្នកអាចកំណត់ប្រភេទញាស្ទិចតាមរយៈដង់ស៊ីតេរបស់វាបានដែរ ឬទេ?

គ្រូជួយសិស្សឱ្យចេះកំណត់ម៉ាស់ដោយជញ្ជីង (អាចជាជញ្ជីងអេឡិចត្រូនិច) និងវាស់មាឌដោយស៊ីឡាំងក្រិតដើម្បីកំណត់រាងដង់ស៊ីតេរបស់រូបធាតុ។លោហៈបង្ហាញពីភាពអាចហូតជាលូសឬផែបាន (សមត្ថភាពប្រែប្រួលទម្រង់របស់សារធាតុឆ្លើយតបនឹងអំពើដែលយើងធ្វើទៅលើវា ឧទាហរណ៍យឺតពត់បានឬពន្លាបាន)។មានតែដែកទេដែលអាចឆក់ដោយមេដែកតែគ្រប់លោហៈទាំងអស់អាចចម្លងចរន្តអគ្គិសនីបាន។ លក្ខណៈទាំងនេះសិស្សអាចកំណត់បានដោយខ្លួនឯងផ្ទាល់តាមរយៈពិសោធន៍។



**ចំណេះដឹងមូលដ្ឋានសម្រាប់មេរៀននេះ**

ដើម្បីសម្រេចបានវត្ថុបំណងនៅក្នុងមេរៀននេះ គ្រូបង្រៀនត្រូវត្រួតពិនិត្យចំណេះដឹង និងជំនាញមូលដ្ឋានរបស់សិស្សសំខាន់ៗ មួយចំនួនដូចខាងក្រោម ថាតើពួកគេមានចំណេះដឹង និងជំនាញទាំងនោះហើយឬនៅ។

- (1). រូបធាតុ និង លក្ខណៈសាមញ្ញមួយចំនួនរបស់វា តាមរយៈអ្វីដែលគេបានរៀននៅបឋមសិក្សា និងតាមរយៈជីវភាពប្រចាំ ថ្ងៃ ដូចជា ពណ៌ ក្លិន រឹង រាវ ឧស្ម័ន ...។
- (2). ជំនាញវិទ្យាសាស្ត្រមូលដ្ឋានចាំបាច់មួយចំនួនដូចជា រង្វាស់ (ឆ្លឹងម៉ាស វាស់មាឌ វាស់ប្រវែង វាស់សីតុណ្ហភាព) និងការប្រើប្រាស់ឧបករណ៍ដុតកម្ដៅ (ចំពុះប៊ុនស៊ុន ឬចង្កៀងអាល់កុល ឬចង្ក្រានប្លាស្ទិក)។



**កំណត់សម្គាល់សម្រាប់គ្រូបង្រៀន**

**ជំនាញដំណើរការវិទ្យាសាស្ត្រមូលដ្ឋាន និងកម្រិតខ្ពស់**

(the American Association for the Advancement of Science, 1965)

**ជំនាញមូលដ្ឋាន៖** ការសង្កេត, ការចែកថ្នាក់, ទំនាក់ទំនងរយៈពេល, ការប្រើប្រាស់លេខ, ការវាស់វែង, ការទាញសេចក្ដីសន្និដ្ឋាន, ការទស្សន៍ទាយ

**ជំនាញកម្រិតខ្ពស់៖** ការកំណត់ពីដំណើរការ, ការបង្កើតគំរូ, ការត្រួតពិនិត្យពីបម្រែបម្រួល, ការបកស្រាយទិន្នន័យ, ការបង្កើតសម្មតិកម្ម, ការធ្វើពិសោធន៍

### ចំណែកថ្នាក់រូបធាតុ



#### វត្ថុបំណង

ពន្យល់ពាក្យចំណែកថ្នាក់ និងធ្វើចំណែកថ្នាក់ រូបធាតុក្នុងជីវភាពប្រចាំថ្ងៃជាក្រុម។

#### សកម្មភាពបង្រៀន និងរៀន៖



#### សំណួរ៖

(1) ការរៀបចំសម្ភារមានសណ្តាប់ធ្នាប់ និង គ្មានសណ្តាប់ធ្នាប់ តើមួយណាងាយស្រួល រកសម្ភារជាង?

(2) ដើម្បីរៀបចំសម្ភារឱ្យមានសណ្តាប់ធ្នាប់ ល្អតើយើងត្រូវគិតលើចំណុចអ្វីខ្លះ?



ត្រូវអាចគ្រាន់តែសួរសិស្សជាបុគ្គល ឬ ជាក្រុម តែមិនត្រូវប្រើពេលច្រើនពេកទេ។ ចំណុចដែលសិស្សត្រូវពិចារណាមានដូចជា រៀបតាម លក្ខណៈស្រដៀងគ្នា ឬខុសគ្នា។



#### ចំណេះដឹងបន្ថែម៖

«ចំណែកថ្នាក់» គឺជាផ្នែកមួយនៃដំណើរការវិទ្យាសាស្ត្រ។ ការរកលក្ខណៈស្រដៀងគ្នា និងខុសគ្នា និងការធ្វើចំណែកថ្នាក់ គឺសំខាន់ បំផុតសម្រាប់វិទ្យាសាស្ត្រ។ ចំណុចផ្ដើមនៃវិទ្យាសាស្ត្រគឺការប្រៀបធៀប A និង B, ឬក្នុងចំណោម A, B, C, D, ។ល។ ជំហានទី១នៃ ការធ្វើចំណែកថ្នាក់រូបធាតុគឺ «ប្រៀបធៀប» អំពីលក្ខណៈងាយៗមួយចំនួន។ ជំហានទី២គឺ «កំណត់លក្ខណៈពិសេស» របស់វា។ ជំហានទី៣ «រៀបចំ» ទៅតាមថ្នាក់/ក្រុម។

#### មេរៀនទី

## 2

### ចំណែកថ្នាក់រូបធាតុ

#### ចប់មេរៀននេះ សិស្សអាច

- កំណត់និយមន័យពាក្យចំណែកថ្នាក់
- ពណ៌នាពីលក្ខណៈរូបនៃសម្ភារៈ
- ធ្វើចំណែកថ្នាក់វត្ថុប្រើប្រាស់តាមភាពរូប និងតាមលក្ខណៈជាក់លាក់ផ្សេងទៀត ។

ចូរពិនិត្យរូបភាពខាងក្រោម



#### 1. និយមន័យ

ការប្រមូលវត្ថុជាក់លាក់ជាក្រុមៗ ដោយផ្អែកតាមលក្ខណៈដូចគ្នាហៅថា « ចំណែកថ្នាក់ » ។ ក្នុងការ ធ្វើចំណែកថ្នាក់ យើងត្រូវអនុវត្តតាមគោលការណ៍ដូចខាងក្រោម ៖

- ពិនិត្យមើលភាពស្រដៀង និងភាពខុសគ្នារបស់វត្ថុ
- ដាក់វត្ថុដែលមានលក្ខណៈដូចគ្នាទៅក្នុងក្រុមតែមួយ
- ឱ្យឈ្មោះក្រុមនោះ ។


**ឧទាហរណ៍ :** ក្នុងជីវភាពរស់នៅ ការរៀបចំក្រដាសប្រាក់ទៅតាមប្រភេទទឹកប្រាក់មានន័យថា យើងបានធ្វើចំណែកថ្នាក់ក្រដាសប្រាក់ ។ តើមានសារប្រយោជន៍អ្វីខ្លះក្នុងការរៀបចំក្រដាសប្រាក់តាម

ជំពូកទី១ មេរៀនទី២

ប្រភេទទឹកប្រាក់បែបនេះ ? ក្នុងការចាយវាយតើអ្នកមានភាពងាយស្រួលយ៉ាងណាចំពោះក្រដាសប្រាក់ដែលបានរៀបចំតាមប្រភេទរួចហើយ បើធៀបទៅនឹងក្រដាសប្រាក់ដែលមិនទាន់បានរៀបចំ ?

នៅក្នុងជីវភាពប្រចាំថ្ងៃ វត្ថុដែលនៅជុំវិញខ្លួនយើងជាច្រើនត្រូវបានបែងចែកជាក្រុមដោយផ្អែកលើគោលការណ៍ផ្សេងៗគ្នានៃចំណែកថ្នាក់។ គោលការណ៍ទាំងនោះអាចជា : ពណ៌ ទម្ងន់ រាង រោតម្លៃ ប្រភព ប្រភេទ . . . ។

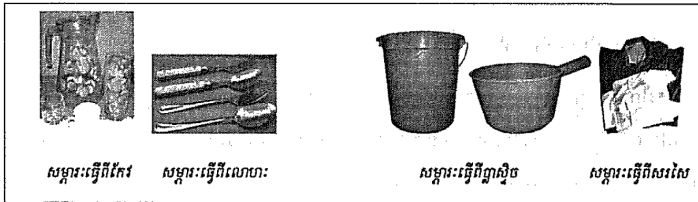
**ឧទាហរណ៍ :** នៅក្នុងបណ្ណាល័យ បណ្ណារក្សបានធ្វើចំណែកថ្នាក់សៀវភៅអាសទាំងអស់ដោយផ្អែកទៅតាមប្រភេទសៀវភៅ មុខវិជ្ជា និងអ្នកនិពន្ធ។ ចំណែកទំនិញដែលដាក់លក់នៅទីផ្សារក៏ត្រូវបានគេរៀបចំទៅតាមប្រភេទផ្សេងៗគ្នា ដើម្បីងាយស្រួលក្នុងការលក់និងទិញ។



ការធ្វើចំណែកថ្នាក់នៃរូបធាតុ អាចប្រព្រឹត្តទៅបានល្អដោយផ្អែកលើសមត្ថភាពសង្កេត និងការស្គាល់លក្ខណៈរូបនៃរូបធាតុនោះបានច្បាស់លាស់។

**2. លក្ខណៈចំនែកសម្ភារៈ**

សម្ភារៈដែលយើងជួបប្រទះញឹកញាប់ដូចក្នុងរូបភាពខាងក្រោមនេះបង្ហាញពីប្រភេទខុសៗគ្នានៃសម្ភារៈដែលគេជ្រើសរើសតាមប្រភេទដោយផ្អែកទៅតាមលក្ខណៈរូបនៃក្រុមនីមួយៗ។



**គ្រូពន្យល់បន្ថែម**

(១) -លើកឧទាហរណ៍អំពីករណី ការរៀបចំក្រដាសប្រាក់ និងសៀវភៅក្នុងបណ្ណាល័យ។  
(២) -បន្ទាប់មក គ្រូត្រូវធ្វើឱ្យសិស្សយល់ថា សកម្មភាពទាំងនេះ គេហៅថា **“ការធ្វើចំណែកថ្នាក់”** ដែលត្រូវបានគេអនុវត្តមិនត្រឹមតែនៅក្នុងជីវភាពប្រចាំថ្ងៃទេ តែវិធីនេះត្រូវបានប្រើប្រាស់យ៉ាងពេញនិយមផងដែរនៅក្នុងវិទ្យាសាស្ត្រ។

**សំណួរ៖**  
តើលោហៈ ញាស្ទិច សរសៃ កែវ និងសេរ៉ាមិច ដែលជារូបធាតុប្លូនដូបប្រទះប្រចាំថ្ងៃនោះ មានលក្ខណៈយ៉ាងដូចម្តេចខ្លះ?

ដឹកនាំសិស្សឱ្យបង្កើតផែនទីគំនិត (mind map) អំពីការធ្វើចំណែកថ្នាក់ ដោយប្រើប្រាស់ឈ្មោះក្រុមរូបធាតុដូចជាលោហៈ ញាស្ទិច សរសៃ កែវ សេរ៉ាមិច។ល។ ដោយឱ្យសិស្សគិតអំពីលក្ខណៈរបស់វានីមួយៗ ដូចជាលោហៈមានលក្ខណៈយ៉ាងដូចម្តេចខ្លះជាដើម។ សិស្សត្រូវធ្វើការពិភាក្សាក្នុងក្រុមសរសេរគំនិតរបស់គេលើក្រដាសស និងធ្វើការបង្ហាញគំនិតរបស់គេ។ គ្រូត្រូវធ្វើការសង្ខេបគំនិតរបស់សិស្ស និងពន្យល់បន្ថែម។



**ចំណេះដឹងបន្ថែម**

- **ផែនទីគំនិត** គឺជាគំនូសតាងបង្ហាញពីទំនាក់ទំនង (មែកធាង) នៃបញ្ញត្តិគោលណាមួយទៅនឹងបញ្ញត្តិផ្សេងៗទៀត។  
- **ការបំបែកតាមជីវៈ** គឺជាដំណើរពុករលួយរបស់សមាធាតុគីមីតាមធម្មជាតិ ដែលបំបែកដោយមីក្រូសារពាង្គកាយ។  
ដើម្បីចំណែកថ្នាក់បានត្រឹមត្រូវ និងច្បាស់លាស់តាមលក្ខណៈវិទ្យាសាស្ត្រ យើងត្រូវកំណត់លក្ខណៈវិនិច្ឆ័យដែលសមស្រប និងមានប្រសិទ្ធភាព។ លក្ខណៈរបស់រូបធាតុ មានដូចជា៖ ពណ៌ ទ្រង់ទ្រាយ ភាពរូប រឹង ភាពយឺត ភាពពត់បាន ភាពស្រួយ ដងស៊ីតេ ការចម្លងចរន្ត/កម្តៅ កម្រិតរលាយ ចំណុចរលាយ/រំពុះ ភាពងាយហួត ភាពងាយហើរ ការបំបែកតាមជីវៈ ត្រូវផ្តល់ឱកាសឱ្យសិស្សបញ្ចេញគំនិតរបស់គេដោយសេរី។ នៅត្រង់ចំណុចមេរៀននេះ សិស្សចាំបាច់ត្រូវមានឱកាសសង្កេត ប៉ះផ្ទាល់ជាមួយនឹងរូបធាតុនៅក្នុងថ្នាក់រៀន។ បទពិសោធន៍ទាំងនេះមានសារៈសំខាន់ណាស់ ពីព្រោះមូលដ្ឋានគ្រឹះនៃវិទ្យាសាស្ត្រគីមីផ្អែកលើរូបធាតុពិតជាក់ស្តែង។

**វត្ថុបំណង**

ធ្វើចំណែកថ្នាក់រូបធាតុ តាមលក្ខណៈពិសេសរបស់វា ដូចជា រឹង ,ភាពយឺត , ភាពហួតជាលូស ,ភាពជែ ,ភាពចម្លងកម្ដៅ ។ល។

**សកម្មភាពបង្រៀន និង រៀន**

**សំណួរ៖**

តើប្លាស្ទិកអាចញែកសម្គាល់ រឹង ភាពពុតបាន ភាពជែការចម្លងកម្ដៅ ចរន្តអគ្គិសនី ចំណុចរលាយ/រំពុះ ឬដង់ស៊ីតេ របស់រូបធាតុបានយ៉ាងដូចម្ដេច?

• គ្រូដឹកនាំឱ្យសិស្សពិភាក្សាតាមក្រុម និង បង្ហាញគំនិតរបស់គេនៅក្នុងថ្នាក់។

• សម្រាប់លក្ខណៈមួយចំនួនរបស់រូបធាតុដែលបង្ហាញនៅក្នុងទំព័របន្ទាប់ (ពីចំណុច ក. ដល់ ង.) គ្រូត្រូវធ្វើពិសោធន៍បង្ហាញសិស្ស និងសួរសំណួរដល់សិស្ស ដើម្បីឱ្យពួកគេបានសង្កេតដោយផ្ទាល់ និងសិក្សាស្វែងយល់អំពីលក្ខណៈនីមួយៗ ទាំងនោះ របស់រូបធាតុ។


<p><b>លោហៈ</b></p> <ul style="list-style-type: none"> <li>• ផ្ដេកលោហៈ</li> <li>• ចម្លងអគ្គិសនីនិងកម្ដៅបានល្អ</li> <li>• អាចជែបាន</li> <li>• អាចហួតជាលូសបាន ។</li> </ul>	<p><b>ញាស៊ីច</b></p> <ul style="list-style-type: none"> <li>• ជាផលិតផលបានពីប្រេងកាត</li> <li>• ស្រាល</li> <li>• គ្មានកំលុតឬមិនពុកផុយ</li> <li>• ងាយស្រួលក្នុងការបង្កើតវត្ថុរាងផ្សេងៗ ។</li> </ul>
---	---

<p><b>សរសៃ</b></p> <ul style="list-style-type: none"> <li>• អាចវេញ ឬត្បាញ</li> <li>• អាចជ្រលក់ពណ៌ ។</li> </ul>	<p><b>កែវ</b></p> <ul style="list-style-type: none"> <li>• ថ្លា</li> <li>• មិនចម្លងចរន្តអគ្គិសនី</li> <li>• ស្រួយ ។</li> </ul>
--	--

មិនចម្លងចរន្តអគ្គិសនី តែចម្លងកម្ដៅបានល្អ

**សេវាមិត**

- ធ្វើពីដីឥដ្ឋ
- ចម្លងចរន្តអគ្គិសនី
- រឹងមិនរងកំលុត
- ចំណុចរលាយខ្ពស់ ។



សម្ភារៈធ្វើពីសេវាមិត

**3. ចំណែកថ្នាក់នៃរូបធាតុ**

តើអ្នកវិទ្យាសាស្ត្របានធ្វើចំណែកថ្នាក់រូបធាតុឬវត្ថុទាំងឡាយយ៉ាងដូចម្ដេច ដើម្បីងាយស្រួលក្នុងការសិក្សាវិទ្យាសាស្ត្រ ?

**3.1. ចំណែកថ្នាក់តាមលក្ខណៈដាក់លាក់**

រូបធាតុឬវត្ថុទាំងឡាយមានលក្ខណៈរូបថ្នាក់របស់វា ។ ការស្គាល់លក្ខណៈរូបរបស់រូបធាតុឬវត្ថុអាចជួយយើងឱ្យជ្រើសរើសយកមកប្រើប្រាស់បានសមស្របតាមតម្រូវការ ។ លក្ខណៈរូបទាំងនោះមាន រឹង ភាពយឺត ភាពហួតជាលូស ភាពជែបាន ចម្លងកម្ដៅ ចម្លងចរន្តអគ្គិសនី ចំណុចរលាយ និងដង់ស៊ីតេ ។




ជំពូកទី១ មេរៀនទី២

ក. របឹង

របឹងគឺជាភាពធន់របស់វត្ថុមួយទល់នឹងចំហូត ។

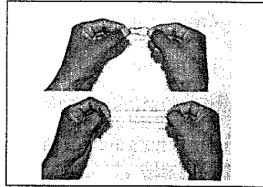
ឧទាហរណ៍ : ពេជ្រគឺជាវត្ថុរឹងអាចប្រើសម្រាប់ឆ្លុះឬកាត់កញ្ចក់ ។



ខ. ភាពយឺត


ភាពយឺត គឺជាសមត្ថភាពដែលវត្ថុនោះអាចត្រឡប់មកភាពដើមវិញក្រោយពេលដែលគេពន្លត់ឬទាញវា ។

ឧទាហរណ៍ : ចេរីយើងទាញកៅស៊ូកង វាអាចយារវែងជាងមុន ។ តែនៅពេលយើងឈប់ទាញវាត្រឡប់ទៅភាពដើមវិញ ។ យើងថាកៅស៊ូកងជាវត្ថុយឺត ។



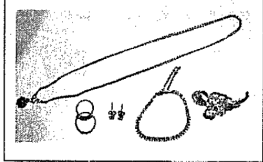
គ. ភាពហូតជាលូស

ភាពហូតជាលូស គឺជាសមត្ថភាពដែលវត្ថុមួយអាចហូតជាលូសឬជាសរសៃបាន ។ ឧទាហរណ៍ : ទងដែង ប្រាក់ មាស . . . ។




ឃ. ភាពផែ

ភាពផែ គឺជាសមត្ថភាពដែលវត្ថុមួយអាចប្តូររាងទៅជារាងផ្សេងៗបានដោយមិនបាក់បែក ។ ឧទាហរណ៍ មាសអាចប្តូររាងផ្សេងៗដោយដំរីនិងញូតូន ។ គេថាមាសអាចផែបាន ។



ង. ភាពចម្លងកម្ដៅ

ភាពចម្លងកម្ដៅ គឺជាសមត្ថភាពនៃវត្ថុមួយដែលអាចឱ្យកម្ដៅឆ្លងកាត់វាបាន ។ ឧទាហរណ៍ ដែរបស់ខ្លះនោះស្រោបបញ្ជាស្ទើរដែលមិនអាចឱ្យកម្ដៅឆ្លងកាត់មកចំដៃរបស់យើងពេលដែលយើងកាន់វា ។ ដូច្នេះបញ្ជាស្ទើរជាវត្ថុចម្លងកម្ដៅខ្សោយ ។ ចំណែកគួរខ្លះនោះធ្វើពីលោហៈអាចឱ្យកម្ដៅឆ្លងកាត់បានងាយ ហើយធ្វើឱ្យអារាមក្នុងខ្លះនោះស្អាត ។ ដូច្នេះលោហៈអាចឱ្យចម្លងកម្ដៅបានល្អ ។



គ្រូធ្វើពិសោធន៍បង្ហាញ និងសំណួរពិភាក្សា

របឹង: អាចសង្កេតដោយយកអង្គធាតុរឹងពីរផ្សេងគ្នាត្រជុំសគ្នា អង្គធាតុរឹងដែលមានរបឹងខ្លាំងជាង នឹងបង្កើតស្នាមនៅលើអង្គធាតុរឹង ដែលមានរបឹងខ្សោយជាង។

ឧទាហរណ៍ គ្រួស ដីស ដុំថ្ម ដែក ទងដែង (ខ្សែភ្លើង) អាណូយមីញ៉ូម(សំបកកំប៉ុង)

ភាពយឺត: ប្រៀបធៀបកៅស៊ូ ចង់ធ្លាស្ទិចដើម្បីញែកសម្គាល់ភាពយឺត និងភាពយាររបស់វា។

លក្ខណៈពន់បាន: អាចសង្កេតពីលំដាក់ ម៉ូដែលបង្កើតដោយកូនទម្ងន់ណាមួយព្យួរនៅផ្នែកខាងចុងនៃរូបធាតុ។ ឧ. កំណាត់ខ្សែលូស និងកូនទម្ងន់(ដុំថ្ម)

ភាពហូតជាលូសបាន: គ្រូអាចត្រឹមតែពណ៌នាដោយលើកឧទាហរណ៍ខ្សែលូសឬខ្សែទងដែង (ខ្សែភ្លើង)។

ភាពផែបាន: គ្រូអាចធ្វើការបង្ហាញសិស្សតាមរយៈដុំលោហៈណាមួយក្នុងជីវភាពប្រចាំថ្ងៃដោយញូតូន។  
ការចម្លងកម្ដៅ: អាចប្រៀបធៀបតាមរយៈល្បឿននៃការលាយរបស់ក្រមួនទៀនលើស្លាបព្រា ឬ លើចង្កឹះលោហៈ។ ការប្រៀបធៀបល្បឿនការលាយរបស់ក្រមួន ឧទាហរណ៍ នៅលើផ្នែកនៃលោហៈ និងផ្នែកនៃបញ្ជាស្ទើររបស់ឆ្នាំងសម្លមួយ។



សម្គាល់:

នៅក្នុងការណែនាំនេះ គម្រូឱ្យគ្រូរៀបចំ និងធ្វើពិសោធន៍បង្ហាញឱ្យសិស្សបានសង្កេតដោយផ្ទាល់លើលក្ខណៈនីមួយៗ។ ទោះជាយ៉ាងណាក៏ដោយ បើគ្រូផ្តល់ឱកាសដល់សិស្សបានពិសោធដោយខ្លួនគេផ្ទាល់ កាន់តែប្រសើរថែមទៀត អាស្រ័យទៅតាមស្ថានភាពជាក់ស្តែងដូចជា ធនធាន និងពេលវេលាជាដើម។



**ការចម្លងចរន្តអគ្គិសនី៖ សង្កេតតាមរយៈ**

ពិសោធន៍មើលភាពភ្លឺរបស់អំពូល ដើម្បីប្រៀបធៀបពីលក្ខណៈចម្លងចរន្តអគ្គិសនីរបស់រូបធាតុខុសៗគ្នា។ គ្រូចាំបាច់ឱ្យសិស្សធ្វើពិសោធន៍ដោយផ្ទាល់។

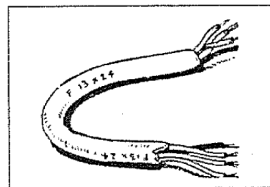
**ចំណុចរលាយ៖** ពិសោធន៍ដោយប្រើបំពង់កែវភ្ជាប់ជាមួយទែម៉ូម៉ែត្រត្រាំនៅក្នុងទឹកឬក្នុងប្រេងឆាដុតកម្ដៅ។ (ចំណុចរលាយរបស់ក្រមួនទៀន ឬចំណុចរលាយរបស់ទឹកកក)

**ចំណុចរំពុះ៖** សង្កេតទៅលើចំណុចរំពុះរបស់ទឹក។

**ដង់ស៊ីតេ៖** ទឹកនៅ 25°C គឺប្រហែល 1g/ml ដូច្នេះយើងអាចកំណត់ថារូបធាតុមួយមានដង់ស៊ីតេតូចជាង ឬធំជាងទឹកដោយវិធីសង្កេតថាតើវា "អណ្ដែត" ឬ "លិច" ទឹក (មើលទំព័រឆ្លាស់)។ ចំណែកកំណត់តម្លៃដង់ស៊ីតេរបស់រូបធាតុដែលមិនមានប្រតិកម្មជាមួយទឹក ឬមិនរលាយក្នុងទឹកអាចធ្វើការកំណត់ដោយពិសោធយ៉ាងងាយស្រួលតាមរយៈផលធៀបម៉ាស និងមាឌ។


**ច. ភាពចម្លងអគ្គិសនី**

ភាពចម្លងអគ្គិសនី គឺជាសមត្ថភាពនៃវត្ថុមួយដែលអាចឱ្យចរន្តអគ្គិសនីឆ្លងកាត់វាបាន។ **ឧទាហរណ៍** ខ្សែទងដែងអាចឱ្យចរន្តអគ្គិសនីឆ្លងកាត់បានល្អជាងខ្សែដែក។ ដូច្នេះគេថាវាជាលោហៈដែលចម្លងចរន្តអគ្គិសនីបានល្អ។



**ឆ. ចំណុចរលាយ**

ចំណុចរលាយនៃវត្ថុនីមួយៗ គឺជាសីតុណ្ហភាពដែលវត្ថុនីមួយៗប្តូរភាពរូបពីរឹងទៅរាវ។ **ឧទាហរណ៍** ទឹកកករលាយទៅជាទឹករាវនៅសីតុណ្ហភាព 0°C ។ ដែករលាយនៅសីតុណ្ហភាព 1536 °C គេថាវាមានចំណុចរលាយខ្ពស់ជាងទឹកកក។



**ដ. ដង់ស៊ីតេ**

ដៃកម្រិតមានម៉ាសធ្ងន់ជាងលើមួយដុំដែលមានមាឌប៉ុន្មាន ព្រោះដៃកជាប្រឡាក់ណែនជាងលើមី។ គេថាដៃកមានដង់ស៊ីតេធំជាងលើមី។

ដង់ស៊ីតេរបស់វត្ថុមួយគឺជាផលធៀបរវាងម៉ាសនិងមាឌរបស់វត្ថុនោះ។

គេសរសេរ : ដង់ស៊ីតេ =  $\frac{\text{ម៉ាស}}{\text{មាឌ}}$

ឬ  $d = \frac{m}{V}$  m ម៉ាសរូបធាតុឬ វត្ថុគិតជា g , មាឌរូបធាតុគិតជា cm<sup>3</sup>

និងដង់ស៊ីតេនៃរូបធាតុគិតជា g/cm<sup>3</sup> ឬ kg/m<sup>3</sup> ។



**ចំណេះដឹងបន្ថែម៖**

រូបធាតុសុទ្ធផ្សេងគ្នាមានចំណុចរលាយ/រំពុះខុសគ្នា តាមរយៈលក្ខណៈពិសេសបែបនេះ គេអាចធ្វើការញែកភាពសុទ្ធចេញពីភាពមិនសុទ្ធរបស់វាបាន។ គេច្រើនប្រើវិធីនេះនៅក្នុងឧស្សាហកម្មបន្សុទ្ធ និងផលិតគ្រឿងលោហៈផ្សេងៗ។

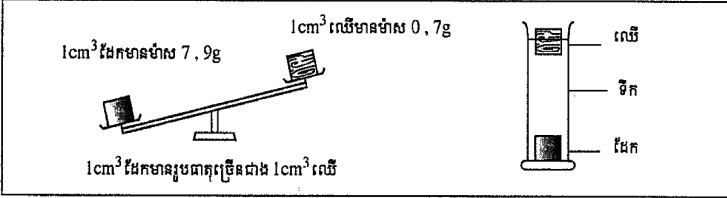
- (1) លក្ខណៈរបស់រូបធាតុរៀបរាប់ក្នុងទំព័រនេះ គ្រូគួររៀបចំឱ្យសិស្សធ្វើពិសោធន៍ដោយផ្ទាល់តាមក្រុម។
- (2) ករណីការចម្លងចរន្តអគ្គិសនី និងដង់ស៊ីតេ គ្រូអាចប្រើប្រាស់សន្លឹកកិច្ចការ និងកិច្ចតែងការដែលបានផលិតដោយ STEPSAM2 (សូមមើលឯកសារជំនួយរបស់ STEPSAM2)។



**សង្ខេប៖**

ជាមូលដ្ឋាន ម៉ាសរបស់រូបធាតុអាចថ្លឹងបានដោយជញ្ជីងអេឡិចត្រូនិច ហើយមានរបស់រូបធាតុអាចកំណត់ដោយការកើនឡើងនៃមាឌទឹកក្នុងស៊ីឡាំងក្រិត។ ទោះជាយ៉ាងណាក៏ដោយ ចំពោះលោហៈដែលមានលក្ខណៈសកម្មជាមួយទឹក មិនអាចប្រើទឹកដើម្បីកំណត់មាឌបានទេប៉ុន្តែគេអាចប្រើប្រេងជំនួសទឹកក្នុងដំណើរការដូចគ្នា។

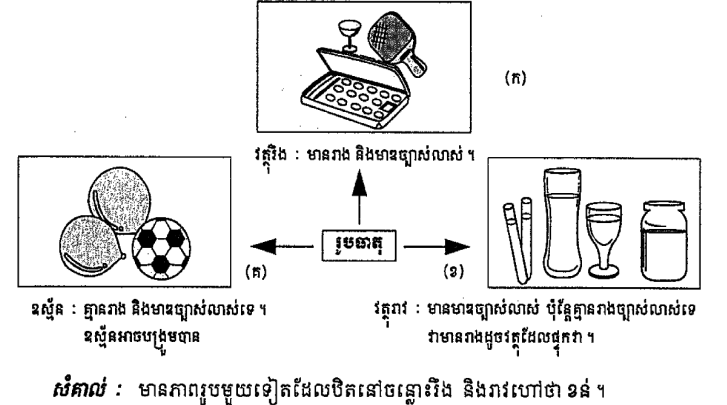
**ជំពូកទី១ មេរៀនទី២**  
**ឧទាហរណ៍ :** វិធីដើម្បីឱ្យយើងដឹងថា វត្ថុមួយមានដង់ស៊ីតេធំឬតូច គឺត្រូវដាក់វត្ថុនោះទៅក្នុងទឹក។ បើវត្ថុដែលមានដង់ស៊ីតេធំជាងទឹក វានឹងលិចក្នុងទឹក រីឯវត្ថុដែលមានដង់ស៊ីតេតូចជាងទឹកវាអណ្តែតលើទឹក។



**អនុវត្ត**

1. ពិនិត្យរូបភាព (ក) តើមាន ឬ ដែកដែលមានដង់ស៊ីតេធំ ?
2. ពិនិត្យរូបភាព (ខ) តើទងដែង ឬលើដែលមានដង់ស៊ីតេធំ ?

**3.2 ចំណែកថ្នាក់តាមភាពរូប**  
រូបធាតុអាចស្ថិតក្នុងភាពរូបណាមួយក្នុងចំណោមភាពរូបទាំងបី ( រឹង រាវ និងឧស្ម័ន ) ។



**វត្ថុបំណង**  
ធ្វើចំណែកថ្នាក់រូបធាតុតាមភាពរូបរបស់វា។

**សកម្មភាពមេរៀន និង រៀន**

**សំណួរ៖**  
តើប្លូនដឹងទេថា ហេតុអ្វីបានជាអង្គធាតុរឹងមានរឹង (ភាពរឹង) ហើយមានរូបរាងជាក់លាក់? រីឯអង្គធាតុរាវ និងឧស្ម័ន មិនមានរឹងនិងមានរូបរាងមិនច្បាស់លាស់?"

គ្រូត្រូវផ្តល់ឱកាសឱ្យសិស្សបានសង្កេត និងធ្វើការប្រៀបធៀបរូបធាតុដែលមានភាពរូបរឹង រាវ ឧស្ម័នជាក់ស្តែង តាមក្រុម។ លក្ខណៈនៃភាពរូបទាំងបីនេះ សិស្សបានសិក្សារួចមកហើយ កាលពីមេរៀនទី១។ នៅក្នុងមេរៀននេះ សិស្សអាចសិក្សាលម្អិតលើលក្ខណៈខុសគ្នារបស់អង្គធាតុរឹង រាវ និងឧស្ម័នដោយប្រៀបធៀបលើចំណុចមួយចំនួនដូចជា រូបរាង មាឌ ភាពហូរបាន និងភាពបង្រួមបានជាដើម។ លក្ខណៈទាំងនេះត្រូវផ្តល់ឱកាសឱ្យសិស្សបានសង្កេតដោយផ្ទាល់ និងផ្សារភ្ជាប់ទៅនឹងរបៀបខុសគ្នានៃការតម្រៀប ឬការតាំងនៅរបស់ភាគល្អិតក្នុងភាពរូបនីមួយៗផង។ សកម្មភាពទាំងនេះអាចគ្របដណ្តប់ផងដែរលើខ្លឹមសារដែលមាននៅទំព័របន្ទាប់។



គ្រូអាចជ្រើសរើសរូបធាតុមួយចំនួន ដែលជាអង្គធាតុរឹង (ដូចជា NaCl, Fe, SiO<sub>2</sub> (ដីខ្សាច់)...), ជាអង្គធាតុរាវ (ដូចជា ទឹក ប្រេង ទឹកខ្មេះ អាលកុល...) និងជាឧស្ម័ន (ដូចជា ខ្យល់ ប្រូប៉ាន មេតាន (ឧស្ម័នសម្រាប់ចម្អិន) កាបូនឌីអុកស៊ីត (ឧស្ម័នកាបូនិច)...) ដើម្បីឱ្យសិស្សបានសង្កេតដោយផ្ទាល់។ សិស្សត្រូវធ្វើការពិភាក្សាតាមក្រុម និងធ្វើការបង្ហាញអំពីគំនិតរបស់គេ បន្ទាប់មកគ្រូត្រូវធ្វើការសង្ខេប កែតម្រូវ និងបន្ថែមខ្លឹមសារដែលសិស្សមិនអាចរកឃើញ។

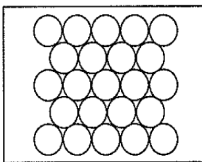
គ្រូក៏អាចបង្ហាញប្រាប់សិស្សពីលក្ខណៈផ្សេងទៀត ដែលគេប្រើដើម្បីធ្វើចំណែកថ្នាក់រូបធាតុ ដូចជា ធាតុ សារធាតុ សមាសធាតុ និងល្អាយ តាមខ្លឹមសារលម្អិតស្តីពីលក្ខណៈទាំងនេះនឹងមានពិភាក្សាលម្អិតនៅក្នុងកម្មវិធីសិក្សាថ្នាក់ទី ៨។

**ឧទាហរណ៍ :** ក្រមួនពេលត្រូវកម្ដៅ ដែកថែបដុតឱ្យជិតរលាយ ។  
រូបធាតុទាំងអស់មិនមែនសុទ្ធតែអាចធ្វើចំណែកថ្នាក់បានទាំងស្រុងទេ ។ ជួនកាលវាមានលក្ខណៈមិនច្បាស់លាស់ ដែលនាំឱ្យពិបាក ធ្វើចំណែកថ្នាក់ ។

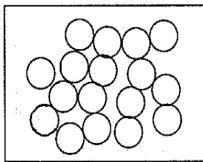
**4. ចំណែកថ្នាក់ដេរូចឆ្នោត**

អ្នកវិទ្យាសាស្ត្របានធ្វើចំណែកថ្នាក់នៃរូបធាតុតាមវិធីផ្សេងៗទៀតគឺធាតុ សារធាតុ សមាសធាតុ និងល្អាយ ។ យើងនឹងសិក្សាឱ្យស៊ីជម្រៅនៅថ្នាក់លើទៀត ។

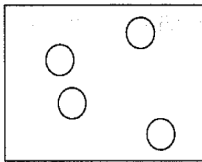
រូបភាពខាងក្រោមនេះ បង្ហាញពីភាគល្អិតនៃរូបធាតុដែលតម្រៀបគ្នាក្នុងអង្គធាតុរឹង រាវ និងឧស្ម័ន ។ ក្នុងអង្គធាតុរឹង ដូចជាដែកភាគល្អិតវាចងក្លាយជាជួរគ្នាយ៉ាងរៀកណែនបំផុត ហើយមិនអាចផ្លាស់ទីបាន ។ ចំណែកក្នុងអង្គធាតុរាវ ដូចជាទឹកភាគល្អិតរបស់វាចងក្លាយជាមិនរៀកណែនទេ ដែលអាចឱ្យវាធ្វើចលនាស្រៀលលើគ្នាបាន ។ ចំពោះឧស្ម័នដូចជា អុកស៊ីសែន ភាគល្អិតរបស់វាមានចលនាយ៉ាងលឿននិងគ្មានសណ្ដាប់ធ្នាប់ ។



ភាគល្អិតអង្គធាតុរឹង



ភាគល្អិតអង្គធាតុរាវ



ភាគល្អិតឧស្ម័ន

**សង្ខេបមេរៀន**

- ការប្រមូលវត្ថុដាក់ជាក្រុមៗដោយផ្អែកតាមលក្ខណៈដូចគ្នាហៅថា ចំណែកថ្នាក់ ។
- ការធ្វើចំណែកថ្នាក់ចង្អុលលក្ខណៈងាយស្រួលដល់ការសិក្សាវិទ្យាសាស្ត្រ ។ វាធ្វើឱ្យយើងយល់ដឹងពីវត្ថុគំរូផ្សេងៗទៀត ។
- រូបធាតុអាចបែងចែកជា
  - លោហៈ ឆ្នាស្ទិច សេរ៉ាមិច កែវ និងសរសៃស្របតាមលក្ខណៈរបស់វា ។
  - វត្ថុរឹង វត្ថុរាវ និងឧស្ម័នស្របតាមភាពរូបរបស់វា ។
  - ធាតុ សារធាតុ សមាសធាតុ និងល្អាយ ។



**ចំណេះបន្ថែមសម្រាប់គ្រូបង្រៀន៖**

ការបង្រៀនដោយគ្រាន់តែផ្តល់ចំណេះដឹង និងទ្រឹស្តីដែលមាននៅក្នុងមេរៀននេះ មិនសមស្របទេ ដូច្នេះគ្រូត្រូវផ្តល់ឱកាសដល់សិស្សបានអនុវត្តជាក់ស្តែងនៅក្នុងថ្នាក់រៀន ឬក្នុងមន្ទីរពិសោធន៍ ជាមួយរូបធាតុដែលពួកគេធ្លាប់ជួបប្រទះក្នុងការរស់នៅប្រចាំថ្ងៃ។ គ្រូត្រូវជំរុញឱ្យមានការពិភាក្សាអំពីលក្ខណៈរបស់រូបធាតុតាមរយៈ ការប្រើសំណួរពិសេសៗពាក់ព័ន្ធមួយចំនួនដូចជា “ហេតុអ្វីបានជាលោហៈទង់រឹង (9.0 g/cm<sup>3</sup>) ធ្ងន់ជាងលោហៈដែក (7.9 g/cm<sup>3</sup>) ឬធ្ងន់ជាងឈើ?” នៅក្នុងលោហៈ ម៉ាសអាតូមគឺអាចមានទំនាក់ទំនងទៅនឹងដង់ស៊ីតេ។ ម៉ាសអាតូមគឺប្រហាក់ប្រហែលទៅនឹងម៉ាសណ្ឌូយ៉ូ (ព្រោះអេឡិចត្រុងមានម៉ាសតូចខ្លាំងធៀបនឹងប្រូតុង និងណឺត្រុងក្នុងណ្ឌូយ៉ូ)។ ការចម្លងចរន្ត និងកម្ដៅរបស់លោហៈមានទំនាក់ទំនងជិត ស្និទ្ធទៅនឹងអេឡិចត្រុងសេរីរបស់សម្ព័ន្ធលោហៈ។ ភាពរឹងបាន និងហូតជាលូសបានរបស់លោហៈក៏មានទំនាក់ទំនងទៅនឹងការចងសម្ព័ន្ធផងដែរ។

**? សំណួរ**

1. ដូចម្តេចហៅថាចំណែកថ្នាក់ ?
2. តើការធ្វើចំណែកថ្នាក់នៃរូបធាតុត្រូវផ្អែកតាមអ្វីខ្លះ ?
3. តើរូបធាតុស្ថិតមានលក្ខណៈរូបដូចម្តេចខ្លះ ?
4. តើលោហៈមានលក្ខណៈរូបដូចម្តេចខ្លះ ?
5. ចូរផ្តល់ឈ្មោះផ្នែក A និងផ្នែក B រួចសរសេរចម្លើយនៅក្នុងផ្នែក C ឱ្យបានត្រឹមត្រូវ ។

A- ក្រុមសម្ភារៈ:	B- ប្រភេទ	C- ចម្លើយ
1. ដែក ស័ង្កសី ទងដែង	ក. សរសៃ	1 → ឃ
2. ប្រេងសាំង ទឹក ប្រេងឆា	ខ. ឧស្ម័ន	2 →
3. កប្បាស សូត្រ ខ្សែស	គ. អង្គធាតុរាវ	3 →
4. អុកស៊ីសែន ចំហាយទឹក អ៊ីដ្រូសែន	ឃ. លោហៈ	4 →

6. តើលក្ខណៈរូបរបស់រូបធាតុមានអ្វីខ្លះ ? ចូរប្រាប់ឱ្យបាន 5 ។
7. តើការស្គាល់លក្ខណៈរូបរបស់រូបធាតុជួយអ្វីដល់យើង ?
8. ដូចម្តេចហៅថា រឹង ភាពយឺត ភាពរឹង ?



**ចម្លើយសំណួរមេរៀន៖**

1. ចំណែកថ្នាក់ គឺជាការរៀបចំទៅតាមក្រុមដែលមានប្រភេទ និងលក្ខណៈដូចគ្នា ឬស្រដៀងគ្នា។
2. ការធ្វើចំណែកថ្នាក់របស់រូបធាតុត្រូវផ្អែកតាមលក្ខណៈ ជាក់លាក់ ដូចជា រឹង ភាពយឺត ភាពចម្លងកម្តៅ។ល។ និងតាមភាពរូប (រឹង, រាវ, ឧស្ម័ន)។
3. ប្លាស្ទិចមានលក្ខណៈដូចតទៅ៖ ស្រាល មិនពុកជុយ ងាយស្រួលក្នុងការបង្កើតរាងផ្សេង មិនចម្លងអគ្គិសនី និងចម្លងកម្តៅមិនបានល្អ ទន់និងស្ងួត...
4. លោហៈមានលក្ខណៈផ្នែក ចម្លងចរន្តអគ្គិសនី និងកម្តៅបានល្អ អាចផែ ឬហូតជាលូសបាន។
5. ផ្តល់ឈ្មោះ៖ 1(ឃ), 2(គ), 3(ក), 4(ខ)
6. លក្ខណៈរូបរបស់រូបធាតុមានដូចជា រឹង ភាពអាចផែបាន ភាពអាចហូតជាលូសបាន ភាពចម្លងកម្តៅ ភាពចម្លងចរន្តអគ្គិសនី ដង់ស៊ីតេ ។
7. លក្ខណៈរូបនៃរូបធាតុមានប្រយោជន៍ណាស់សម្រាប់យើងពីព្រោះយើងអាចប្រើប្រាស់វាទៅតាមតួនាទីដោយផ្អែកលើលក្ខណៈរូបទាំងនោះ។

8. **រឹង** គឺជាសមត្ថភាពរឹងរបស់រូបធាតុ។ **ភាពយឺត** គឺជាសមត្ថភាពយឺតបានរបស់រូបធាតុ។ **ភាពរឹង** គឺជាសមត្ថភាពរបស់រូបធាតុក្នុងការប្តូររូបរាង និងទ្រង់ទ្រាយនៅពេលគេធ្វើអំពើទៅលើវា ដូចជាការដំដើម។



**ចម្លើយ**

**សំណួរ និងលំហាត់ជំពូក 1៖**

**I. សំណួរជ្រើសរើស**

1. ខ, 2. គ, 3. ឃ, 4. ក, 5. ខ

**II សំណួរផ្គូផ្គង**

1.លក្ខណៈរូប និងន័យ

- 1.(គ), 2.(ឃ) 3. (ខ) 4. (ក)

**? សំណួរនិងលំហាត់ជំពូក 1**

1. ចូរកូសសញ្ញា (✓) ក្នុងប្រអប់នៅខាងមុខចម្លើយដែលត្រឹមត្រូវតែមានមួយគត់ :

1. ចំពោះពាក្យខាងក្រោមនេះ តើពាក្យណាមួយជាឈ្មោះរូបធាតុ ?  
 ក. កម្ដៅ     ខ . ទឹកភ្លៀង     គ. សំឡេង     ឃ . ពន្លឺ ។
2. តើសម្ភារៈក្នុងក្រុមណាមួយដែលធ្វើពីដីឥដ្ឋ ?  
 ក. លោហៈ     ខ . កែវ     គ. សេរ៉ាមិច     ឃ . សរសៃ ។
3. តើសម្ភារៈក្នុងក្រុមណាមួយដែលធ្វើពីកប្បាស ?  
 ក. លោហៈ     ខ . ប្លាស្ទិច     គ. សេរ៉ាមិច     ឃ . សរសៃ ។
4. តើអំណរអំណាចណាមួយដែលត្រឹមត្រូវចំពោះឧស្ម័ន ?  
 ក. គ្មានរាងនិងគ្មានមាឌច្បាស់លាស់  
 ខ. មានរាងនិងគ្មានមាឌច្បាស់លាស់  
 គ. មានមាឌច្បាស់លាស់ ប៉ុន្តែមានរាងមិនច្បាស់លាស់  
 ឃ. គ្មានរាងច្បាស់លាស់ ប៉ុន្តែមានមាឌច្បាស់លាស់ ។
5. សម្ភារៈ X មួយមានលក្ខណៈ រឹង ស្រួយ ថ្លា មិនចម្លងចេរនូវអគ្គិសនី។ តើសម្ភារៈ X នេះមិតនៅក្នុងក្រុមណា ?  
 ក. ប្លាស្ទិច     ខ . កែវ     គ. សេរ៉ាមិច     ឃ. លោហៈ ។

II. ចូរផ្គូផ្គងផ្នែក A និងផ្នែក B រួចសរសេរចម្លើយនៅក្នុង C ឱ្យបានត្រឹមត្រូវ

1. លក្ខណៈរូបនិងន័យ

A លក្ខណៈរូប	B ន័យ	C ចម្លើយ
1. ភាពហ្មត់ជាល្អស	ក. អាចដំរាងផ្សេងៗដោយមិនបាក់បែក	1 →
2. ភាពយឺត	ខ. ភាពឆន់រលីករលាយនិងចំហ្មត	2 →
3. រឹង (ភាពរឹង)	គ. អាចហ្មត់ជាល្អស ឬសរសៃ	3 →
4. ភាពថ្លា	ឃ. អាចត្រឡប់មករាងដើមវិញ ។	4 →

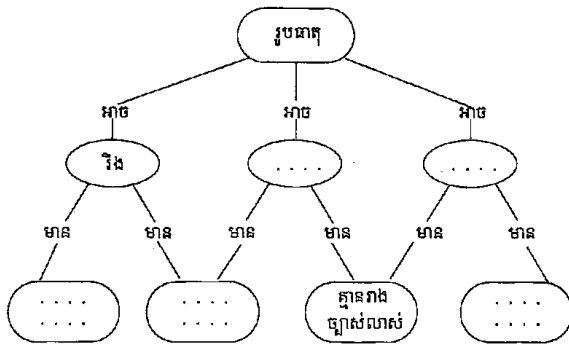
ជំពូកទី១ មេរៀនទី២

២. ក្រុមរូបធាតុនិងភាពរូប

A ក្រុមរូបធាតុ	B ភាពរូប	C ចម្លើយ
១. ប្រេងសាំង ទឹកស៊ីអ៊ីវ ទឹកខ្លះ	ក. រឹង	១→
២. អ៊ីដ្រូសែន កាបូនឌីអុកស៊ីត ខ្យល់	ខ. រាវ	២→
៣. កែវ បន្ទាត់ កៅអី រថយន្ត	គ. ឧស្ម័ន	៣→

III. ចូរបំពេញចន្លោះទំនេរក្នុងរូបភាពខាងក្រោម

1.



2. ការប្រមូល . . . ដាក់ជាក្រុមៗដោយផ្អែកតាម . . . ដូចគ្នាហៅថា . . . ។
3. ចំណុច . . . នៃវត្ថុរឹងគឺជាកំរិត . . . ដែលវត្ថុនោះប្តូរពីរឹងទៅ . . . ។

IV. សំណួរត្រិះរិះ

1. តើការស្គាល់លក្ខណៈរូបនៃសម្ភារៈមានសារប្រយោជន៍អ្វីខ្លះដល់យើង ?
2. តើអ្នកវិទ្យាសាស្ត្រធ្វើចំណែកថ្នាក់រូបធាតុ ឬវត្ថុទាំងឡាយផ្អែកទៅលើអ្វីខ្លះ ?

២. ក្រុមរូបធាតុ និងភាពរូប

1. (ខ) 2. (គ) 3. (ក)

III. បំពេញចន្លោះ:

1. ក. រាវ, ខ. ឧស្ម័ន, គ. មិនផ្លាស់ប្តូរ រូបរាង, យ. មានច្បាស់លាស់, ង. គ្មានមានច្បាស់លាស់
2. រូបធាតុ (ឬសម្ភារ), លក្ខណៈ, ការធ្វើចំណែកថ្នាក់
3. រលាយ, សីតុណ្ហភាព, រាវ

IV. សំណួរត្រិះរិះ

1. ការស្គាល់លក្ខណៈរូបរបស់សម្ភារ អាចងាយស្រួលដល់យើងប្រើប្រាស់វាទៅតាមលក្ខណៈដែលវាអាចធន់បាន និងអាចប្រើប្រាស់បានយូរអង្វែង។
2. អ្នកវិទ្យាសាស្ត្រធ្វើចំណែកថ្នាក់រូបធាតុទាំងឡាយដោយផ្អែកលើលក្ខណៈពិសេសជាក់លាក់របស់វា ដូចជា រឹង ភាពយឺតភាពផែបាន ភាពហូតជាល្អ សបាន ភាពចម្លងកម្ដៅ/ចរន្តអគ្គិសនី ដង់ស៊ីតេ និងភាពរូបរបស់វាដូចជា រឹង រាវ និងឧស្ម័ន ព្រមទាំងលក្ខណៈផ្សេងៗទៀត។

3

ក. M មានភាពរូបជាវីង និង N

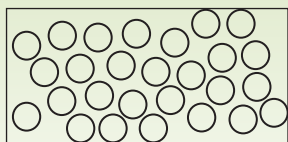
មានភាពរូបជាខ្សែស្រប

ខ. M: ដៃក ទងដៃង,

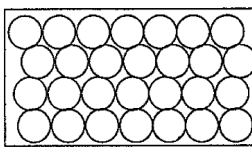
N: អុកស៊ីសែន ខ្យល់

គ. រាវ

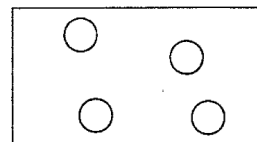
ឃ. ភាគល្អិតក្នុង ភាពរូបរាវ



3. គេមានរូបភាពបង្ហាញពីការតម្រៀបភាគល្អិតរបស់រូបធាតុ M និង N ដូចខាងក្រោម



M



N

ក. តើរូបធាតុ M និង N មិនក្នុងភាពរូបអ្វី ?

ខ. ចូរឱ្យឈ្មោះរូបធាតុដែលមានភាពរូបដូច M និង N ឱ្យបានមួយមុខពីរ ។

គ. ឱ្យឈ្មោះភាពរូបមួយទៀតក្រៅពីភាពរូប M និង N ខាងលើ ។

ឃ. ចូរគូររូបភាពតាងការតម្រៀបភាគល្អិតរបស់វា ។

116

# សំណួរខ្លឹមសម្រាប់ជំពូក១ «រូបធាតុ និងចំណែកថ្នាក់រូបធាតុ»

គ្រូអាចប្រើប្រាស់សំណួរ និងលំហាត់ខាងក្រោមនេះទាំងអស់ ឬមួយចំនួន នៅក្នុងវិញ្ញាសាប្រឡងប្រចាំខែ ឬប្រឡងឆមាស ដើម្បីធ្វើការវាយតម្លៃការយល់ដឹងសិស្សស្តីពីរូបធាតុ និងចំណែកថ្នាក់រូបធាតុ។

**រយៈពេល៖ 1 ម៉ោង                      ពិន្ទុសរុប៖ 50 ពិន្ទុ**

1. ចូរគូសគំរូភាគល្អិតតាមភាពរូបបី (ឧស្ម័ន រាវ រឹង) និងធ្វើចំណែកថ្នាក់រូបធាតុខាងក្រោមទៅតាមភាពរូបទាំងបីនេះ នៅសីតុណ្ហភាពបន្ទប់។

រូបធាតុ៖ ទឹក អំបិល ខ្យល់ ដីខ្សាច់ ទឹកខ្មេះបារីត ដែក អុកស៊ីសែន ប្លាស្ទិច សាប៊ូកក់សក់ ចំហាយទឹក (09 ពិន្ទុ)

2. ចូរគូសដ្យាក្រាម (ផែនទីគំនិត) ស្តីពីការធ្វើចំណែកថ្នាក់រូបធាតុ ដោយប្រើពាក្យគន្លឹះ និងលក្ខណៈរបស់វាដូចខាងក្រោម។

**ពាក្យគន្លឹះ៖** ប្លាស្ទិច សរសៃ កែវ លោហៈ សេរ៉ាមិច


**លក្ខណៈ៖** មានផ្លែក ផលិតពីប្រេងឥន្ធនៈ ងាយប្តូររូបរាង ថ្លាឆ្លុះ ផលិតពីដីឥដ្ឋ ផែនបាន ហូតជាលូសបាន ភាពស្រួយ ស្រាល ចំណុចរលាយខ្ពស់ ចំណុចរលាយមធ្យម ចំណុចរំពុះខ្ពស់ ដង់ស៊ីតេមធ្យម។ (10 ពិន្ទុ)

3. ចូររៀបរាប់វិធីសាស្ត្រកំណត់ដង់ស៊ីតេរបស់ដែកគោល អំបិល និងអាវកុល។ (06 ពិន្ទុ)

4. ចូរមើលរូប និងឆ្លើយសំណួរខាងក្រោម៖



A. កាបូនឌីអុកស៊ីត



B. បារីត



C. ដុំមាស



D. ខ្យល់



E ទឹកសុទ្ធ(ទឹកបិទ)



F. កាបូន (ធ្យូង)



G. ពោះរៀនកង់ ម៉ូតូ

- ក. តើរូបណាខ្លះបង្ហាញពីសារធាតុរឹង? (02 ពិន្ទុ)
- ខ. តើរូបណាខ្លះបង្ហាញពីសារធាតុរាវ? (02 ពិន្ទុ)
- គ. តើរូបណាបង្ហាញសារធាតុជាឧស្ម័ន? (02 ពិន្ទុ)
- ឃ. តើរូបធាតុណាខ្លះដែលអាចចម្លងចរន្តអគ្គិសនី? (02 ពិន្ទុ)
- ង. តើរូបធាតុណាខ្លះដែលអាចផែនដុំបាន? (02 ពិន្ទុ)
- ច. តើរូបធាតុណាខ្លះដែលមានលក្ខណៈយឺត? (02 ពិន្ទុ)
- ឆ. តើរូបធាតុណាខ្លះដែលមានចំណុចរំពុះនៅ 100 °C? (02 ពិន្ទុ)
- ជ. តើរូបធាតុណាដែលមានលក្ខណៈផុយស្រួយ? (02 ពិន្ទុ)
- ឈ. តើរូបធាតុណាខ្លះដែលអាចម្លងកម្ដៅបានល្អ? (02 ពិន្ទុ)
- ញ. តើរូបធាតុណាដែលមានរបីខ្លាំងជាងគេ? (02 ពិន្ទុ)

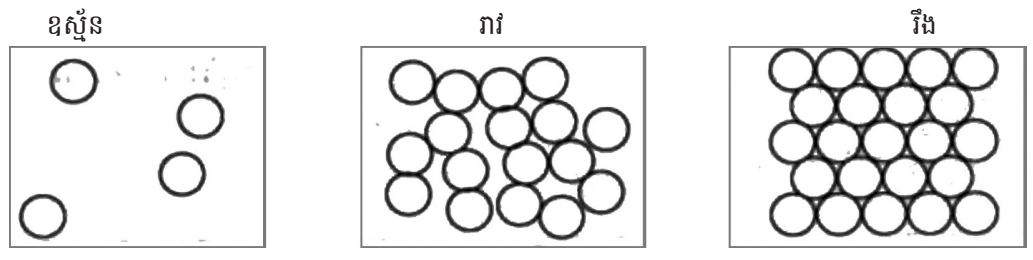
5. ដាក់ត្រឡប់ពីសាលារៀនវិញនៅតាមផ្លូវទៅផ្ទះ គាត់បានទិញកាវ៉ែម។ រវល់តែជជែកគ្នាជាមួយមិត្តភក្ដិគាត់បានឆ្លើយត្រឹមត្រូវកាវ៉ែមរបស់គាត់។ ប្រហែលជា ៣ នាទីបន្ទាប់មក គាត់មានអារម្មណ៍ថាដៃរបស់គាត់សើម ហើយកាវ៉ែមរបស់គាត់បានប្តូរទ្រទ្រង់ទ្រាយខុសកាលពីបានទិញថ្មីៗ។ តើប្រយោគខាងក្រោមមួយណាសមស្របបំផុត ដើម្បីពន្យល់បាតុភូតនេះ?



- A. កាវ៉ែមមួយចំនួនប្រាប់ចូលក្នុងសាច់ដុំ
  - B. កាវ៉ែមរលាយព្រោះវាប្រតិកម្មជាមួយខ្យល់
  - C. កាវ៉ែមរលាយព្រោះអាកាសធាតុពេលនោះក្ដៅ
  - D. កាវ៉ែមបានហូតទៅជាឧស្ម័នក្នុងខ្យល់
- (05 ពិន្ទុ)

# ចម្លើយ ការដាក់ពិន្ទុ និងលក្ខណៈវិនិច្ឆ័យការសម្រេចបានរបស់សិស្ស

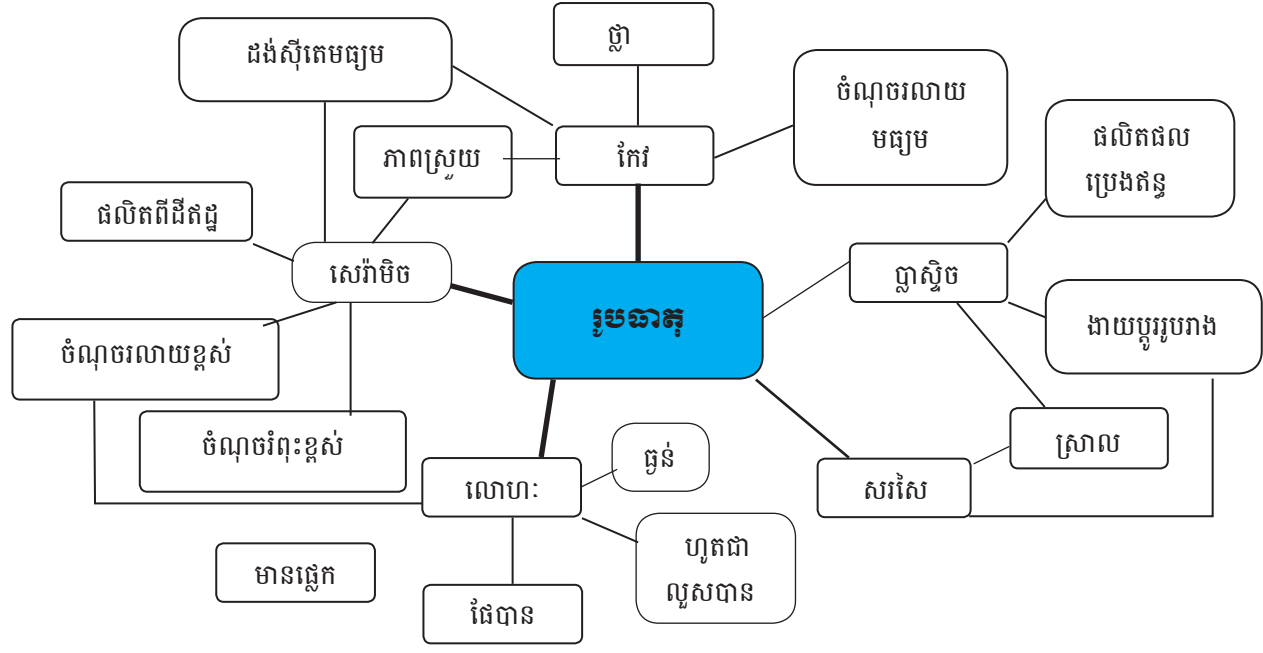
1. គូសគំរូភាគល្អិតក្នុងរូបធាតុ និងធ្វើចំណែកថ្នាក់រូបធាតុតាមភាពរូប (03 ពិន្ទុ × 3 = 09 ពិន្ទុ)



ខ្យល់ អុកស៊ីសែន ចំហាយទឹក      ទឹក ទឹកខ្មៅ បារ៉ែត សាប៊ូកក់សក់      អំបិល ដីខ្សាច់ ដែក ប្លាស្ទិច

**ការដាក់ពិន្ទុ:** 03 ពិន្ទុ = គូសគំរូភាគល្អិត និងធ្វើចំណែកចែករូបធាតុតាមភាពរូបបានត្រឹមត្រូវ  
 1.5 ពិន្ទុ = គូសគំរូភាគល្អិតបានត្រឹមត្រូវ តែធ្វើចំណែកចែករូបធាតុខុស ឬគូសគំរូភាគល្អិតខុស តែធ្វើចំណែកចែករូបធាតុត្រឹមត្រូវ  
 0ពិន្ទុ = គូសគំរូភាគល្អិត និងធ្វើចំណែកចែករូបធាតុខុសទាំងពីរ

2. ផែនទីគំនិតស្តីពីលក្ខណៈរបស់ រូបធាតុ (10 ពិន្ទុ)



**ការដាក់ពិន្ទុ:** 0.5 ពិន្ទុ = ដាក់ពាក្យគន្លឹះមួយ ឬលក្ខណៈមួយរបស់រូបធាតុត្រឹមត្រូវតាមទីតាំង  
 0 ពិន្ទុ = ដាក់ពាក្យគន្លឹះមួយ ឬលក្ខណៈមួយរបស់រូបធាតុមិនត្រឹមត្រូវតាមទីតាំង  
 10 ពិន្ទុ = ដាក់ពាក្យគន្លឹះ ឬលក្ខណៈរបស់រូបធាតុត្រឹមត្រូវតាមទីតាំងទាំងអស់

3. រៀបរាប់ពីវិធីកំណត់ដងស៊ីតេរបស់ដែកគោល និងអាល់កុល

(03 ពិន្ទុ × 2 = 06 ពិន្ទុ)

**ការកំណត់ដងស៊ីតេរបស់ដែកគោល:** ឆ្លឹងម៉ាសដែកគោលដោយជញ្ជីងអេឡិចត្រូនិច និងវាស់មាឌដែកគោលដោយទឹកក្នុងស៊ីឡាំងក្រិត រួចធ្វើផលធៀបរវាងម៉ាស និងមាឌរបស់ដែកគោល។

**ការកំណត់ដងស៊ីតេរបស់អាល់កុល** ដាក់ស៊ីឡាំងក្រិតនៅលើជញ្ជីងអេឡិចត្រូនិច ដាក់សំបកឱ្យលេខបង្ហាញសូន្យ រួចចាក់អាល់កុលចូលក្នុងស៊ីឡាំងក្រិតនោះនៅមាឌណាមួយ។ កត់ម៉ាសបង្ហាញលើជញ្ជីង និងមាឌក្នុងស៊ីឡាំងក្រិត រួចធ្វើផលធៀបរវាងម៉ាស និងមាឌរបស់អាល់កុល។

**ការដាក់ពិន្ទុ:** 03 ពិន្ទុ = រៀបរាប់ពីវិធីកំណត់ដងស៊ីតេរបស់ដែកគោល ឬអាល់កុលបានត្រឹមត្រូវ  
0 ពិន្ទុ = រៀបរាប់ពីវិធីកំណត់ដងស៊ីតេរបស់ដែកគោល ឬអាល់កុលមិនបានត្រឹមត្រូវ

4. មើលរូប និងឆ្លើយសំណួរ

(02 ពិន្ទុ × 5 = 10 ពិន្ទុ)

- ក. សារធាតុរឹង៖ រូបទី C, F, G
- ខ. សារធាតុរាវ៖ រូបទី B, E
- គ. សារធាតុឧស្ម័ន៖ រូបទី A, D
- ឃ. រូបធាតុដែលអាចចម្លងចរន្តអគ្គិសនី៖ រូបទី B, C, F
- ង. រូបធាតុដែលអាចផែបាន៖ រូបទី C
- ច. រូបធាតុដែលមានលក្ខណៈយឺត៖ រូបទី G
- ឆ. រូបធាតុដែលមានចំណុចរំពុះនៅ 100 °C៖ រូបទី E
- ជ. រូបធាតុដែលមានលក្ខណៈស្រួយ៖ រូបទី F
- ឈ. រូបធាតុដែលអាចចម្លងកម្ដៅបានល្អ៖ រូបទី B, C
- ញ. រូបធាតុដែលមានរបីខ្លាំងជាងគេ៖ រូបទី C

**ការដាក់ពិន្ទុ** 02 ពិន្ទុ = ឆ្លើយសំណួរមួយបានត្រឹមត្រូវ  
0 ពិន្ទុ = ឆ្លើយសំណួរមួយខុស

5. C. ការមើលរាយព្រោះអាកាសធាតុពេលនោះក្ដៅ

(5 ពិន្ទុ)

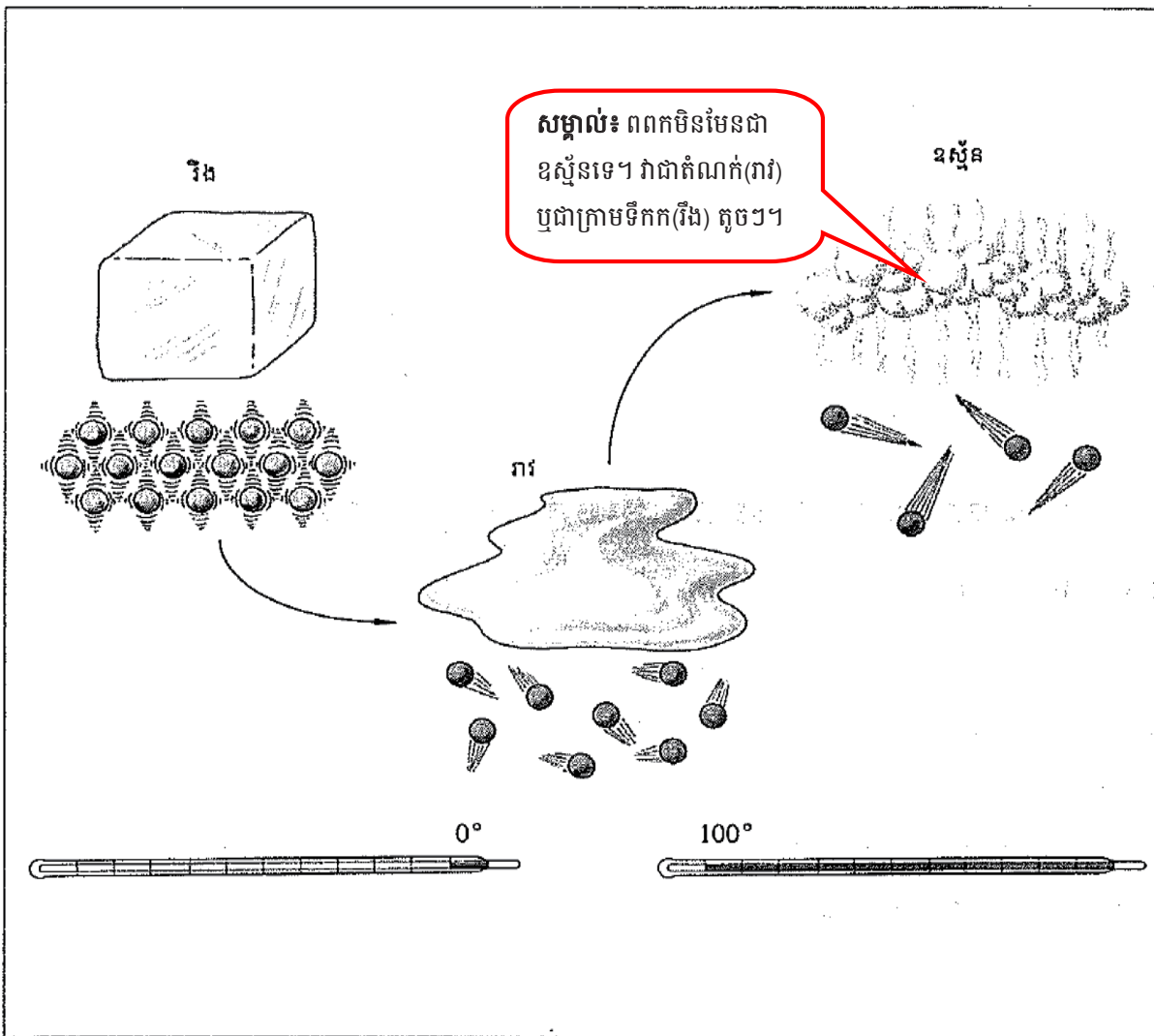
**ការដាក់ពិន្ទុ** 5 ពិន្ទុ = ជ្រើសរើសចម្លើយបានត្រឹមត្រូវ  
0 ពិន្ទុ = ជ្រើសរើសចម្លើយមិនត្រឹមត្រូវ

**លក្ខណៈវិនិច្ឆ័យការសម្រេចបានរបស់សិស្ស**

ពិន្ទុ	លក្ខណៈវិនិច្ឆ័យ និងការផ្តល់យោបល់ចំពោះគ្រូបង្រៀន
0 - 13	សិស្សដែលទទួលបានពិន្ទុនៅចន្លោះនេះ មានន័យថាពួកគេមិនទាន់មានចំណេះដឹងមូលដ្ឋាន និងជំនាញវិភាគ ខ្លឹមសារវិទ្យាសាស្ត្រស្តីពីរូបធាតុ និងចំណែកថ្នាក់រូបធាតុទេ។ ដូច្នេះ សិស្សដែលទទួលបានពិន្ទុនៅចន្លោះនេះ ត្រូវ តែធ្វើការសិក្សាពីមូលដ្ឋាននៃរូបធាតុ និងចំណែកចែករូបធាតុឡើងវិញ ជាមួយនឹងការលើកឧទាហរណ៍ងាយៗ ទាក់ទងនឹងចំណេះដឹងមូលដ្ឋានមានស្រាប់របស់ពួកគេ។
14 - 25	សិស្សដែលទទួលបានពិន្ទុនៅចន្លោះនេះ អាចពន្យល់បានពីមូលដ្ឋានគ្រឹះ និងជំនាញវិភាគងាយៗ លើខ្លឹមសារ វិទ្យាសាស្ត្រ ស្តីពីរូបធាតុ និងចំណែកថ្នាក់រូបធាតុ ប៉ុន្តែពួកគេនៅមានការលំបាកចំពោះខ្លឹមសារ និងការវិភាគស៊ីជម្រៅ នៅឡើយ។ គ្រូគួរផ្តល់ការពន្យល់ និងសំណួរ ឬលំហាត់បន្ថែមដល់ពួកគេ។
26 - 35	សិស្សដែលទទួលបានពិន្ទុនៅចន្លោះនេះ អាចពន្យល់បានពីខ្លឹមសារ និងជំនាញវិភាគស៊ីជម្រៅ លើខ្លឹមសារ វិទ្យាសាស្ត្រ ស្តីពីរូបធាតុ និងចំណែកថ្នាក់រូបធាតុ ប៉ុន្តែពួកគេមិនទាន់អាចឈានដល់កម្រិត ដែលពួកគេអាចប្រើប្រាស់ ចំណេះដឹងរបស់ពួកគេ ដើម្បីដោះស្រាយបញ្ហាវិទ្យាសាស្ត្រនៅឡើយ។ គ្រូត្រូវជួយពួកគេបន្ថែមទៀត ដូចជាការផ្តល់ សំណួរ និងលំហាត់បែបវិភាគ ដល់ពួកគេជាដើម។
36- 50	សិស្សដែលទទួលបានពិន្ទុនៅចន្លោះនេះ មានចំណេះដឹង និងជំនាញវិភាគគ្រប់គ្រាន់ លើខ្លឹមសារវិទ្យាសាស្ត្រស្តីពី រូបធាតុ និងចំណែកថ្នាក់រូបធាតុ។ ទោះជាយ៉ាងណាក៏ដោយ គ្រូត្រូវផ្តល់សំណួរ និងលំហាត់ដែលមានកម្រិតខ្ពស់ ដល់ពួកគេបន្ថែម ដើម្បីឱ្យពួកគេបង្កើនចំណេះដឹង និងជំនាញរបស់ពួកគេកាន់តែស៊ីជម្រៅ។

# ជំពូក 2

## បល្ល័ង្កភាពរូប



រូបធាតុទាំងឡាយប្រែប្រួលក្នុងភាពរូបបីយ៉ាង រឹង រាវ និងឧស្ម័ន។ នៅពេលដែលសារធាតុ មួយប្តូរពីភាពរូបមួយទៅភាពរូបមួយទៀត គឺពុំមានការផ្លាស់ប្តូរសមាសធាតុផ្សំរបស់វាឡើយ។ ក្នុងរូប ភាពនេះបើគេដុតដៃកគោលមួយដើមឱ្យឡើងក្រហម ហើយយកទៅដាក់នៅលើដុំទឹកកកនោះយើង ឃើញដុំទឹកកកមួយផ្ទុករលាយជាទឹករាវនិងមានរំកាយចំហាយឧស្ម័នផង។

# មេរៀនទី១

# បំលែងភាពរូប នៃរូបធាតុ

## វត្ថុបំណង

តាមសៀវភៅសិក្សាគោល បន្ទាប់ពីរៀនមេរៀននេះសិស្ស៖

- ពណ៌នាបានពីឈ្មោះផ្សេងៗនៃបំលែងភាពរូប
- ពន្យល់ពីបាតុភូតនៃបំលែង

## ផែនការមេរៀន

មេរៀននេះត្រូវបង្រៀនក្នុង ៦ ម៉ោងសិក្សា ដូចបង្ហាញនៅក្នុងតារាងខាងក្រោម ទៅតាមលំដាប់លំដោយនៃមេរៀន។ ទោះជាយ៉ាងណាក៏ដោយ គ្រូបង្រៀនអាចប្រើប្រាស់ទេពកោសល្យភាពទន់ភ្លន់ និងបត់បែនរបស់ខ្លួន ច្នៃប្រឌិតការ បង្រៀនទៅតាម កម្រិតយល់ដឹងរបស់សិស្ស និងស្ថានភាព តាមថ្នាក់ជាក់ស្តែង ដើម្បីសម្របសម្រួលទៅនឹងសកម្មភាពបង្រៀន និងរៀនដែលបានស្នើ នៅក្នុងការណែនាំនេះ។

តារាងទី១ ចំណងជើងរង និងបំលែងចែកម៉ោងបង្រៀន

ចំនួនម៉ោងសិក្សា	ចំណងជើងរងនៃមេរៀន	ទំព័រ
2	1. បំលែងពីភាពរូបមួយទៅភាពរូបមួយផ្សេងទៀត 1.1 ការរលាយ 1.2 កំណក 1.3 រំពុះ	118 - 120
2	1.4 កំណញើស 1.5 រំហើរ 1.6 រំហួត	120 - 121
2	2. បំលែងភាពរូបនៃទឹក មេរៀនសង្ខេប សំណួរ	122 - 123

## សេចក្តីណែនាំសម្រាប់ការមេរៀន

តារាងខាងក្រោមបង្ហាញពីវត្ថុបំណង សកម្មភាពបង្រៀន-រៀន និងរង្វាយតម្លៃតាមបំលែងចែកម៉ោងបង្រៀននីមួយៗ។ គ្រូ បង្រៀនរំពឹងថានឹងអនុវត្តសកម្មភាពបង្រៀន និងរៀនដូចមានរៀបរាប់ក្នុងតារាងនេះ និងវាយតម្លៃលទ្ធផលសិក្សារបស់សិស្សតាម លក្ខណៈវិនិច្ឆ័យសមស្រប។ សិស្សនឹងមានឱកាសអនុវត្តសកម្មភាពផ្សេងៗ ដើម្បីសិក្សាល្បឿនយល់ពីការបំលែងភាពរូបនៃរូបធាតុ។

**តារាងទី២ ផែនការបង្រៀន និងវាយតម្លៃ**

ចំនួនម៉ោងសិក្សា	វត្ថុបំណង	សកម្មភាព	លទ្ធផលវាយតម្លៃ
2	ពន្យល់ពីបាតុភូតបំបែក ភាពរូបនៃរូបធាតុដូចជា ការរលាយ កំណក និងរំពុះ។	សិស្សធ្វើការជាក្រុម ដើម្បីសង្កេត និង បង្កើតគំនូសតាងស្តីពីការបំបែកភាពរូបនៃ រូបធាតុ៖ ការរលាយ (រឹង -រាវ), កំណក (រាវ - រឹង), និងរំពុះ (រាវ - ឧស្ម័ន) ព្រមទាំងលើក ឧទាហរណ៍បញ្ជាក់សម្រាប់បំបែកភាពរូប នីមួយៗផងដែរ។	សិស្សពន្យល់ពីលំនាំ និងលើកឧទាហរណ៍បញ្ជាក់ សម្រាប់បំបែកភាពរូប នីមួយៗបានត្រឹមត្រូវ។
2	ពន្យល់ពីបាតុភូតបំបែក ភាពរូបនៃរូបធាតុដូចជា កំណញើស រំហើរ និង រំហួត។	សិស្សធ្វើការជាក្រុម ដើម្បីសង្កេត និង បង្កើតគំនូសតាងស្តីពីការបំបែកភាពរូបនៃ រូបធាតុ៖ កំណញើស (ឧស្ម័ន - រាវ), រំហើរ (រឹង - ឧស្ម័ន), និងរំហួត (រាវ - ឧស្ម័ន) ព្រម ទាំងលើកឧទាហរណ៍បញ្ជាក់សម្រាប់បំបែក ភាពរូបនីមួយៗផងដែរ។	សិស្សពន្យល់ពីលំនាំ និងលើកឧទាហរណ៍បញ្ជាក់ សម្រាប់បំបែកភាពរូប នីមួយៗបានត្រឹមត្រូវ។
2	- ពន្យល់ពីលំនាំបំបែក ភាពរូបរបស់ទឹក (រដ្ឋទឹក)។ - សង្ខេប និងឆ្លើយសំណួរ មេរៀន។	- សិស្សធ្វើការជាក្រុម ដើម្បីសង្កេត និង បង្កើតគំនូសតាងស្តីពីការបំបែកភាពរូប របស់ទឹក (រដ្ឋទឹក)។ - សិស្សសង្ខេបពីអ្វីដែលគេបានរៀន និង ឆ្លើយសំណួរនៅក្នុងសៀវភៅសិក្សា គោល។	- សិស្សពន្យល់ពី លំនាំបំបែកភាពរូប របស់ទឹកបានត្រឹមត្រូវ។ - សិស្សសង្ខេប និងឆ្លើយ សំណួរនៅក្នុងមេរៀន នេះបានត្រឹមត្រូវ។

**ចំណុចសំខាន់ៗនៃការបង្រៀន**

មេរៀននេះមិនត្រឹមតែមានគោលបំណងឱ្យសិស្សយល់ពីនិយមន័យបំបែកភាពរូបនៃរូបធាតុពីមួយទៅមួយប៉ុណ្ណោះទេ ប៉ុន្តែគ្រូបង្រៀនត្រូវផ្តល់ឱកាសឱ្យសិស្សឈ្វេងយល់ពីបម្រែបម្រួលនៃការតាំងនៅរបស់ភាគល្អិតក្នុងលំនាំបំបែកនីមួយៗផងដែរ។

**ចំណេះដឹងមូលដ្ឋានសម្រាប់មេរៀននេះ**

គ្រូបង្រៀនត្រូវប្រាកដថា សិស្សមានមូលដ្ឋានគ្រឹះស្តីពី «រូបធាតុ និងចំណែកថ្នាក់នៃរូបធាតុ» រួចហើយនៅមុនចាប់ផ្តើមបង្រៀន មេរៀននេះ។

### បំលែងភាពរូបនៃរូបធាតុ



#### វគ្គបំណង

ពន្យល់ពីលំនាំការរលាយ និងចំណុចរលាយរបស់រូបធាតុ នៃសារធាតុសុទ្ធ។

#### សកម្មភាពច្រៀង និងច្រៀង



#### សំណួរ

តើដំណើររលាយរបស់រូបធាតុកើតឡើងយ៉ាងដូចម្តេច?



- គ្រូឱ្យសិស្សគិតជាបុគ្គល ឬជាក្រុមលើសំណួរខាងលើ រួចឱ្យសិស្សផ្តល់យោបល់ និងគ្រប់ពេញបន្ថែម។

- គ្រូឱ្យសិស្សសង្កេតពីការរលាយ របស់ទឹកកក និងការរលាយរបស់ទៀន។

- គ្រូសួរសំណួរបន្ទាប់ពីការសង្កេតរបស់សិស្ស “តើនៅពេលណាសារធាតុមួយអាចរលាយបាន? តើអ្វីទៅជាចំណុចរលាយរបស់សារធាតុមួយ? តើសារធាតុមានចំណុចរលាយដូចគ្នាដែរ ឬទេ? តើមានអ្វីកើតឡើងចំពោះភាគល្អិតនៅពេលសារធាតុមួយរលាយ? តើទឹកកករលាយនៅសីតុណ្ហភាពប៉ុន្មាន?” ជាដើម។

- គ្រូពន្យល់ចំណុចរលាយក្នុងតារាងទី១។

ចុងក្រោយឱ្យសិស្សសង្ខេបខ្លឹមសារដែលបានសិក្សា ដូចជា ឱ្យសិស្សប្រាប់ពីនិយមន័យនៃការរលាយ និងចំណុចរលាយជាដើម។



#### ចំណេះដឹងបន្ថែម

ការដុតកម្ដៅសារធាតុសុទ្ធរឹងមួយនៅសម្ពាធចេរ វានឹងប្តូរពីភាពរូបរឹងទៅរាវ (រលាយ) នៅសីតុណ្ហភាពជាក់លាក់ណាមួយ ដែលនៅចំណុចនេះគេហៅថា **ចំណុចរលាយ** ហើយលំនាំនៃការប្តូរភាពរូបពីរឹងទៅរាវគេហៅថា **ការរលាយ** ។ ប្រាសមកវិញ នៅសីតុណ្ហភាពដូចគ្នា សារធាតុសុទ្ធអាចប្តូរភាពរូបពីរាវទៅរឹងវិញ លំនាំនេះគេហៅថា **កំណក** ។ ទៀនមិនមែនជាសារធាតុសុទ្ធទេ ដូច្នេះវាគ្មានចំណុចរលាយច្បាស់លាស់ទេ។ ចំហេះទៀន អាចបង្ហាញពីលំនាំផ្លាស់ប្តូរភាពរូបរឹង- រាវ, រាវ-រឹង និងរាវ-ឧស្ម័ន (ទៀននេះដោយសារចំហាយឧស្ម័នទៀន ដែលកើតឡើងពីអង្គធាតុរាវរបស់ទៀន ពេលត្រូវកម្ដៅ)។ ដើម្បីបង្ហាញពីចំណុចរលាយជាក់លាក់របស់សារធាតុសុទ្ធនៅក្នុងថ្នាក់ គ្រូអាចឱ្យសិស្សសង្កេតពីទឹកកក។

មេរៀនទី

# 1

## បំលែងភាពរូបនៃរូបធាតុ

### ចប់មេរៀននេះ សិស្សអាច

- ❑ ពណ៌នាបានពីឈ្មោះផ្សេងៗនៃបំលែងភាពរូប
- ❑ ពន្យល់ពីបាតុភូតនៃបំលែង ។

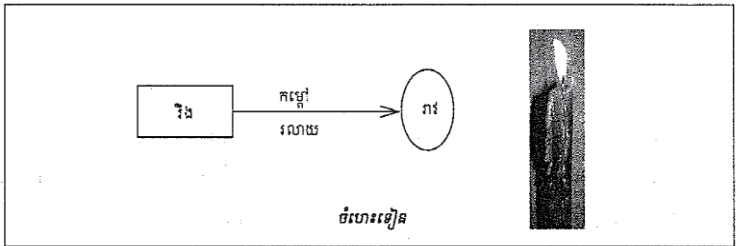
លំនាំដែលបំលែងរូបធាតុពីភាពរូបមួយទៅមួយទៀតដោយនៅរក្សាលក្ខណៈរបស់វានៅដដែលគេហៅថា បំលែងភាពរូប។

យើងបានសិក្សាអំពីលក្ខណៈរូបនិងភាពរូបរបស់រូបធាតុ ព្រមទាំងរបៀបធ្វើចំណែកថ្នាក់ ។ បំលែងរូបធាតុពីរឹងទៅរាវ ពីរាវទៅឧស្ម័នហៅថា បំលែងភាពរូប ។

### 1. បំលែងពីភាពរូបមួយទៅភាពរូបមួយផ្សេងទៀត

#### 1.1. ការរលាយ

ការរលាយគឺជាបំលែងភាពរូបពីរឹងទៅរាវ ដែលកើតឡើងនៅសីតុណ្ហភាពកំណត់មួយ ។ ពេលដែលយើងដុតកម្ដៅរូបធាតុរឹង ភាគល្អិតបង្ករបស់វាទទួលបានថាមពល និងញ័រយ៉ាងខ្លាំង ។ កាលណាសីតុណ្ហភាពកាន់តែកើនខ្លាំងឡើងនោះ ភាគល្អិតបង្ករូបធាតុក៏កាន់តែញ័រខ្លាំងដែររហូតមិនអាចរក្សាស្ថានភាពដើមបាន រួចប្តូរទៅជាភាពរាវហៅថា ការរលាយ ។ ឯសីតុណ្ហភាពពេលដែលវាប្តូរភាពរូបនេះហៅថា “ចំណុចរលាយ” ។



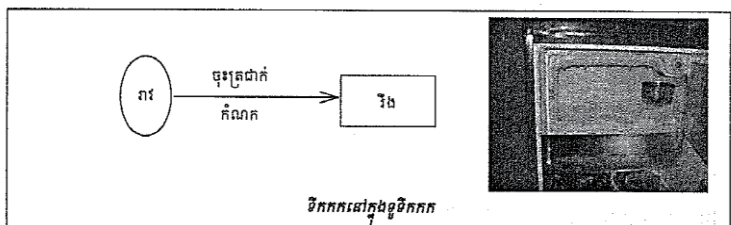
រូបធាតុសុទ្ធទាំងឡាយមានចំណុចរលាយកំណត់ច្បាស់លាស់ (មើលតារាងទី 1) ។

តារាងទី 1 : ចំណុចរលាយនៃរូបធាតុមួយចំនួន

រូបធាតុ	ចំណុចរលាយ (°C)
អុកស៊ីសែន	-219
ទឹក	0
អំបិល	801
ដែក	1535
ពេជ្រ	3550
អាល់កុល	-117

**1.2. កំណក**

លំនាំដែលភាពរាវប្លែងទៅជាដរឹងហៅថា កំណក។ ពេលដែលរូបធាតុរាវចុះត្រជាក់ សីតុណ្ហភាពវាថយចុះរហូតដល់ចំណុចកំណក។ នៅចំណុចនេះរូបធាតុរាវប្លែងជាដរឹង ហើយសីតុណ្ហភាពថេរ (មិនប្រែប្រួល) ក្នុងពេលដែលរូបធាតុរាវកំណក ព្រោះថាមពលកំដៅនាំដោះឱ្យមជ្ឈដ្ឋានជុំវិញវា។



សីតុណ្ហភាពនៅពេលដែលវត្ថុរាវកកហៅថា “ ចំណុចកំណក ” ។

**1.3. រំពុះ**

លំនាំដែលភាពរាវប្លែងទៅជាឧស្ម័នហៅថា រំពុះ។ ពេលយើងដុតកម្ដៅរូបធាតុរាវទទួលបានថាមពលចំណែកភាគល្អិតបង្កវាឆ្លាស់ទីយ៉ាងរហ័ស ហើយកាលណាសីតុណ្ហភាពកើនឡើងធ្វើឱ្យភាគល្អិតមានថាមពលគ្រប់គ្រាន់ ដើម្បីបំបែកកម្លាំងដែលចងក្រងវា ហើយក៏បំបែកគ្នាជាចំហាយឧស្ម័ន។ សីតុណ្ហភាពនៅពេលដែលវត្ថុរាវរំពុះ ហៅថា ចំណុចរំពុះ។

**វត្ថុបំណែក**

ពន្យល់ពីលំនាំកំណក និងរំពុះរបស់រូបធាតុនៃសារធាតុសុទ្ធ។

**សកម្មភាពបង្រៀន និងរៀន**

**សំណួរ**

តើដំណើរកំណក និងរំពុះរបស់រូបធាតុកើតឡើងយ៉ាងដូចម្តេច?

**-កំណក**

- គ្រូឱ្យសិស្សគិតជាបុគ្គល ឬជាក្រុម រួចឱ្យសិស្សពន្យល់ពីលំនាំកំណករបស់រូបធាតុ ដោយលើកឧទាហរណ៍ (ឧ. ទឹកប្លែងពីទឹករាវទៅទឹកកក) និងគ្រូបំពេញបន្ថែម។

**-រំពុះ**

- គ្រូឱ្យសិស្សគិតជាបុគ្គល ឬជាក្រុម រួចឱ្យសិស្សពន្យល់ពីលំនាំរំពុះរបស់រូបធាតុដោយលើកឧទាហរណ៍ (ឧ. ទឹករំពុះ) និងគ្រូបំពេញបន្ថែម។

- គ្រូរៀបចំឱ្យសិស្សបានសង្កេតពីការរំពុះរបស់ទឹក។

សំណួរត្រិះរិះ៖ តើមានអ្វីកើតឡើងចំពោះភាគល្អិត នៅពេលសារធាតុមួយរងកំណក? រំពុះ? តើទឹកកក និងរំពុះ នៅសីតុណ្ហភាពប៉ុន្មាន?»




**ចំណេះដឹងបន្ថែម**

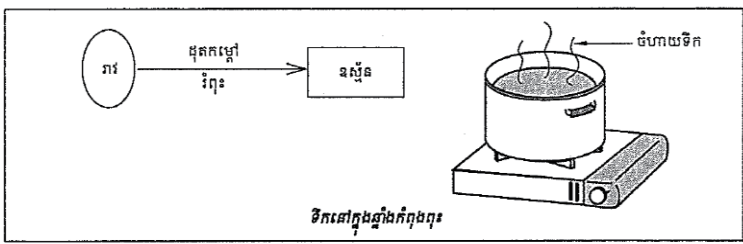
- សីតុណ្ហភាពដែលបង្ហាញនៅក្នុងតារាង 1 និង 2 គេវាស់នៅសម្ពាធ 1 atm (atmosphere)។ នៅក្នុងតារាងទាំងពីរនេះ អំបិលគឺជា NaCl និងអាល់កុលគឺជា អេតាណុល។
- អុកស៊ីសែនមានចំណុចរលាយ -219 °C និងចំណុចរំពុះ -183 °C ដូច្នេះវាជាឧស្ម័ន នៅសីតុណ្ហភាពបន្ទប់ (25°C)។
- ទឹកមានចំណុចរំពុះ 100 °C និងអេតាណុល 78 °C ដូច្នេះវាជាអង្គធាតុរាវនៅសីតុណ្ហភាពបន្ទប់(25°C)។
- ចំណុចរលាយរបស់អំបិល (NaCl) = 801 °C, ដែក = 1535 °C និងពេជ្រ = 3550 °C ដូច្នេះ ពួកវាជាអង្គធាតុដរឹងនៅសីតុណ្ហភាពបន្ទប់។

**វត្ថុបំណង**  
ពន្យល់ពីលំនាំកំណត្រឹមរបស់រូបធាតុនៃសារធាតុសុទ្ធ។

**សកម្មភាពចម្រៀង និងច្រៀង**

**សំណួរ**  
តើដំណើរការកំណត្រឹមរបស់រូបធាតុកើតឡើងយ៉ាងដូចម្តេច?

 - គ្រូឱ្យសិស្សគិតជាបុគ្គល ឬជាក្រុមលើសំណួរខាងលើ រួចឱ្យសិស្សផ្តល់យោបល់ និងគ្រូបំពេញបន្ថែម។  
- គ្រូឱ្យសិស្សសង្កេតពីកំណត្រឹមរបស់ទឹកដូចជាកំណត្រឹមរបស់ចំហាយទឹកពុះ ឬកំណត្រឹមលើផ្ទៃខាងក្រៅរបស់កែវដែលមានដាក់ទឹកកក ជាដើម។  
- គ្រូសួរសំណួរបន្ទាប់ពីការសង្កេតរបស់សិស្ស “តើនៅពេលណាសារធាតុមួយអាចកំណត្រឹមបាន? តើមានអ្វីកើតឡើងចំពោះភាគល្អិត នៅពេលសារធាតុមួយកំណត្រឹម?” ជាដើម។

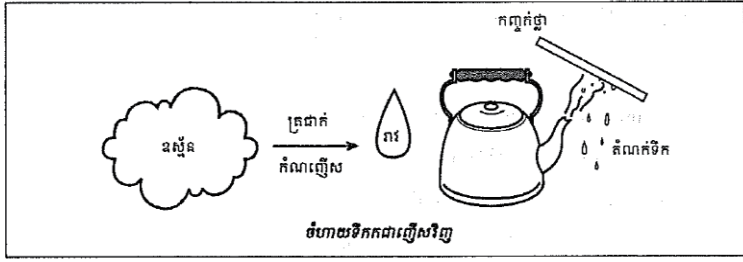


តារាងទី 1 : ចំណុចរំពុះនៃរូបធាតុមួយចំនួន

រូបធាតុ	ចំណុចរំពុះ (°C)
អុកស៊ីសែន	-183
ទឹក	100
អំបិល	1467
ដែក	2890
ពេជ្រ	4827
អាល់កុល	78

**1.4. កំណត្រឹម**

លំនាំដែលឧស្ម័នប្លែងទៅជាភាពរាវហៅថា កំណត្រឹម។ ពេលទឹកកំពុងពុះយើងសង្កេតឃើញចំហាយទឹកប្លែងទៅជាតំណក់ទឹកតូចៗនៅត្រង់កន្លែងដែលត្រជាក់ជាង ព្រោះថាមពលកម្ដៅឱ្យទៅមជ្ឈដ្ឋានខាងក្រៅនៅពេលកំណត្រឹមកើតឡើង។



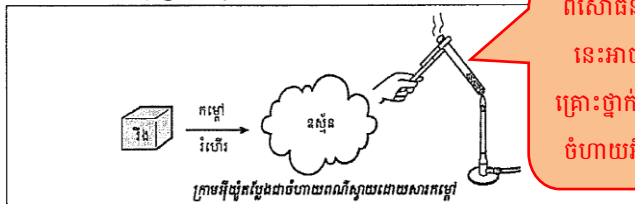
120

**ចំណេះដឹងបន្ថែម**  
គ្រូអាចលើកឧទាហរណ៍ពីបាតុភូតកំណត្រឹមផ្សេងៗទៀត ដែលកើតមានក្នុងជីវភាពប្រចាំថ្ងៃមានដូចជា៖ ចំហាយទឹកកំណត្រឹមជាពពក ដំណក់ទឹកកើតមាននៅជាប់នឹងគ្របឆ្នាំងបាយ កំណត្រឹមរបស់ស្រាក្នុងដំណើរការបំណិតស្រា តំណក់ទឹកសន្សើមនាពេលព្រលឹមដែលជាប់នៅលើស្លឹកឈើ ឬស្មៅ ។ល។

រូបភាពទី១ មេរៀនទី១

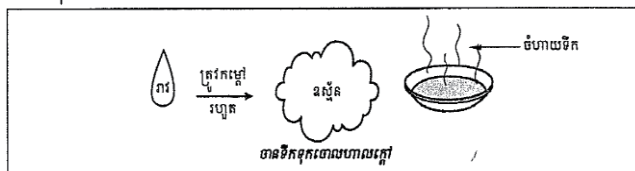
1.5. រំហើរ

លំនាំដែលភាពរឹង ប្លែងដោយផ្ទាល់ទៅជាឧស្ម័នដោយមិនឆ្លងកាត់ភាពរាវហៅថា រំហើរ ។  
ឧទាហរណ៍ មើលយើងដុតក្រាម អ៊ីយ៉ូតវាប្លែងទៅជាចំហាយឧស្ម័នពណ៌ស្វាយ ។



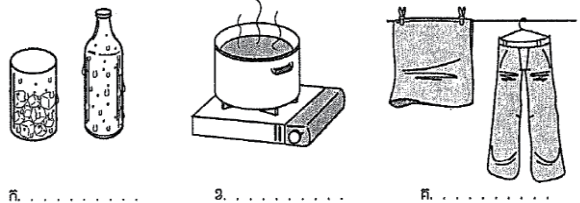
1.6. រំហួត

លំនាំដែលភាពរឹងប្លែងទៅជាភាពឧស្ម័នមុនពុះហៅថា រំហួត ។ លំនាំនេះកើតមានតែនៅលើផ្ទៃនៃវត្ថុរាវតែប៉ុណ្ណោះ ។ រំហួតឧស្ម័នគ្នាពីរពុះ ព្រោះរំហួតកើតមានឡើងយឺតយ៉ាវនៅផ្ទៃរបស់វត្ថុរាវ ។ ចំណែកពុះកើតមាននៅក្នុងវត្ថុរាវ ហើយយើងអាចឃើញពុះចំហាយនៅក្នុងវត្ថុរាវ ពេលយើងដាំទឹកនៅក្នុងកែវបេសែ ។



**ប្រតិបត្តិ**

1. ចូរដាក់ឈ្មោះឱ្យលំនាំបំប្លែងភាពរឹងនៃរូបភាពខាងក្រោម



ក. .... ខ. .... គ. ....  
2. តើលំនាំពុះ និងរំហួតឧស្ម័នគ្នាដូចម្តេច ?

121

**វត្ថុបំណង**  
ពន្យល់ពីលំនាំរំហើរ និងរំហួតរបស់រូបធាតុនៃសារធាតុសុទ្ធ។

**សកម្មភាពចម្រៀន និងច្រៀន**

**សំណួរ**  
តើដំណើរការរំហើរ និងរំហួតរបស់រូបធាតុកើតឡើងយ៉ាងដូចម្តេច?

**-រំហើរ**  
- គ្រូឱ្យសិស្សគិតជាបុគ្គល ឬជាក្រុម រួចឱ្យសិស្សពន្យល់ពីលំនាំរំហើររបស់រូបធាតុដោយលើកឧទាហរណ៍ (ឧ. ថ្នាំកន្ត្រា (ណាត់តាឡែន) ប្លែងជាចំហាយក្នុងសីតុណ្ហភាពបន្ទប់) និងគ្រូបំពេញបន្ថែម។ បើមានលទ្ធភាព គ្រូពិសោធបង្ហាញរំហើររបស់ក្រាមអ៊ីយ៉ូត ដោយដាក់ក្រាមអ៊ីយ៉ូដបន្តិចក្នុងកែវបេសែ គ្រប រួចដុតកម្ដៅតិចៗ។

**-រំហួត**  
-គ្រូអាចឱ្យសិស្សគិតជាបុគ្គល ឬជាក្រុម រួចឱ្យសិស្សពន្យល់ពីលំនាំនៃរំហួតរបស់រូបធាតុ ដោយលើកឧទាហរណ៍ (ឧ. ការហាលខោអាវសើមក្រោមកម្ដៅថ្ងៃ) និងគ្រូបំពេញបន្ថែម។

-គ្រូសួរសំណួរឱ្យសិស្សត្រិះរិះបន្ថែមដូចជា «តើនៅពេលណាសារធាតុមួយអាចរំហើរ? រំហួត? តើមានអ្វីកើតឡើងចំពោះភាគល្អិតនៅពេលសារធាតុមួយរំហើរ? រំហួត?» ជាដើម។

**ចម្លើយសំណួរប្រតិបត្តិ**

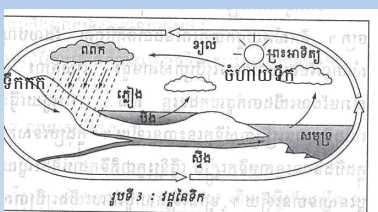
- ក. កំណកញ្ជើស ខ. រំពុះ គ. រំហួត
- រំហួតគឺជាលំនាំដែលអង្គធាតុរាវប្លែងជាឧស្ម័ន និងកើតមានតែនៅលើផ្ទៃអង្គធាតុរាវប៉ុណ្ណោះ ចំណែកពុះរំពុះវិញអង្គធាតុរាវប្លែងជាឧស្ម័នមិនត្រឹមតែនៅលើផ្ទៃរបស់អង្គធាតុរាវប៉ុណ្ណោះទេ ប៉ុន្តែវាកើតមានទាំងនៅផ្នែកខាងក្នុងរបស់អង្គធាតុរាវផងដែរ ដែលបង្កើតជាពុះ។ សម្ពាធចំហាយកើតពីរំហួតទាបជាង 1 atm ប៉ុន្តែសម្ពាធចំហាយកើតពីរំពុះស្មើ 1 atm។

**វត្ថុបំណែង**  
ពន្យល់ពីលំនាំបំលែងភាពរូបរបស់ទឹក (វដ្តទឹក)។

**សកម្មភាពបង្រៀន និងរៀន**

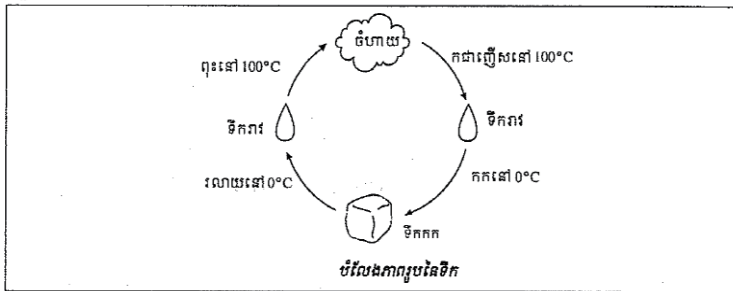
**សំណួរ**  
តើទឹកអាចប្រែប្រួលភាពរូបយ៉ាងដូចម្តេចខ្លះ? និងនៅពេលណាខ្លះ?

- គ្រូឱ្យសិស្សគិតជាបុគ្គល ឬជាក្រុម លើសំណួរខាងលើ រួចឱ្យសិស្សផ្តល់យោបល់ និងគ្រប់ពេញបន្ថែម។  
- គ្រូឱ្យសិស្សរៀបចំបញ្ហាពាក្យតាមលំដាប់លំដោយនៃវដ្តទឹក ដូចរូបខាងក្រោម។



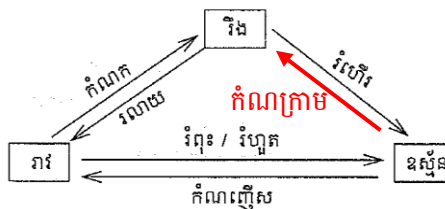
**2. បំលែងភាពរូបនៃទឹក**

រូបធាតុទាំងឡាយអាចផ្លាស់ប្តូរពីភាពរូបមួយទៅភាពរូបមួយទៀត កាលណាសីតុណ្ហភាពប្រែប្រួល។ ឧទាហរណ៍ : ការរំលាយដែក ការផលិតទឹកកក។



**មេរៀនសង្ខេប**

- លំនាំដែលជាហេតុនាំឱ្យមានបំលែងភាពរូបនៃរូបធាតុ។



- រូបធាតុអាចប្តូរពីភាពរូបមួយទៅភាពរូបមួយទៀត ពេលគេផ្តល់ឬបញ្ជូនថាមពលកម្ដៅ។
- រូបធាតុស្រូបកម្ដៅនៅពេលគេដុតកម្ដៅវា ហើយបាត់កម្ដៅនៅពេលធ្វើឱ្យត្រជាក់។



**-សំណួរត្រិះរិះ**

១. តើការតាំងនៅរបស់ភាគល្អិតប្រែប្រួលយ៉ាងដូចម្តេចខ្លះ នៅពេលរូបធាតុប្រែប្រួលភាពរូប? ចូរពន្យល់ដោយមានគូររូបតំណាងភាគល្អិតបញ្ជាក់ផង។

- ក. រឹង → រាវ
- ខ. រាវ → ឧស្ម័ន
- គ. ឧស្ម័ន → រាវ
- ង. រាវ → រឹង
- ច. រឹង → ឧស្ម័ន
- ឆ. ឧស្ម័ន → រឹង

២. តើវដ្តទឹកមានសារប្រយោជន៍ យ៉ាងដូចម្តេចខ្លះចំពោះជីវិត និងរុក្ខជាតិនៅលើផែនដី?

**សំណួរ**

1. ដូចម្តេចហៅថាការរលាយ? ដូចម្តេចហៅថាកំណក ?
2. តើទឹកក្លាយទៅជាទឹកកកនៅសីតុណ្ហភាពប៉ុន្មាន °C ?
3. ដូចម្តេចហៅថាកំណញើស ?
4. តើលំនាំដែលភាពរឹង ប្លែងដោយផ្ទាល់ទៅជាឧស្ម័នដោយមិនឆ្លងកាត់ភាពរាវហៅថា លំនាំអ្វី ?
5. តើលំនាំរហូតកើតមានឡើងដូចម្តេច ?



**វត្តមាន**

ពង្រឹងចំណេះដឹងសិស្សលើខ្លឹមសារដែលសិស្សបានរៀន តាមរយៈការសង្ខេបមេរៀន និងឆ្លើយសំណួរនៅក្នុងសៀវភៅសិក្សា។



គ្រូឱ្យសិស្សរំលឹកឡើងវិញនូវអ្វីដែលពួកគេបានរៀន ដូចជាឱ្យសិស្សគូសដ្យាក្រាមពីបំលែងភាពរូបរបស់រូបធាតុ ដូចមាននៅក្នុងសៀវភៅសិក្សាគោល ទំព័រ 122 និងឱ្យសិស្សឆ្លើយសំណួរមេរៀន។

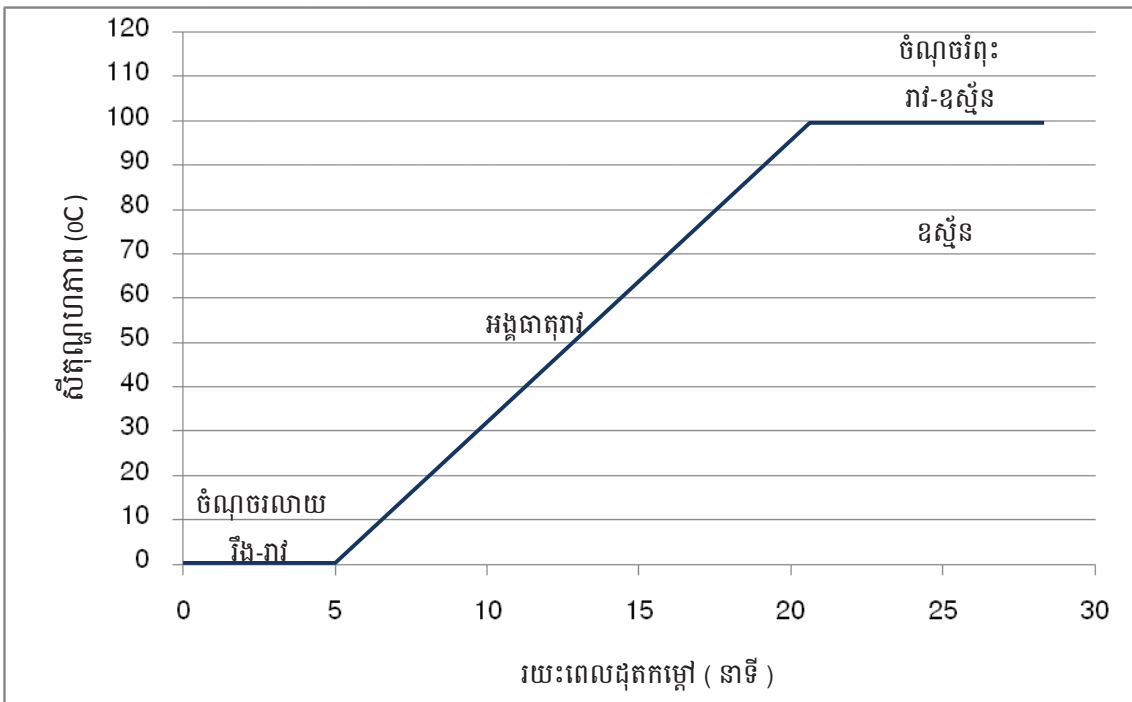


**ចម្លើយសំណួរមេរៀន៖**

1. ការរលាយ គឺជាលំនាំដែលរូបធាតុរឹងបំលែងទៅជារាវ។ កំណកគឺជាលំនាំដែលរូបធាតុរាវបំលែងទៅជារឹង។
2. ទឹកក្លាយជាទឹកកកនៅសីតុណ្ហភាព 0°C
3. កំណញើស គឺជាលំនាំដែលឧស្ម័នក្លាយជាអង្គធាតុរាវ។
4. លំនាំដែលភាពរឹងប្លែងជាឧស្ម័ន ដោយមិនឆ្លងកាត់ភាពរាវហៅថា រំហើរ។
5. លំនាំរហូត កើតឡើងនៅពេលអង្គធាតុរាវបំលែងជាឧស្ម័ន នៅសីតុណ្ហភាពទាបជាងសីតុណ្ហភាពរំពុះ។ វាកើតឡើងនៅលើផ្ទៃនៃអង្គធាតុរាវ។

### ចំណេះដឹង និងសកម្មភាពបន្ថែម

ក្រាហ្វខាងក្រោមបង្ហាញពីបម្រែបម្រួលសីតុណ្ហភាពនៅពេលទឹកប្រែភាពរូបពីរឹងទៅរាវ និងពីរាវទៅឧស្ម័ន តាមរយៈការពិសោធដុតកម្ដៅ។ វាជាការប្រសើរ ប្រសិនបើគ្រូអាចពិសោធបង្ហាញ ឬឱ្យសិស្សពិសោធខ្លួនឯង ដើម្បីសង្កេតពី បម្រែបម្រួលសីតុណ្ហភាពនៅពេលទឹកបំប្លែងភាពរូបរបស់វា ដោយការដុតកម្ដៅទឹកកក រហូតដល់ទឹកពុះ។



#### សម្ភារពិសោធន៍


ចង្រានឧស្ម័ន កែវបេស៊ី ឬឆ្នាំងទឹក ទែរម៉ូម៉ែត្រ និងទឹកកក។

#### ដំណើរការពិសោធន៍

- ដាក់ដុំទឹកកកតូចៗចូលទៅក្នុងកែវបេស៊ី ឬឆ្នាំង ឱ្យបានកន្លះកែវ ឬកន្លះឆ្នាំង
- វាស់សីតុណ្ហភាពទឹកកករៀងរាល់ 1 នាទីម្តងរយៈពេល 5 នាទី។
- ចាប់ផ្ដើមដុតកម្ដៅ និងបន្តវាស់សីតុណ្ហភាពរៀងរាល់ 1 នាទីម្តង រហូតដល់ទឹកពុះសព្វបាន 5 នាទី។
- សង់ក្រាហ្វបង្ហាញពីបម្រែបម្រួលសីតុណ្ហភាពទៅនឹងរយៈពេល និងកំណត់ចំណុចរលាយ និងចំណុចរំពុះរបស់ទឹក។

#### បម្រុងប្រយ័ត្ន

- កុំដាក់ទែរម៉ូម៉ែត្រប៉ះផ្ទៃកែវ ឬឆ្នាំង
- កែវ ឬឆ្នាំងក្ដៅអាចធ្វើឱ្យរលាក



**ការប្រើប្រាស់សម្ភារឧបទេសរបស់ SEAL / VVOB**

គ្មានសម្ភារឧបទេស SEAL / VVOB ក្នុងមេរៀននេះទេ។



**បង្ហាញ ការដាក់ពិន្ទុ និងលក្ខណៈវិនិច្ឆ័យការសម្រេចបានរបស់សិស្ស**

១. ចូរប្រាប់ពីឈ្មោះលំនាំបាតុភូតខាងក្រោម៖ (7 x2 ពិន្ទុ=14 ពិន្ទុ)
- ក. រំហួត
  - ខ. រលាយ
  - គ. រំពុះ
  - ឃ. កំណក
  - ង. រំហើរ
  - ច. កំណញើស
  - ឆ. កំណកក្រាម

**ការដាក់ពិន្ទុ៖** 2ពិន្ទុ = សិស្សឆ្លើយត្រូវមួយ  
 14 ពិន្ទុ = សិស្សឆ្លើយត្រូវទាំងអស់  
 0 ពិន្ទុ = សិស្សឆ្លើយខុសទាំងអស់

២. - ម្ហូបអាហារត្រូវបានគេធ្វើឱ្យកកនៅសីតុណ្ហភាពទាប ដោយប្រើឧបករណ៍ក្លាសេ ដូចជាទូទឹកកក។  
 - ម្ហូបអាហារត្រូវប្តូរពីភាពទន់ ឬរាវ ទៅជាវីង (កក) ដែលលំនាំនេះហៅថា កំណក។ (16 ពិន្ទុ)

**ការដាក់ពិន្ទុ៖** 8ពិន្ទុ = សិស្សឆ្លើយត្រូវ 1 ចំណុច  
 16 ពិន្ទុ = សិស្សឆ្លើយត្រូវទាំង 2 ចំណុច  
 0 ពិន្ទុ = សិស្សឆ្លើយមិនបានត្រឹមត្រូវ

៣. បំលែងភាពរូបស្របកម្តៅ និងបញ្ចេញកម្តៅបែងចែកដូចខាងក្រោម៖ (6 x 2 ពិន្ទុ= 12ពិន្ទុ)
- បំលែងភាពរូបស្របកម្តៅ បំលែងភាពរូបបញ្ចេញកម្តៅ**

- រំហួតរំពុះ -កំណញើស
- រលាយ -កំណក
- រំហើរ -កំណកក្រាម

**ការដាក់ពិន្ទុ៖** 2 ពិន្ទុ = សិស្សឆ្លើយត្រូវ 1 ចំណុច  
 12 ពិន្ទុ = សិស្សឆ្លើយត្រូវទាំង 6ចំណុច  
 0 ពិន្ទុ = សិស្សឆ្លើយមិនបានត្រឹមត្រូវ

៤. រវាងរដូវរងារ និងរដូវក្តៅ រដូវក្តៅធ្វើឱ្យសម្លៀកបំពាក់សើមឆាប់ស្ងួតជាងរដូវរងារ ព្រោះនៅរដូវក្តៅមានពន្លឺព្រះអាទិត្យដែលផ្តល់កម្តៅខ្លាំងជាងនៅរដូវរងារ។ (8 ពិន្ទុ)

**ការដាក់ពិន្ទុ៖** 8 ពិន្ទុ = សិស្សឆ្លើយបានត្រឹមត្រូវ  
 0 ពិន្ទុ = សិស្សឆ្លើយមិនបានត្រឹមត្រូវ

**លក្ខណៈវិនិច្ឆ័យការសម្រេចបានរបស់សិស្ស**

ពិន្ទុ	លក្ខណៈវិនិច្ឆ័យ និងការផ្តល់យោបល់ចំពោះគ្រូបង្រៀន
0 - 13	សិស្សនៅមិនទាន់មានចំណេះដឹងមូលដ្ឋានគ្រប់គ្រាន់នៅឡើយ ដូច្នេះគ្រូត្រូវពន្យល់សិស្សពីភាពរូបទាំងបីរបស់រូបធាតុ និងបម្រែបម្រួលរបស់វាឡើងវិញ។
14- 25	សិស្សមានចំណេះដឹងមូលដ្ឋានគ្រប់គ្រាន់ ប៉ុន្តែនៅមិនទាន់យល់ច្បាស់ពីខ្លឹមសារមេរៀននៅឡើយទេ។ គ្រូត្រូវជួយបំផុសឱ្យសិស្សសិក្សាល្បឿនយល់បន្ថែមទៀតអំពីការបំលែងភាពរូបនៃរូបធាតុ។
26 - 35	សិស្សមានចំណេះដឹងមូលដ្ឋានគ្រប់គ្រាន់ និងបានយល់នូវខ្លឹមសារមេរៀនកម្រិតមធ្យម ដូច្នេះពួកគេត្រូវការចាំបាច់សិក្សាល្បឿនយល់ឱ្យបានច្រើនជាងនេះទៀត។ គ្រូត្រូវជួយផ្តល់សំណួរត្រិះរិះបន្ថែមទៀតដល់សិស្ស។
36 - 50	សិស្សបានយល់ច្បាស់លាស់អំពីខ្លឹមសារមេរៀន។

## មេរៀនទី២

## កត្តានៃបំលែងរូបធាតុ

សម្គាល់៖ ដើម្បីឱ្យត្រូវជាមួយខ្លឹមសារមេរៀន ចំណងជើងមេរៀន «កត្តានៃបំលែងរូបធាតុ» ត្រូវប្តូរជា «កត្តានៃបំលែងរូបធាតុវិញ»។

### វត្ថុបំណង

តាមសៀវភៅសិក្សាគោល បន្ទាប់ពីរៀនមេរៀននេះសិស្ស៖

- ពណ៌នាបានពីកត្តាដែលនាំឱ្យមានបំលែងរូបធាតុ
- ពណ៌នាពីបំលែងដោយកម្ដៅ ពន្លឺ អគ្គិសនី និងដោយល្បាយ
- រៀបរាប់ពីសារប្រយោជន៍នៃប្រតិកម្មគីមី

### ផែនការមេរៀន

មេរៀននេះត្រូវបង្រៀន ៧ ម៉ោងសិក្សា ដូចបង្ហាញនៅក្នុងតារាងខាងក្រោម ទៅតាមលំដាប់លំដោយនៃមេរៀន។ ទោះជាយ៉ាងណាក៏ដោយ គ្រូបង្រៀនអាចប្រើប្រាស់ទេពកោសល្យ ភាពទន់ភ្លន់ និងបត់បែនរបស់ខ្លួន ច្នៃប្រឌិតការបង្រៀនទៅតាមកម្រិតយល់ដឹងរបស់សិស្ស និងស្ថានភាពតាមថ្នាក់ជាក់ស្តែង ដើម្បីសម្របសម្រួលទៅនឹងសកម្មភាពបង្រៀន និងរៀនដែលបានស្នើនៅក្នុងការណែនាំនេះ។

តារាងទី១ ចំណងជើងរង និងបំលែងចែកម៉ោងបង្រៀន

ចំនួនម៉ោងសិក្សា	ចំណងជើងរងនៃមេរៀន	ទំព័រ
1	1. សង្កេត	124
3	2. បំលែងដោយកម្ដៅ	125-126
1	3. បំលែងដោយពន្លឺ	127
	4. បំលែងដោយអគ្គិសនី	
	5. បំលែងដោយល្បាយ	
1	6. ប្រតិកម្មគីមី	128
1	មេរៀនសង្ខេបសំណួរ	129

### សេចក្តីណែនាំសម្រាប់ការមេរៀន

តារាងខាងក្រោមបង្ហាញពីវត្ថុបំណង សកម្មភាពបង្រៀន-រៀន និងរង្វាយតម្លៃតាមបំលែងចែកម៉ោងបង្រៀននីមួយៗ។ គ្រូបង្រៀនរំពឹងថានឹងអនុវត្តតាមសកម្មភាពបង្រៀន និងរៀនដូចមានរៀបរាប់ក្នុងតារាងនេះ និងវាយតម្លៃលទ្ធផលសិក្សារបស់សិស្សតាមលក្ខណៈវិនិច្ឆ័យសមស្រប។ សិស្សនឹងមានឱកាសអនុវត្តសកម្មភាពផ្សេងៗ ដើម្បីសិក្សាល្បាយយល់ពីកត្តានានាដែលនាំឱ្យមានបំលែងរូបធាតុ។

**តារាងទី២ ផែនការបង្រៀន និងវាយតម្លៃ**

ចំនួនម៉ោងសិក្សា	វត្ថុបំណង	សកម្មភាព	លទ្ធផលវាយតម្លៃ
1	<p>-កំណត់បានថាពិសោធន៍ដែលមានបន្ទុះគឺកើតឡើងដោយសារមានបំលែងរូបធាតុ។</p> <p>-បំផុសគំនិតស្តីពីកត្តាទាំងឡាយដែលនាំឱ្យមានបំលែងរូបធាតុ។</p>	<p>សិស្សពិភាក្សាគ្នាដើម្បីឈ្វេងយល់ថាការផ្ទុះគឺបណ្តាលមកពីការកើតមានយ៉ាងឆាប់រហ័សនូវវត្ថុមានខ្ពស់នៃសារធាតុបង្ក រីឯប្រាវ ដោយកត្តាកម្ដៅ ពន្លឺ អគ្គិសនី ល្បាយ ឬប្រតិកម្មគីមី។ល។</p>	<p>សិស្សបញ្ចេញយោបល់របស់គេស្តីពីកត្តាដែលនាំឱ្យមានបំលែងរូបធាតុបានត្រឹមត្រូវ។</p>
3	<p>-ពណ៌នាពីបំលែងរូបធាតុដែលកើតឡើងដោយកត្តាកម្ដៅ។</p> <p>-ពណ៌នាពីបំលែងដោយប្រតិកម្មគីមី។</p>	<p>-សិស្សធ្វើពិសោធន៍ និងពណ៌នាពីបំលែងរូបធាតុដែលកើតមានដោយកម្ដៅ។</p> <p>-សិស្សពិភាក្សា ដើម្បីកំណត់ថាតើវាជាបំលែងភាពរូប ឬជាប្រតិកម្មគីមី?</p>	<p>-សិស្សធ្វើពិសោធន៍ពីបំលែងភាពរូបដោយកម្ដៅ និងពណ៌នាពីបំលែងទាំងនោះបានត្រឹមត្រូវ។</p> <p>-សិស្សធ្វើការបែងចែកបំលែងរូប និងបំលែងគីមីបានត្រឹមត្រូវ។</p>
1	<p>-ពណ៌នាពីបំលែងរូបធាតុដែលកើតឡើងដោយកត្តាពន្លឺ។</p> <p>-ពណ៌នាពីបំលែងរូបធាតុដែលកើតឡើងដោយកត្តាអគ្គិសនី។</p> <p>-ពណ៌នាពីបំលែងរូបធាតុដែលកើតឡើងដោយកត្តាល្បាយ។</p>	<p>សិស្សធ្វើការជាក្រុម ដើម្បី៖</p> <p>-ឈ្វេងយល់អំពីបាតុភូតបំលែងដែលកើតឡើងដោយសារពន្លឺ។</p> <p>-ឈ្វេងយល់អំពីបាតុភូតបំលែងដែលកើតឡើងដោយសារអគ្គិសនី។</p> <p>-ឈ្វេងយល់អំពីបាតុភូតបំលែងដែលកើតឡើងដោយសារល្បាយ។</p>	<p>សិស្សពណ៌នាពីបាតុភូតបំលែងដែលកើតឡើង ដោយកត្តាពន្លឺ អគ្គិសនី និងល្បាយបានត្រឹមត្រូវ។</p>
1	<p>រៀបរាប់ពីប្រតិកម្មគីមីដែលកើតមាននៅក្នុងជីវភាពប្រចាំថ្ងៃ។</p>	<p>សិស្សពិភាក្សាក្រុម ដើម្បីប្រាប់ពីបំលែងគីមីទាំងឡាយដែលកើតមាននៅក្នុងជីវភាពប្រចាំថ្ងៃ និងប្រាប់ពីគុណសម្បត្តិ ឬគុណវិបត្តិនៃប្រតិកម្មគីមីទាំងនោះ។</p>	<p>សិស្សប្រាប់ និងពន្យល់បានពីប្រតិកម្មគីមី និង គុណសម្បត្តិ ឬគុណវិបត្តិរបស់វានៅក្នុងជីវភាពប្រចាំថ្ងៃបានត្រឹមត្រូវ។</p>
1	<p>សង្ខេប និងឆ្លើយសំណួរមេរៀន។</p>	<p>សិស្សសង្ខេបពីអ្វីដែលគេបានរៀន និងឆ្លើយសំណួរនៅក្នុងសៀវភៅសិក្សាគោល ជាក្រុម ឬជាបុគ្គល។</p>	<p>សិស្សសង្ខេប និងឆ្លើយសំណួរនៅក្នុងមេរៀននេះបានត្រឹមត្រូវ។</p>

**ចំណុចសំខាន់ៗនៃការបង្រៀន**

មេរៀននេះមិនត្រឹមតែបកស្រាយអំពីបំលែងរូបធាតុប៉ុណ្ណោះទេ ប៉ុន្តែក៏ពន្យល់លម្អិតផងដែរអំពីប្រភេទ និងកត្តានៃបំលែងនីមួយៗ។ ដូច្នោះ នៅក្នុងមេរៀននេះមានបង្ហាញទាំងបំលែងភាពរូប និងបំលែងគីមី (ប្រតិកម្មគីមី)។ ការពន្យល់ពីភាពខុសគ្នារវាងបំលែងភាពរូប និងប្រតិកម្មគីមី គឺជាចំណុចសំខាន់។ គ្រូបង្រៀនត្រូវធ្វើយ៉ាងណាឱ្យសិស្សយល់ និងញែកបំលែងទាំងពីរនេះឱ្យបានច្បាស់លាស់ តាមរយៈការសង្កេតបាតុភូត (ពិសោធន៍) ជាក់ស្តែង។ កម្ដៅ ពន្លឺ អគ្គិសនី និងល្បាយ សុទ្ធតែមានឥទ្ធិពលទៅលើបំលែងរូបធាតុ ទាំងបំលែងភាពរូប និងប្រតិកម្មគីមី។

**ចំណេះដឹងមូលដ្ឋានសម្រាប់មេរៀននេះ**

នៅចំណុចផ្ដើមក្នុងម៉ោងសិក្សានីមួយៗ គ្រូបង្រៀនត្រូវពិនិត្យមើលចំណេះដឹងមូលដ្ឋាន ឬបទពិសោធន៍ប្រចាំថ្ងៃរបស់សិស្សពាក់ព័ន្ធនឹងខ្លឹមសារមេរៀនថ្មីដែលត្រូវបង្រៀន។ សិស្សត្រូវរំលឹកឡើងវិញនូវមេរៀនទី១ ស្តីពី «បំលែងរូបធាតុ» ដែលបានរៀនរួចមកហើយ។ បញ្ញត្តិពាក់ព័ន្ធនឹងរូបធាតុដូចជា រឹង រាវ ឧស្ម័ន រហូត រលាយ កំណក រំពុះ កំណព្វើស។ល។ គួរត្រូវបានរំលឹកឡើងវិញផងដែរ។

- បំលែងភាពរូប** គឺជាបម្រែបម្រួលទាំងឡាយណាដែលមិនធ្វើឱ្យមានការកើតឡើងនូវសារធាតុថ្មីខុសពីសារធាតុដើមពីមុន។
- ប្រតិកម្មគីមី** គឺជាបម្រែបម្រួលដែលធ្វើឱ្យមានការផ្លាស់ប្តូរសម្ព័ន្ធគីមីបង្កើតបានជាផលិតផលថ្មីខុសពីសារធាតុដើម។

### កត្តានៃបំលែងរូបធាតុ



**វត្ថុបំលែង**កំណត់បានថា ពិសោធន៍ ដែលមានបន្ទុះគឺកើតឡើង ដោយសារមានបំលែងរូបធាតុ។  
-បំផុសគំនិតស្តីពីកត្តាទាំងឡាយដែលនាំឱ្យមានបំលែងរូបធាតុ។

### សកម្មភាពចម្រៀន និងច្រៀន



**សំណួរ:**  
-រូបទី១៖ តើមានអ្វីកើតឡើងចំពោះពិសោធន៍? ហេតុអ្វីបានជាមានបន្ទុះកើតឡើង?  
រូបភាពទី២៖ តើមានបំលែងអ្វីខ្លះកើតឡើង? តើកត្តាអ្វីខ្លះដែលនាំឱ្យមានបំលែងទាំងនេះកើតឡើង?



- គ្រូឱ្យសិស្សពិភាក្សាគ្នាជាក្រុម ដោយសង្កេតទៅលើរូបភាពក្នុងសៀវភៅសិក្សាគោល។  
- គ្រូឱ្យសិស្សតាមក្រុមឡើងធ្វើបទបង្ហាញអំពីគំនិតរបស់ក្រុមគេនីមួយៗ។

មេរៀនទី

## 2

### កត្តានៃបំលែងភាពរូប

#### ចប់មេរៀននេះ សិស្សអាច

- ពណ៌នាបានពីកត្តាដែលនាំឱ្យមានបំលែងភាពរូប
- ពណ៌នាពីបំលែងដោយពន្លឺ
- រៀបរាប់ពីសារប្រយោជន៍នៃប្រតិកម្មគីមី ។

ចំណងជើងមេរៀន ត្រូវប្តូរជា "កត្តានៃបំលែងរូបធាតុ" វិញ

#### 1. សន្តោក

រូបខាងក្រោមនេះ បង្ហាញពីបំលែងដែលអាចកើតមានក្នុងពេលធ្វើពិសោធន៍ ។



បំលែងដែលកើតមានយឺតៗនៅក្នុងជីវភាពប្រចាំថ្ងៃ ។



សក់លូតបានប្រវែង 1.25cm ក្នុងមួយថ្ងៃ

រុក្ខជាតិដុះលូតលាស់ ហើយងាប់ទៅវិញ

ការមេរលាយ

នៅជុំវិញខ្លួនយើង តើមានកត្តាអ្វីខ្លះដែលធ្វើឱ្យមានបំលែងរូបភាពរូប ?

124



#### គ្រូសង្ខេបរួម៖

រូបភាពទី១៖ ពិសោធន៍បង្កឱ្យមានបន្ទុះកើតឡើង។ ការផ្ទុះអាចកើតមានឡើងដោយមូលហេតុមួយចំនួនដូចជា (១) ដុតកម្ដៅលឿនពេក (២) ប្រតិកម្មបង្កើតផលិតផលជាឧស្ម័ន (៣) ប្រតិកម្មបញ្ចេញកម្ដៅខ្លាំង ដែលនាំឱ្យសារធាតុរាវរងនូវរំហូតយ៉ាងឆាប់រហ័ស។ល។



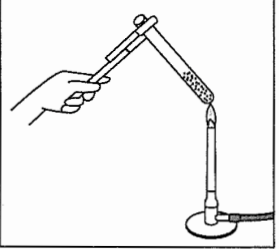

រូបភាពទី២៖ - សក់ដុះឡើង ដោយសារសារធាតុចិញ្ចឹម

- រុក្ខជាតិ (ផ្កា) រីកស្រស់ដោយសារទឹក។ រុក្ខជាតិត្រូវការទឹក ឧស្ម័នកាបូនឌីអុកស៊ីត និងពន្លឺ ដើម្បីធ្វើរស្មីសំយោគ និងដឹកនាំសារធាតុចិញ្ចឹមទៅគ្រប់សរីរាង្គនៃរុក្ខជាតិដើម្បីរីកលូតលាស់(បង្កើតកោសិកាថ្មី)។

- ការមេរលាយ ដោយសារកម្ដៅ

ដូច្នេះ បំលែងរូបធាតុអាចកើតមានឡើងបានដោយសារកត្តាផ្សេងៗដូចជា កម្ដៅ ពន្លឺ អគ្គិសនី។ល។

**២. បំលែងរូបរាងកម្ដៅ**

<p>នៅពេលត្រូវកម្ដៅ វត្ថុរឹងខ្លះក៏រលាយ ហើយក្លាយទៅជាវត្ថុរាវ ។</p> <p><b>ឧទាហរណ៍ :</b> ស្ពាន់ជ័រ ក្រូមួន ដែក ដុំទឹកកក . . . ។</p>  <p>(ក) រៀនរលាយនៅពេលដុត</p>	<p>ពេលអង្គធាតុរាវត្រូវកម្ដៅ វានឹងពុះ ហើយក្លាយទៅជា ចំហាយ ។</p>  <p>(ខ) ទឹកពុះក្លាយជាចំហាយ</p>
<p>មានសារធាតុខ្លះអាចប្លែងពីរឹងទៅជា ឧស្ម័នដោយមិនឆ្លងកាត់ ការរលាយ ។</p> <p><b>ឧទាហរណ៍ :</b> ទឹកកកស្អុត អ៊ីយ៉ូត . . . ។ បំលែងនេះហៅថា រំហើរ ។</p>  <p>(គ) ក្រាមអ៊ីយ៉ូតប្លែងទៅជាចំហាយ ពណ៌ស្វាយនៅពេលដុតកម្ដៅ ។</p>	<p>ជួនកាលសារធាតុមួយអាចបំបែកជាសារធាតុងាយពីរ ឬច្រើន ។ បំលែងបែបនេះហៅថា បំបែក ។</p> <p><b>ឧទាហរណ៍ :</b> ការបំបែកធាតុនៃស្ករ ។</p> $\text{ស្ករ} \xrightarrow{\text{កម្ដៅ}} \text{ផ្សំផ្សេង} + \text{ចំហាយទឹក}$  <p>(ឃ) ស្ករបែកធាតុទៅជាផ្សំផ្សេង និងចំហាយទឹក ។</p>

**វត្ថុបំណង**

- ពណ៌នាពីបំលែងរូបធាតុដែលកើតឡើងដោយកម្ដៅកម្ដៅ។
- ពណ៌នាពីបំលែងដោយប្រតិកម្មគីមី។

**សកម្មភាពបង្រៀន និងរៀន**

**សំណួរ**

តើកម្ដៅធ្វើឱ្យរូបធាតុមានការប្រែប្រួលយ៉ាងដូចម្តេចខ្លះ?

**គ្រូឱ្យសិស្សគិតជាបុគ្គល ឬជាក្រុម** ដើម្បីបង្កើតសម្មតិកម្ម និងពន្យល់ពីគំនិតរបស់ពួកគេ។

- សិស្សធ្វើពិសោធន៍ខាងក្រោមជាក្រុម ដើម្បីធ្វើការបែងចែក និងពន្យល់ពីភាពខុសគ្នារវាងបំលែងភាពរូប និងប្រតិកម្មគីមី។
- សិស្សពន្យល់បកស្រាយអំពីអ្វីដែលពួកគេបានរកឃើញតាមក្រុមដល់ក្រុមដទៃ។

**ពិសោធន៍៖**

(១). **ការសង្កេតចំហេះរៀន**

ពេលត្រូវកម្ដៅ ក្រូមួនរៀនរឹងរលាយ ជាវាវ រួចរំហូតជាចំហាយ។ ចំហាយនេះ បង្កើតជាកម្ដៅ និងពន្លឺ។ បំលែងភាពរូប និងប្រតិកម្មគីមីកើតឡើងជាមួយគ្នា។

(២). រំពុះទឹក៖ ទឹកត្រូវបានរំហូតជាចំហាយ។ វាជាបំលែងភាពរូប។

(៣). រំហើរអ៊ីយ៉ូត៖ ក្រាមអ៊ីយ៉ូតរឹងបានប្លែងជាចំហាយអ៊ីយ៉ូត ដោយមិនឆ្លងកាត់ភាពរូបរាវនេះ។ វាជាបំលែងភាពរូប។

(៤). ការបំបែកធាតុនៃស្ករ៖ ពេលត្រូវកម្ដៅ ក្រាមរឹងនៃស្ករសរលាយជាសារធាតុរាវ (នៅសីតុណ្ហភាព 160°C)។ ចំណុចនេះ ជាបំលែងភាពរូប។ ពេលយើងបន្តដុតកម្ដៅ ស្កររាវប្រែជាពណ៌ក្មេកចាស់ (សីតុណ្ហភាពខ្ពស់ជាង 200°C)។ វាជាប្រតិកម្មគីមី។

**ចំណេះដឹងបន្ថែម**

- **បំលែងរូប** ឬហៅថាការប្រែប្រួលរូប គឺជាលំនាំដែលគ្រាន់តែផ្លាស់ប្តូរភាពរូប ឬទ្រង់ទ្រាយការលាយ ដូចជា ល្បាយ ប៉ុន្តែមិនធ្វើឱ្យមានការផ្លាស់ប្តូរលក្ខណៈគីមីរបស់សារធាតុទេ។
- **ប្រតិកម្មគីមី** គឺជាបម្រែបម្រួលដែលបង្កើតជាសារធាតុថ្មី ខុសពីសារធាតុដើម។ ប្រតិកម្មគីមីមានដូចជា ប្រតិកម្មចំហេះ ប្រតិកម្មបំបែក ប្រតិកម្មសំយោគ និងប្រតិកម្មបណ្តុរ។

សម្គាល់៖ ទឹកកក 11 cm<sup>3</sup> → ទឹករាវ 10 cm<sup>3</sup> → ចំហាយទឹក 17000 cm<sup>3</sup>។ ពេលទឹកក្លាយជាចំហាយ មានរបស់រាវរំហូតដល់ 1700 ដង និងករណីអេតាណុលកើន 490 ដង។ ដូច្នេះ ការដុតកម្ដៅល្បឿនពេកអាចនឹងនាំឱ្យមានគ្រោះថ្នាក់បាន។

(៥) ចំហេះធ្យូង ឬអុសៈ បើធ្យូងនោះសព្វ វាបង្កើតបានជា ឧស្ម័នកាបូនឌីអុកស៊ីត តែមួយមុខគត់ រួមជាមួយកម្ដៅ និងពន្លឺ។ ប្រតិកម្មនេះហៅថាប្រតិកម្មសំយោគ។ ប៉ុន្តែ ករណីអុស ឬក្រដាស នេះសព្វអស់ បង្កើតបានជាឧស្ម័នកាបូនឌីអុកស៊ីត ចំហាយទឹក រួមជាមួយនឹងកម្ដៅ និងពន្លឺ។ (ផេះដែលនៅសល់ពីចំហេះនេះ ជា សំណល់ចំហេះមិនសព្វ ដែលអាចជាផង ធ្យូង)ឬជាអុកស៊ីតផ្សេងៗ។ប្រតិកម្មនេះជា ប្រតិកម្មបំបែក។


(៦). ការរីកមាឌរបស់ទឹក៖ ទឹករីកមាឌ ពេលត្រូវកម្ដៅ (ដូចក្នុងរូប)។ លំនាំនេះជា បំលែងភាពរូប។

(៧). ម្សៅដែកនេះជាមួយស្ពាន់ធ័រ៖ លាយ ម្សៅដែក 7.0g ជាមួយម្សៅស្ពាន់ធ័រ 2.0g ឱ្យសព្វល្អ រួចចែកជាពីរផ្នែកស្មើគ្នា។ ផ្នែកទី ១ចូលក្នុងបំពង់សាក រួចដុតកម្ដៅដោយ ចង្រ្កានឧស្ម័ន (ចង្រ្កានហ្គោស)។ នៅពេល ប្រតិកម្មគីមីចាប់ផ្ដើម កម្ដៅ និងពន្លឺត្រូវបាន បញ្ចេញយ៉ាងខ្លាំង បើទោះបីជាយើងឈប់ ដុតកម្ដៅវាក៏ដោយ។ លទ្ធផលទទួលបានគឺ ជាដែកស៊ុលផួ ដែលមានលក្ខណៈខុសពី ដែក និងស្ពាន់ធ័រ។ ដែកស៊ុលផួ មិនឆក់ ដោយមេដែកទេ ដូចជាម្សៅដែកទេ។

សារធាតុខ្លះពេលដុតជាមួយអុកស៊ីសែន ក្នុងខ្យល់បង្កើតបានជា សារធាតុថ្មី ។ បំលែងបែប នេះឱ្យឈ្មោះថា ចំហេះ ។

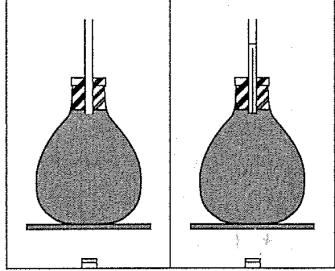
ក្នុងចំលែងនេះមានភាយថាមពលកម្ដៅ និងថាមពលពន្លឺ ។

កាបូន + អុកស៊ីសែន  $\xrightarrow{\text{កម្ដៅ}}$  កាបូនឌីអុកស៊ីត



ធ្យូងនេះក្នុងអុកស៊ីសែនបង្កើតបានជាឧស្ម័ន កាបូន ឌីអុកស៊ីត ឬឧស្ម័នកាបូនិច

កាលណាសារធាតុមួយត្រូវដុតកម្ដៅ សារ ធាតុនោះអាច រីកមាឌនិងផ្ទុយមកវិញបើសារធាតុ នោះត្រូវធ្វើឱ្យត្រជាក់ មាននិងរួមមកវិញ ។




ការរីកមាឌទឹក

សារធាតុពីរអាចផ្សំចូលគ្នាក្រោមអំពើនៃកម្ដៅ ។ បំលែងនេះឈ្មោះថា បន្សំ ។


**ឧទាហរណ៍ :** បន្សំរវាងដែកនិងស្ពាន់ធ័របង្កើតបានជាដែកស៊ុលផួ ។

ដែក + ស្ពាន់ធ័រ  $\xrightarrow{\text{កម្ដៅ}}$  ដែកស៊ុលផួ





ដែក

+



ស្ពាន់ធ័រ





ដែកស៊ុលផួ

បន្សំរវាងដែក និងស្ពាន់ធ័រ

	មុនប្រតិកម្ម	ក្រោយប្រតិកម្ម
ពណ៌ នៃល្បាយ	លឿង និងប្រផេះ	ខ្មៅស្នើសាច់
ការឆក់ដោយមេដែក នៃល្បាយ	ឆក់	មិនឆក់





**ចំណេះដឹងបន្ថែម**

ជាទូទៅ កម្ដៅអាចធ្វើឱ្យសារធាតុឧស្ម័ន សារធាតុរឹង និងសារធាតុរាវ រីកមាឌបាន។ ទោះជាយ៉ាងណាក៏ដោយ ទឹក មានលក្ខណៈពិសេសជាងគេ ដោយមានរបស់វាត្រូវរួមតូចជាងមុននៅចន្លោះសីតុណ្ហភាពពី 0°C – 4°C និងរីកធំវិញ នៅសីតុណ្ហភាពលើសពី 4°C។

3. បំរែបំរួលដោយពន្លឺ

ថាមពលនៃពន្លឺក៏អាចបណ្តាលឱ្យមានបំរែបំរួលរូបធាតុដែរ ។

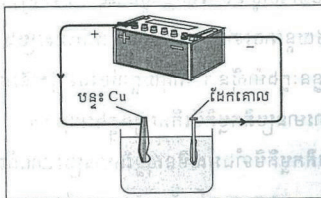
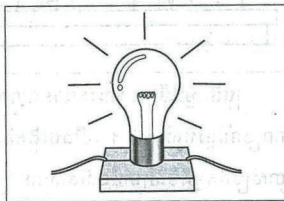
<p><b>រស្មីសំយោគ</b></p> <p>ថាមពលពន្លឺត្រូវបានស្រូបដោយរុក្ខជាតិ បែកក្នុងក្រុងការបង្កើតចំណីអាហារ(គ្លុយកូស) ។</p>  <p>(ក)</p>	<p><b>ការថតរូប</b></p> <p>ពន្លឺមានអំពើទៅលើភីលថតរូបដើម្បីបំរែបំរួលរូបធាតុក្នុងភីល ។</p>  <p>(ខ)</p>
--	---

4. បំរែបំរួលដោយអគ្គិសនី

តើមានអ្វីកើតឡើងពេលមានចរន្តឆ្លងកាត់ប្រឆេះអំពូលអគ្គិសនី ? និងនៅពេលគ្មានចរន្តឆ្លងកាត់ ?

ចរន្តអគ្គិសនីអាចបណ្តាលឱ្យមានបំរែបំរួលក្នុងរូបធាតុ ។ បំរែបំរួលនេះមិនចិតថេរទេ ។

បើគេឱ្យចរន្តអគ្គិសនីឆ្លងកាត់សូលុយស្យុងទងដែងស៊ុលផាត ដែលមានអេឡិចត្រូតម្លាងធ្វើពីដែកគោល ហើយម្ខាងទៀតធ្វើពីបន្ទុះទងដែង យើងឃើញមានកំណាងដែងនៅលើដែកគោល ។ ក្នុងករណីនេះមានសារធាតុថ្មីកើតឡើង ។



5. បំរែបំរួលដោយស្បូន

បំរែបំរួលរូបធាតុអាចកើតឡើងនៅពេលដែលគេដាក់សារធាតុទាំងឡាយលាយជាមួយគ្នា ។ ឧទាហរណ៍ : ពេលយើងចាក់ទឹកខ្មៅលើដុំថ្មកំបោរ ឬសំបកខ្យងយើងឃើញមានពពុះលេចឡើង ។ ពពុះតូចៗនេះគឺជា ឧស្ម័នកាបូនឌីអុកស៊ីត ។



127



វត្ថុបំណង

-ពណ៌នាពីបំរែបំរួលរូបធាតុដែលកើតឡើងដោយកត្តាពន្លឺ អគ្គិសនី ឬល្បាយ។

សកម្មភាពបង្រៀន និងរៀន



សំណួរ

តើពន្លឺ អគ្គិសនី ឬល្បាយធ្វើឱ្យរូបធាតុមានការប្រែប្រួល យ៉ាងដូចម្តេចខ្លះ?



- គ្រូឱ្យសិស្សពិភាក្សាជាក្រុម ដោយប្រើប្រាស់រូបភាព និងខ្លឹមសារក្នុងសៀវភៅគោល ឬឯកសារផ្សេងទៀត ដើម្បីឆ្លើយសំណួរខាងលើ។

- ក្រុមសិស្សនីមួយៗបង្ហាញចម្លើយរបស់ខ្លួន ក្រោមការសម្របសម្រួលពីគ្រូ។
- គ្រូអាចធ្វើពិសោធន៍បង្ហាញដល់សិស្ស។

ចំណេះដឹងបន្ថែម

**១. រស្មីសំយោគ:** គឺជាបំរែបំរួលគីមីដែលផ្ទុកពណ៌បៃតងនៃស្លឹករុក្ខជាតិ(គ្លុយកូស) សំយោគសារធាតុសរីរាង្គ(ស្ករ)ដោយស្រូបយកឧស្ម័នកាបូនឌីអុកស៊ីត និងទឹក ក្រោមវត្តមានពន្លឺព្រះអាទិត្យ។

**ពិសោធន៍:** ផ្តំឱ្យលំពូលក្នុងទឹក រួចចាក់ទឹកនោះចូលក្នុងស៊ីរ៉ាំងជំរំចំណុះ 50mL



ដែលមានឆ្នុកបិទជិតចំនួនពីរផ្សេងគ្នា ដោយមានដាក់ស្លឹកឈើ និងធ្វើយ៉ាងណាកុំឱ្យមានខ្យល់នៅក្នុងនោះ។ ដាក់ស៊ីរ៉ាំងមួយហាលថ្ងៃ មួយទៀតដាក់ក្នុងម្លប់។ ប្រហែល ១០ នាទីក្រោយ យកស៊ីរ៉ាំងទាំងពីរមកទាញពីស្តុង (បន្ទុះសម្ពាធ) និងសង្កេតមើលស្លឹកឈើនៅក្នុងនោះ។ **ពពុះឧស្ម័នអុកស៊ីសែននឹងបង្ហាញនៅលើស្លឹកឈើដែលដាក់ហាលថ្ងៃ ច្រើនជាងស្លឹកឈើដែលដាក់ក្នុងម្លប់។**

- ២. ការថតរូបដោយប្រើហ្វឺល:** ហ្វឺលថតរូបត្រូវបានគេផលិតដោយមានវត្តមានអំបិលប្រាក់ (ពណ៌ខ្មៅ) នៅក្នុងនោះ។ នៅពេលថតរូបថាមពលពន្លឺធ្វើឱ្យអំបិលប្រាក់រងនូវការបំបែក និងបំប្លែងជាអាតូមប្រាក់ ដោយបង្កើតបានជារូបភាពនៅលើបន្ទះហ្វឺល។
- ៣. ថ្មពិល:** នៅលើអេឡិចត្រូតអវិជ្ជមាននៃលោហៈរងនូវអុកស៊ីតកម្ម ដោយបោះបង់អេឡិចត្រុងតាមរយៈខ្សែចម្លងឱ្យទៅអេឡិចត្រូតវិជ្ជមាន។ ការផ្លាស់ប្តូរអេឡិចត្រុងបង្កើតឱ្យមានចរន្តអគ្គិសនីកើតមាននៅលើខ្សែចម្លង។
- ៤. អគ្គិសនីវិភាគទឹក:** ម៉ូលេគុលទឹកត្រូវបានបំបែកដោយចរន្តអគ្គិសនីទៅជាម៉ូលេគុលអ៊ីដ្រូសែន និងអុកស៊ីសែន។
- ៥. សមាសធាតុកាបូណាតមាននៅក្នុងសំបកស៊ីត សំបកលៀស ថ្មកំបោរ ម្សៅសូដា។** វាមានប្រតិកម្មជាមួយទឹកខ្មៅ (អាស៊ីត) បង្កើតបានជាពពុះឧស្ម័នកាបូនឌីអុកស៊ីតភាយឡើង។



**វត្តមាន**

រៀបរាប់ពីប្រតិកម្មគីមីដែលកើតមាននៅក្នុងជីវភាពប្រចាំថ្ងៃ។

**សកម្មភាពចម្រៀន និងច្រៀន**



**សំណួរ**


តើមានប្រតិកម្មគីមីអ្វីខ្លះកើតមាននៅក្នុងជីវភាពប្រចាំថ្ងៃយើង? វាមានសារប្រយោជន៍អ្វីខ្លះ? និងមានបង្កបញ្ហាអ្វីខ្លះ? ចូរព្រាប់ពីអង្គធាតុប្រតិករ និងអង្គធាតុកកើត (ផលិតផល) របស់ប្រតិកម្មទាំងនោះផង។



- គ្រូឱ្យសិស្សពិភាក្សាជាក្រុម ដោយប្រើខ្លឹមសារក្នុងសៀវភៅសិក្សាគោល រួមជាមួយបទពិសោធន៍ដែលពួកគេបានជួបប្រទះប្រចាំថ្ងៃ ដើម្បីឆ្លើយសំណួរខាងលើ។  
- ក្រុមសិស្សនីមួយៗបង្ហាញចម្លើយរបស់ខ្លួន ក្រោមការសម្របសម្រួលពីគ្រូ។  
- គ្រូធ្វើការបូកសរុបខ្លឹមសារ។

**6. ប្រតិកម្មគីមី**

យើងបានសិក្សាចូលហើយពីបំបែកដែលបណ្តាលមកពីកម្ដៅ ពន្លឺ ចរន្តអគ្គិសនី និងបំបែកដោយល្បាយ។ ក្នុងបណ្តាបំបែកខាងលើនេះ មើលអង្គធាតុថ្មីមួយ ឬច្រើនកកើតហៅថា ប្រតិកម្មគីមី។ អង្គធាតុថ្មីដែលកកើតក្រោយប្រតិកម្មនេះហៅថា អង្គធាតុកកើត ឬផលិតផល នៃប្រតិកម្ម។ ក្នុងពេលប្រតិកម្មគីមីថាមពល (កម្ដៅ ឬពន្លឺ) ត្រូវបានបញ្ចេញ ឬស្រូបចូល។



ប្រតិកម្មគីមីមានសារៈសំខាន់ណាស់ក្នុងជីវភាពប្រចាំថ្ងៃរបស់យើង។ យើងបង្កើតនិងប្រើប្រាស់ប្រតិកម្មគីមីសម្រាប់ផលិតសម្ភារៈប្រើប្រាស់ដូចជា សាប៊ូ ឧបករណ៍ប្រតិបត្តិការ ធុំ ធុំ ធុំ ពេទ្យ...។ រថយន្តអាចទៅមុខបានដោយសារចំហេះប្រេងឥន្ធនៈក្នុងម៉ាស៊ីន។ អាកុយផ្តល់ចរន្តអគ្គិសនីដោយសារមានប្រតិកម្មគីមីកើតឡើងក្នុងអាកុយ។ ប្រតិកម្មគីមីទាំងអស់មិនសុទ្ធតែមានប្រយោជន៍នោះទេ។ **ឧទាហរណ៍**៖ ព្រះដែក។ ដែកចូលរួមប្រតិកម្មជាមួយអុកស៊ីសែននិងទឹកបង្កើតជា ព្រះដែក ដែលអាចធ្វើឱ្យដែកពុកខូចច្រើនលែងបាន។



**ចំណេះដឹងបន្ថែម**

**ផលិតផល និងប្រតិកម្មគីមីដែលយើងជួបប្រទះប្រចាំថ្ងៃ**

- ប្លាស្ទិច (ចង សំបកដប បំពង់ជ័រ ទុយោទឹក...) ផលិតចេញពីសារធាតុសរីរាង្គពីប្រេងឆៅ
- សាប៊ូ ផលិតចេញពីសារធាតុសរីរាង្គពីប្រេង និងខ្លាញ់
- អាមីដុង ផលិតដោយរុក្ខជាតិតាមរស្មីសំយោគ ពីឧស្ម័នកាបូនឌីអុកស៊ីត និងទឹក ក្រោមវត្តមាននៃពន្លឺព្រះអាទិត្យ
- ប្រតិកម្មបំបែក (ចំហេះ) អាហារក្នុងរាងកាយមនុស្ស សត្វ ដោយប្រើប្រាស់អុកស៊ីសែនពីដំណកដង្ហើម
- ប្រតិកម្មចំហេះសព្វឥន្ធនៈផ្សេងៗ ដូចជាការដុតអុស ផ្សង ប្រេង បង្កើតបានជាឧស្ម័នកាបូនឌីអុកស៊ីត និងចំហាយទឹក
- សំណឹកថ្នាំ ឬអាគារដោយសារភ្លៀងអាស៊ីត
- ការឡើងព្រះដែក បង្កើតបានជាដែក(III)អ៊ីដ្រុកស៊ីត

☞ ប្រតិកម្មគីមីខ្លះផ្តល់គុណវិបត្តិដូចជា បង្កឱ្យមានកង្វះបរិស្ថាន ភ្លៀងអាស៊ីត ដែកព្រះ ខាតបង់ធនធានធម្មជាតិផ្សេងៗ។

ជំពូកទី២ មេរៀនទី២

**មេរៀនសង្ខេប**

- បំលែងរូបធាតុអាចកើតមានគ្រប់ពេលវេលា ។
- បំលែងរូបធាតុអាចកើតមានក្រោមអំពើ : កម្ដៅ ពន្លឺ ចរន្តអគ្គិសនី និងល្បាយ ។
- កម្ដៅអាចបង្កើតឱ្យមានបំលែងរូបធាតុដូចខាងក្រោម : បំលែងភាពរូប រលាយ រំពុះ ចំបែក ចំហេះ រីកមាឌ រួមមាឌ បន្សុំ ។
- បំលែងសំខាន់ៗក្រោមអំពើនៃពន្លឺ
  - អំពើនៃពន្លឺទៅលើស្លឹករុក្ខជាតិបៃតង (រស្មីសំយោគ)
  - អំពើនៃពន្លឺទៅលើភីលថត ។
- ប្រតិកម្មគីមី គឺជាលំនាំដែលអង្គធាតុមួយឬច្រើនបានកើត ។ ក្នុងពេលនោះថាមពល (កម្ដៅ ឬពន្លឺ) ត្រូវបានបញ្ចេញ ឬស្រូប ។ អង្គធាតុដែលកើតឡើងនោះហៅថា អង្គធាតុកើតឬផលិតផល ។

**សំណួរ**

1. តើបំលែងរូបធាតុកើតមាននៅពេលណា ?
2. តើបំលែងរូបធាតុកើតមានឡើងដោយកត្តាអ្វីខ្លះ ?
3. តើរស្មីសំយោគកើតឡើងដោយសារអ្វី ?
4. តើបំលែងដែលមានអង្គធាតុមួយ ឬច្រើនកើតហៅថាបំលែងអ្វី ?
5. តើអង្គធាតុដែលកើតក្រោយប្រតិកម្មគេឱ្យឈ្មោះអ្វី ?
6. តើប្រតិកម្មគីមីមានសារៈសំខាន់ដូចម្តេចខ្លះក្នុងជីវភាពប្រចាំថ្ងៃ ?



**វត្ថុចំណង**

ពង្រឹងចំណេះដឹងសិស្សលើខ្លឹមសារដែលសិស្សបានរៀន តាមរយៈការសង្ខេប មេរៀន និងឆ្លើយសំណួរនៅក្នុងសៀវភៅសិក្សាគោល។



គ្រូឱ្យសិស្សរំលឹកឡើងវិញនូវអ្វីដែលពួកគេបានរៀន និងឱ្យសិស្សឆ្លើយសំណួរមេរៀន។



**ចម្លើយសំណួរមេរៀន**

1. បំលែងភាពរូបកើតមាននៅគ្រប់ពេលវេលា ដែលមានលក្ខណៈសមស្រប។
2. បំលែងភាពរូបកើតឡើងដោយកត្តាជាច្រើនដូចជា កម្ដៅ ពន្លឺ ចរន្តអគ្គិសនី។ល។
3. រស្មីសំយោគកើតឡើងដោយសារអំពើនៃពន្លឺទៅលើផ្នែកបៃតងនៃស្លឹករុក្ខជាតិ។
4. បំលែងដែលមានអង្គធាតុមួយ ឬច្រើនកើតឡើងហៅថាប្រតិកម្មគីមី។
5. អង្គធាតុដែលកើតក្រោយប្រតិកម្មគេឱ្យឈ្មោះថាផលិតផល។
6. ប្រតិកម្មគីមីមានសារៈសំខាន់ជាច្រើនសម្រាប់ជីវភាពប្រចាំថ្ងៃដូចជា ផលិតសម្ភារប្រើប្រាស់គ្រប់ប្រភេទ ដំណើរការអគ្គិសនី ដំណើរការគ្រឿងយន្ត។ល។



**ចម្លើយ**

**សំណួរ និងលំហាត់ជំពូក២៖**

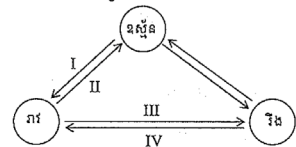
**I. ចម្លើយសំណួរជ្រើសរើស៖**

- 1. ឃ. កំណក
- 2. គ. ដាំអង្កាធាតុរាវឱ្យពុះ
- 3. គ. វាមានចន្លោះទំនេរតូចរវាងភាគល្អិតនីមួយៗ
- 4. ក. ទឹកប្តូរទៅជាចំហាយ
- 5. ក. ព្រួញទី I
- 6. គ. អ៊ីយ៉ូត
- 7. ខ. ការរលាយទឹកកក

**? សំណួរនិងលំហាត់ជំពូក 2**

I. ចូរគូសសញ្ញា (✓) ក្នុងប្រអប់នៅខាងមុខចម្លើយដែលត្រឹមត្រូវ

- 1. ថាមពលកម្ដៅត្រូវបានបញ្ចេញទៅឱ្យមជ្ឈដ្ឋានខាងក្រៅនៅពេល
  - ក. រំពុះ       ខ. រំហួត       គ. រលាយ       ឃ. កំណក ។
- 2. ថាមពលកម្ដៅត្រូវបានស្រូបចូលនៅ
  - ក. កំណកអង្កាធាតុ       ខ. កំណជាញើស
  - គ. ដាំអង្កាធាតុរាវឱ្យពុះ       ឃ. ធ្វើអង្កាធាតុរាវឱ្យត្រជាក់ ។
- 3. អង្កាធាតុរឹងមិនអាចបណ្តែនបានព្រោះ
  - ក. ភាគល្អិតបង្ករបស់វាធំ       ខ. វាមានចន្លោះទំនេរតូចរវាងភាគល្អិតនីមួយៗ
  - គ. ភាគល្អិតរបស់វាមានទីតាំងកំណត់       ឃ. ភាគល្អិតរបស់វាញើរ និងវិលជុំវិញ ។
- 4. តើណាមួយដែលបង្ហាញពីបំលាស់ប្តូរភាពរូប ?
  - ក. ទឹកប្តូរទៅជាចំហាយ       ខ. ល្បាយទឹកខ្លះ និងទឹក
  - គ. ការប្រោះខ្សាច់ចេញពីទឹក និងខ្សាច់       ឃ. ការបំបែកដុំថ្មកំបោរទៅជាកំទេចតូចៗ ។
- 5. ដ្យាក្រាមខាងក្រោមនេះបង្ហាញពីបំលាស់ប្តូរភាពរូបទាំងបីនៃរូបធាតុ



- តើបំលាស់ប្តូរណាមួយដែលបង្ហាញពីកំណជាញើស ?
- ក. ព្រួញទី I       ខ. ព្រួញទី II       គ. ព្រួញទី III       ឃ. ព្រួញទី IV ។
- 6. តើអង្កាធាតុណាមួយដែលរងធាតុភូតរំហើរ កាលណាវាត្រូវកម្ដៅ
    - ក. ស្ពាន់ធ័រ       ខ. ស្ករ       គ. អ៊ីយ៉ូត       ឃ. ក្រមួន ។
  - 7. ក្នុងចំណោមធាតុភូតខាងក្រោមនេះ តើណាមួយមិនមែនជាប្រតិកម្មគីមី ?
    - ក. ចំហេះឈើ       ខ. ការរលាយទឹកកក
    - គ. ការរលាយនៃផ្លែខ្នុរ       ឃ. ការផ្ទុះនៃកាំជ្រួច ។

ជំពូកទី២ មេរៀនទី២

II. ចូរចំពេញល្អិតៗខាងក្រោមឱ្យមានន័យត្រឹមត្រូវ

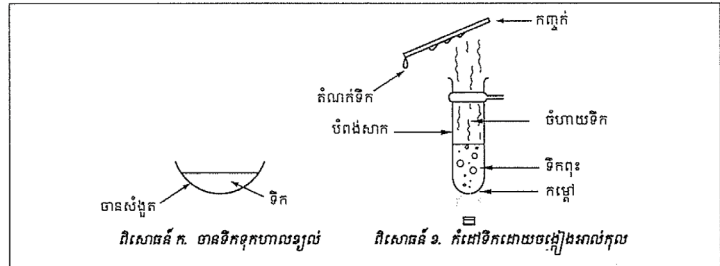
1. នៅពេលកំណក . . . . . នៅថេរព្រោះ . . . . . កម្ដៅត្រូវបានរំដោះចេញទៅឱ្យមជ្ឈដ្ឋានដែលនៅជុំវិញ ។
2. លំនាំដែលភាពរឹងប្លែងដោយផ្ទាល់ ទៅជា . . . ដោយមិនឆ្លងកាត់ភាពរាវហៅថា . . . ។
3. បំលែងទាំងឡាយដែលមាន . . . . . មួយ ឬច្រើនកកើតហៅថា . . . . . ។
4. ដេកចូលរូបប្រតិកម្មជាមួយ . . . . . និងទឹកបង្កើតបានជា . . . . . ។

III. សំណួរត្រិះរិះ

1. តារាងខាងក្រោមនេះបង្ហាញពីចំណុចរលាយ និងចំណុចរំពុះរបស់សារធាតុមួយចំនួន :

សារធាតុ	ចំណុចរលាយ (°C)	ចំណុចរំពុះ (°C)
A	-219	-183
B	0	100
C	1.535	2890
D	-117	78

- ក. តើសារធាតុណាជាទឹក ?
  - ខ. តើសារធាតុណាជាឧស្ម័ននៅសីតុណ្ហភាពបន្ទប់ ?
  - គ. តើសារធាតុណាជាអង្គធាតុរឹងនៅសីតុណ្ហភាពបន្ទប់ ?
2. ចូរពន្យល់ពីភាពខុសគ្នានៃលំនាំរំពុះ និងលំនាំរំហួត ។
- ក. ចូរពណ៌នាបង្ហាញពីលំនាំដែលទឹកកកបំលែងទៅជាទឹក ហើយទឹកបំលែងទៅជាចំហាយ ។
  - ខ. ចូរបង្ហាញពីភាពរូបរបស់លំនាំខាងលើនេះ ។
3. ចូរឱ្យឈ្មោះលំនាំបំលែងរូបបីយ៉ាងដែលចាំបាច់ត្រូវស្រូបកម្ដៅ ។



II. បំពេញល្អិតៗ

1. សីតុណ្ហភាព, ចំហាយ, រំហើរ
2. ផលិតផលថ្មី, ប្រតិកម្មគីមី
3. ឧស្ម័នអុកស៊ីសែន, ដែកច្រេះ

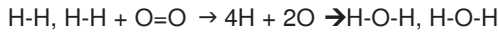
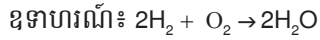
II. សំណួរត្រិះរិះ

- ក. ទឹកជាសារធាតុ B
  - ខ. សារធាតុជាឧស្ម័នគឺ A
  - គ. សារធាតុជាអង្គធាតុរឹងគឺ C
2. រំពុះកើតឡើងនៅសីតុណ្ហភាពកំណត់ជាក់លាក់មួយ ដែលធ្វើឱ្យម៉ូលេគុល ឬភាគល្អិតផ្តាច់ចេញពីគ្នាដោយបំប្លែងពីភាពរូបរាវទៅជាភាពរូបឧស្ម័ននៅពេលពេញផ្ទៃនៃអង្គធាតុរាវនោះ។ ចំណែករំហួតវិញ ម៉ូលេគុលឬភាគល្អិតបានផ្តាច់ខ្លួនពីភាពរូបរាវទៅជាឧស្ម័នតែផ្ទៃខាងលើនៃអង្គធាតុរាវប៉ុណ្ណោះហើយដែលលំនាំនេះអាចកើតមានជាបន្តបន្ទាប់ បើទោះជានៅសីតុណ្ហភាពក្រោមរំពុះក៏ដោយ។
- ក. ពេលទឹកកករលាយ វាបំលែងពីភាពរូបរឹងទៅរាវ ហើយពេលសីតុណ្ហភាពកើនឡើងគ្រប់គ្រាន់វានឹងរុះ ដោយបំលែងពីទឹករាវទៅជាចំហាយទឹក។
  - ខ. ការបំលែងពីទឹកកកទៅទឹករាវជាលំនាំរលាយ។ ការបំលែងពីទឹករាវទៅចំហាយទឹក ជាលំនាំរំពុះ។

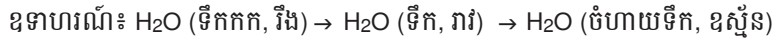
3. ពិសោធន៍ ក៖ ជាលំនាំរំហួត  
ពិសោធន៍ ខ៖ ជាលំនាំរំពុះ និងលំនាំកំណញើស

## ចំណេះដឹង និងសកម្មភាពបន្ថែម

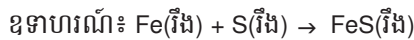
**ប្រតិកម្មធាតុ** គឺកើតឡើងដោយផ្តាច់សម្ព័ន្ធគីមីចាស់ បង្កើតជាសម្ព័ន្ធគីមីថ្មី ធ្វើឱ្យមានផលិតផលថ្មីកើតឡើង។



ចំណែកឯបំបែកភាពរូបមិនបានធ្វើឱ្យសម្ព័ន្ធគីមីផ្លាស់ប្តូរទេ វាគ្រាន់តែធ្វើឱ្យមានការប្រែប្រួលអន្តរកម្មរវាងម៉ូលេគុល និងម៉ូលេគុលតែប៉ុណ្ណោះ ដូច្នេះវានៅរក្សាលក្ខណៈគីមីដូចដើម។



ប្រតិកម្មធាតុមានន័យថាអង្គធាតុប្រតិករ និងផលិតផលមានលក្ខណៈគីមីខុសគ្នា។



ដែក (Fe) ជាលោហៈពណ៌ប្រផេះ និងឆក់ដោយមេដែក និងស្ពាន់ផ័រ (S) ជាមេតាលូអ៊ីត ចំណែកឯដែកស៊ុលផួ (FeS) ដែលជាផលិតផលនៃប្រតិកម្មវិញមានពណ៌ខ្មៅ និងមិនឆក់ដោយមេដែកទេ។ ដែកអាចចម្លងចរន្តអគ្គិសនី បន្ត ដែកស៊ុលផួមិនចម្លងចរន្តអគ្គិសនីទេ។

ការដុតកម្ដៅស្ករជាលំនាំសំបុក។ បើយើងដុតកម្ដៅតិចៗត្រឹមសីតុណ្ហភាព 160 °C ស្កររឹងនឹងរលាយជារាវ តែបើយើងបន្តដុតកម្ដៅដល់ 200 °C ស្កររាវនឹងប្រែជាពណ៌ត្នោតចាស់ ជាស្ករតាំងម៉ែ។ នៅចំណុចនេះ វាស្ថិតនៅជាល្បាយរវាងម៉ូលេគុលស្ករ និងសមាសធាតុដែលបំបែកបាន។ នៅសីតុណ្ហភាពលើសពី 200 °C វានឹងបំបែកទៅជាពណ៌ខ្មៅរហូតក្លាយជាផេះ (ភាគច្រើនជាកាបូន) និងចំហាយ (ភាគច្រើនជាចំហាយទឹក)។ នៅសីតុណ្ហភាពក្រោម 160 °C ជាបំបែកភាពរូប ខណៈដែលនៅសីតុណ្ហភាពចាប់ពី 200 °C ឡើងទៅជាប្រតិកម្មធាតុ។

# សំណួរខ្លឹមសម្រាប់មេរៀន កត្តានៃបំលែងរូបធាតុ

គ្រូអាចប្រើប្រាស់សំណួរនិងលំហាត់ខាងក្រោមនេះទាំងអស់ ឬមួយចំនួន នៅក្នុងវិញ្ញាសាប្រឡងប្រចាំខែ ឬប្រឡងឆមាស ដើម្បីធ្វើការវាយតម្លៃការយល់ដឹងរបស់សិស្សលើមេរៀន កត្តានៃបំលែងរូបធាតុ។

រយៈពេល៖ ១ម៉ោង **ពិន្ទុសរុប៖ 50 ពិន្ទុ**

១. ចូរបែងចែកបំលែងខាងក្រោមជាបំលែងភាពរូប និងប្រតិកម្មគីមី (10 ពិន្ទុ)
  - ក. កែវទឹកត្រជាក់ដែលយកចេញពីទូរទឹកកក ធ្វើឱ្យកើតមាននូវកំណញើសនៅលើផ្ទៃខាងក្រៅនៃកែវ
  - ខ. សម្លៀកបំពាក់សើម ត្រូវបានគេសម្ងាត់ដោយកម្ដៅព្រះអាទិត្យ
  - គ. អុសឆេះក្លាយជាធូលី
  - ឃ. ទឹកសមុទ្ររងរំហូតបានជាអំបិល
  - ង. គេអាចបំណិតអាល់កុលចេញពីស្រា
  - ច. ទឹកខ្លះអាចរំលាយសំបកស៊ីតបាន
  - ឆ. ការដុតកម្ដៅម្សៅស្នូដា បំភាយជាឧស្ម័នកាបូនឌីអុកស៊ីត និងទឹក
  - ជ. នៅពេលគេគ្រលុកទឹកក្រូចកូកាកូឡាពពុះឧស្ម័នកាបូនឌីអុកស៊ីតកើតឡើង
  - ឈ. ស្កររលាយក្នុងទឹកក្ដៅ
  - ញ. ទៀនឆេះបង្កើតជាកម្ដៅ និងពន្លឺ
  
២. នៅពេលគេដុតកម្ដៅកែវបេរីសដែលមានផ្ទុកក្រាមអ៊ីយ៉ូដ (រឹង) ដោយចង្អៀងអាល់កុល គេសង្កេតឃើញចំហាយពណ៌ស្វាយ កើតឡើង។ បន្ទាប់មក គេដាក់កែវបេរីសនោះ គេសង្កេតឃើញក្រាមអ៊ីយ៉ូដ តោងជាប់នៅលើផ្ទៃខាងក្រោមនៃកែវបេរីសនោះ។ ចូរគូររូបបង្ហាញពីពិសោធន៍នេះ ដោយបង្ហាញពីគំរូភាគល្អិត ក្នុងបំលែងភាពរូបនេះផង។ (15 ពិន្ទុ)
  
៣. ខាងក្រោមគឺជាមាឌរបស់ទឹក 10g សម្រាប់ទាំងបីភាពរូប។ តើមាឌនីមួយៗត្រូវនឹងភាពរូបណា រវាងភាពរូបរឹង រាវនិងឧស្ម័ន?
 

ក. 10 mL	ខ. 170000 mL	គ. 11 mL	(10 ពិន្ទុ)
----------	--------------	----------	-------------
  
៤. ចូរប្រាប់ប្រភពថាមពលសម្រាប់បំលែងដោយ កម្ដៅ ពន្លឺ និងអគ្គិសនី៖ (15 ពិន្ទុ)
 

ក. រស្មីសំយោគរបស់រុក្ខជាតិ	ខ. រំហូតទឹក	គ. អគ្គិសនីវិភាគទឹក
ឃ. អាគុយប្រើពន្លឺព្រះអាទិត្យ	ង. ការរលាយរបស់ទឹកកក	

**ចម្លើយ ការដាក់ពិន្ទុ និងលក្ខណៈវិនិច្ឆ័យការសម្រេចបានរបស់សិស្ស**

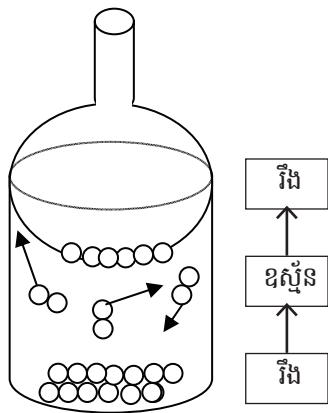
១. បែងចែកបំលែងខាងក្រោមជាបំលែងភាពរូប និងប្រតិកម្មគីមី (1 ពិន្ទុ x 10=10 ពិន្ទុ)

**បំលែងភាពរូប** **ប្រតិកម្មគីមី**

ក, ខ, ឃ, ង, ជ, ឈ គ, ថ, ឆ, ញ

**ការដាក់ពិន្ទុ:** 1 ពិន្ទុ = សិស្សឆ្លើយបានត្រឹមត្រូវមួយ  
10 ពិន្ទុ = សិស្សឆ្លើយបានត្រឹមត្រូវទាំង១០  
0 ពិន្ទុ = សិស្សឆ្លើយមិនបានត្រឹមត្រូវ

២. ដ្យាក្រាមបង្ហាញពីបាតុភូតរំហើរ និងកំណែប្រែអ៊ីយ៉ូដ។ ( 5 ពិន្ទុ x 3 =15 ពិន្ទុ)



**ការដាក់ពិន្ទុ:** 5 ពិន្ទុ = សិស្សគូរគំរូភាគល្អិតរឹងអ៊ីយ៉ូដបានត្រឹមត្រូវ  
5 ពិន្ទុ = សិស្សគូរគំរូភាគល្អិតឧស្ម័នអ៊ីយ៉ូដបានត្រឹមត្រូវ  
5 ពិន្ទុ = សិស្សគូរដ្យាក្រាមពិសោធន៍បានត្រឹមត្រូវ  
0 ពិន្ទុ = សិស្សគូរមិនបានត្រឹមត្រូវ

៣. មាឌរបស់ទឹក 10g សម្រាប់ទាំងបីភាពរូបគឺ៖ (10 ពិន្ទុ)

- ក. 10 mL សម្រាប់ភាពរូបរាវ
- ខ. 170000 mL សម្រាប់ភាពរូបឧស្ម័ន
- គ. 11 mL សម្រាប់ភាពរូបរាវ

**ការដាក់ពិន្ទុ:** 3 ពិន្ទុ = សិស្សឆ្លើយបានត្រឹមត្រូវមួយ  
10 ពិន្ទុ = សិស្សឆ្លើយបានត្រឹមត្រូវទាំង៣  
0 ពិន្ទុ = សិស្សឆ្លើយមិនត្រឹមត្រូវទាំងអស់

៤. ប្រភពថាមពលសម្រាប់បំលែងដោយ កម្ដៅ ពន្លឺ និងអគ្គិសនី៖ (15 ពិន្ទុ)

- ក. រស្មីសំយោគរបស់រុក្ខជាតិប្រើប្រាស់ថាមពលពន្លឺ
- ខ. រំហូតទឹក ប្រើប្រាស់ថាមពលកម្ដៅ
- គ. អគ្គិសនីវិភាគទឹក ប្រើប្រាស់ថាមពលអគ្គិសនី
- ឃ. អាគុយប្រើពន្លឺព្រះអាទិត្យ ប្រើថាមពលពន្លឺព្រះអាទិត្យ
- ង. ការរលាយរបស់ទឹកកក ប្រើថាមពលកម្ដៅ

( 3 ពិន្ទុ x 5 = 15 ពិន្ទុ)


**ការដាក់ពិន្ទុ៖** 5 ពិន្ទុ = សិស្សឆ្លើយបានត្រឹមត្រូវមួយ  
 15 ពិន្ទុ = សិស្សឆ្លើយបានត្រឹមត្រូវទាំង 5  
 0 ពិន្ទុ = សិស្សឆ្លើយមិនត្រឹមត្រូវទាំងអស់

**លក្ខណៈវិនិច្ឆ័យការសម្រេចបានរបស់សិស្ស**

ពិន្ទុ	លក្ខណៈវិនិច្ឆ័យ និងការផ្តល់យោបល់ចំពោះគ្រូបង្រៀន
0 - 13	សិស្សនៅមិនទាន់មានចំណេះដឹងមូលដ្ឋានគ្រប់គ្រាន់នៅឡើយ ដូច្នេះគ្រូត្រូវពន្យល់សិស្សពីមូលដ្ឋានគ្រឹះនៃមេរៀននេះឡើងវិញ។
14 - 25	សិស្សមានចំណេះដឹងមូលដ្ឋានគ្រប់គ្រាន់ ប៉ុន្តែនៅមិនទាន់យល់ច្បាស់ពីខ្លឹមសារមេរៀននៅឡើយទេ។ គ្រូត្រូវជួយបំផុសឱ្យសិស្សសិក្សាល្បឿនយល់បន្ថែមទៀតអំពីបំលែងរូបធាតុ និងកត្តាដែលនាំឱ្យកើតមានបំលែងទាំងនេះ។
26 - 35	សិស្សមានចំណេះដឹងមូលដ្ឋានគ្រប់គ្រាន់ និងបានយល់នូវខ្លឹមសារមេរៀនកម្រិតមធ្យម ដូច្នេះពួកគេត្រូវការចាំបាច់សិក្សាល្បឿនយល់ឱ្យបានច្រើនជាងនេះទៀត។
36 - 50	សិស្សបានយល់ច្បាស់លាស់អំពីខ្លឹមសារមេរៀន។

ជំពូក 3

ខ្យល់



ខ្យល់មាននៅជុំវិញខ្លួនយើង ។ នៅលើពិភពលោកយើងនេះ ប្រសិនបើគ្មានខ្យល់ទេគោរ ក៏ពុំមានជីវិតរស់នៅដែរ ។ ខ្យល់មានសារៈសំខាន់ណាស់សម្រាប់ទ្រទ្រង់ចំហេះនិងសម្រាប់ជីវិត ។

# មេរៀនទី 1

# ខ្យល់

## វត្ថុបំណង

- តាមសៀវភៅសិក្សាគោល បន្ទាប់ពីរៀនមេរៀននេះសិស្ស៖
  - ពណ៌នាបានពីលក្ខណៈ និងសមាសភាពខ្យល់
  - រកអត្តសញ្ញាណខ្យល់ក្នុងខ្យល់
  - ពណ៌នាពីសារប្រយោជន៍នៃខ្យល់ចំពោះភាវៈមានជីវិត

## ផែនការមេរៀន

មេរៀននេះត្រូវបង្រៀនក្នុង 6 ម៉ោងសិក្សា ដូចបង្ហាញនៅក្នុងតារាងខាងក្រោម ទៅតាមលំដាប់លំដោយនៃមេរៀន។ ទោះជាយ៉ាងណាក៏ដោយ គ្រូបង្រៀនអាចប្រើប្រាស់ទេពកោសល្យ ភាពទន់ភ្លន់ និងបត់បែនរបស់ខ្លួន ច្នៃប្រឌិតការបង្រៀនទៅតាម កម្រិតយល់ដឹងរបស់សិស្ស និងស្ថានភាពតាមថ្នាក់ជាក់ស្តែង ដើម្បីសម្របសម្រួលទៅនឹងសកម្មភាពបង្រៀន និងរៀនដែលបានស្នើ នៅក្នុងការណែនាំនេះ។

តារាងទី១ បំណែងចែកម៉ោងបង្រៀន

ចំនួនម៉ោងសិក្សា	ចំណងជើងរងនៃមេរៀន	ទំព័រ
2	1. ខ្យល់ 1.1. សង្កេត 1.2. លក្ខណៈខ្យល់	134-136
2	2. សមាសភាពខ្យល់ 2.1. លក្ខណៈរូបខ្យល់ក្នុងខ្យល់ 3. អត្តសញ្ញាណកម្មខ្យល់ក្នុងខ្យល់ 3.1. អត្តសញ្ញាណកម្មខ្យល់អុកស៊ីសែន 3.2. អត្តសញ្ញាណកម្មខ្យល់កាបូនឌីអុកស៊ីត	137-138
2	ភាវៈមានជីវិត និងខ្យល់ មេរៀនសង្ខេប សំណួរ	139-141

## សេចក្តីណែនាំសម្រាប់ការមេរៀន

តារាងខាងក្រោមបង្ហាញពីវត្ថុបំណង សកម្មភាពបង្រៀន-រៀន និងរង្វាយតម្លៃតាមបំណែងចែកម៉ោងបង្រៀននីមួយៗ។ គ្រូ បង្រៀនរំពឹងថានឹងអនុវត្តសកម្មភាពបង្រៀន និងរៀនដូចមានរៀបរាប់ក្នុងតារាងនេះ និងវាយតម្លៃលទ្ធផលសិក្សារបស់សិស្សតាម លក្ខណៈវិនិច្ឆ័យសមស្រប។ សិស្សនឹងមានឱកាសអនុវត្តសកម្មភាពផ្សេងៗ ដើម្បីសិក្សាឈ្វេងយល់ពីសមាសភាព និងលក្ខណៈរបស់ ខ្យល់។

**តារាងទី២ ផែនការបង្រៀន និងវាយតម្លៃ**

ចំនួនម៉ោងសិក្សា	វគ្គបំណង	សកម្មភាព	លទ្ធផលវាយតម្លៃ
2	ពណ៌នាលក្ខណៈរបស់ខ្យល់	<ul style="list-style-type: none"> <li>- សិស្សពិភាក្សាពីស្រទាប់បរិយាកាសរបស់ផែនដី</li> <li>- សិស្សពិភាក្សាពីបាតុភូតទាក់ទងនឹងខ្យល់ក្នុងជីវភាពប្រចាំថ្ងៃ</li> <li>- សិស្សពិនិត្យលក្ខណៈរបស់ខ្យល់ ដោយបង្ហាញភស្តុតាងតាមពិសោធន៍</li> </ul>	<ul style="list-style-type: none"> <li>- សិស្សបង្ហាញបានពីស្រទាប់បរិយាកាសរបស់ផែនដី</li> <li>- សិស្សបង្ហាញបានពីលក្ខណៈរបស់ខ្យល់</li> </ul>
2	ពណ៌នាពីសមាសភាពបង្កនិងអត្តសញ្ញាណកម្មខ្យល់ក្នុងខ្យល់	<ul style="list-style-type: none"> <li>- សិស្សពិភាក្សាអំពីសមាសភាពបង្ករបស់ខ្យល់</li> <li>- សិស្សធ្វើអត្តសញ្ញាណកម្មខ្យល់អុកស៊ីសែន និងខ្យល់កាបូនឌីអុកស៊ីត ដោយពិសោធន៍</li> </ul>	<ul style="list-style-type: none"> <li>- សិស្សពណ៌នាបានពីសមាសភាពបង្ករបស់ខ្យល់</li> <li>- សិស្សបង្ហាញបានពីអត្តសញ្ញាណកម្មខ្យល់អុកស៊ីសែននិងខ្យល់កាបូនឌីអុកស៊ីត។</li> </ul>
2	<ul style="list-style-type: none"> <li>- ពន្យល់ពីតួនាទីរបស់ខ្យល់នៅលើផែនដី</li> <li>- ពង្រឹងចំណេះដឹងស្តីពីខ្យល់ និងលក្ខណៈរបស់វាតាមរយៈការសង្ខេបមេរៀន និងឆ្លើយសំណួរក្នុងសៀវភៅសិក្សា</li> </ul>	<ul style="list-style-type: none"> <li>- សិស្សពិភាក្សាពីសារសំខាន់របស់ខ្យល់ចំពោះភាវៈមានជីវិត និងតួនាទីរបស់ខ្យល់ក្នុងជីវភាពប្រចាំថ្ងៃ</li> <li>- សិស្សសង្ខេបពីអ្វីដែលគេបានរៀន និងឆ្លើយសំណួរនៅក្នុងសៀវភៅសិក្សា</li> </ul>	<ul style="list-style-type: none"> <li>- សិស្សពណ៌នាបានពីតួនាទីខ្យល់នៅលើផែនដី</li> <li>- សិស្សអាចសង្ខេប និងឆ្លើយសំណួរនៅក្នុងមេរៀននេះបាន។</li> </ul>

**ចំណុចសំខាន់ៗនៃការបង្រៀន**

ខ្លឹមសារគន្លឹះដែលត្រូវធ្វើការពិភាក្សាក្នុងមេរៀននេះគឺ៖

1. ខ្យល់ប្រមាណ 90% ស្ថិតនៅក្នុងមណ្ឌលអាកាសចល់
2. សមាសភាពបង្ករបស់ខ្យល់៖ អាសូតមាន78% អុកស៊ីសែនមាន 21% អាត្មូនមាន0.93 % កាបូនឌីអុកស៊ីតមានប្រហែល0.039 % គិតជាមាឌ (Wikipedia, កុម្មៈ 2014)។
3. អត្តសញ្ញាណកម្មខ្យល់សំខាន់ៗក្នុងខ្យល់
4. តួនាទីខ្យល់ក្នុងជីវភាពប្រចាំថ្ងៃ

ខ្លឹមសារទាំងនេះមិនផ្តល់ត្រឹមតែចំណេះដឹងតាមបែបការចងចាំប៉ុណ្ណោះទេ ប៉ុន្តែសិស្សត្រូវចូលរួមគិតពិភាក្សានិងអនុវត្តដោយផ្ទាល់ផងដែរ ដូចជាតាមរយៈសំណួរបំផុស ការបង្កើតផែនទីគំនិត និងការធ្វើពិសោធន៍។ សៀវភៅណែនាំនេះបង្ហាញសកម្មភាពអនុវត្តងាយៗមួយចំនួន។

**ចំណេះដឹងមូលដ្ឋានសម្រាប់មេរៀននេះ**

សិស្សបានរៀនអំពីខ្យល់ ចំហេះ(ការដុត) រស្មីសំយោគ ដំណកដង្ហើម និងផ្សេងៗទៀត នៅបឋមសិក្សា។ សិស្សអាចរំលឹកឡើងវិញនូវចំណេះដឹងទាំងនេះ ដើម្បីជាមូលដ្ឋានបង្កើតជាផែនទីគំនិតអំពីខ្យល់នៅដើមមេរៀន ហើយនៅចុងបញ្ចប់នៃមេរៀននេះ សិស្សនឹងបង្កើតផែនទីគំនិតម្តងទៀតដែលមានបញ្ចូលខ្លឹមសារកាន់តែលម្អិត។

### ខ្យល់



#### វត្តមាន

សិស្សពណ៌នាពីទម្រង់ស្រទាប់ បរិយាកាស និងលក្ខណៈរបស់ខ្យល់។

#### សកម្មភាពបង្រៀន និងរៀន



#### សំណួរ

តើនៅក្នុងបរិយាកាសមានស្រទាប់ខ្យល់អ្វីខ្លះ?



គ្រូបង្ហាញរូបស្រទាប់បរិយាកាស និងឱ្យសិស្សពិភាក្សាថាតើពួកគេយល់អ្វីខ្លះអំពីរូបនេះ។ គ្រូឱ្យសិស្សបញ្ចេញយោបល់ និងគ្រប់ពេញបន្ថែមរាល់ចំណុចខ្លះខាត។

**សម្គាល់ ៖**

រូបស្រទាប់បរិយាកាសបង្ហាញក្នុងសៀវភៅសិក្សាទំព័រ 134 នេះ **មិនត្រឹមត្រូវទេ**។ គ្រូត្រូវគូររូបថ្មីលើក្រដាសផ្ទាំងធំតាមមាត្រដ្ឋានសមស្រប។ គូររង្វង់ដែលមានអង្កត់ធ្នឹត 64 cm តំណាងឱ្យផែនដីដែលមានអង្កត់ធ្នឹត 6400 km។ គូរស្រទាប់មណ្ឌលអាកាសរចល់កម្រាស់ 1.5 mm (15 km)។

#### មេរៀន

# 1

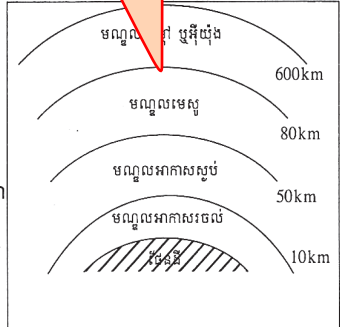
### ខ្យល់

#### ចប់មេរៀននេះ សិស្សអាច

- ពណ៌នាបានពីលក្ខណៈ និងសមាសភាពខ្យល់
- រកអត្តសញ្ញាណឧស្ម័នក្នុងខ្យល់
- ពណ៌នាពីសារប្រយោជន៍នៃខ្យល់ចំពោះការៈមានជីវិត ។

មិនបានបង្ហាញផលធៀប

ខ្យល់ជារូបធាតុពិសេសម្យ៉ាងដែលមាននៅជុំវិញខ្លួនយើង ហើយដែលយើងមើលមិនឃើញ។ ខ្យល់ដែលនៅជុំវិញផែនដីជាស្រទាប់មួយហៅថា “បរិយាកាស” ។ ស្រទាប់ខ្យល់នេះចែកចេញជាបួនស្រទាប់គឺ ៖ មណ្ឌលអាកាសរចល់ មណ្ឌលអាកាសស្ងប់ មណ្ឌលមេសូ និងមណ្ឌលកម្ដៅ ឬមណ្ឌលអ៊ីយ៉ុង។ មនុស្សយើងរស់នៅក្នុងមណ្ឌលអាកាសរចល់ ហើយពេលខ្លះយើងធ្វើដំណើរទៅកាន់មណ្ឌលអាកាសស្ងប់ផងដែរ។ មានតែអ្នកអវកាសទេដែលបានធ្វើដំណើរផុតបរិយាកាសទៅកាន់ស្ថានីយអវកាសអន្តរជាតិដែលមានចម្ងាយ 390km ឬទៅឋានព្រះចន្ទចម្ងាយ 35 6000 km ពីផែនដី។ កាលណារយៈកម្ពស់កាន់តែខ្ពស់ខ្យល់កាន់តែខ្សត់ទៅៗ។



#### 1. ខ្យល់

តើយើងអាចដឹងថាមានខ្យល់ដោយសារអ្វី? ខ្យល់បិតនៅជុំវិញខ្លួនយើង តែយើងមិនអាចមើលឃើញ។



134

គូរស្រទាប់មណ្ឌលអាកាសស្ងប់កម្រាស់ 5.0 mm (50 km)។ គូរស្រទាប់មណ្ឌលមេសូកម្រាស់ 8 mm (80 km)។ គូរស្រទាប់មណ្ឌលកម្ដៅ ឬអ៊ីយ៉ុងកម្រាស់ 6.0 cm (600 km)។




#### ចំណេះដឹងបន្ថែម

មណ្ឌលអាកាសរចល់ និងមណ្ឌលអាកាសស្ងប់ជាតំបន់សំខាន់ៗ ខ្យល់ប្រមាណ 90% ស្ថិតក្នុងមណ្ឌលអាកាសរចល់ និងមានចលនាចុះឡើងយ៉ាងងាយ (ចរន្តខ្យល់វិលវល់៖ ខ្យល់ក្ដៅកាយឡើងលើ ខ្យល់ត្រជាក់ធ្លាក់ចុះក្រោម) ដែលចលនានេះមិនមាននៅមណ្ឌលអាកាសស្ងប់ទេ។ ទោះជាយ៉ាងណាក៏ដោយ នៅមណ្ឌលអាកាសស្ងប់ខ្យល់មានចលនាយ៉ាងលឿនតាមទិសដេក។

1.1. សង្កេត

ចូរពិនិត្យរូបភាពទាំងអស់នេះ

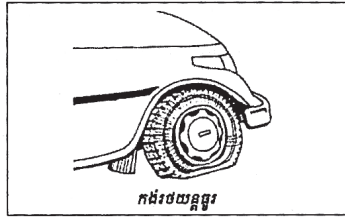


ភ្នំភ្លើង



ខ្យល់បក់ដើមឈើយោលយោក

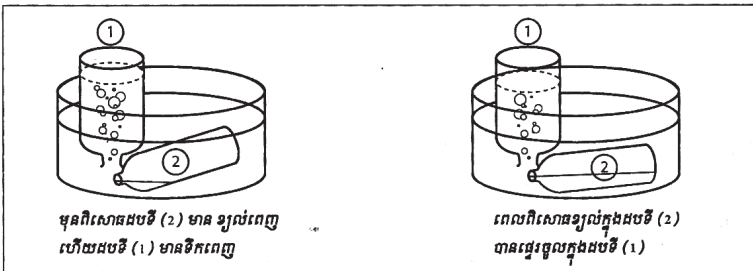
- តើចំហេះអុសត្រូវការអ្វីជាចាំបាច់ ?
- តើមូលហេតុអ្វី បណ្តាលឱ្យដើមឈើយោលយោក ?
- ហេតុអ្វីបានជាកង់ៗយន្តនេះមិនអាចដំណើរការបាន ?
- ចូររកឧទាហរណ៍ផ្សេងៗទៀតដែលបង្ហាញពីវត្តមាននៃខ្យល់ ។



កង់ៗយន្ត

1.2. លក្ខណៈខ្យល់

ក. ខ្យល់អាចផ្ទេរបាន



មុនពិសោធដលក្នុង (2) មាន ខ្យល់ពេញ ហើយដលក្នុង (1) មានទឹកពេញ

ពេលពិសោធខ្យល់ក្នុងដលក្នុង (2) បានផ្ទេរចូលក្នុងដលក្នុង (1)

សន្និដ្ឋាន

ខ្យល់អាចផ្ទេរពីដបមួយទៅដបមួយទៀត ឬទៅបំពង់ផ្សេងទៀតបានគេថាខ្យល់ជា សន្ទនីយ ។

135



សំណួរ

តើប្អូនធ្វើដូចម្តេចទើបដឹងថាមានខ្យល់?



គ្រូឱ្យសិស្សពិភាក្សាគ្នាជាក្រុម រិះរកបាតុភូតទាំងឡាយដែលបង្កដោយខ្យល់ដើម្បីបង្ហាញពីភស្តុតាងថាវត្តមានខ្យល់។ គ្រូអាចសួរសំណួរបំផុសដូចមានបង្ហាញនៅក្នុងសៀវភៅសិក្សាទំព័រនេះ នឹងឱ្យសិស្សស្វែងរកឧទាហរណ៍ផ្សេងទៀត តាមដែលពួកគេអាចធ្វើបាន។

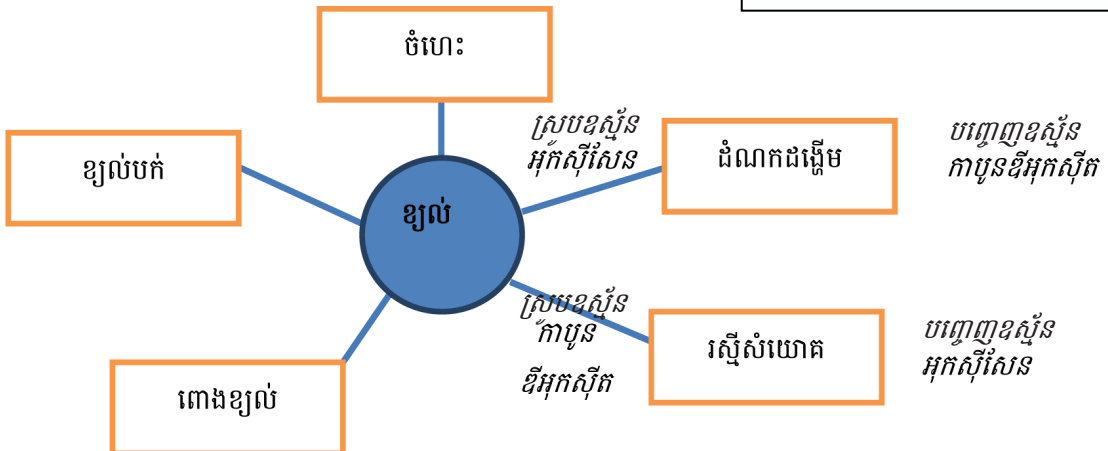
ពិសោធន៍បង្ហាញរបស់គ្រូ

គ្រូអាចធ្វើពិសោធន៍បង្ហាញសិស្សពីវត្តមានរបស់ខ្យល់ ដោយញាត់ក្រដាសមួយសន្លឹកចូលបាតកែវថ្នាំដៃ រួចផ្តាច់ចុះចូលក្នុងទឹកឱ្យលិចកែវ។ បន្ទាប់ពី១នាទីក្រោយ លើកកែវមកវិញ និងឱ្យសិស្សពិនិត្យមើលក្រដាសក្នុងកែវ តើមានសើមឬទេ? ហេតុអ្វីទើបក្រដាសមិនសើម? (ចម្លើយ : ទឹកមិនអាចចូលទៅក្នុងកែវបានទេ ព្រោះនៅក្នុងកែវមានខ្យល់រារាំងមិនឱ្យទឹកចូលបាន។)



គ្រូឱ្យសិស្សពិភាក្សាគ្នាបង្កើតផែនទីគំនិតអំពីអ្វីដែលគេបានដឹងអំពីខ្យល់ និងឱ្យសិស្សបង្ហាញដល់ក្រុមដទៃ។ គ្រូពន្យល់បន្ថែមរាល់ចំណុចខ្លះខាត។

ឧទាហរណ៍ : ផែនទីគំនិតស្តីពី ខ្យល់





**វត្ថុបំណែង**

អាចបញ្ជាក់ពីលក្ខណៈរបស់ខ្យល់តាមពិសោធន៍។

**សកម្មភាពបង្រៀន និងរៀន**



**សំណួរ**

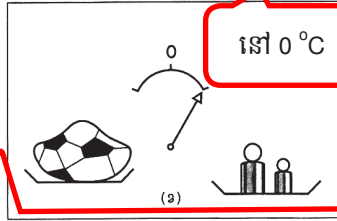
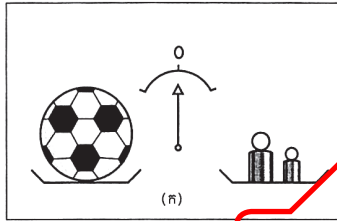
តើខ្យល់មានលក្ខណៈយ៉ាងដូចម្តេចខ្លះ?



សិស្សពិសោធបញ្ជាក់ថា (ក) ខ្យល់អាចធ្វើនៅក្នុងទឹក ពីដបមួយទៅដបមួយទៀតបាន។ (ខ) ខ្យល់មានម៉ាស់ (ការបង្ហាញខ្យល់មានម៉ាស់ក្នុងសៀវភៅសិក្សានេះ មិនត្រូវតាមលក្ខណៈវិទ្យាសាស្ត្រទេ។ រាងបាល់ត្រូវរក្សាឱ្យដូចគ្នា។ សូមមើល ការណែនាំខាងក្រោម។) (គ) ខ្យល់អាចបង្រួមបាន ដូចករណីប្រើសីរ៉ាំង ឬកាំភ្លើងខ្យល់ (កាំភ្លោះ)។ (ឃ) ខ្យល់អាចធ្វើឱ្យក្លាយជាវាវបានសីតុណ្ហភាព  $-193^{\circ}\text{C}$ ។ លក្ខណៈនេះត្រូវត្រឹមតែពន្យល់ប្រាប់សិស្ស ជាការស្រេច ព្រោះមិនអាចពិសោធបានទេ។

**ខ. ខ្យល់មានម៉ាស់**

បាល់ដែលមានខ្យល់ណែន (តឹង) ធ្ងន់ជាងបាល់ធូរ។ ខ្យល់មួយលីត្រមានម៉ាស់ 1.3g ។


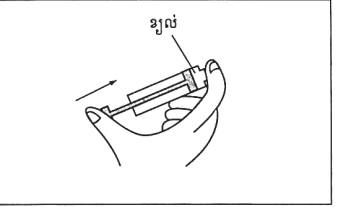


**អនុវត្ត**

ពិសោធន៍មិនត្រឹមត្រូវ! សូមមើលការណែនាំខាងក្រោម

- បន្ទប់មួយមានមាឌ  $50\text{m}^3$  ឬ  $50\,000\text{l}$  ។ គណនាម៉ាស់ខ្យល់ដែលមានក្នុងបន្ទប់នោះជា g និងជា kg ? (ខ្យល់ 1l មានម៉ាស់ 1.3g )
- បាល់មួយមានខ្យល់ពេញ មានម៉ាស់ 1.248 kg ។ គេបន្ថុរខ្យល់អស់ 1.5l ។ រកម៉ាស់បាល់ក្រោយពេលបន្ថុរខ្យល់រួចគិតជា kg និងជា g ? (ខ្យល់ 1l មានម៉ាស់ 1.3g )

**គ. ខ្យល់អាចបង្រួមបាន**



បើគេសង្កត់ទៅលើដងស្នប់ ឬដងសីរ៉ាំង គេសង្កត់ឃើញមានខ្យល់រួមគេជាខ្យល់ អាចបង្រួមបាន។ គេប្រើដបអុកស៊ីសែនសម្រាប់ដកដង្ហើមពេលមុជទឹកទៅក្រោមទឹកដុះ ឬសមុទ្ររយៈពេលយូរ។ អុកស៊ីសែននៅក្នុងដបនេះ ត្រូវបានគេបង្រួមមាឌ។

**ឃ. ខ្យល់អាចពង្រាវបាន**

ខ្យល់រាវត្រជាក់ខ្លាំងណាស់ គេរក្សាវានៅក្នុងដើងពិសេសម្យ៉ាង។ ដើម្បីប្លែងឧស្ម័នឱ្យទៅជាខ្យល់រាវ គេត្រូវបញ្ចុះសីតុណ្ហភាពរហូតដល់  $193^{\circ}\text{C}$  ក្រោមសូន្យ។ ខ្យល់រាវ មានពណ៌ខៀវវាអាចធ្វើឱ្យបាត់ភកកបាន។

136



**ការបញ្ជាក់ថាខ្យល់មានម៉ាស់**

ការណែនាំត្រឹមត្រូវគឺ «បាល់ដែលមានខ្យល់តឹងខ្លាំង (បណ្តែន) ធ្ងន់ជាងបាល់ធូរ» ក្នុងករណីបាល់មានរាង និងទំហំដូចគ្នា។ ការបង្ហាញក្នុងសៀវភៅសិក្សាអំពីបាល់ទទេ (គ្មានខ្យល់) មិនត្រឹមត្រូវទេ ព្រោះបាល់ទាំងពីរមានទម្រង់ រូបរាងខុសគ្នា ដែលនាំឱ្យមានឥទ្ធិពលដំណើរលំហូរលើស៊ី (Buoyancy) ខុសគ្នា។ ដូច្នេះ បាល់ទាំងពីរត្រូវរក្សាឱ្យនៅរាងដូចគ្នា ទើបត្រូវតាមលក្ខណៈវិទ្យាសាស្ត្រក្នុងការប្រៀបធៀបម៉ាស់ខ្យល់។ ត្រូវតែបង្ហាញ ឬឱ្យសិស្សពិសោធបញ្ជាក់ថាខ្យល់មានម៉ាស់តាមលំនាំខាងក្រោម៖

- (១). ឆ្នឹងដបទឹកក្រចចំណុះ 1.5 L ឬចំណុះ 2.0 L ជាមួយគម្របដែលមានភ្ជាប់វ៉ាល់
- (២). ប្រើស្នប់សំបកកង់ សំបកខ្យល់បញ្ចូលដប ដោយសំបកកង់ ឆ្នឹងម្តង។ កត់ត្រា និងសង់ក្រាហ្វ

បង្ហាញពីទំនាក់ទំនងមាឌខ្យល់ និងម៉ាស់របស់ខ្យល់។

ចំនួនសំបក	0 ដង (មុនសំបក)	១ ដង	២ ដង	៣ ដង
ម៉ាស់ (g)				

2. សមាសភាពខ្យល់

ជំពូកទី៣ មេរៀនទី១

ប្រហែល 200 ឆ្នាំមុន គេគិតថាខ្យល់ដក ដង្ហើមគឺជាសារធាតុម្យ៉ាងសុទ្ធដូចគ្នានឹងមាស ឬ បារ៉ាតដែរ ។ ប៉ុន្តែតាមពិតខ្យល់ជាល្អាយនៃ ឧស្ម័នច្រើនយ៉ាងដូចជា អាសូត អុកស៊ីសែន ឧស្ម័នកម្រ ឧស្ម័នកាបូនឌីអុកស៊ីត ចំហាយទឹក និងឧស្ម័នដទៃទៀត ។ ធាតុផ្សំរបស់ខ្យល់មិន ស្មើគ្នាក្របខ័ណ្ឌនៃខ្យល់នោះទេ ។ វាប្រែប្រួលពីមួយ ថ្ងៃទៅមួយថ្ងៃ និងពីកន្លែងមួយទៅកន្លែងមួយទៀត ។ ឧទាហរណ៍ ពេលអាកាសធាតុសើមមាន ចំហាយទឹកច្រើននៅក្នុងខ្យល់ ។ ចំណែកខ្យល់នៅទីក្រុងដែលមានមនុស្សអ្វីអរ និងតំបន់ឧស្សាហកម្ម សម្បូរឧស្ម័នកាបូនឌីអុកស៊ីតព្រមទាំងឧស្ម័នពុលជាច្រើនទៀត ។

• នៅក្នុងខ្យល់មាន	
- អាសូត	78 %
- អុកស៊ីសែន	21 %
- ឧស្ម័នកម្រ	0.97 %
- ឧស្ម័នកាបូនឌីអុកស៊ីត	0.03 %
ក្រៅពីនេះ គឺចំហាយទឹក និងឧស្ម័នចេញ ពីរោងចក្រផ្សេងៗទៀត ។	

សព្វថ្ងៃមាន 0.039% (Wikipedia, កុម្ភៈ: 2014)

2.1. លក្ខណៈរបស់ឧស្ម័នក្នុងខ្យល់

ក. ឧស្ម័នអាសូត

- អសកម្ម
- មិនងាយធ្វើប្រតិកម្មជាមួយធាតុដទៃទៀត
- ចាំបាច់សម្រាប់រុក្ខជាតិដើម្បីបង្កើតប្រូតេអ៊ីន ។

ខ. ឧស្ម័នអុកស៊ីសែន

- សកម្មបំផុត
- ចាំបាច់សម្រាប់ចំហេះ (ទ្រទ្រង់ចំហេះ)
- ចាំបាច់សម្រាប់ការរស់រានក្នុងការដកដង្ហើម
- បានពីរស្ទីសំយោគនៃរុក្ខជាតិបៃតង ។

គ. ឧស្ម័នកាបូនឌីអុកស៊ីត

- ចាំបាច់ចំពោះរុក្ខជាតិដើម្បីធ្វើស្ទីសំយោគ
- បានពីដង្ហើមចេញនៃការរស់ រីងចំហេះសមាសធាតុកាបូន
- មិនទ្រទ្រង់ចំហេះ ។



វត្ថុបំណង

ពណ៌នាពីសមាសភាពបង្កនៃខ្យល់ និងលក្ខណៈរបស់វា។

សកម្មភាពបង្រៀន និងរៀន



សំណួរ

តើខ្យល់បង្កឡើងពីអ្វីខ្លះ?



សិស្សពិភាក្សាគ្នាតាមក្រុមអំពី សមាសភាពបង្កក្នុងខ្យល់។ សិស្សអាច ប្រមូលព័ត៌មានពីសៀវភៅសិក្សា ឬអ៊ិនធឺ ណិត។ សព្វថ្ងៃនេះ បរិមាណឧស្ម័នកាបូន ឌីអុកស៊ីតក្នុងបរិយាកាសបានកើនឡើង ប្រហែល 0.04% ហើយ។ សិស្សបង្កើត តារាងបង្ហាញសមាសភាពបង្កក្នុងខ្យល់ (រួម មានអាសូត អុកស៊ីសែន អាកុន និងកាបូន ឌីអុកស៊ីត...) និងរៀបរាប់ពីលក្ខណៈរបស់ ភាគបង្កនីមួយៗ (ទាក់ទងនឹងដំណកដង្ហើម រស្មីសំយោគ ការដុត និងភាពសកម្មគីមី ជា ដើម)។ គ្រូអាចបង្ហាញរូបភាពស្តីពីវដ្តអាសូត ដើម្បី ពន្យល់ពីលក្ខណៈ និងតួនាទីរបស់អាសូត ក្នុងបរិយាកាស។



ចំណេះដឹងបន្ថែម

ឧស្ម័នអាសូតងាយបំបែកជាឧស្ម័នអាសូតអុកស៊ីតក្នុងបរិយាកាស តាមរយៈស្រទាប់ ប្រភពដុតកម្ដៅ ដូចជា ចង្ក្រានឧស្ម័ន ម៉ាស៊ីនរថយន្តជាដើម។ ដើមសណ្ដែកក៏អាចបំបែកអាសូតក្នុងបរិយាកាសទៅជាអាម៉ូញាក់ផងដែរ ដោយផ្ទុកនៅក្នុងកំពកប្រសរបស់វា។ សមាសធាតុអាសូតនេះ មានសារៈសំខាន់ណាស់សម្រាប់ការលូតលាស់ របស់រុក្ខជាតិ។



**វត្ថុបំណង**

ធ្វើអត្តសញ្ញាណកម្មឧស្ម័នអុកស៊ីសែន និងឧស្ម័នកាបូនឌីអុកស៊ីត។

**សកម្មភាពចម្រៀង និងរៀន**



**សំណួរ**

តើគេអាចធ្វើអត្តសញ្ញាណកម្ម ឧស្ម័នអុកស៊ីសែន និងឧស្ម័នកាបូនឌីអុកស៊ីត យ៉ាងដូចម្តេច?



គ្រូដុតទៀនក្នុងខ្យល់បង្ហាញសិស្ស រួចសួរហេតុអ្វីបានជាទៀនអាចនេះបាន?

- សិស្សបង្កើតឧស្ម័នអុកស៊ីសែនពីប្រតិកម្ម បំបែកអ៊ីដ្រូសែនពែអុកស៊ីត (H<sub>2</sub>O<sub>2</sub>) ដោយ ថ្លើមជ្រូក និងធ្វើអត្តសញ្ញាណកម្មវាដោយ រង្វើកភ្លើងធ្ងប។ ភ្លើងធ្ងបនឹងនេះប្រាលខ្លាំង ឡើង។
- សង្កេតទឹកកំបោរដែលដាក់ហាលខ្យល់ ប្រហែល 10 នាទី ដោយពិនិត្យមើលករ កើតឡើងដោយសារវត្តមានឧស្ម័ន CO<sub>2</sub> ក្នុងខ្យល់។
- សិស្សបង្កើតឧស្ម័នកាបូនឌីអុកស៊ីតពី ប្រតិកម្មរវាងទឹកខ្មេះ ជាមួយម្សៅសូដា (NaHCO<sub>3</sub>) ឬអាស៊ីត HCl ជាមួយសំបក លៀស (CaCO<sub>3</sub>) រួចតេស្តឧស្ម័ននេះ ដោយទឹកកំបោរថ្លាប្រែជាល្អក់។

**យ.ឧស្ម័នកម្រ**


- អសកម្ម
- មិនងាយធ្វើប្រតិកម្មជាមួយសារធាតុផ្សេងទៀត ។

**3. អត្តសញ្ញាណកម្មឧស្ម័នក្នុងខ្យល់**

យើងមិនអាចមើលឃើញខ្យល់ ឬឧស្ម័នផ្សេងៗដែលមាននៅក្នុងខ្យល់ទេ ។ តែយើងអាចដឹងបាន តាមរយៈការពិសោធ ។

**3.1. អត្តសញ្ញាណកម្មឧស្ម័នអុកស៊ីសែន**

បើយើងដាក់គ្រាប់ឈើតូសដែលមានតែ រង្វើកភ្លើង ចូលទៅក្នុងបំពង់សាកមានផ្ទុកអុកស៊ីសែននោះ គ្រាប់ឈើតូសក៏នេះប្រាលឡើង ។



**3.2. អត្តសញ្ញាណកម្មឧស្ម័នកាបូនឌីអុកស៊ីត**

យើងដឹងហើយថាមនុស្សយើងស្រូបយកឧស្ម័នអុកស៊ីសែន ហើយបញ្ចេញឧស្ម័នកាបូន ឌីអុកស៊ីតតាមរយៈដង្ហើមចេញ ។ ឧស្ម័នកាបូនឌីអុកស៊ីតអាចធ្វើឱ្យទឹកកំបោរថ្លាឡើងល្អក់ ។

យកកែវមួយដាក់ទឹកកំបោរថ្លាចូល បំពង់កែវ ឬដំរមកផ្ទុំខ្យល់ដង្ហើមចេញចូល ក្នុងកែវនោះ ។ យើងសង្កេតឃើញថា ទឹកកំ បោរថ្លាក្នុងកែវនោះប្រែជា ល្អក់ ។ បាតុភូត នេះ អាចបញ្ជាក់បានថាឧស្ម័នដង្ហើមចេញ គឺ ជាឧស្ម័នកាបូនឌីអុកស៊ីត ។

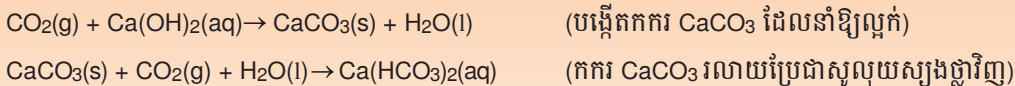


138



**ចំណេះដឹងបន្ថែម**

ឧស្ម័នកាបូនឌីអុកស៊ីតធ្វើឱ្យទឹកកំបោរថ្លាប្រែជាល្អក់ ប៉ុន្តែបើគេឱ្យឧស្ម័នកាបូនចបន្តឆ្លងកាត់ទឹកកំបោរដែលល្អក់ នោះច្រើនទៅៗ ទឹកកករល្អក់នឹងរលាយ ហើយធ្វើឱ្យទឹកកំបោរថ្លាប្រែជាថ្លាវិញ។ សមីការគីមីខាងក្រោមបញ្ជាក់ពី បាតុភូតទាំងនេះ ៖




ឧស្ម័នកាបូនឌីអុកស៊ីតធ្ងន់ជាងខ្យល់ ដូច្នេះគេអាចត្រងវាតាមវិធីបណ្តុរចុះក្រោម (downward replacement method) រីឯអុកស៊ីសែនជាឧស្ម័នដែលរលាយតិចតួចក្នុងទឹក (0.043 g/L, 20°C) ដូច្នេះគេអាចត្រងវាតាមរយៈវិធីបណ្តុរទឹក (water replacement method) ក្នុងដើងទឹក។(សូមមើលទំព័រទី13)

ជំពូកទី៣ មេរៀនទី១

4. តាមរយៈវិធីសាស្ត្រ និងទីតាំង

មនុស្ស សត្វ និងរុក្ខជាតិត្រូវការឧស្ម័នអុកស៊ីសែនដើម្បីរស់។ ការរស់នៅរបស់សត្វប្រយោជន៍ អុកស៊ីសែនពីខ្យល់នៅពេលដកដង្ហើម។ ចំណែករុក្ខជាតិ និងសត្វដែលរស់នៅក្នុងទឹកក៏ត្រូវការឧស្ម័ន អុកស៊ីសែនដែលមាននៅក្នុងទឹកដែរ។ ពេលដែលព្រះអាទិត្យបញ្ចេញពន្លឺ រុក្ខជាតិបែកស្របប្រយោជន៍ ឧស្ម័នកាបូនឌីអុកស៊ីតពីខ្យល់ និងទឹកដើម្បីផលិតជាអាហារ លំនាំនេះហៅថា “ រស្មីសំយោគ ” ។



ម្យ៉ាងទៀតមនុស្ស សត្វ និងរុក្ខជាតិត្រូវការអាសូតដើម្បីបង្កើត ប្រូតេអ៊ីន សម្រាប់ធំធេង តែគេ មិនអាចប្រើអាសូតដោយផ្ទាល់ពីខ្យល់បានទេ។

ចំពោះរុក្ខជាតិទទួលបានអាសូតពីសមាសធាតុអាសូត។ សមាសធាតុនេះ គេឃើញមាននៅក្នុងដី ឬក្នុងដី ដែលកសិករបានប្រើសម្រាប់ដាក់ដំណាំ។ ចំណែកសត្វវិញទទួលបានអាសូតដោយវាស៊ី រុក្ខជាតិ ឬសត្វដទៃទៀត។

ប៉ុន្តែមនុស្សយើងទទួលបានអាសូតដោយយើងញ៉ាំបន្លែ ផ្លែឈើ ត្រី ឬសាច់សត្វផ្សេងៗ។

វត្ថុបំណង

ពន្យល់ពីសារសំខាន់នៃខ្យល់ចំពោះការរស់។

សកម្មភាពបង្រៀន និងរៀន

សំណួរ: តើខ្យល់មានសារសំខាន់អ្វីខ្លះចំពោះ ការរស់?

សិស្សពន្យល់ពីសារសំខាន់របស់ ខ្យល់ ដោយលើកយកសាមាសភាពបង្ក របស់វាមកនិយាយ ដូចជាសារសំខាន់របស់ អុកស៊ីសែន កាបូនឌីអុកស៊ីត និងអាសូត ចំពោះការរស់មានជីវិតនៅលើផែនដី។  
- អុកស៊ីសែនសំខាន់សម្រាប់ដំណក ដង្ហើមរបស់ការមានជីវិត។ លំនាំរស្មី សំយោគ រុក្ខជាតិស្រូបឧស្ម័នកាបូនឌីអុកស៊ីត និងទឹកបង្កើតជាកាបូអ៊ីដ្រាត និងឧស្ម័ន អុកស៊ីសែន ។ រាងកាយរបស់យើងបង្កពី ប្រូតេអ៊ីន ដែលបង្កពីអាសូត (អាស៊ីតអាមីណូ  $RCH(NH_2)COOH$ )។ ដូច្នេះ អាសូត ចាំបាច់ត្រូវបំប្លែងជាទម្រង់អាស៊ីតអាមីណូ។  
(គ្រូបង្ហាញវដ្តកាបូន និងអាសូត)

ចំណេះដឹងបន្ថែម

អូសូនក្នុងមណ្ឌលអាកាសរចល់ជាឧស្ម័នពុលសម្រាប់ការរស់។ ប៉ុន្តែនៅមណ្ឌលអាកាសស្ងប់ អូសូនជាស្រទាប់សំខាន់ ដែលជួយការពារការស្លឹស្លាយអ៊ុលត្រាព្រះអាទិត្យ ដែលជាការស្លឹបង្កគ្រោះថ្នាក់ដល់ការរស់ មិនឱ្យឆ្លងកាត់មកដល់ ផែនដីបាន។ ទោះជាយ៉ាងណាក៏ដោយ មនុស្សបានសំយោគផលិតផលប្រើប្រាស់មួយចំនួនដែលអាចបំផ្លាញស្រទាប់ អូសូន ដូចជាក្លរូភ័ណ្ឌអុកស៊ីត (CFCs)។ ការផ្ទុះក្លាយស្រទាប់អូសូនជាបញ្ហាធំចំពោះបរិស្ថានយើងសព្វថ្ងៃ។



ជំពូកទី៣ មេរៀនទី១

6. ក្នុងបណ្តាអំណះអំណាងខាងក្រោមនេះ តើអំណះអំណាងណាខ្លះត្រឹមត្រូវ ?
- ក. ខ្យល់មានលក្ខណៈថ្លា
  - ខ. ខ្យល់មានក្លិន
  - គ. ខ្យល់អាចបង្រួមបាន
  - ឃ. ខ្យល់មិនអាចមើលឃើញ
  - ង. ខ្យល់អាចផ្ទុះបាន
  - ច. ខ្យល់មានរាងច្បាស់លាស់
  - ឆ. ខ្យល់មានម៉ាស់
  - ជ. ខ្យល់អាចក្លាយជាវាវ ។
7. បន្ទប់មួយមានវិមាត្រ
- បណ្តោយ : 6m , ទទឹង : 4m , កម្ពស់ : 2.5m
- ក. គណនាមាឌបន្ទប់នោះ គិតជា  $m^3$  និងជា  $l$  ។
  - ខ. គណនាម៉ាស់ខ្យល់ក្នុងបន្ទប់នេះជា  $g$  និងជា  $kg$  ។ (ខ្យល់  $1l$  មានម៉ាស់  $1.3g$ )

6. អំណះអំណាងត្រឹមត្រូវមាន៖ ក. គ. ឃ.  
ង. ឆ. ជ. ។
7. ក.  $6 \times 4 \times 2.5 = 60 m^3 = 60000L$   
ខ.  $1.3g/L \times 60000L = 78,000g = 78kg$

# ចំណេះដឹងបន្ថែម និងសកម្មភាព

សម្ភារៈឧបទេសបង្រៀនសមស្របក្នុងមេរៀននេះគឺ (ក) ឡានខ្យល់ និង(ខ) កាំជ្រួចខ្យល់។

(ក). **ឡានខ្យល់** : (1) ប្រើថង់ប្លាស្ទិចយូរមួយ។ (2) បត់មាត់ថង់ប្លាស្ទិច។ (3) បិទស្តុកឱ្យជិត។ (4) ប្រើហ្វឺត គូររង្វង់លើផ្នែកម្ខាងទៀតនៃថង់អង្កត់ផ្ចិតប្រហែល 5 cm។ (5) ប្រើកន្ត្រៃចោះប្រហោងថង់ដោយកាត់តាមរង្វង់ដែលបានគូរ ដោយចោះតែមួយស្រទាប់បានហើយ ។ (6) ប្រើស្តុកមុខពីរ បិទផ្នែកម្ខាងទៀតនៃថង់ដែលមិនមានការចោះរន្ធនឹងក្រដាសកាតុងរឹង ដែលបានកាត់បួនជ្រុងទំហំប៉ុនថង់ប្លាស្ទិចនោះ។ (7) ចាប់បន្ទះក្រដាសកាតុងផ្តាច់ខាងថង់ប្លាស្ទិចចុះក្រោម រួចគោះលើតុតិចៗ ដើម្បីឱ្យខ្យល់ចូលក្នុងថង់ប្លាស្ទិច។ ឡានខ្យល់នឹងបង្កើតឡើង។ *(មើលរូបខាងក្រោម)*

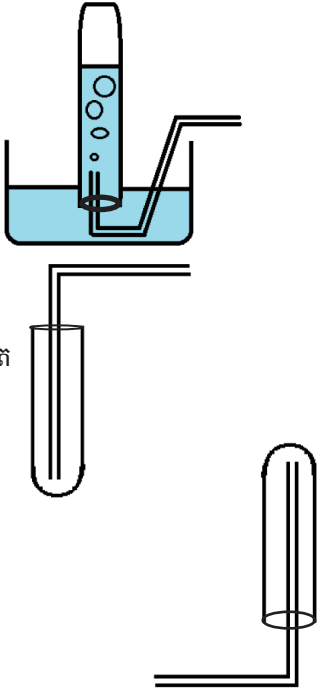


(ខ). **កាំជ្រួចខ្យល់** : ផ្តិតថង់ប្លាស្ទិចវែង (ដូចជាថង់ច្រកឆ័ត្រ) រួចចងមាត់ឱ្យជិត។ ចោលវាក្នុងខ្យល់ វានឹងហោះយ៉ាងលឿន អាចបានចម្ងាយប្រវែងពី 10 ទី 15m។



## វិធីត្រងខ្សែស្រឡៅ

- ករណីខ្សែស្រឡៅមិនរលាយ ឬរលាយតិចបំផុតក្នុងទឹក ដូចជាអាសូតអុកស៊ីតសែន អ៊ីដ្រូសែន គេត្រងដោយវិធីបណ្តូរទឹក ក្នុងក្រដាសទឹក។ (Water replacement method)
- ករណីខ្សែស្រឡៅរលាយក្នុងទឹក ហើយធ្ងន់ជាងខ្យល់ ដូចជា កាបូនឌីអុកស៊ីត ស្ថាន់ធីអុកស៊ីត គេត្រងដោយបណ្តូរចុះក្រោម។ (Downward replacement)
- ករណីខ្សែស្រឡៅរលាយក្នុងទឹក ហើយស្រាលជាងខ្យល់ ដូចជា អាម៉ូញាក់ គេត្រងដោយបណ្តូរឡើងលើ។ (Upward replacement)



**ការប្រើប្រាស់សម្ភារឧបទេសរបស់ SEAL / VVOB**

គ្មានសម្ភារឧបទេស SEAL / VVOB ក្នុងមេរៀននេះទេ។



**បង្ហើយ ការដាក់ពិន្ទុ និងការវិនិច្ឆ័យការសម្រេចបានរបស់សិស្ស**

១. ខ្យល់មិនមានគ្រប់កន្លែងក្នុងបរិយាកាសទេ គឺវាមានតែនៅជុំវិញជិតផែនដីតែប៉ុណ្ណោះ។ ស្រទាប់បរិយាកាសដែលនៅ ជាប់នឹងផែនដីហៅថា មណ្ឌលអាកាសចល់ ដែលមានខ្យល់សម្រាប់ដំណកដង្ហើម។ នៅក្នុងលម្អខាងក្រៅ គ្មានខ្យល់ សម្រាប់ដកដង្ហើមទេ ដូច្នេះ អ្នកអាវកាសត្រូវការបំពង់ខ្យល់ជាប់ខ្លួន សម្រាប់ដកដង្ហើម។ (10 ពិន្ទុ)

**ការដាក់ពិន្ទុ:** 10 ពិន្ទុ = សិស្សឆ្លើយត្រូវអត្ថន័យនៃពាក្យគន្លឹះ: នៅក្នុងលម្អអាកាសគ្មានខ្យល់ (អុកស៊ីសែន) សម្រាប់ដកដង្ហើម  
0 ពិន្ទុ = សិស្សឆ្លើយមិនត្រូវអត្ថន័យនៃពាក្យគន្លឹះ

២. ទៀនឆេះបានរយៈពេលតិចជាងមុន ព្រោះដង្ហើមចេញមានបរិមាណអុកស៊ីសែនតិច និងកាបូនឌីអុកស៊ីតច្រើន (អុកស៊ីសែនមានប្រហែល 18% និងឧស្ម័នកាបូនឌីអុកស៊ីត 3%)។ (10 ពិន្ទុ)

**ការដាក់ពិន្ទុ:** 10 ពិន្ទុ = សិស្សឆ្លើយត្រូវអត្ថន័យនៃពាក្យគន្លឹះ: ទៀនឆេះបានរយៈពេលខ្លីជាងមុន  
0 ពិន្ទុ = សិស្សឆ្លើយមិនត្រូវអត្ថន័យនៃពាក្យគន្លឹះ

៣. ខ្យល់ត្រជាក់មានដង់ស៊ីតេ 1.3g/L ប៉ុន្តែខ្យល់ក្តៅមានដង់ស៊ីតេ 1.2g/Lដូច្នេះ ខ្យល់ក្តៅស្រាលជាងខ្យល់ត្រជាក់ នាំឱ្យ ខ្យល់ក្តៅស្ថិតនៅខាងលើ ខ្យល់ត្រជាក់ស្ថិតនៅខាងក្រោម។ (5 ពិន្ទុ)

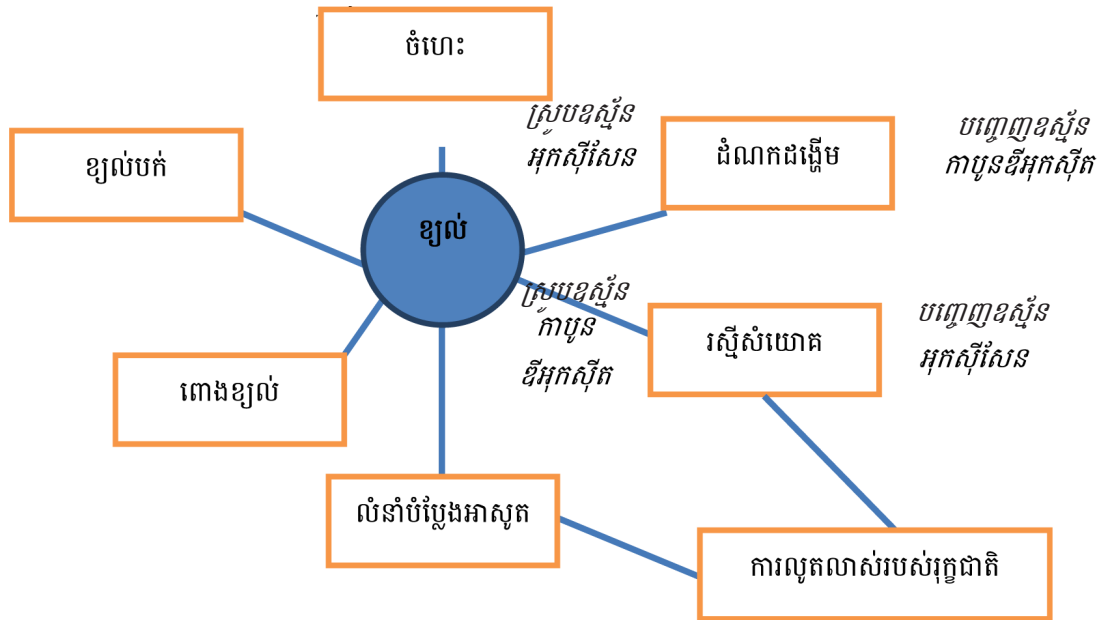
**ការដាក់ពិន្ទុ:** 5 ពិន្ទុ = សិស្សឆ្លើយត្រូវអត្ថន័យនៃពាក្យគន្លឹះ: (១) ខ្យល់ក្តៅស្ថិតនៅខាងលើខ្យល់ត្រជាក់ (២) ខ្យល់ក្តៅស្រាលជាង ខ្យល់ត្រជាក់(ដង់ស៊ីតេ)។  
2 ពិន្ទុ = សិស្សឆ្លើយត្រូវអត្ថន័យមួយក្នុងចំណោមពាក្យគន្លឹះទាំងពីរ  
0 ពិន្ទុ = សិស្សឆ្លើយមិនត្រូវអត្ថន័យនៃពាក្យគន្លឹះ

៤. ក. (កាបូនឌីអុកស៊ីត)                      ខ. អាសូត                      គ. អុកស៊ីសែន                      ឃ. អាកុង                      (10 ពិន្ទុ)

**ការដាក់ពិន្ទុ:** 2.5 ពិន្ទុ = សិស្សឆ្លើយសំណួរត្រូវមួយ  
0 ពិន្ទុ = សិស្សឆ្លើយមិនត្រូវ  
10 ពិន្ទុ = សិស្សឆ្លើយសំណួរត្រូវទាំងអស់

៥. ខ្យល់មានសារសំខាន់ណាស់សម្រាប់ដំណកដង្ហើមរបស់ភារវស់ និងចំហេះផ្សេងៗ ដោយសារវត្តមានរបស់ឧស្ម័នអុកស៊ីសែន។ វត្តមានឧស្ម័នកាបូនឌីអុកស៊ីតបានជួយឱ្យមានលំនាំរស្មីសំយោគរបស់រុក្ខជាតិ។ រុក្ខជាតិត្រូវការសមាសធាតុអាសូតដើម្បីលូតលាស់ក្នុងទម្រង់ជាដី។ ចលនារបស់ខ្យល់នាំឱ្យមានលំនឹងអាកាសធាតុ (ចលនាខ្យល់បក់ សម្ពាធខ្យល់ ភ្លៀង...)។

(30 ពិន្ទុ)



**ការដាក់ពិន្ទុ៖** 10 ពិន្ទុ = សិស្សឆ្លើយសំណួរត្រូវការណ៍នីមួយៗ (១)អុកស៊ីសែនជួយដល់ដំណកដង្ហើម ឬចំហេះ (២)កាបូនឌីអុកស៊ីតជួយដល់រស្មីសំយោគរបស់រុក្ខជាតិ (៣) អាសូតជួយដល់ការលូតលាស់របស់រុក្ខជាតិ។

30 ពិន្ទុ = សិស្សឆ្លើយសំណួរត្រូវទាំងអស់

0 ពិន្ទុ = សិស្សឆ្លើយមិនត្រូវទាំងអស់

**លក្ខណៈវិនិច្ឆ័យការសម្រេចបានរបស់សិស្ស**

សិទ្ធិ	<b>លក្ខណៈវិនិច្ឆ័យ និងការផ្តល់យោបល់ចំពោះគ្រូបង្រៀន</b>
0 - 31	សិស្សនៅមិនទាន់មានចំណេះដឹងមូលដ្ឋានគ្រប់គ្រាន់នៅឡើយ ដូច្នេះគ្រូត្រូវពន្យល់សិស្សពីមូលដ្ឋានវិទ្យាសាស្ត្រស្តីពីខ្យល់ឡើងវិញ តាមខ្លឹមសារខ្លះដែលមាននៅបឋមសិក្សា ដូចជា ដំណកដង្ហើម ចំហេះ និងរស្មីសំយោគ។
14 - 25	សិស្សមានចំណេះដឹងមូលដ្ឋានគ្រប់គ្រាន់ ប៉ុន្តែមិនទាន់យល់ច្បាស់ពីខ្លឹមសារមេរៀនស្តីពីខ្យល់នៅឡើយទេ។ គ្រូត្រូវជួយបំផុសឱ្យសិស្សបង្កើតផែនទីគំនិតអំពីខ្យល់បន្ថែមទៀត។
26 - 35	សិស្សមានចំណេះដឹងមូលដ្ឋានគ្រប់គ្រាន់ និងបានយល់នូវខ្លឹមសារមេរៀនស្តីពីខ្យល់កម្រិតមធ្យម ប៉ុន្តែពួកគេត្រូវការចាំបាច់សិក្សាឈ្នួងយល់ឱ្យបានច្រើនជាងនេះទៀត។
36 - 50	សិស្សបានយល់ច្បាស់លាស់អំពីខ្លឹមសារមេរៀន។

## មេរៀនទី២

## ធាតុកង្វះខ្យល់

### វត្ថុបំណង

តាមសៀវភៅសិក្សាគោល បន្ទាប់ពីរៀនមេរៀននេះសិស្ស៖

- ពណ៌នាពីឈ្មោះធាតុកង្វះខ្យល់
- ពណ៌នាពីប្រភេទធាតុកង្វះខ្យល់ និងឥទ្ធិពលវា
- មានស្មារតីថែរក្សាបរិស្ថាន
- ពណ៌នាពីផលធ្លុះកញ្ចក់។

### ផែនការបង្រៀន

មេរៀននេះត្រូវបង្រៀន ៦ ម៉ោងសិក្សា ដូចបង្ហាញនៅក្នុងតារាងខាងក្រោម ទៅតាមលំដាប់លំដោយនៃមេរៀន។ ទោះជាយ៉ាងណាក៏ដោយ គ្រូបង្រៀនអាចប្រើប្រាស់ទេពកោសល្យ ភាពទន់ភ្លន់ និងបត់បែនរបស់ខ្លួន ច្នៃប្រឌិតការ បង្រៀនទៅតាមកម្រិតយល់ដឹងរបស់សិស្ស និងស្ថានភាព តាមថ្នាក់ជាក់ស្តែង ដើម្បីសម្របសម្រួលទៅនឹងសកម្មភាពបង្រៀន និងរៀនដែលបានស្នើនៅក្នុងការណែនាំនេះ។

តារាងទី១ ចំណងជើងរង និងបំណែងចែកម៉ោងបង្រៀន

ចំនួនម៉ោងសិក្សា	ចំណងជើងរងនៃមេរៀន	ទំព័រ
1	1. កង្វះខ្យល់	142
1	2. ធាតុកង្វះខ្យល់ និងប្រភព	143
1	3. ឥទ្ធិពលមនុស្សទៅលើបរិស្ថាន 3.1 កំណើនកម្ដៅនៅលើផែនដី 3.2 ភ្លៀងអាស៊ីត	144-145
1	3.3 ការស្លឹងស្រទាប់អូសូន 3.4 ការសម្អាតខ្យល់	145-146
1	4. ផលនៃផ្ទះកញ្ចក់	146-147
1	សង្ខេបមេរៀន សំណួរ	148-149

**សេចក្តីណែនាំសម្រាប់ការបង្រៀន**

តារាងខាងក្រោមបង្ហាញពីវត្ថុបំណង សកម្មភាពបង្រៀន-រៀន និងរង្វាយតម្លៃតាមបំណែងចែកម៉ោងបង្រៀននីមួយៗ។ គ្រូបង្រៀនរំពឹងថានឹងអនុវត្តសកម្មភាពបង្រៀន និងរៀនដូចមានរៀបរាប់ក្នុងតារាងនេះ និងវាយតម្លៃលទ្ធផលសិក្សារបស់សិស្សតាមលក្ខណៈវិនិច្ឆ័យសមស្រប។ សិស្សនឹងមានឱកាសអនុវត្តសកម្មភាពផ្សេងៗ ដើម្បីសិក្សាល្បឿនយល់ពីកង្វះខាតខ្លួន។

**តារាងទី២ ផែនការបង្រៀន និងរង្វាយតម្លៃ**

ចំនួនម៉ោងសិក្សា	វត្ថុបំណង	សកម្មភាព	លទ្ធផលរង្វាយតម្លៃ
1	បំផុសគំនិតស្តីពីកង្វះខាត (បរិយាកាស) ។	សិស្សពិភាក្សាគ្នាអំពីកង្វះខាតក្នុងជីវភាពប្រចាំថ្ងៃ និងផលប៉ះពាល់របស់វាចំពោះមនុស្ស និងបរិស្ថានធម្មជាតិ	សិស្សបញ្ចេញយោបល់របស់គេស្តីពីកង្វះខាតបានផុសផុល។
1	កំណត់បាននូវប្រភេទឧស្ម័នកង្វះខាត ។	សិស្សពិភាក្សាគ្នាដើម្បីកំណត់ប្រភេទឧស្ម័នកង្វះខាត។	សិស្សកំណត់បានឧស្ម័នមួយចំនួនដែលបង្កឱ្យមានកង្វះខាតបានត្រឹមត្រូវ។
1	ពន្យល់ពីការកើនកម្ដៅផែនដី និងការបង្កជាភ្លៀងអាស៊ីត។	សិស្សធ្វើការជាក្រុម ដើម្បី៖ -ល្បឿនយល់អំពីមូលហេតុនៃការកើនកម្ដៅផែនដីដោយផលធ្លុះកញ្ចក់ និងវិវិធីដើម្បីកាត់បន្ថយការកើនកម្ដៅនេះ។ -ធ្វើតេស្តលក្ខណៈអាស៊ីត របស់អុកស៊ីតមួយចំនួនដូចជា ស្ពាន់ធ័រឌីអុកស៊ីត និងអាសូតអុកស៊ីតជាដើម ដែលជាឧស្ម័នកង្វះខាត និងដែលបង្កឱ្យមានភ្លៀងអាស៊ីត។	សិស្សពន្យល់បានពីមូលហេតុដែលនាំឱ្យកើនកម្ដៅផែនដី និងការបង្កឱ្យមានភ្លៀងអាស៊ីតបានត្រឹមត្រូវ។
1	ពន្យល់ពីមូលហេតុដែលធ្វើឱ្យស្រទាប់អូសូនស្ទើង និងគិតពីវិធីដើម្បីការពារកុំឱ្យមានកង្វះខាត។	សិស្សធ្វើការជាក្រុមស្តីពី៖ -ការស្ទើងនៃស្រទាប់អូសូន និងគ្រោះថ្នាក់ដែលបណ្តាលមកពីការស្ទើស្វាយអ៊ុលត្រាព័ព្រះអាទិត្យ -ការពារ និងកាត់បន្ថយកង្វះខាត	សិស្សពន្យល់បានពីមូលហេតុដែលធ្វើឱ្យស្រទាប់អូសូនស្ទើង និងរៀបរាប់ពីវិធីការពារកុំឱ្យមានកង្វះខាត និងរក្សាខ្យល់ឱ្យល្អបរិសុទ្ធបានត្រឹមត្រូវ។
1	ពន្យល់ពីផលធ្លុះកញ្ចក់ដែលនាំឱ្យមានការកើនឡើងនូវកម្ដៅផែនដី។	សិស្សធ្វើការជាក្រុម ដើម្បីពិភាក្សាពី៖ -ផលធ្លុះកញ្ចក់ដែលជាកត្តានាំឱ្យផែនដីកើនកម្ដៅ។ -ផលប៉ះពាល់ដែលបណ្តាលមកពីផលធ្លុះកញ្ចក់ -ទប់ស្កាត់ ឬកាត់បន្ថយផលប៉ះពាល់ដែលបណ្តាលមកពីផលធ្លុះកញ្ចក់	សិស្សពន្យល់ពីផលធ្លុះកញ្ចក់ ផលប៉ះពាល់ និងវិធីកាត់បន្ថយផលប៉ះពាល់ដែលបណ្តាលមកពីផលធ្លុះកញ្ចក់បានត្រឹមត្រូវ។
1	សង្ខេប និងឆ្លើយសំណួរមេរៀន។	សិស្សសង្ខេបពីអ្វីដែលគេបានរៀន និងឆ្លើយសំណួរនៅក្នុងសៀវភៅសិក្សាគោល ជាក្រុម ឬជាបុគ្គល។	សិស្សសង្ខេប និងឆ្លើយសំណួរនៅក្នុងមេរៀននេះបានត្រឹមត្រូវ។

### ចំណុចសំខាន់ៗនៃការបង្រៀន

បញ្ហាបរិស្ថានមានទំនាក់ទំនងជាមួយវិទ្យាសាស្ត្រ សេដ្ឋកិច្ច និងនយោបាយ។ លើសពីនេះទៅទៀត ករណីខ្លះគឺបណ្តាលមកពីបញ្ហាក្នុងតំបន់ និងពិភពលោកទាំងមូល។ ដូច្នេះ ចំណេះដឹងវិទ្យាសាស្ត្រ ពិតជាមានសារៈសំខាន់ណាស់សម្រាប់ដោះស្រាយបញ្ហាទាំងនេះ។

នៅកម្រិតថ្នាក់ទី ១ សិស្សនឹងរៀនអំពីអាស៊ីត ដូច្នេះនៅក្នុងមេរៀននេះ គ្រូអាចបង្ហាញអំពីខ្លឹមសារមួយចំនួនដែលជាសមាសធាតុកង្វះខាត ហើយដែលអាចបង្កជាគ្រឿងអាស៊ីត ដូចជាស្ថាន់ធុរអុកស៊ីត អាសូតអុកស៊ីតជាដើម។ គ្រូអាចប្រើខ្លឹមសារបន្ថែមទាក់ទងនឹងគ្រឿងអាស៊ីត ស្រទាប់អូសូន និងផលធ្លុះកញ្ចក់ ដូចមានបង្ហាញនៅក្នុងសៀវភៅណែនាំនេះ ដើម្បីជាទុនបន្ថែមក្នុងការបង្រៀនសិស្ស។

### ចំណេះដឹងមូលដ្ឋានសម្រាប់មេរៀននេះ

នៅចំណុចផ្តើមក្នុងម៉ោងសិក្សានីមួយៗ គ្រូបង្រៀនត្រូវពិនិត្យមើលចំណេះដឹងមូលដ្ឋាន ឬបទពិសោធន៍ប្រចាំថ្ងៃរបស់សិស្ស ពាក់ព័ន្ធនឹងខ្លឹមសារមេរៀនថ្មីដែលត្រូវបង្រៀន។

**កង្វះខាត** បណ្តាលមកពីវត្តមានសារធាតុកង្វះនៅក្នុងបរិយាកាស។ កង្វះខាតអាចបណ្តាលឱ្យមនុស្ស សត្វមានជំងឺ និងរុក្ខជាតិលូតលាស់មិនបានល្អ។ វាក៏អាចធ្វើឱ្យស្រទាប់អូសូនខូចខាតផងដែរ ដែលជាបញ្ហាចម្បងបង្កឱ្យមានគ្រោះថ្នាក់ធ្ងន់ធ្ងរដល់មនុស្ស សត្វ និងរុក្ខជាតិនៅលើផែនដី។

**សារធាតុកង្វះខាត** គឺជាសារធាតុដែលមានវត្តមាននៅក្នុងខ្យល់លក្ខណៈជាអង្គធាតុរឹង រាវ និងឧស្ម័ន។ វាមានវត្តមានក្នុងបរិយាកាសដោយសារការបញ្ចេញចោលនៃផលិតផលចំហេះផ្សេងៗ ដោយសកម្មភាពមនុស្ស និងប្រតិកម្មក្នុងបរិយាកាសខ្លួនឯង។ ស្ថាន់ធុរអុកស៊ីត SO<sub>x</sub> (SO<sub>2</sub> និងSO<sub>3</sub>) កើតឡើងដោយសារបន្ទុះភ្នំភ្លើង និងលំនាំឧស្សាហកម្មផ្សេងៗ។ សមាសធាតុស្ថាន់ធុរអុកស៊ីតមានវត្តមាននៅក្នុងផ្សែងថ្ម និងប្រេងឆៅផងដែរ ដែលចំហេះរបស់វាផ្តល់ឧស្ម័នស្ថាន់ធុរអុកស៊ីតចូលក្នុងបរិយាកាស ។ អាសូតអុកស៊ីត NO<sub>x</sub> (NO, NO<sub>2</sub>, ...) កើតឡើងតាមរយៈប្រតិកម្មរវាងឧស្ម័នអាសូត និងអុកស៊ីសែនក្នុងបរិយាកាសក្រោមលក្ខខណ្ឌសីតុណ្ហភាពខ្ពស់ខ្លាំងពីបាតុភូតរន្ទះ ចំហេះម៉ាស៊ីន និងចង្ក្រានឧស្ម័នជាដើម។ ឧស្ម័នស្ថាន់ធុរអុកស៊ីត និងអាសូតអុកស៊ីតជាឧស្ម័នចម្បងដែលបង្កឱ្យមានគ្រឿងអាស៊ីត។ ក្នុងបរិយាកាស ឧស្ម័នទាំងពីរប្រភេទនេះបានរលាយចូលក្នុងទឹកគ្រឿងបង្កើតជាគ្រឿងអាស៊ីត ( pH<6.5) ដែលអាចបង្កឱ្យមានគ្រោះថ្នាក់ដល់ជីវិតសត្វ រុក្ខជាតិ និងសំណង់ផ្សេងៗ។ សារធាតុកង្វះខាតមានទំហំផ្សេងៗពីគ្នា។ សារធាតុដែលមានទំហំតូចជាង 10μm អាចស្រូបចូលទៅក្នុងសួតតាមរយៈដំណកដង្ហើម និងអាចបង្កឱ្យកើតជំងឺផ្សេងៗដូចជា ជំងឺបេះដូង និងជំងឺមហារីកសួត។

**ស្លុកផ្សព្វផ្សាយ** (Photochemical smog) កើតឡើងដោយសារសកម្មភាពកាំរស្មីព្រះអាទិត្យទៅលើសារធាតុកង្វះខាតក្នុងបរិយាកាសដូចជា NO<sub>x</sub>, C<sub>x</sub>H<sub>y</sub>, និងCO ដែលជាផលិតផលដំបូងនៃចំហេះរថយន្ត និងគ្រឿងម៉ាស៊ីនផ្សេងៗ រួមទាំងឧស្ម័នអូសូនដែលនៅជិតផែនដីផងដែរ។ ឧស្ម័នអូសូនអាចត្រូវបានផលិតឡើងពីប្រតិកម្មរវាង NO<sub>x</sub> និងC<sub>x</sub>H<sub>y</sub> ដែលជាផលិតផលដំបូងនៃចំហេះ ក្រោមមជ្ឈដ្ឋានពន្លឺព្រះអាទិត្យ។ ឧស្ម័នអូសូនគឺជាសារធាតុកង្វះខាតចម្បងនៃបរិយាកាស ព្រោះវាជាឧស្ម័នពុល ប៉ុន្តែវាជាសារធាតុសំខាន់សម្រាប់បង្កជាស្រទាប់អូសូន។

**កាបូនម៉ូណូអុកស៊ីត** (CO) ជាឧស្ម័នគ្មានពណ៌ គ្មានក្លិន និងពុលខ្លាំង។ វាត្រូវបានបង្កឡើងដោយសារចំហេះឥន្ធនៈ ដូចជាឧស្ម័នធម្មជាតិ ផ្សែងថ្ម និងឈើជាដើម។ បំពង់ផ្សែងរថយន្តជាប្រភពចម្បងនៃឧស្ម័នកាបូនម៉ូណូអុកស៊ីត។

**អ៊ីដ្រូកាបូ** (C<sub>x</sub>H<sub>y</sub>) ភាគច្រើនជាចំហាយសមាសធាតុសរីរាង្គ ដែលជាឧស្ម័នផ្ទះកញ្ចក់ដ៏សំខាន់។ មេតាន (CH<sub>4</sub>) បង្កឡើងដោយប្រតិកម្មបំបែកក្រោមសកម្មភាពមីក្រូសារពាង្គកាយ និងដោយលំនាំរលាយអាហាររបស់សត្វផ្សេងៗ។

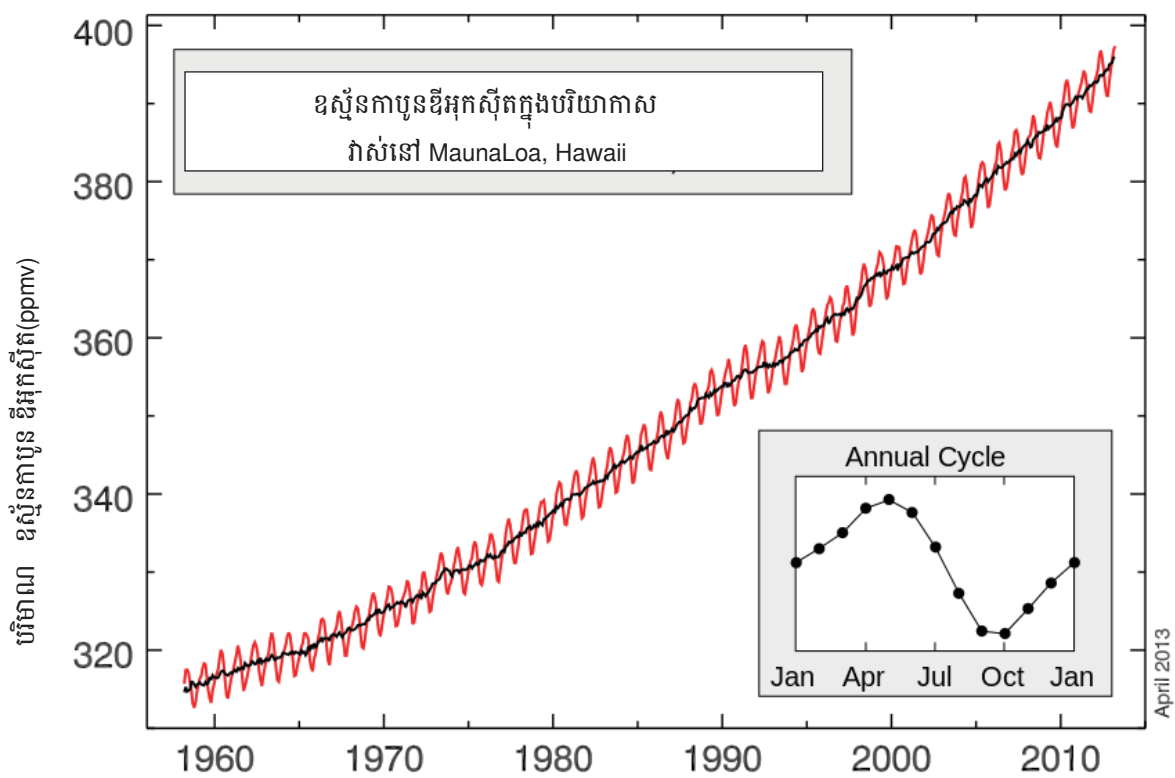
**សំណរតេត្រាអេទីល**, Pb(C<sub>2</sub>H<sub>5</sub>)<sub>4</sub> ត្រូវបានគេប្រើដើម្បីលាយនៅក្នុងប្រេងឥន្ធនៈ តាំងពីទសវត្សរ៍ 1920 ដែលជាភ្នាក់ងារជួយបង្កើនចំហេះ ប៉ុន្តែសំណរតេត្រាអេទីល ដែលអាចប្រាច់ចូលទៅក្នុងរាងកាយមនុស្ស និងបង្កជាជំងឺ ជាពិសេសក្មេងៗ។ សព្វថ្ងៃនេះគេពុំអនុញ្ញាតឱ្យប្រើសមាសធាតុសំណរតេត្រាអេទីលនៅក្នុងប្រេងឥន្ធនៈទៀតទេ។

**ឥស្សីយអ៊ីកាបូន (CFCs)** ជាសារធាតុដែលផ្សំពីធាតុក្លរ ក្លរូអ៊ីន និងកាបូន ឧទាហរណ៍ ឥស្សីយអ៊ីកាបូនមេតាន (CCl<sub>2</sub>F<sub>2</sub>) ត្រូវបានគេប្រើជាភ្នាក់ងារត្រជាក់នៅក្នុងម៉ាស៊ីនត្រជាក់។ វាជាសារធាតុដ៏មានសុវត្ថិភាពដល់សុខភាពមនុស្ស ព្រោះវាមិនពុល និងមិនឆេះ អសកម្មគីមី។ បញ្ហាធ្ងន់ធ្ងររបស់ CFCs គឺដោយសារតែវាអសកម្មគីមីខ្លាំងពេក ដែលអាចនៅបានរហូតដល់ប្រហែល 100 ឆ្នាំក្នុងបរិយាកាស។ ក្រៅអំពីជាឧស្ម័នផ្ទះកញ្ចក់ CFCs អាចរាយទៅក្នុងស្រទាប់បរិយាកាសដ៏ខ្ពស់ និងអាចត្រូវបានបំបែកទៅជាអាតូមក្លរូសេរីក្រោមថាមពលព្រះអាទិត្យ។ អាតូមក្លរូសេរីនេះជាអ្នកបំផ្លាញស្រទាប់អូសូន (Cl + O<sub>3</sub> → ClO + O<sub>2</sub>)។ ការបាត់បង់ស្រទាប់អូសូន អាចធ្វើឱ្យកាំរស្មីស្វាយអ៊ុលត្រាវាយប្រហារប្រះអាទិត្យចាំងចូលមកដល់ផែនដី ធ្វើឱ្យជីវិតសត្វ និងរុក្ខជាតិត្រូវបំផ្លាញ។ ហេតុដូច្នេះហើយ នៅចុងទសវត្សរ៍ 1970 ការប្រើប្រាស់ CFCs ត្រូវបានហាមឃាត់។

**ឧស្ម័នផ្ទះកញ្ចក់** ជាប្រភេទឧស្ម័ននៅក្នុងបរិយាកាសជុំវិញផែនដី ដែលជាភ្នាក់ងារធ្វើឱ្យផែនដីកើនកម្ដៅ។ ពន្លឺដែលបញ្ចេញពីព្រះអាទិត្យ បានបំប្លែងជាថាមពលកម្ដៅដែលមួយចំនួនត្រូវស្រូបដោយផែនដី មួយចំនួនត្រូវផ្លាតពីផែនដីត្រឡប់ចូលក្នុងលំហបរិយាកាសវិញ។ ធាតុភូតនេះធ្វើឱ្យផែនដីកើនកម្ដៅ ដោយសារការបញ្ចេញកាំរស្មីអាំងហ្វ្រាក្រហម (Infrared)។ ឧស្ម័នមួយចំនួនដែលនៅក្នុងបរិយាកាសដូចជា កាបូនឌីអុកស៊ីត និងមេតាន មិនស្រូបថាមពលពន្លឺមើលឃើញ (Visible light) ឬកាំរស្មីស្វាយអ៊ុលត្រាពីព្រះអាទិត្យទេ ប៉ុន្តែវាស្រូបថាមពលពន្លឺអាំងហ្វ្រាក្រហមដែលបញ្ចេញដោយផែនដី។ ធាតុភូតនេះ ធ្វើឱ្យកម្ដៅត្រូវបានរក្សានៅក្នុងបរិយាកាសជុំវិញផែនដី។ ផលកម្ដៅក្នុងបរិយាកាសដែលផ្តល់ដោយធាតុភូតនេះហៅថា ផលផ្ទះកញ្ចក់។ បើបរិមាណឧស្ម័នទាំងនោះមានបរិមាណកាន់តែច្រើនក្នុងបរិយាកាស នោះកម្ដៅនឹងត្រូវរក្សានៅក្នុងបរិយាកាសកាន់តែច្រើន ដែលជាហេតុនាំឱ្យផែនដីកើនកម្ដៅ។ ឧស្ម័នទាំងនេះហៅថា *ឧស្ម័នផ្ទះកញ្ចក់* ព្រោះវាដើរតួដូចជាកញ្ចក់ដែលអាចការពារកម្ដៅមិនឱ្យភាយចេញពីបរិយាកាសបាន។ តារាងខាងក្រោមបង្ហាញ អំពីសមាសភាព និងបរិមាណឧស្ម័នផ្ទះកញ្ចក់ក្នុងបរិយាកាស និងសមត្ថភាពរក្សាកម្ដៅរបស់វានីមួយៗធៀបនឹងឧស្ម័នកាបូនឌីអុកស៊ីត។

ឧស្ម័ន	បរិមាណក្នុងបរិយាកាស (%គិតជាមាឌ)	សមត្ថភាពរក្សាកម្ដៅ (ចំនួនដងធៀប CO <sub>2</sub> )
N <sub>2</sub>	78	0
O <sub>2</sub>	21	0
Ar	1	0
H <sub>2</sub> O (gas)	ប្រែប្រួលតាមតំបន់	0.1
CO <sub>2</sub>	0.04	1.0
CH <sub>4</sub>	0.0002	20
CCl <sub>2</sub> F <sub>2</sub>	0.00000005	8100

ឧស្ម័នកាបូនឌីអុកស៊ីតជាសារធាតុកង្វះចម្បង ដែលបង្កឱ្យកើនកម្ដៅនៅលើផែនដី ដោយសារវាត្រូវបានផលិតយ៉ាងច្រើនជាបន្តបន្ទាប់តាមរយៈចំហេះឆ្កែងៗ។ លទ្ធផលនៃការកើនកម្ដៅផែនដី បានបណ្តាលឱ្យមានការប្រែប្រួលអាកាសធាតុបង្កឱ្យមានគ្រោះធម្មជាតិជាច្រើនដូចជា ទឹកកកតំបន់ប៉ូលរលាយខ្លាំង ការកើនកម្រិតទឹកសមុទ្រ ទឹកជំនន់ ព្យុះ ការប្រែប្រួលកម្ដៅ(ជួនក្តៅខ្លាំងជួនត្រជាក់ខ្លាំង) ភ្លៀងធ្លាក់មិនប្រក្រតី ភាពរាំងស្ងួត អគ្គិភ័យ ជាដើម។ កត្តានេះ ធ្វើឱ្យប្រទេសជាច្រើននៅលើពិភពលោកកំពុងចាត់វិធានការទប់ស្កាត់ការកើនកម្ដៅផែនដី តាមរយៈការកាត់បន្ថយការបញ្ចេញឧស្ម័នផ្ទះកញ្ចក់ចូលទៅក្នុងបរិយាកាស។



ខ្សែកោងបង្ហាញពីកំណើនបរិមាណឧស្ម័នកាបូនឌីអុកស៊ីតក្នុងបរិយាកាស

**ធាតុកង្វះខាត**



**វត្តមាន**

បំផុសគំនិតស្តីពីកង្វះខាត  
ខ្យល់ (បរិយាកាស) ឱ្យបានផុសផុល។

**សកម្មភាពបង្រៀន និងរៀន**



**សំណួរ**

តើកង្វះខាតជាអ្វី? តើខ្យល់ដែលយើង  
ដកដង្ហើមសព្វថ្ងៃ រងនូវបញ្ហាកង្វះខាតដែរ  
ឬទេ? ហេតុអ្វី?



គ្រូឱ្យសិស្សពិភាក្សាគ្នាជាក្រុម រៀប  
រាប់អំពីអ្វីដែលពួកគេបានជួបប្រទះ ប្រចាំ  
ថ្ងៃ និងមូលហេតុផ្សេងៗ ដែលនាំឱ្យខ្យល់  
មានភាពកខ្វក់។

- គ្រូឱ្យសិស្សតាមក្រុមឡើងធ្វើបទបង្ហាញ  
អំពីគំនិតរបស់ក្រុមគេនីមួយៗ។

- គ្រូសង្ខេបរួម៖ កង្វះខាតគឺជាដំណើរ  
ដែលនាំឱ្យខ្យល់មិនមានភាពបរិសុទ្ធ ដោយ  
សារវត្ថុមានសារធាតុមិនល្អផ្សេងៗ នៅក្នុង  
ខ្យល់។ សព្វថ្ងៃកង្វះខាតមានដូចជា ដីហុយ  
ផ្សែងចេញពីចំហេះផ្សេងៗដូចជា ឡាន ម៉ូតូ  
រោងចក្រ។ល។ កង្វះខាតអាចបង្កគ្រោះថ្នាក់  
ដល់មនុស្ស សត្វ រុក្ខជាតិ។

**មេរៀន**

**2**

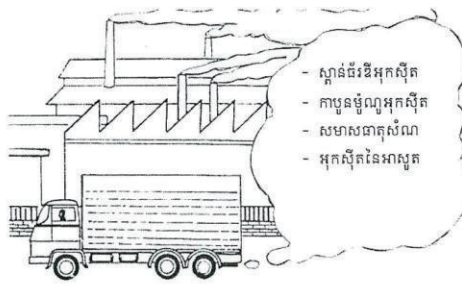
**ធាតុកង្វះខាត**

**ចប់មេរៀននេះ សិស្សអាច**

- ពណ៌នាពីឈ្មោះធាតុកង្វះខាត
- ពណ៌នាពីប្រភពធាតុកង្វះខាត និងឥទ្ធិពលវា
- មានស្មារតីថែរក្សាបរិស្ថាន
- ពណ៌នាពីផលផ្ទះកញ្ជក់ ។

ខ្យល់បរិសុទ្ធជារួមធាតុមានសារៈសំខាន់ និងចាំបាច់សម្រាប់ការរស់រានរស់ ។

**1. កង្វះខាត**



ខ្យល់ដែលយើងដកដង្ហើមជាខ្យល់បរិសុទ្ធ ប៉ុន្តែករណីខ្លះក៏មិនបរិសុទ្ធដែរ ។ ឧទាហរណ៍ :  
ខ្យល់ក្នុងទីក្រុង ឬខ្យល់នៅតំបន់ដែលមានរោងឧស្សាហកម្ម . . . ។ កង្វះខាតបណ្តាលមកពីមានវត្ថុ  
មានសារធាតុមិនល្អផ្សេងៗ និងមានគ្រោះថ្នាក់នៅក្នុងខ្យល់ ។ សារធាតុទាំងនេះហៅថា “ សារធាតុ  
ពុល ” ។ សារធាតុពុលនោះអាចជាឧស្ម័នឬភាគល្អិតនៃអង្គធាតុរឹងដែលធ្វើឱ្យ កង្វះខាត ។ សារធាតុ  
ពុលភាគច្រើនបណ្តាលមកពីលទ្ធផលនៃសកម្មភាពរបស់មនុស្ស ។ កង្វះខាតបរិយាកាសក្នុងទីក្រុងខ្លះមាន  
សភាពធ្ងន់ធ្ងរណាស់ដែលបណ្តាលមកពីផ្សែងយានយន្ត ឬផ្សែងរោងចក្រ ។



**ចំណេះដឹងបន្ថែម**

កង្វះខាតកើតឡើងដោយសារវត្ថុមាននៃសារធាតុមិនល្អនៅក្នុងបរិយាកាស។ សារធាតុកង្វះខាតទាំងនោះអាចបណ្តាល  
ឱ្យមានគ្រោះថ្នាក់ដល់មនុស្ស សត្វ រុក្ខជាតិនៅលើផែនដី។ កង្វះខាតក៏អាចជាមូលហេតុបណ្តាលឱ្យសីតុណ្ហភាពផែនដី  
ស្រទាប់អូស្តូន ដែលជាស្រទាប់សំខាន់ការពារផែនដីពីការស្លឹស្លាយអ៊ុលត្រាវីយ៉តរបស់ព្រះអាទិត្យផងដែរ។ មូលហេតុចម្បង  
ដែលបង្កឱ្យមានកង្វះខាតគឺបណ្តាលមកពីសកម្មភាពមនុស្ស។

ជំពូកទី៣ មេរៀនទី២

ដូច្នេះដើម្បីចៀសវាងដកដង្ហើមដោយខ្យល់ពុលនេះ យើងគប្បីពាក់ម៉ាស់ ឬស្រោមច្រមុះដែលមានតម្រង ។ ជាទូទៅកង្វះខ្យល់នៅតំបន់ទីក្រុង និងឧស្សាហកម្មខ្លាំងជាងនៅតំបន់ជនបទ ។ ផ្សែងយោធាមានផ្ទុកឧស្ម័នកាបូនម៉ូណូអុកស៊ីត និងសមាសធាតុសំណាជាប្រភពសំខាន់បំផុតនៃកង្វះខ្យល់ក្នុងទីក្រុង ។

2. ធាតុពុលក្នុងខ្យល់ និងប្រភព

2.1. ស្ថានៈជីវិតអុកស៊ីត

ជាសារធាតុម្យ៉ាងដែលវាយចេញពីចំហេះឥន្ធនៈ ដូចជាធុរ្យដុំ ប្រេងក្នុងរោងចក្រ ... ។ វាជាឧស្ម័នពុល ធ្វើឱ្យស្ទះដង្ហើម រលាកទងសួត និងធ្វើឱ្យរុក្ខជាតិលូតលាស់យឺតព្រមទាំងរលាយក្នុងទឹកភ្លៀង បង្កើតបានជាភ្លៀងអាស៊ីត ។

2.2. កាបូនម៉ូណូអុកស៊ីត

ជាឧស្ម័នគ្មានពណ៌ គ្មានក្លិន មានលក្ខណៈពុលខ្លាំង ។ វាកើតឡើងពីចំហេះមិនសព្វនៃប្រេងឥន្ធនៈ ។ បើសិននៅក្នុងខ្យល់មានបរិមាណឧស្ម័ននេះច្រើន វាបណ្តាលឱ្យមានគ្រោះថ្នាក់ដល់ជីវិត ។

2.3. សមាសធាតុសំណា


ជាភាគល្អិតនៃអង្គធាតុរឹង មានលក្ខណៈពុលខ្លាំង ។ គេបន្ថែមវាទៅក្នុងប្រេងសាំង ដើម្បីឱ្យម៉ាស៊ីនមានចំហេះល្អ ។ នៅក្នុងខ្យល់មានបរិមាណសមាសធាតុនេះច្រើនបណ្តាលឱ្យគ្រោះថ្នាក់ធ្ងន់ធ្ងរដល់ខួរក្បាលក្មេង ។

2.4. អាសូតអុកស៊ីត


ជាឧស្ម័នពុលពីបាក់ដកដង្ហើម ។ វាកើតឡើងនៅសីតុណ្ហភាពខ្ពស់ ក្នុងពេលម៉ាស៊ីនកំពុងដំណើរការ ។ វារលាយក្នុងទឹកភ្លៀងបង្កើតបានជាភ្លៀងអាស៊ីត ។


2.5. ឧស្ម័នក្លរូអ៊ីដ្រូកាបូន (CFCs)

សមាសធាតុនេះមាននៅក្នុងបំពង់បាញ់ថ្នាំសម្រាប់សត្វល្អិតឬទឹកអប់មួយចំនួន ។ គេប្រើវាជាមេត្រដាក់នៅក្នុងទូទឹកកក ។  
សមាសធាតុនេះធ្វើឱ្យស្រទាប់អូសូនស្តើងឬធ្លុះធ្លាយហើយបង្កឱ្យផែនដីកើនកម្ដៅ ។

 **វត្ថុបំណង**  
កំណត់បាននូវប្រភេទ ឧស្ម័នដែលនាំឱ្យកង្វះខ្យល់។

**សកម្មភាពបង្រៀន និងរៀន**

 **សំណួរ**  
តើកង្វះខ្យល់បង្កឡើងដោយសារធាតុអ្វីខ្លះ? មានប្រភពមកពីណាខ្លះ? និងអាចបណ្តាលឱ្យមានបញ្ហាអ្វីខ្លះ?

-  - គ្រូឱ្យសិស្សគិតជាបុគ្គល ឬជាក្រុម ដើម្បីបង្កើតសម្មតិកម្ម និងពន្យល់ពីគំនិតរបស់ពួកគេ។  
- គ្រូលើកយកសារធាតុពុលក្នុងខ្យល់មកពន្យល់ពីលក្ខណៈ ប្រភព និងផលប៉ះពាល់របស់វា ដូចមានបង្ហាញក្នុងខ្លឹមសារសៀវភៅគោល។  
- ឱ្យសិស្សគិតជាក្រុម ឬជាបុគ្គល ដើម្បីឆ្លើយសំណួរខាងក្រោម។

- ចូរផ្តល់ឧស្ម័ននីមួយៗខាងក្រោម ទៅនឹងផលប៉ះពាល់របស់វា៖
- |  |  |
|--|--|
| ១. ស្ថានៈជីវិតអុកស៊ីត(SO <sub>x</sub> )                              | ក. បង្កើនកម្ដៅផែនដី (ឧស្ម័នផ្ទះកញ្ចក់)                         |
| ២. អាសូតអុកស៊ីត(NO <sub>x</sub> )                                    | ខ. បង្កឱ្យកើតជំងឺសួត និងភ្លៀងអាស៊ីត                            |
| ៣. សំណាតេត្រាអេទីល(Pb(C <sub>2</sub> H <sub>5</sub> ) <sub>4</sub> ) | គ. មានផ្ទុកលោហៈពុល និងបង្កឱ្យប៉ះពាល់ដល់ខួរក្បាល                |
| ៤. កាបូនម៉ូណូអុកស៊ីត(CO)   | ឃ. ធ្វើឱ្យស្តើងស្រទាប់អូសូន                                    |
| ៥. កាបូនឌីអុកស៊ីត(CO <sub>2</sub> )                                  | ង. បង្កឱ្យគ្រោះថ្នាក់ដល់សុខភាពដូចជាបញ្ហាជំងឺបេះដូង និងសួត      |
| ៦. ក្លរូអ៊ីដ្រូកាបូន(CFCs)   | ច. ជាឧស្ម័នគ្មានពណ៌ គ្មានក្លិន និងគ្មានរសជាតិ ប៉ុន្តែពុលខ្លាំង |
| ៧. មេតាន(CH <sub>4</sub> )   |  |
- ចម្លើយ**
១. ខ និង ង      ២. ខ និង ង      ៣. គ      ៤. ច      ៥. ក      ៦. ឃ និង ក      ៧. ក



**វត្តមាន**

ពន្យល់ពីការកើនកម្ដៅផែនដីនិងការបង្កជាភ្លៀងអាស៊ីត។

**សកម្មភាពបង្រៀន និងរៀន**



**សំណួរ**

- តើការកើនកម្ដៅផែនដីបណ្ដាលមកពីអ្វី? មានផលប៉ះពាល់យ៉ាងដូចម្ដេចខ្លះ?
- តើភ្លៀងអាស៊ីតកើតឡើងយ៉ាងដូចម្ដេច? មានផលប៉ះពាល់អ្វីខ្លះ?



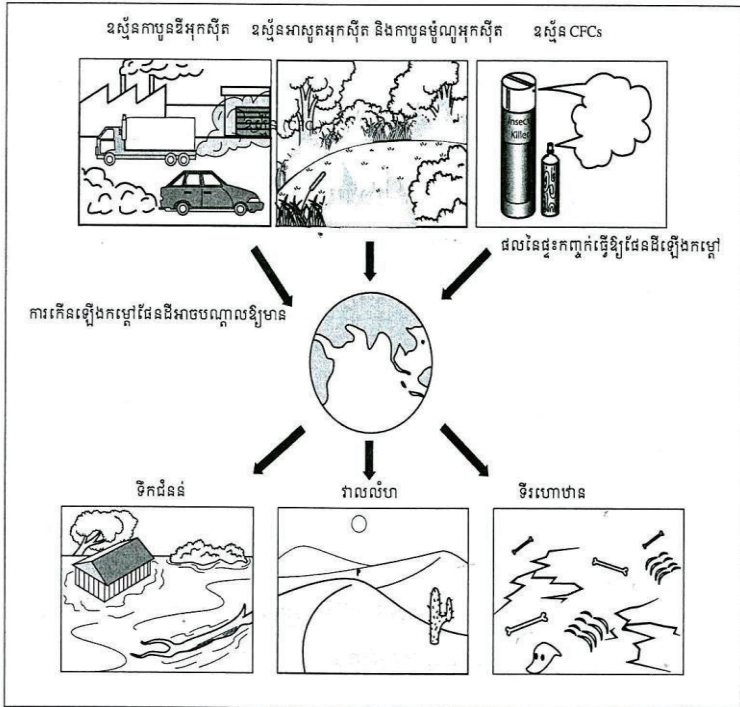
គ្រូឱ្យសិស្សគិតជាក្រុម ឬជាបុគ្គល ដើម្បីឆ្លើយសំណួរខាងលើ។ សិស្សអាចពិភាក្សាដោយប្រើប្រាស់រូបភាព និងខ្លឹមសារដូចមាននៅក្នុងសៀវភៅសិក្សាគោលនេះ (ទំព័រ144 និង145)។

- គ្រូពន្យល់បន្ថែម និងសង្ខេបខ្លឹមសារ ការកើនកម្ដៅផែនដី និងភ្លៀងអាស៊ីត ។ គ្រូអាចប្រើប្រាស់រូបភាពនៅក្នុងសៀវភៅសិក្សាគោល ឬរូបភាពផ្សេងទៀត។ ករណីការកើនកម្ដៅផែនដី គ្រូអាចបង្ហាញខ្សែកោងកំណើនឧស្ម័នកាបូនឌីអុកស៊ីតដូចមានបង្ហាញក្នុងទំព័រទី5 នៃសៀវភៅណែនាំនេះ និងពន្យល់ ដោយផ្សារភ្ជាប់ទំនាក់ទំនងនេះទៅនឹងការកើនកម្ដៅផែនដី។

**3. ឥទ្ធិពលបណ្ដាលនៃការកើនកម្ដៅផែនដី**

**3.1. កំណើនកម្ដៅនៅលើផែនដី**

អ្នកវិទ្យាសាស្ត្របានគិតថា ប្រសិនបើផែនដីកើនកម្ដៅកាន់តែខ្លាំងឡើង ទោះទឹកកកនៅតំបន់ប៉ូលនិងរលាយ បណ្ដាលឱ្យកម្ដៅសីតុណ្ហភាពកើន ហើយនាំឱ្យមានទឹកជំនន់លិចទីក្រុង ឬតំបន់ដែលនៅក្បែរមាត់សមុទ្រ ។ ម្យ៉ាងទៀតកម្រិតទឹកភ្លៀងយប់ចុះនៅតំបន់ខ្លះបានបង្កឱ្យមានភាពរាំងស្ងួត និងបង្កើតតំបន់វាលលំហ និងទិរហោឋានកាន់តែច្រើន ។



**3.2. ភ្លៀងអាស៊ីត**

ស្ពាន់ធុរឌីអុកស៊ីតនិងអាសូតអុកស៊ីតដែលបំភាយទៅក្នុងបរិយាកាស ដោយសារម៉ាស៊ីនផ្សេងៗ និងរោងឧស្សាហកម្ម ។ ឧស្ម័នពុលទាំងនេះដែលរលាយក្នុងទឹកភ្លៀងបង្កើតជា ភ្លៀងអាស៊ីត ដែលបង្កឱ្យមានគ្រោះថ្នាក់យ៉ាងខ្លាំងដល់បរិស្ថាន ។ ភ្លៀងអាស៊ីត ធ្វើឱ្យព្រៃឈើនិងត្រីក្នុងទន្លេ ស្ទឹង ចឹង . . . ស្លាប់ ហើយនិងអាចធ្វើឱ្យអគារ រូបសំណាកខូចខាត ។

144



**ចំណេះដឹងបន្ថែម**

**១. ការកើនកម្ដៅផែនដី** មានទំនាក់ទំនងទៅនឹងបរិមាណឧស្ម័នផ្ទះកញ្ចក់ក្នុងបរិយាកាស។ ឧស្ម័នផ្ទះកញ្ចក់ មាននាទីដូចជាកញ្ចក់ ការពារកម្ដៅមិនឱ្យចេញពីបរិយាកាស និងធ្វើឱ្យផែនដីកើនកម្ដៅ។ ឧស្ម័នផ្ទះកញ្ចក់រួមមាន CO<sub>2</sub>, CH<sub>4</sub>, CFCs ។ល។

**២. ភ្លៀងអាស៊ីត** គឺជាទឹកភ្លៀងដែលមានជាតិអាស៊ីត។ ចំហេះឥន្ធនៈបង្កើតបានជាឧស្ម័នស្ពាន់ធុរឌីអុកស៊ីត (SO<sub>x</sub>) និងអាសូតអុកស៊ីត (NO<sub>x</sub>)។ នៅពេលភ្លៀង ឧស្ម័នទាំងនេះរលាយក្នុងទឹកភ្លៀងបង្កើតជាអាស៊ីតក្នុងទឹកភ្លៀង (pH<6.5)។ ទឹកភ្លៀងដែលមានលក្ខណៈអាស៊ីតធ្វើឱ្យខូចខាតដល់រុក្ខជាតិ សត្វក្នុងទឹក និងសំណង់ផ្សេងៗ។

$$SO_3(g) + H_2O(l) \rightarrow H_2SO_4(aq) \quad 2NO_2(g) + H_2O(l) \rightarrow HNO_2(aq) + HNO_3(aq)$$

ពិសោធន៍៖ ប្រើស្បែងដែលមានជាតិទឹកបន្តិចត្រងយកផ្សែងពីបំពង់ផ្សែងម៉ូតូ រួចគ្រលុកឱ្យផ្សែងរលាយក្នុងទឹក។ ធ្វើតេស្តលក្ខណៈអាស៊ីត របស់សូលុយស្យុងទទួលបានក្នុងស្បែងដោយក្រដាស pH ឬទឹកស្កែត្តាបក្រហម។



**វត្តមាន**

ពន្យល់ពីមូលហេតុដែលធ្វើឱ្យស្រទាប់អូសូនស្តើង និងគិតពីវិធីដើម្បីការពារកុំឱ្យមានកង្វះខាតខ្យល់។

**សកម្មភាពបង្រៀន និងរៀន**



**សំណួរ**

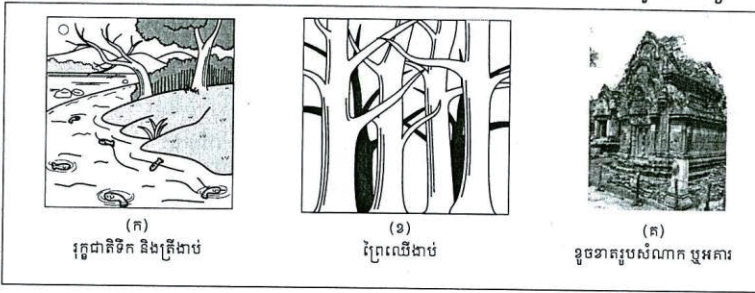
- តើអ្វីទៅជាស្រទាប់អូសូន? តើវាមានសារៈសំខាន់ដូចម្តេចចំពោះជីវិតលើផែនដី? តើសារធាតុអ្វីដែលអាចបំផ្លាញស្រទាប់អូសូនបាន?
- តើយើងត្រូវធ្វើដូចម្តេចខ្លះដើម្បី ធ្វើឱ្យខ្យល់មានភាពបរិសុទ្ធ?



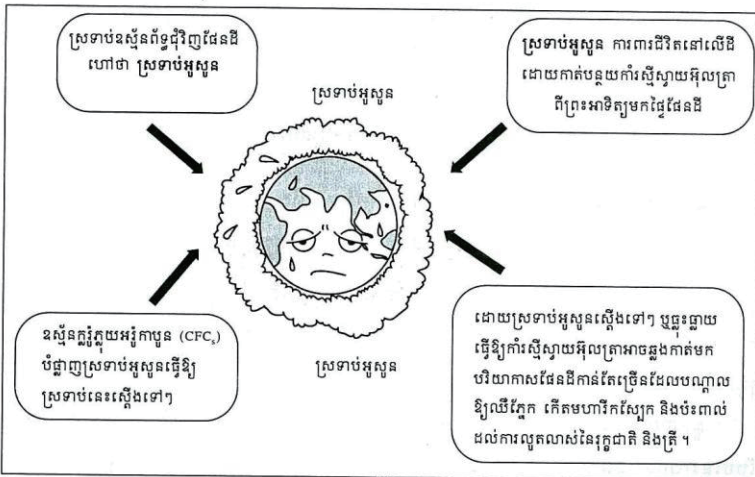
គ្រូឱ្យសិស្សពិភាក្សាជាក្រុម ដោយប្រើប្រាស់រូបភាព និងខ្លឹមសារក្នុងសៀវភៅគោល ឬឯកសារផ្សេងទៀត ដើម្បីឆ្លើយសំណួរខាងលើ។

- ក្រុមសិស្សនីមួយៗបង្ហាញចម្លើយរបស់ខ្លួន ក្រោមការសម្របសម្រួលពីគ្រូ។
- គ្រូធ្វើការបូកសរុបខ្លឹមសារ។

ជំពូកទី៣ មេរៀនទី២



**3.3. ការស្តើងស្រទាប់អូសូន**



ប្រហែល 25km នៅស្រទាប់អាកាសស្ងប់ គឺស្រទាប់អូសូនដែលជាស្រទាប់ការពារពន្លឺព្រះអាទិត្យ។ អូសូនជាទម្រង់មួយប្រភេទរបស់អុកស៊ីសែន ដែលមានរូបមន្ត  $O_3$  ។ ស្រទាប់នេះការពារយើងដោយស្រូបកម្មរស្មីស្វាយអ៊ុលត្រាដ៏គ្រោះថ្នាក់ពីព្រះអាទិត្យ។ កាលណាស្រទាប់អូសូនស្តើងទៅ ឬធ្លុះធ្លាយនោះ ការស្លឹស្លាយអ៊ុលត្រានេះនឹងឆ្លងកាត់មកដល់ផ្ទៃផែនដីដែលអាច :

- សម្លាប់រុក្ខជាតិសមុទ្រតូចៗដែលជាខ្សែអាហារគ្រឹះនៅក្នុងសមុទ្រ ដូច្នេះ ត្រីនិងសត្វសមុទ្រផ្សេងទៀតនឹងគ្មានអាហារ។
- ធ្វើឱ្យគ្រាប់រុក្ខជាតិមួយចំនួនមិនអាចដុះបាន នាំឱ្យខ្វះចំណីអាហារ។
- ធ្វើឱ្យខូចកែវកញ្ចក់និងបណ្តាលឱ្យកើតជំងឺមហារីកស្បែកចំពោះមនុស្ស។



**ចំណេះដឹងបន្ថែម**

១. **ស្រទាប់អូសូន** ជាស្រទាប់ឧស្ម័នអូសូន ( $O_3$ ) ដែលមាននៅរយៈកម្ពស់ប្រហែល 25 km ពីផែនដី និងនៅពុំទុំជីវិតផែនដី។ ស្រទាប់អូសូនសំខាន់ណាស់សម្រាប់ជីវិតនៅលើផែនដី ព្រោះវាអាចការពារមិនឱ្យការស្លឹស្លាយអ៊ុលត្រាពីព្រះអាទិត្យចាំងចូលដល់ផែនដីបាន។ ការស្លឹស្លាយអ៊ុលត្រាអាចបំផ្លាញជីវិតសត្វ និងរុក្ខជាតិនៅលើផែនដី។

២. យើងអាចការពារ ថែរក្សាខ្យល់ឱ្យបរិសុទ្ធដោយ៖
- កាត់បន្ថយ ឬបញ្ឈប់ការបញ្ចេញឧស្ម័នពុលផ្សេងៗចូលទៅក្នុងបរិយាកាស តាមរយៈការកាត់បន្ថយការប្រើប្រាស់ប្រេងឥន្ធនៈ ដោយប្រើប្រាស់ថាមពលកើតឡើងវិញជំនួស ដូចជាថាមពលព្រះអាទិត្យជាដើម និង ផលិតឧបករណ៍ដែលប្រើថាមពលអគ្គិសនីតិច។
  - បង្កើនការដាំដើមឈើឱ្យបានច្រើន ដើម្បីជួយស្រូបយកកាបូនឌីអុកស៊ីតពីបរិយាកាស។

3.4. ការសំអាតខ្យល់

មនុស្សទាំងអស់នៅទូទាំងពិភពលោក ត្រូវមានភារកិច្ចចូលរួមសំអាតខ្យល់តាមរយៈសកម្មភាព ទាំងឡាយដូចខាងក្រោម :


- ដើរ ឬជិះកង់ ជំនួសការប្រើថយន្តក្នុងករណីដែលកន្លែងធ្វើការនៅជិតផ្ទះ ។
- ប្រើប្រាស់ប្រេងសាំង ដែលមានបរិមាណសមាសធាតុសំណាតិច ព្រោះវាកាត់បន្ថយកម្រិត សមាសធាតុសំណាត់ខ្យល់ ។
- បំបាត់ឧបករណ៍បំបែកខ្យល់ថយន្តដើម្បីប្លែងឧស្ម័នកាបូនមូណូអុកស៊ីតទៅជាកាបូនឌីអុកស៊ីត និងអុកស៊ីតនៃអាសូតទៅជាឧស្ម័នអាសូត គឺប្លែងឧស្ម័នទៅជាឧស្ម័នគ្មានគ្រោះថ្នាក់ ។
- បញ្ឈប់ការប្រើប្រាស់ផលិតផលទាំងឡាយណាដែលមានសារធាតុ ក្លរូភ្នំក្នុងអង្គការ (CFC) ។
- ដាំដើមឈើឱ្យបានច្រើន ព្រោះវាស្រូបយកឧស្ម័នកាបូនឌីអុកស៊ីតក្នុងពេលធ្វើស៊ីស៊ីយោក ។
- នៅប្រទេសជឿនលឿនមួយចំនួនគេបានដាក់ឧបករណ៍បំបែកខ្យល់ដែលកាយពីរោងចក្រ ឱ្យទៅជាឧស្ម័នគ្មានគ្រោះថ្នាក់សិនមុននឹងបំបាយទៅក្នុងបរិយាកាស ។

4. ផលនៃផ្ទះកញ្ចក់


នៅបណ្តាប្រទេសដែលមានអាកាសធាតុត្រជាក់ កសិករដាំដំណាំនៅក្នុងផ្ទះដែលធ្វើពីកញ្ចក់ ។ ផ្ទះនេះអាចរក្សាកម្ដៅគ្រប់គ្រាន់សម្រាប់ការលូតលាស់របស់រុក្ខជាតិ ។ ជញ្ជាំងកញ្ចក់មាននាទីរក្សា និង ការពារកម្ដៅមិនឱ្យភាយចេញពីផ្ទះ ។ ម្យ៉ាងទៀតវាក៏អាចបំបាយកម្ដៅដែលសល់ពីតម្រូវការរបស់ រុក្ខជាតិទៅក្នុងបរិយាកាសបានដែរ ។


ដូចគ្នានេះដែរ នៅក្នុងបរិយាកាសក៏មានឧស្ម័នមួយចំនួនដែលធ្វើឱ្យផែនដីឡើងកម្ដៅ ។ បាតុភូត បែបនេះហៅថា ផលនៃផ្ទះកញ្ចក់ ។ **ឧទាហរណ៍** ឧស្ម័នកាបូនឌីអុកស៊ីត និងអាសូតអុកស៊ីតមានក្នុង ទឹកក្សា និងរាវកម្ដៅក្នុងបរិយាកាសមិនឱ្យភាយចេញពីផែនដី ។ បរិមាណសមស្របរបស់ឧស្ម័នផ្ទះ កញ្ចក់ក្នុងបរិយាកាស អាចរក្សាកម្ដៅក្នុងបរិយាកាស ហើយបង្កលក្ខណៈងាយស្រួលដល់ការលូតលាស់ របស់រុក្ខជាតិ និងសត្វ ។ ផ្ទុយទៅវិញប្រសិនបើឧស្ម័ននេះមានច្រើន វានឹងបណ្តាលឱ្យផែនដីកើនកម្ដៅ ឡើង ។

146

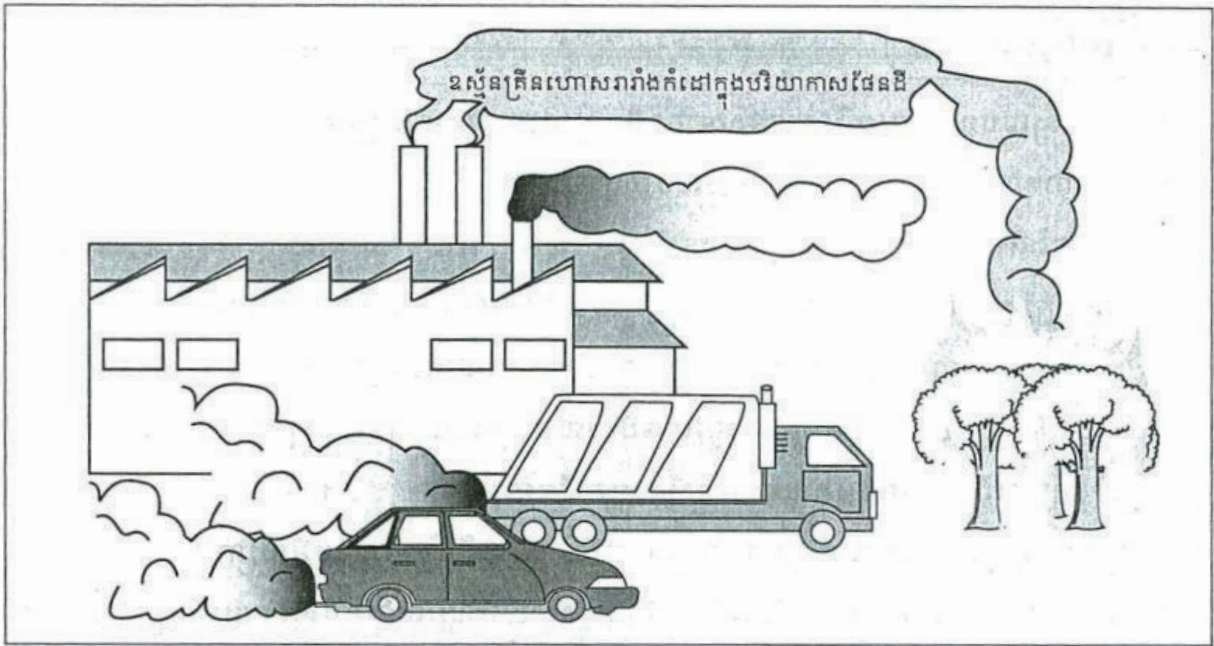
 **វត្តមាន**  
ពន្យល់ពីផលផ្ទះកញ្ចក់ ដែលនាំឱ្យមានការ កើនឡើងនូវកម្ដៅផែនដី។

**សកម្មភាពចម្រៀង និងរៀង**

 **សំណួរ**  
តើផលផ្ទះកញ្ចក់គឺជាអ្វី? តើផលផ្ទះកញ្ចក់ មានគុណសម្បត្តិ និងគុណវិបត្តិអ្វីខ្លះ? តើ ត្រូវធ្វើដូចម្តេចខ្លះដើម្បីកាត់បន្ថយផលផ្ទះ កញ្ចក់?

 - សិស្សបានរៀនរួចមកហើយអំពីការកើនកម្ដៅនៅលើផែនដី (សៀវភៅសិក្សាគោល ទំព័រ144) ដូច្នេះក្នុងម៉ោងសិក្សានេះ គ្រូ គ្រាន់តែឱ្យសិស្សអានមេរៀន និងឆ្លើយសំណួរខាងលើជា បុគ្គល និងឱ្យសិស្សបង្ហាញពីចម្លើយរបស់គេម្នាក់ៗ។  
- គ្រូពន្យល់ពីផលផ្ទះកញ្ចក់ បន្ថែមលើចម្លើយរបស់សិស្ស តាមខ្លឹមសារមេរៀន។

ជំពូកទី៣ មេរៀនទី២



ចំហេះប្រេង ព្រៃឈើ ឧស្ម័នធម្មជាតិ ធ្យូង . . . តែងបំភាយឧស្ម័នកាបូនឌីអុកស៊ីតទៅក្នុងបរិយាកាស ។ ដោយបរិមាណឧស្ម័នកាបូនឌីអុកស៊ីតមានច្រើននៅក្នុងខ្យល់វាក៏បង្កើនផលនៃផ្ទះកញ្ចក់ ។ ម្យ៉ាងទៀតសារធាតុមួយចំនួនដូចជា ក្លរូភ្លុយអូរូកាបូន (CFC<sub>s</sub>) ក៏បង្កើនផលនៃផ្ទះកញ្ចក់ដែរ ។ មូលហេតុទាំងអស់នេះហើយដែលធ្វើឱ្យស្រទាប់អូសូនកាន់តែស្លើងទៅៗ ហើយធ្វើឱ្យបរិយាកាសផែនដីកាន់តែក្តៅឡើងៗ និងទទួលគ្រោះថ្នាក់ដោយ ការស្ទើស្ទាយអ៊ុលត្រា គ្រោះថ្នាក់នោះមានដូចជា :

- ធ្វើឱ្យរុក្ខជាតិ និងដំណាំកសិកម្មលូតលាស់យឺតយ៉ាវ
- ធ្វើឱ្យទឹកកកនៅតំបន់ប៉ូលរលាយ បង្កើតជាគ្រោះទឹកជំនន់ជន់លិចតំបន់ទំនាប ។ ម្យ៉ាងទៀតធ្វើឱ្យកម្ពស់ទឹកសមុទ្រកើនឡើង ហើយហូរចូលក្នុងបឹងទន្លេដែលនៅជាប់សមុទ្រនាំឱ្យត្រីទឹកសាបនៅតំបន់នោះងាប់ ។

ដើម្បីទប់ទល់នឹងគ្រោះថ្នាក់ខាងលើនេះ យើងត្រូវអនុវត្តវិធានការដូចតទៅ :

- បន្ថយការប្រើប្រាស់យានយន្តផ្ទាល់ខ្លួន បង្កើនមធ្យោបាយដឹកជញ្ជូនសាធារណៈ
- បន្ថយការកាប់បំផ្លាញព្រៃឈើ
- បង្កើនការដាំដើមឈើ
- កុំប្រើម៉ាស៊ីនត្រជាក់ក្នុងករណីមិនចាំបាច់
- កាត់បន្ថយការប្រើផលិតផលដែលមានធាតុក្លរូភ្លុយអូរូកាបូន (CFC<sub>s</sub>)
- ប្លែងឧស្ម័នពុលដែលភាយពីរោងចក្រ និងយានយន្តឱ្យទៅជាឧស្ម័នគ្មានគ្រោះថ្នាក់ ។



**វត្តមាន**

ពង្រឹងចំណេះដឹងសិស្សលើខ្លឹមសារដែលសិស្សបានរៀន តាមរយៈការសង្ខេបមេរៀន និងឆ្លើយសំណួរនៅក្នុងសៀវភៅសិក្សាគោល។



គ្រូឱ្យសិស្សរំលឹកឡើងវិញនូវអ្វីដែលពួកគេបានរៀន និងឱ្យសិស្សឆ្លើយសំណួរមេរៀន។



**ចម្លើយសំណួរមេរៀន៖**

1. កង្វះខ្យល់បណ្តាលមកពីវត្តមាននៃសារធាតុមិនល្អផ្សេងៗ និងមានគ្រោះថ្នាក់នៅក្នុងខ្យល់។
2. សារធាតុកង្វះខ្យល់ហៅថា សារធាតុពុល ដែលមានក្នុងបរិយាកាស។
3. ប្រភព និងឥទ្ធិពលនៃសារធាតុពុល៖
  - ក. កាបូនម៉ូណូអុកស៊ីត៖ បញ្ចេញចូលទៅក្នុងខ្យល់ពីចំហេះឥន្ធនៈផ្សេងៗ។ វាជាឧស្ម័នពុល និងបង្កឱ្យមានអ័ព្វស្លូត។
  - ខ. ស្ថាន់ធ័រអុកស៊ីត៖ កើតពីបន្ទះភ្នំភ្លើង និងចំហេះឥន្ធនៈផ្សេងៗ។ ផ្សែងថ្ម និងប្រេងឆៅមានផ្ទុកសារធាតុស្ថាន់ធ័រជាច្រើន។ វាបង្កឱ្យមានជាភ្លៀងអាស៊ីត ដែលអាចបំផ្លាញសត្វ រុក្ខជាតិ និងសំណង់ផ្សេងៗ។

**សង្ខេបមេរៀន**

- កង្វះខ្យល់បណ្តាលមកពីវត្តមានសារធាតុមិនល្អផ្សេងៗនិងមានគ្រោះថ្នាក់នៅក្នុងខ្យល់ ។
- សារធាតុដែលបំពុលខ្យល់ហៅថា “ សារធាតុពុល ” ។
- ប្រភពនៃកង្វះខ្យល់គឺ : ឧស្ម័នកាបូនម៉ូណូអុកស៊ីត អុកស៊ីតនៃអាសូត សមាសធាតុសំណ ឧស្ម័នក្លរូអ៊ីយ៉ូអ៊ីត (CFC) ឧស្ម័នស្ថាន់ធ័រអុកស៊ីត ឧស្ម័នកាបូនឌីអុកស៊ីត ។
- កង្វះខ្យល់បណ្តាលឱ្យចំហេះពាល់ដល់សុខភាព មហន្តរាយដល់បរិស្ថាន ។
- ផលនៃជួះកញ្ជក់ គឺជាការឡើងកម្ដៅដែលបណ្តាលមកពីមានឧស្ម័នខ្លះៗក្បាលកម្ដៅបរិយាកាសដែលដូចជា កាបូនឌីអុកស៊ីត អុកស៊ីតនៃអាសូត . . . ។
- ស្រទាប់អូសូនការពារផែនដីរួចផុតពីគ្រោះថ្នាក់បណ្តាលពីការស្លឹស្លាយអ៊ីលត្រា ។
- កាលណាស្រទាប់អូសូន កាន់តែស្លើងទៅៗ ឬផ្ទះឆ្កាយបណ្តាលឱ្យការស្លឹស្លាយអ៊ីលត្រា អាចឆ្លងកាត់បរិយាកាសផែនដី ហើយបណ្តាលឱ្យ :
  - បំផ្លាញគ្រាប់រុក្ខជាតិ
  - ឈឺភ្នែក និងកើតមហារីកស្បែក
  - មានគ្រោះមហន្តរាយផ្សេងៗដល់បរិស្ថាន ។

**? សំណួរ**

1. តើកង្វះខ្យល់បណ្តាលមកពីអ្វី ?
2. តើសារធាតុកង្វះខ្យល់ហៅថាអ្វី ?
3. ចូររៀបរាប់ពីប្រភព និងឥទ្ធិពលនៃសារធាតុពុល :
  - ក. កាបូនម៉ូណូអុកស៊ីត
  - ខ. ស្ថាន់ធ័រអុកស៊ីត
  - គ. សមាសធាតុសំណ ។
4. ចូរឱ្យឈ្មោះលំនាំដែលស្រូបយកអុកស៊ីសែនពីខ្យល់ ហើយបញ្ចេញឧស្ម័នកាបូនឌីអុកស៊ីតទៅក្នុងខ្យល់វិញ ។
5. តើសមាសភាពខ្យល់នៅទីក្រុងធៀបនឹងខ្យល់នៅជនបទខុសគ្នាដូចម្តេចខ្លះ ? ចូរពន្យល់ ?
6. តើស្រទាប់អូសូនជាអ្វី ? ឱ្យឈ្មោះសារធាតុពុលដែលជាមូលហេតុធ្វើឱ្យស្រទាប់អូសូន ។
7. តើឥទ្ធិពលដែលបណ្តាលមកពីកម្រិតឧស្ម័នកាបូនឌីអុកស៊ីតខ្ពស់នៅក្នុងខ្យល់ហៅថាអ្វី ?

- គ. សមាសធាតុសំណ៖ មាននៅក្នុងប្រេងឥន្ធនៈ។ វាជាសារធាតុពុល ដែលអាចបង្កជាជំងឺខួរក្បាល។
- 4. លំនាំដែលស្រូបយកអុកស៊ីសែនពីខ្យល់ ហើយបញ្ចេញឧស្ម័នកាបូនឌីអុកស៊ីតទៅក្នុងខ្យល់វិញ ហៅថា *លំនាំដំណកដង្ហើម*។
- 5. សមាសភាពខ្យល់នៅក្នុងទីក្រុងសម្បូរទៅដោយសារធាតុពុល ប៉ុន្តែខ្យល់នៅជនបទមានលក្ខណៈបរិសុទ្ធ គ្មានសារធាតុពុល ឬមានតិចតួច ដោយសារនៅទីក្រុងសម្បូរទៅដោយឃានយន្ត រោងចក្រសហគ្រាស ដែលដំណើរការដោយសារចំហេះឥន្ធនៈ និងបញ្ចេញសារធាតុពុលចូលទៅក្នុងបរិយាកាស។
- 6. ស្រទាប់អូសូន ជាស្រទាប់ឧស្ម័នអូសូន (O<sub>3</sub>) ដែលមាននៅប្រហែល 25 km ពីផែនដីនិងនៅពីទ្វីបវិញផែនដី។ សារធាតុដែលធ្វើឱ្យស្រទាប់អូសូនស្លើងមានឈ្មោះ ក្លរូអ៊ីយ៉ូអ៊ីត (CFCs)។
- 7. ឥទ្ធិពលដែលបណ្តាលមកពីកម្រិតឧស្ម័នកាបូនឌីអុកស៊ីតខ្ពស់នៅក្នុងខ្យល់ហៅថា *ផលផ្ទះកញ្ជក់*។

សំណួរនិងលំហាត់ជំពូក ៣

- I. ចូរគូសសញ្ញា (✓) ក្នុងប្រអប់នៅខាងមុខចម្លើយដែលត្រឹមត្រូវមានតែមួយគត់ :
- តើសារធាតុខាងក្រោមនេះ ណាមួយជាធាតុរាវក្នុងខ្យល់ ?
 

<input type="checkbox"/> ក. អុកស៊ីសែន	<input type="checkbox"/> ខ. កាបូនម៉ូណូអុកស៊ីត
<input type="checkbox"/> គ. ចំហាយទឹក	<input type="checkbox"/> ឃ. អាសូត ។
  - ក្នុងចំណោមសារធាតុខាងក្រោមនេះ តើណាមួយដែលបំផ្លាញស្រទាប់អូសូន ?
 

<input type="checkbox"/> ក. អុកស៊ីតនៃអាសូត	<input type="checkbox"/> ខ. ស្ពាន់ផ័រឌីអុកស៊ីត
<input type="checkbox"/> គ. ក្លរូភ្លុយអ៊ូរ៉ូកាបូន (CFC <sub>3</sub> )	<input type="checkbox"/> ឃ. សមាសធាតុសំណរ ។
  - តើសមាសភាពជាភាគរយនៃឧស្ម័នណាមួយដែលត្រឹមត្រូវមាននៅក្នុងខ្យល់ ?
 

<input type="checkbox"/> ក. អាសូត 80 %	<input type="checkbox"/> ខ. អុកស៊ីសែន 19 %
<input type="checkbox"/> គ. កាបូនឌីអុកស៊ីត 0.3 %	<input type="checkbox"/> ឃ. ឧស្ម័នកម្រ 0.97 % ។
  - កំណើនឧស្ម័នកាបូនឌីអុកស៊ីតក្នុងខ្យល់រារាំងការផ្ទេរកម្ដៅពីផែនដី ។ ជាលទ្ធផលផែនដីឡើងកម្ដៅ ។ ចូរឱ្យឈ្មោះធាតុភូតនេះ ?
 

<input type="checkbox"/> ក. ផលនៃផ្ទះកញ្ចក់	<input type="checkbox"/> ខ. ភ្លៀងអាស៊ីត
<input type="checkbox"/> គ. កង្វះខ្យល់	<input type="checkbox"/> ឃ. ការស្លើងស្រទាប់អូសូន ។
- II. ចូរបំពេញល្អះខាងក្រោមនេះឱ្យមានន័យត្រឹមត្រូវ ។
- មនុស្ស សត្វ និង . . . ត្រូវការឧស្ម័ន . . . ដើម្បីរស់ ។
  - ពេលដែលព្រះអាទិត្យបញ្ចេញ . . . រុក្ខជាតិបែតងស្រូបយកឧស្ម័ន . . . ពីខ្យល់ និងទឹកដើម្បីផលិតជាអាហាររស់នៅនេះហៅថា . . . ។
  - សារធាតុរាវអាចជាឧស្ម័នឬ . . . នៃអង្គធាតុរឹងដែលធ្វើឱ្យ . . . ។
  - . . . និងអាសូតអុកស៊ីត ដែលបំបែកទៅក្នុង . . . ដោយសារម៉ាស៊ីនផ្សេងៗ និងរោងឧស្សាហកម្មជាឧស្ម័ន . . . ដែលរលាយក្នុងទឹកភ្លៀងបង្កើតជា . . . ដែលបង្កឱ្យមានគ្រោះថ្នាក់យ៉ាងខ្លាំងដល់ . . . ។

III. សំណួរត្រិះរិះ

- គេចូលចិត្តទៅកំសាន្តនៅជនបទ ដើម្បីស្រួបស្រួលខ្យល់បរិសុទ្ធ ។ ហេតុអ្វីបានជានៅទីនោះមានខ្យល់បរិសុទ្ធ ?
- តើស្រទាប់អូសូនមានវត្តមាននៅឯណា ? តើស្រទាប់នេះមានសារប្រយោជន៍អ្វីដល់យើង?
- តើអ្វីទៅជា (CFC) ? តើវាមាននៅកន្លែងណាខ្លះ ? តើវាមានឥទ្ធិពលអ្វីដល់ស្រទាប់អូសូន ។
- ចូរពណ៌នាពីឥទ្ធិពលដែលបណ្តាលមកពីការស្លើងស្រទាប់អូសូន ។



ចម្លើយ

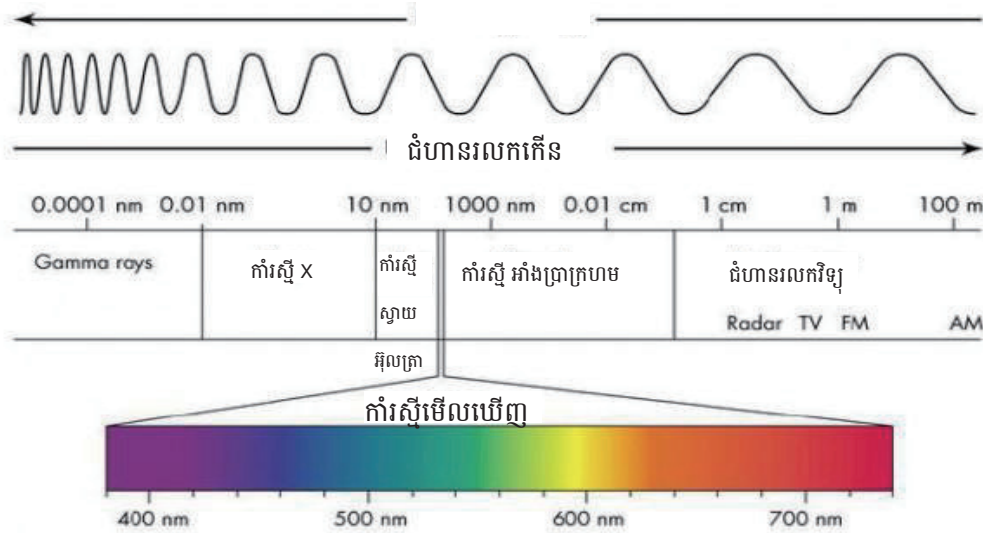
សំណួរ និងលំហាត់ជំពូក៣ ៖

- ខ. កាបូនម៉ូណូអុកស៊ីត, គ. ក្លរូភ្លុយអ៊ូរ៉ូកាបូន (CFCs), ឃ. ឧស្ម័នកម្រ 0.97%, ង. ផលផ្ទះកញ្ចក់,
- រុក្ខជាតិ, អុកស៊ីសែន
  - ពន្លឺ, កាបូនឌីអុកស៊ីត, រស្មីសំយោគ
  - ភាគល្អិត, កខ្វក់
  - ស្ពាន់ផ័រអុកស៊ីត, បរិយាកាស(ខ្យល់), ពុល, ភ្លៀងអាស៊ីត, សត្វ រុក្ខជាតិ និងសំណង់ផ្សេងៗ។
- ព្រោះនៅជនបទពុំសម្បូររោងចក្រ ឬយានយន្តច្រើនដែលធ្វើឱ្យមានកង្វះខ្យល់ទេ។
  - ស្រទាប់អូសូនមានវត្តមាននៅក្នុងបរិយាកាសកម្ពស់ 16-20 km ពីផែនដី។ ស្រទាប់អូសូនអាចការពារការកាំរស្មីស្វាយអុលត្រាពីព្រះអាទិត្យ កុំឱ្យចាំងដល់មនុស្សយើង ព្រោះកាំរស្មីនេះអាចបណ្តាលឱ្យយើងកើតជំងឺមហារីកស្បែក។

- CFCs ជាសារធាតុក្លរូភ្លុយអ៊ូរ៉ូកាបូន។ វាមាននៅក្នុងទូរទឹកកក ឬម៉ាស៊ីនត្រជាក់ បំពង់ស្រែ។ វាធ្វើឱ្យស្រទាប់អូសូនស្លើង។
- នៅពេលស្រទាប់អូសូនស្លើង ឬផ្ទះឆ្កាយ នោះកាំរស្មីស្វាយអុលត្រាប្រសព្វចាំងមកដល់ផែនដី នៅពេលនោះធ្វើឱ្យមនុស្ស សត្វនៅលើផែនដីប្រឈមនឹងជំងឺមហារីកស្បែក។

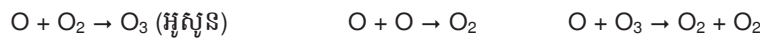
### ចំណេះដឹង និងសកម្មភាពបន្ថែម

ពន្លឺជាលកអេឡិចត្រូម៉ាញ៉េទិច ដែលមានជំហានរលកមួយ។ កាំរស្មីស្វាយអ៊ុលត្រាមានថាមពលខ្ពស់ ចំណែកឯកាំរស្មីក្រហមអាំងហ្វ្រាមានថាមពលទាប ខណៈដែលកាំរស្មីមើលឃើញមានថាមពលនៅចន្លោះថាមពលនៃកាំរស្មីស្វាយអ៊ុលត្រា និងកាំរស្មីក្រហមអាំងហ្វ្រា។



ឧស្ម័នផ្ទះកញ្ចក់ស្រូបកាំរស្មីក្រហមអាំងហ្វ្រា។ ចំហាយទឹក កាបូនឌីអុកស៊ីត មេតាន និង CFCs គឺជាសាមាសធាតុដ៏មានប្រសិទ្ធភាពសម្រាប់ឧស្ម័នផ្ទះកញ្ចក់ ព្រោះវាស្រូបកាំរស្មីក្រហមអាំងហ្វ្រា។ ចំណែកឯឧស្ម័នអុកស៊ីសែន អាសូត អាកុងមិនស្រូបកាំរស្មីនេះទេ ដូច្នេះវាមិនមែនជាឧស្ម័នផ្ទះកញ្ចក់ទេ។

អូសូន (O<sub>3</sub>) អាចត្រូវបានបង្កឡើងពីឧស្ម័នអុកស៊ីសែននៅក្នុងបរិយាកាស ។



អូសូនស្រូបកាំរស្មីស្វាយអ៊ុលត្រា បំបែកជាម៉ូលេគុល និងអាតូមអុកស៊ីសែន (O<sub>3</sub> → O<sub>2</sub> + O)។ ដូច្នេះ កាំរស្មីស្វាយអ៊ុលត្រាកាត់ច្រើនត្រូវបានស្រូបដោយស្រទាប់អូសូន។

អូសូនត្រូវបានបំផ្លាញដោយអាតូមក្លរ ដែលបំបែកពី CFCs ក្រោមកាំរស្មីស្វាយអ៊ុលត្រា ៖

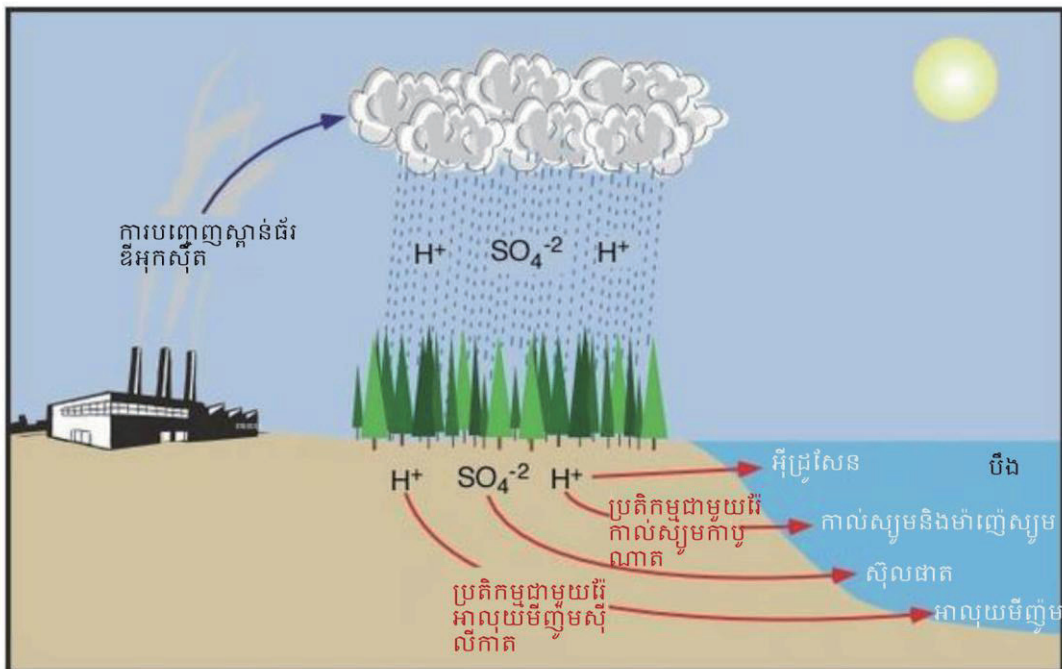
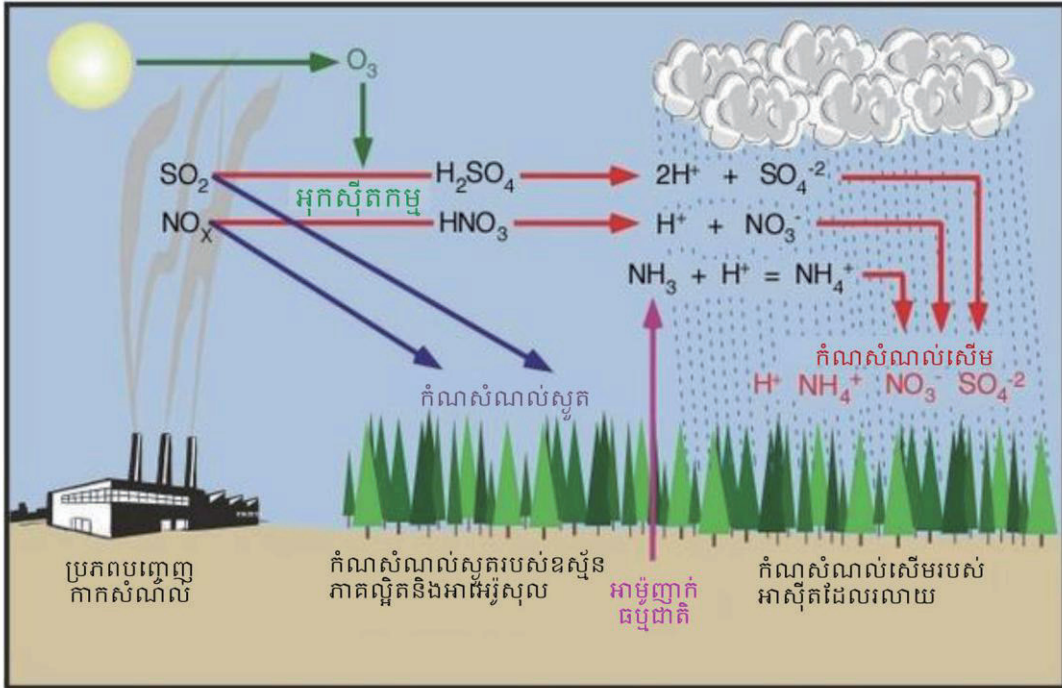


ចំហេះឥន្ធនៈជូស៊ីលបង្កើតបានជាឧស្ម័នកាបូនឌីអុកស៊ីត ដែលជាសារធាតុសកម្មរបស់ឧស្ម័នផ្ទះកញ្ចក់។ បរិមាណឧស្ម័នកាបូនឌីអុកស៊ីតក្នុងបរិយាកាសមានការកើនជាលំដាប់ដោយសារសកម្មភាពមនុស្ស ហើយដែលចំនួននេះបានធ្វើឱ្យផែនដីមានការកើននូវកម្ដៅ។ ចំហេះឥន្ធនៈជូស៊ីលក៏ផ្តល់នូវឧស្ម័នស្ថាន់ដ័រអុកស៊ីត និងអាសូតអុកស៊ីតផងដែរ ដែលឧស្ម័នទាំងពីរនេះជាសារធាតុបង្កសំខាន់របស់របស់ភ្លៀងអាស៊ីត។ ចំហេះឥន្ធនៈនុយក្លេអ៊ែរមិនបង្កើតបានឧស្ម័នកង្វះទាំងនេះទេ ប៉ុន្តែវាអាចប្រឈម នឹងគ្រោះអាសន្នធ្ងន់ធ្ងរ នៅពេលមានការសាយភាយសារធាតុវិទ្យុសកម្មដោយសារឧបទ្វីបហេតុផ្សេងៗ ឧទាហរណ៍ ដូចជាការខូចខាតរោងចក្រនុយក្លេអ៊ែរដោយគ្រោះធម្មជាតិស៊ីណាមី នៅទីក្រុងហ្សឺកូស៊ីម៉ា ប្រទេសជប៉ុន ក្នុងឆ្នាំ 2011។ ការទុកដាក់ កាកសំណល់នុយក្លេអ៊ែរក៏ជាបញ្ហាលំបាកផងដែរ។ ដើម្បីបំបាត់ការសាយភាយសារធាតុវិទ្យុសកម្ម ដែលបណ្តាលមកពីការលេចធ្លាយរោងចក្រនុយក្លេអ៊ែរឱ្យធ្លាក់មកនៅកម្រិតសុវត្ថិភាព គេត្រូវការរយៈពេលជាច្រើនឆ្នាំ។

ការប្រើប្រាស់សម្ភារឧបទេសរបស់ SEAL / VVOB



# ការកើតនិងឥទ្ធិពលរបស់ភ្លៀងអាស៊ីត



ឯកសារយោង: Wikipedia  
រៀបរៀងដោយ: VVOB សំរាប់ការប្រើប្រាស់ក្នុងការអប់រំមិនគិតប្រាក់ចំណេញ





## ចម្លើយ ការដាក់ពិន្ទុ និងការវិនិច្ឆ័យការសម្រេចបានរបស់សិស្ស

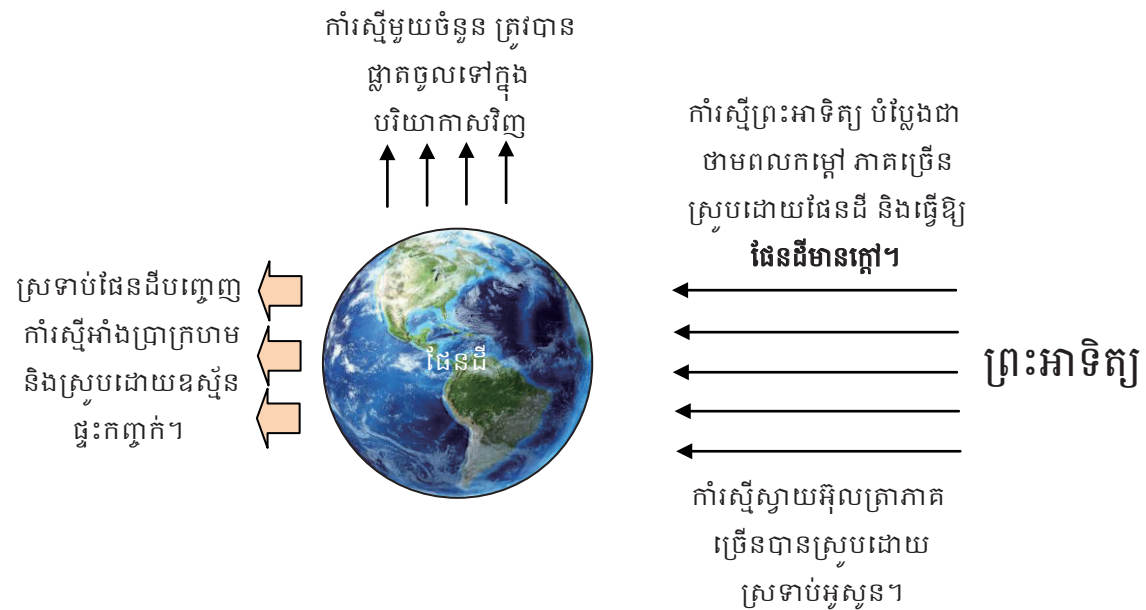
១. ចម្លើយត្រូវគឺ ខ. មេតាន, កាបូនឌីអុកស៊ីត, CFCs (5 ពិន្ទុ)

**ការដាក់ពិន្ទុ:** 5 ពិន្ទុ = សិស្សឆ្លើយបានត្រឹមត្រូវ  
0 ពិន្ទុ = សិស្សឆ្លើយមិនបានត្រឹមត្រូវ

២. ប្រយោគ ក. ខុស ខ. ត្រូវ គ. ត្រូវ ឃ. ត្រូវ ង. ត្រូវ (5 ពិន្ទុ x 5 = 25 ពិន្ទុ)

**ការដាក់ពិន្ទុ:** 5 ពិន្ទុ = សិស្សឆ្លើយបានត្រឹមត្រូវមួយសំណួរ  
25 ពិន្ទុ = សិស្សឆ្លើយបានត្រឹមទាំង៥សំណួរ  
0 ពិន្ទុ = សិស្សឆ្លើយមិនបានត្រឹមត្រូវ

៣. ការទទួលបាននូវបស់ផែនដីព្រះអាទិត្យ (10 ពិន្ទុ)



**ការដាក់ពិន្ទុ:** 10 ពិន្ទុ = សិស្សគួរបានសមស្រប  
5 ពិន្ទុ = សិស្សគួរបានសមស្របខ្លះ  
0 ពិន្ទុ = សិស្សគួរមិនបានសមស្រប

៤. សារធាតុ CFCs ក្រោមកាំរស្មីស្វាយអ៊ុលត្រាបំបែកជាអាតូមក្លរ ដែលអាតូមក្លរនេះហើយបានធ្វើប្រតិកម្មបន្តជាមួយឧស្ម័នអូសូន នៅក្នុងស្រទាប់អូសូន។ លក្ខណៈបែបនេះអាចបណ្តាលឱ្យស្រទាប់អូសូនស្តើង និងធ្លុះធ្លាយ។ (10 ពិន្ទុ)

**ការដាក់ពិន្ទុ:** 10 ពិន្ទុ = សិស្សឆ្លើយបានត្រឹមត្រូវ  
0 ពិន្ទុ = សិស្សឆ្លើយមិនបានត្រឹមត្រូវ

**លក្ខណៈវិនិច្ឆ័យការសម្រេចបានរបស់សិស្ស**

ពិន្ទុ	លក្ខណៈវិនិច្ឆ័យ និងការផ្តល់យោបល់ចំពោះគ្រូបង្រៀន
0 - 13	សិស្សនៅមិនទាន់មានចំណេះដឹងមូលដ្ឋានគ្រប់គ្រាន់នៅឡើយ ដូច្នេះគ្រូត្រូវពន្យល់សិស្សពីមូលដ្ឋានគ្រឹះនៃមេរៀននេះឡើងវិញ។
14 - 25	សិស្សមានចំណេះដឹងមូលដ្ឋានគ្រប់គ្រាន់ ប៉ុន្តែនៅមិនទាន់យល់ច្បាស់ពីខ្លឹមសារមេរៀននៅឡើយទេ។ គ្រូត្រូវជួយបំផុសឱ្យសិស្សសិក្សាលេឃូងយល់បន្ថែមទៀតអំពីធាតុកង្វះខាត។
26 - 35	សិស្សមានចំណេះដឹងមូលដ្ឋានគ្រប់គ្រាន់ និងបានយល់នូវខ្លឹមសារមេរៀនកម្រិតមធ្យម ដូច្នេះពួកគេត្រូវការចាំបាច់សិក្សាលេឃូងយល់ឱ្យបានច្រើនជាងនេះទៀត។
36 - 50	សិស្សបានយល់ច្បាស់លាស់អំពីខ្លឹមសារមេរៀន។

គាំទ្រដោយ



**STEPSAM** ឌី.អិល